



Степень и логарифм

Свойства степени при $a > 0, b > 0$

$$a^{-n} = \frac{1}{a^n}$$

$$a^n \cdot a^m = a^{n+m}$$

$$\frac{a^n}{a^m} = a^{n-m}$$

$$(a^n)^m = a^{nm}$$

$$(ab)^n = a^n \cdot b^n$$

$$\left(\frac{a}{b}\right)^n = \frac{a^n}{b^n}$$

Свойства логарифма при $a > 0, a \neq 1, b > 0, x > 0, y > 0$

$$a^{\log_a b} = b$$

$$\log_a a = 1$$

$$\log_a 1 = 0$$

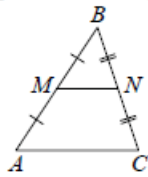
$$\log_a (xy) = \log_a x + \log_a y$$

$$\log_a \left(\frac{x}{y}\right) = \log_a x - \log_a y$$

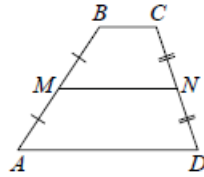
$$\log_a b^k = k \log_a b$$

Геометрия

Средняя линия треугольника и трапеции

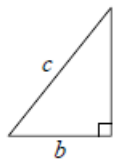


MN — ср. лин.
 $MN \parallel AC$
 $MN = \frac{AC}{2}$



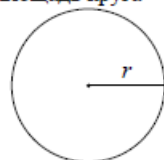
$BC \parallel AD$
 MN — ср. лин.
 $MN \parallel AD$
 $MN = \frac{BC + AD}{2}$

Теорема Пифагора



$$a^2 + b^2 = c^2$$

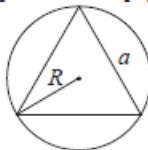
Длина окружности
Площадь круга



$$C = 2\pi r$$

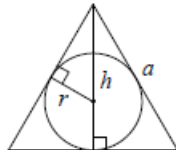
$$S = \pi r^2$$

Правильный треугольник



$$R = \frac{a\sqrt{3}}{3}$$

$$S = \frac{a^2\sqrt{3}}{4}$$

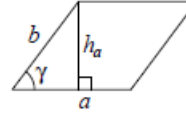


$$r = \frac{a\sqrt{3}}{6}$$

$$h = \frac{a\sqrt{3}}{2}$$

Площади фигур

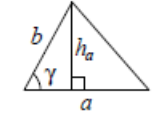
Параллелограмм



$$S = ah_a$$

$$S = ab \sin \gamma$$

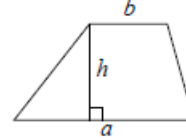
Треугольник



$$S = \frac{1}{2} ah_a$$

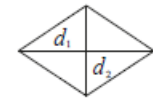
$$S = \frac{1}{2} ab \sin \gamma$$

Трапеция



$$S = \frac{a+b}{2} \cdot h$$

Ромб

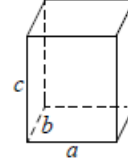


d_1, d_2 — диагонали

$$S = \frac{1}{2} d_1 d_2$$

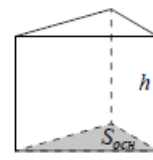
Площади поверхностей и объёмы тел

Прямоугольный параллелепипед



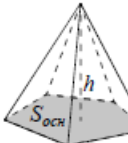
$$V = abc$$

Прямая призма



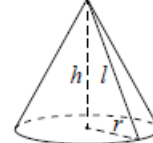
$$V = S_{осн} h$$

Пирамида



$$V = \frac{1}{3} S_{осн} h$$

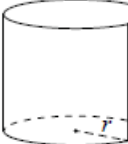
Конус



$$V = \frac{1}{3} \pi r^2 h$$

$$S_{бок} = \pi r l$$

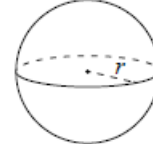
Цилиндр



$$V = \pi r^2 h$$

$$S_{бок} = 2\pi r h$$

Шар



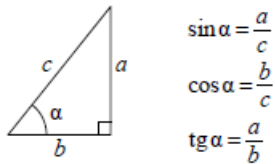
$$V = \frac{4}{3} \pi r^3$$

$$S = 4\pi r^2$$

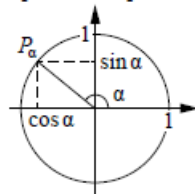


Тригонометрические функции

Прямоугольный треугольник



Тригонометрическая окружность



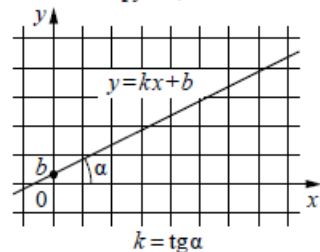
Основное тригонометрическое тождество: $\sin^2 \alpha + \cos^2 \alpha = 1$

Некоторые значения тригонометрических функций

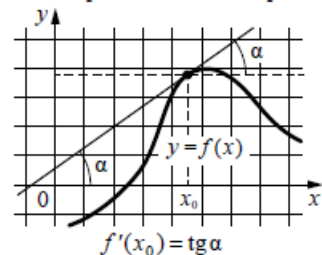
| α | радианы | 0 | $\frac{\pi}{6}$ | $\frac{\pi}{4}$ | $\frac{\pi}{3}$ | $\frac{\pi}{2}$ | π | $\frac{3\pi}{2}$ | 2π |
|----------------------------|---------|-----------|----------------------|----------------------|----------------------|-----------------|-------------|------------------|-------------|
| | градусы | 0° | 30° | 45° | 60° | 90° | 180° | 270° | 360° |
| $\sin \alpha$ | | 0 | $\frac{1}{2}$ | $\frac{\sqrt{2}}{2}$ | $\frac{\sqrt{3}}{2}$ | 1 | 0 | -1 | 0 |
| $\cos \alpha$ | | 1 | $\frac{\sqrt{3}}{2}$ | $\frac{\sqrt{2}}{2}$ | $\frac{1}{2}$ | 0 | -1 | 0 | 1 |
| $\operatorname{tg} \alpha$ | | 0 | $\frac{\sqrt{3}}{3}$ | 1 | $\sqrt{3}$ | — | 0 | — | 0 |

Функции

Линейная функция



Геометрический смысл производной



Ответом к каждому заданию является конечная десятичная дробь, или целое число, или последовательность цифр. Ответ сначала запишите в поле ответа в тексте работы, а затем перенесите в БЛАНК ОТВЕТОВ № 1 справа от номера соответствующего задания. Каждую цифру, знак «минус» и запятую пишите в отдельной клеточке в соответствии с приведёнными в бланке образцами. Единицы измерений писать не нужно.

1 В летнем лагере 249 детей и 28 воспитателей. В одном автобусе можно перевозить не более 45 пассажиров. Какое наименьшее количество таких автобусов понадобится, чтобы за один раз перевезти всех из лагеря в город?
 Ответ: _____.

2 Установите соответствие между величинами и их возможными значениями: к каждому элементу первого столбца подберите соответствующий элемент из второго столбца.

ВЕЛИЧИНЫ

- А) масса человека
- Б) масса шариковой ручки
- В) масса автомобиля
- Г) масса железнодорожного состава

ЗНАЧЕНИЯ

- 1) 460 т
- 2) 80 кг
- 3) 1,3 т
- 4) 10 г

В таблице под каждой буквой, соответствующей величине, укажите номер её возможного значения.

Ответ:

| | | | |
|---|---|---|---|
| А | Б | В | Г |
| | | | |

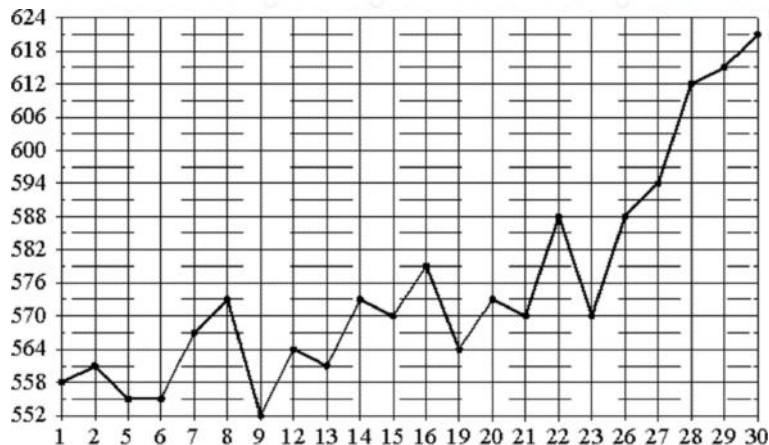
vk.com/ege100ballov



ТРЕНИРОВОЧНЫЙ КИМ № 220926



- 3 На рисунке жирными точками показана цена палладия, установленная Центробанком РФ во все рабочие дни в октябре 2010 года. По горизонтали указываются числа месяца, по вертикали – цена палладия в рублях за грамм. Для наглядности жирные точки на рисунке соединены линией. Определите по рисунку наименьшую цену палладия в период с 14 по 26 октября. Ответ дайте в рублях за грамм.



Ответ: _____.

- 4 Среднее геометрическое трёх чисел a , b и c вычисляется по формуле $g = \sqrt[3]{abc}$. Вычислите среднее геометрическое чисел 4, 8, 16.

Ответ: _____.

- 5 В фирме такси в наличии 20 легковых автомобилей: 7 из них чёрного цвета с жёлтыми надписями на боках, остальные – жёлтого цвета с чёрными надписями. Найдите вероятность того, что на случайный вызов придет машина жёлтого цвета с чёрными надписями.

Ответ: _____.

- 6 Путешественник из Москвы хочет посетить четыре города Золотого кольца России: Владимир, Ярославль, Суздаль и Ростов Великий. Турагентство предлагает маршруты с посещением некоторых городов Золотого кольца. Сведения о стоимости билетов и маршрутах представлены в таблице.

| Номер маршрута | Посещаемые города | Стоимость (руб.) |
|----------------|-----------------------------|------------------|
| 1 | Ярославль | 1700 |
| 2 | Суздаль, Ярославль | 2650 |
| 3 | Владимир, Суздаль | 2250 |
| 4 | Владимир, Ростов | 2150 |
| 5 | Ярославль, Владимир, Ростов | 3950 |
| 6 | Суздаль, Ростов | 2300 |

Какие маршруты должен выбрать путешественник, чтобы побывать во всех четырёх городах и затратить менее 5000 рублей?

В ответе укажите какой-нибудь один набор номеров маршрутов без пробелов, запятых и других дополнительных символов.

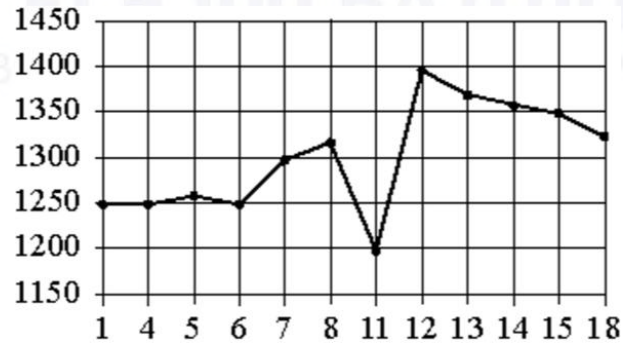
Ответ: _____.

vk.com/ege100ballov



7

На рисунке показано изменение цены акций компании на момент закрытия биржевых торгов во все рабочие дни в период с 1 по 18 сентября 2012 года. По горизонтали указываются числа месяца, по вертикали – цена акции в рублях за штуку. Для наглядности точки соединены линией.



Пользуясь рисунком, поставьте в соответствие каждому из указанных интервалов времени характеристику изменения цены акций.

ПЕРИОДЫ ВРЕМЕНИ

А) 1-5 сентября

Б) 6-8 сентября

В) 11-13 сентября

Г) 14-18 сентября

ХАРАКТЕРИСТИКИ

1) цена акции не превосходила 1300 рублей за штуку

2) цена достигла максимума за весь период

3) цена акций ежедневно росла

4) цена акции не опускалась ниже 1300 рублей за штуку

В таблице под каждой буквой укажите соответствующий номер.

Ответ:

| | | | |
|---|---|---|---|
| А | Б | В | Г |
| | | | |

8

В доме Кости больше этажей, чем в доме Олега, в доме Тани меньше этажей, чем в доме Олега, а в доме Феде больше этажей, чем в Танином доме. Выберите утверждения, которые верны при указанных условиях.

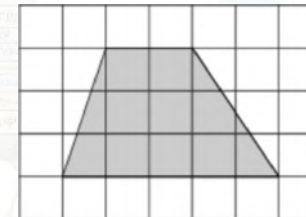
- 1) Дом Тани самый малоэтажный среди перечисленных четырёх.
- 2) В доме Тани больше этажей, чем в доме Феде.
- 3) В Костином доме больше этажей, чем в Танином.
- 4) Среди этих четырёх домов есть три дома с одинаковым количеством этажей.

В ответе запишите номера выбранных утверждений без пробелов, запятых и других дополнительных символов.

Ответ: _____.

9

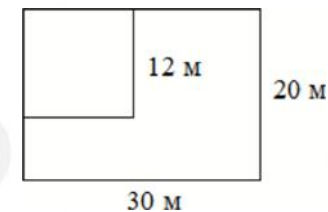
План местности разбит на клетки. Каждая клетка обозначает квадрат 1 м × 1 м. Найдите площадь участка, выделенного на плане. Ответ дайте в квадратных метрах.



Ответ: _____.

10

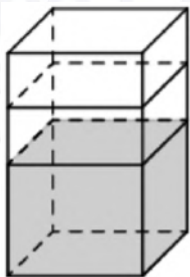
Дачный участок имеет форму прямоугольника со сторонами 30 метров и 20 метров. Хозяин планирует обнести его изгородью и отгородить такой же изгородью квадратный участок со стороной 12 м (см. рис.). Найдите суммарную длину изгороди в метрах.



Ответ: _____.

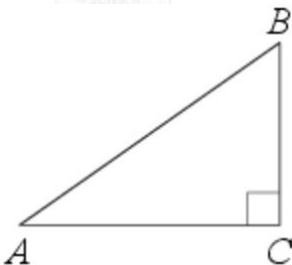


- 11** В бак, имеющий форму прямой призмы, налито 5 л воды. После полного погружения в воду детали уровень воды в баке поднялся в 1,4 раза. Найдите объём детали. Ответ дайте в кубических сантиметрах, зная, что в одном литре 1000 кубических сантиметров.



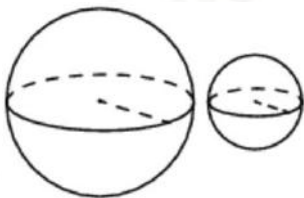
Ответ: _____.

- 12** В треугольнике ABC угол C равен 90° , $AB = 25$, $AC = 24$. Найдите $\cos B$.



Ответ: _____.

- 13** Даны два шара с радиусами 8 и 2. Во сколько раз объём большего шара больше объёма другого?



Ответ: _____.

- 14** Найдите значение выражения

$$\frac{9,2}{0,5 - 2,8}$$

Ответ: _____.

- 15** Футболка стоила 800 рублей. После снижения цены она стала стоить 680 рублей. На сколько процентов была снижена цена футболки?

Ответ: _____.

- 16** Найдите значение выражения

$$\frac{2^5}{2^3 \cdot 2^{-1}}$$

Ответ: _____.

- 17** Найдите корень уравнения

$$\sqrt{3x - 8} = 5.$$

Ответ: _____.



- 18** Каждому из четырёх неравенств в левом столбце соответствует одно из решений в правом столбце. Установите соответствие между неравенствами и их решениями.

НЕРАВЕНСТВА


А) $\frac{(x-3)^2}{x-2} > 0$

Б) $(x-2)(x-3) < 0$

В) $\frac{x-2}{x-3} > 0$

Г) $(x-2)^2(x-3) < 0$

РЕШЕНИЯ



Впишите в приведённую в ответе таблицу под каждой буквой соответствующий решению номер.

Ответ:

| | | | |
|---|---|---|---|
| А | Б | В | Г |
| | | | |

- 19** Найдите четырёхзначное число, кратное 24, произведение цифр которого равно 16. В ответе укажите какое-нибудь одно такое число.

Ответ: _____.

- 20** Имеется два сплава. Первый содержит 10% никеля, второй – 35% никеля. Из этих двух сплавов получили третий сплав массой 150 кг, содержащий 25% никеля. На сколько килограммов масса первого сплава была меньше массы второго?

Ответ: _____.

- 21** На поверхности глобуса фломастером проведены 17 параллелей и 24 меридиана. На сколько частей проведённые линии разделили поверхность глобуса? Меридиан – это дуга окружности, соединяющая Северный и Южный полюсы. Параллель – это окружность, лежащая в плоскости, параллельной плоскости экватора.

Ответ: _____.

Не забудьте перенести все ответы в бланк ответов №1 в соответствии с инструкцией по выполнению работы. Проверьте, чтобы каждый ответ был записан в строке с номером соответствующего задания.

О проекте «Пробный ЕГЭ каждую неделю»

Данный ким составлен командой всероссийского волонтерского проекта «ЕГЭ 100баллов» <https://vk.com/ege100ballov> и безвозмездно распространяется для любых некоммерческих образовательных целей.

Нашли ошибку в варианте?

Напишите нам, пожалуйста, и мы обязательно её исправим!
 Для замечаний и пожеланий: https://vk.com/topic-10175642_49105931
 (также доступны другие варианты для скачивания)










































СОСТАВИТЕЛЬ ВАРИАНТА:

| | |
|-----------------------------|---|
| ФИО: | Евгений Пифагор |
| Предмет: | Математика |
| Стаж: | Более 10 лет подготовки к ЕГЭ и ОГЭ |
| Регалии: | Набрал 100 баллов на ЕГЭ по математике (профиль) 39 учеников набрали 96-100 баллов на ЕГЭ 2022 Высшее образование (ТГУ, 2009-2014) Победитель трёх олимпиад по высшей математике |
| Аккаунт и группа ВК: | https://vk.com/eugene10 https://vk.com/shkolapifagora |
| Ютуб и инстаграм: | https://www.youtube.com/c/pifagor1 https://www.instagram.com/shkola_pifagora/ |



**Система оценивания экзаменационной работы по математике
(базовый уровень)**

Правильное решение каждого из заданий 1–21 оценивается 1 баллом. Задание считается выполненным верно, если ответ записан в той форме, которая указана в инструкции по выполнению задания, и полностью совпадает с эталоном ответа.

| Номер задания | Правильный ответ | Текстовое решение | Видео решение |
|---------------|------------------------|---|---|
| 1 | 7 |  |  |
| 2 | 2431 |  |  |
| 3 | 564 |  |  |
| 4 | 8 |  |  |
| 5 | 0,65 |  |  |
| 6 | 24 |  |  |
| 7 | 1324 |  |  |
| 8 | 13 |  |  |
| 9 | 10,5 |  |  |
| 10 | 124 |  |  |
| 11 | 2000 |  |  |
| 12 | 0,28 |  |  |
| 13 | 64 |  |  |
| 14 | -4 |  |  |
| 15 | 15 |  |  |
| 16 | 8 |  |  |
| 17 | 11 |  |  |
| 18 | 2314 |  |  |
| 19 | 1128 или 8112 или 1224 |  |  |
| 20 | 30 | |  |
| 21 | 432 |  |  |

ЕГЭ 100 БАЛЛОВ
ВСЕРОССИЙСКИЙ ШКОЛЬНЫЙ ПРОЕКТ
VK.COM/EGE100BALLOV



vk.com/ege100ballov

