

Основной государственный экзамен по МАТЕМАТИКЕ

Тренировочный вариант № 103

Инструкция по выполнению работы

Экзаменационная работа состоит из двух частей, включающих в себя 25 заданий. Часть 1 содержит 19 заданий, часть 2 содержит 6 заданий с развёрнутым ответом. На выполнение экзаменационной работы по математике отводится 3 часа 55 минут (235 минут).

Ответы к заданиям 7 и 13 запишите в бланк ответов № 1 в виде одной цифры, которая соответствует номеру правильного ответа.

Для остальных заданий части 1 ответом является число или последовательность цифр. Ответ запишите в поле ответа в тексте работы, а затем перенесите в бланк ответов № 1. Если получилась обыкновенная дробь, ответ запишите в виде десятичной. Решения заданий части 2 и ответы к ним запишите на бланке ответов № 2. Задания можно выполнять в любом порядке. Текст задания переписывать не надо, необходимо только указать его номер. Все бланки заполняются яркими чёрными чернилами. Допускается использование гелевой или капиллярной ручки.

Сначала выполняйте задания части 1. Начать советуем с тех заданий, которые вызывают у Вас меньше затруднений, затем переходите к другим заданиям. Для экономии времени пропускайте задание, которое не удаётся выполнить сразу, и переходите к следующему. Если у Вас останется время, Вы сможете вернуться к пропущенным заданиям. При выполнении части 1 все необходимые вычисления, преобразования выполняйте в черновике.

Если задание содержит рисунок, то на нём непосредственно в тексте работы можно выполнять необходимые Вам построения. Рекомендуем внимательно читать условие и проводить проверку полученного ответа. При выполнении работы Вы можете воспользоваться справочными материалами, выданными вместе с вариантом КИМ, и линейкой. Баллы, полученные Вами за выполненные задания, суммируются. Постарайтесь выполнить как можно больше заданий и набрать наибольшее количество баллов.

При выполнении работы Вы можете воспользоваться справочными материалами, выданными вместе с вариантом КИМ, линейкой и непрограммируемым калькулятором.

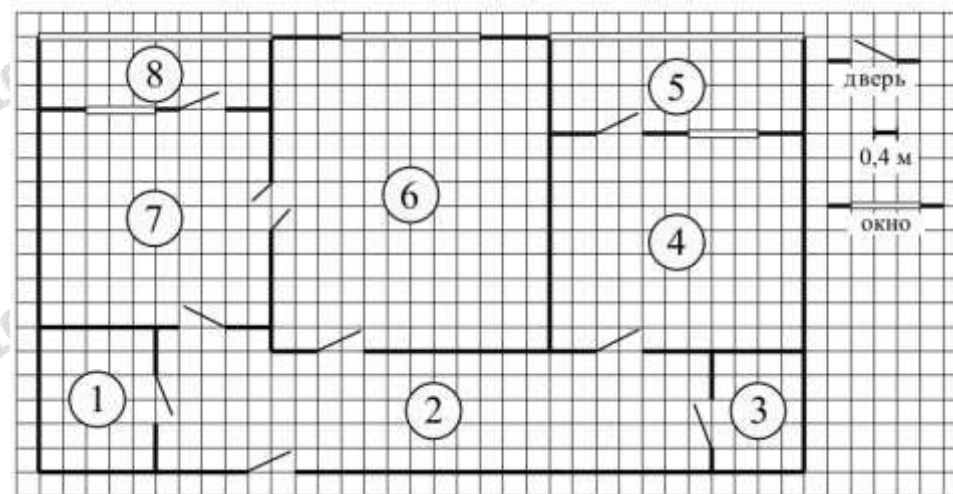
Для прохождения аттестационного порога необходимо набрать не менее 8 баллов, из которых не менее 2 баллов должны быть получены за решение заданий по геометрии (задания 15–19, 23–25).

После завершения работы проверьте, чтобы ответ на каждое задание в бланках ответов № 1 и № 2 был записан под правильным номером.

Желаем успеха!

Часть 1

Прочитайте внимательно текст и выполните задание 1-5.



На рисунке изображён план двухкомнатной квартиры в многоэтажном жилом доме. Сторона одной клетки на плане соответствует 0,4 м, а условные обозначения двери и окна приведены в правой части рисунка. Вход в квартиру находится в коридоре. Слева от входа в квартиру находится санузел, а в противоположном конце коридора — дверь в кладовую. Рядом с кладовой находится спальня, из которой можно пройти на одну из застеклённых лоджий. Самое большое по площади помещение — гостиная, откуда можно попасть в коридор и на кухню. Из кухни также можно попасть на застеклённую лоджию.

- Для объектов, указанных в таблице, определите, какими цифрами они обозначены на плане. Заполните таблицу, в бланк перенесите последовательность четырёх цифр без пробелов, запятых и других дополнительных символов.

Объекты	коридор	санузел	спальня	гостиная
Цифры				

Ответ: _____

2. Плитка для пола размером 20 см на 40 см продаётся в упаковках по 8 штук. Сколько упаковок плитки понадобилось, чтобы выложить пол в санузле?

Ответ: _____

3. Найдите площадь гостиной. Ответ дайте в квадратных метрах.

Ответ: _____

4. На сколько процентов площадь кухни больше площади кладовой?

Ответ: _____

5. В квартире планируется заменить электрическую плиту. Характеристики электроплит, условия подключения и доставки приведены в таблице. Планируется купить электрическую плиту шириной 60 см с духовкой объёмом не менее 52 л.

Модель	Объём духовки (л)	Максимальная температура (°C)	Стоимость плиты (руб.)	Стоимость подключения (руб.)	Стоимость доставки (% от стоимости плиты)	Габариты (высота × ширина × глубина, см)
А	50	280	8 890	1700	бесплатно	85 × 50 × 54
Б	50	300	9 790	750	10	85 × 50 × 54
В	50	250	11 690	700	10	85 × 60 × 60
Г	52	250	17 490	800	10	85 × 60 × 60
Д	70	275	17 990	1400	бесплатно	85 × 60 × 45
Е	58	250	18 890	1500	бесплатно	85 × 50 × 60
Ж	54	270	18 900	750	15	85 × 50 × 60
З	46	250	20 990	750	10	87 × 50 × 60
И	70	275	21 690	1500	бесплатно	85 × 50 × 60
К	67	250	22 990	1500	бесплатно	85 × 50 × 60

Сколько рублей будет стоить наиболее дешёвый подходящий вариант вместе с подключением и доставкой?

Ответ: _____

6. Найдите значение выражения $0,3 + 0,22$. Представьте результат в виде несократимой обыкновенной дроби. В ответ запишите знаменатель этой дроби.

Ответ: _____

7. О числах a , b , c и d известно, что $a = b$, $b = c$, $d = c$. Сравните числа d и a .

1) $d = a$ 2) $d > a$ 3) $d < a$ 4) сравнить невозможно

Ответ: _____

8. Найдите значение выражения $\frac{4^{-2} \cdot 4^{-6}}{4^{-10}}$

Ответ: _____

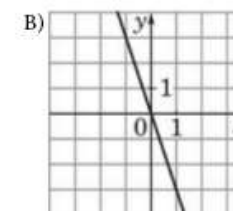
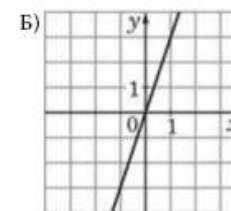
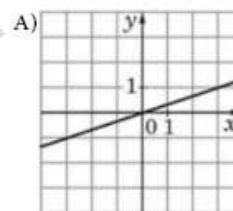
9. Решите уравнение $10(x - 9) = 7$

Ответ: _____

10. В случайном эксперименте симметричную монету бросают дважды. Найдите вероятность того, что орел выпадет ровно 1 раз.

Ответ: _____

11. Установите соответствие между графиками функций и формулами, которые их задают.



ФОРМУЛЫ

1) $y = 3x$ 2) $y = -3x$ 3) $y = \frac{1}{3}x$

В таблице под каждой буквой укажите соответствующий номер

А	Б	В

12. Радиус описанной около треугольника окружности можно найти по формуле $R = \frac{a}{2\sin \alpha}$, где a — сторона треугольника, α — противолежащий этой стороне угол. Пользуясь этой формулой, найдите $\sin \alpha$, если $a = 0,8$, а $R = 0,8$.

Ответ: _____

13. Укажите решение неравенства: $7x - x^2 \geq 0$

1) $[0; +\infty)$

2) $[7; +\infty)$

3) $[0; 7]$

4) $(-\infty; 0] \cup [7; +\infty)$

Ответ: _____

14. Лера решила заказать себе такси. Подача машины и первые 2 минуты поездки в совокупности стоят 99 рублей, а стоимость каждой следующей минуты поездки фиксирована. Стоимость поездки с 3 по 22 минуту (включительно) составила 120 рублей, а с 3 по 32 минуту - 180 рублей. Найдите итоговую стоимость поездки, если поездка длилась 52 минуты.

Ответ: _____

15. В треугольнике ABC угол C равен 90° , M — середина стороны AB , $AB = 26$, $BC = 18$. Найдите CM .

Ответ: _____

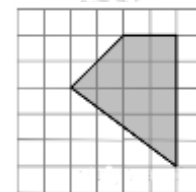
16. Радиус окружности с центром в точке O равен 65, длина хорды AB равна 126. Найдите расстояние от хорды AB до параллельной ей касательной k , если k и AB расположены по разные стороны от центра окружности.

Ответ: _____

17. Высота равностороннего треугольника равна 6. Найдите его площадь, делённую на $\sqrt{3}$.

Ответ: _____

18. На клетчатой бумаге с размером клетки $1 \text{ см} \times 1 \text{ см}$ изображена фигура. Найдите её площадь. Ответ дайте в квадратных сантиметрах



Ответ: _____

19. Какие из следующих утверждений **верны**?

- 1) Косинус острого угла прямоугольного треугольника равен отношению гипотенузы к прилежащему к этому углу катету.
- 2) Диагонали прямоугольника точкой пересечения делятся пополам.
- 3) Центр вписанной окружности равнобедренного треугольника лежит на высоте, проведённой к основанию треугольника.

Не забудьте перенести в бланк ответов №1 в соответствии с инструкцией по выполнению работы

Часть 2

Для выполнения задания 20-25 используйте БЛАНК ОТВЕТОВ №2.
Сначала укажите номер задания, а затем запишите его решение и ответ. Пишите чётко и разборчиво

Модуль «Алгебра»

20. Решите уравнение $\frac{x+8}{2x^2-18} - \frac{2}{x-3} = 1$

21. Первый сплав содержит 10% меди, второй — 40% меди. Масса второго сплава больше массы первого на 3 кг. Из этих двух сплавов получили третий сплав, содержащий 30% меди. Найдите массу третьего сплава. Ответ дайте в килограммах.

22. Постройте график функции

$$y = -4 - \frac{x+1}{x^2+x}$$

и определите, при каких значениях m прямая $y = m$ не имеет с графиком общих точек.

Модуль «Геометрия»

23. Периметр прямоугольника равен 56, а диагональ равна 27. Найдите площадь этого прямоугольника.

24. В трапеции $ABCD$ с основаниями AD и BC диагонали пересекаются в точке O . Докажите, что площади треугольников AOB и COD равны.

25. В трапеции $ABCD$ основания AD и BC равны соответственно 49 и 21, а сумма углов при основании AD равна 90° . Найдите радиус окружности, проходящей через точки A и B и касающейся прямой CD , если $AB = 20$.

ОТВЕТЫ К ТРЕНИРОВОЧНОМУ ВАРИАНТУ 103

1	2146
2	8
3	24,96
4	350
5	19390
6	25
7	1
8	16
9	9,7
10	0,5
11	312
12	0,5
13	3
14	399
15	13
16	81
17	12
18	12
19	23

20	-3,5; 2.	
21	9.	
22	-4; -3.	
23	27,5.	
24		
25	25.	