

**Всероссийская проверочная работа**  
**по профильному учебному предмету «ХИМИЯ»**  
**для обучающихся первых курсов по очной форме обучения по образовательным**  
**программам среднего профессионального образования на базе основного общего**  
**образования**

**Вариант 13613**

**Инструкция по выполнению работы**

На выполнение работы по химии отводится 2 часа (120 минут). Работа включает в себя 22 задания.

Ответы на задания запишите в поля ответов в тексте работы. В случае записи неверного ответа зачеркните его и запишите рядом новый.

При выполнении работы разрешается использовать следующие дополнительные материалы:

- Периодическая система химических элементов Д.И. Менделеева;
- таблица растворимости кислот, солей и оснований в воде;
- ряд активности металлов / электрохимический ряд напряжений;
- непрограммируемый калькулятор.

При необходимости можно пользоваться черновиком. Записи в черновике проверяться и оцениваться не будут.

Советуем выполнять задания в том порядке, в котором они даны. Для экономии времени пропускайте задание, которое не удаётся выполнить сразу, и переходите к следующему. Если после выполнения всей работы у Вас останется время, то Вы сможете вернуться к пропущенным заданиям.

Баллы, полученные Вами за выполненные задания, суммируются. Постарайтесь выполнить как можно больше заданий и набрать наибольшее количество баллов.

***Желаем успеха!***

Таблица для внесения баллов участника

Номер задания	1	2	3	4	5	6	7	8	9	10	11	12	13	14	15	16
Баллы																
Номер задания	17	18	19	20	21	22	Сумма баллов	Отметка за работу								
Баллы																

Периодическая система химических элементов Д.И. Менделеева

		Г р у п п ы																	
		I	II	III	IV	V	VI	VII	VIII										
П е р и о д ы	1	<b>H</b> 1,008 Водород																<b>He</b> 4,00 Гелий	
	2	<b>Li</b> 6,94 Литий	<b>Be</b> 9,01 Бериллий	<b>B</b> 10,81 Бор	<b>C</b> 12,01 Углерод	<b>N</b> 14,00 Азот	<b>O</b> 16,00 Кислород	<b>F</b> 19,00 Фтор	<b>Ne</b> 20,18 Неон										
	3	<b>Na</b> 22,99 Натрий	<b>Mg</b> 24,31 Магний	<b>Al</b> 26,98 Алюминий	<b>Si</b> 28,09 Кремний	<b>P</b> 30,97 Фосфор	<b>S</b> 32,06 Сера	<b>Cl</b> 35,45 Хлор	<b>Ar</b> 39,95 Аргон										
	4	<b>K</b> 39,10 Калий	<b>Ca</b> 40,08 Кальций	<b>Sc</b> 44,96 Скандий	<b>Ti</b> 47,90 Титан	<b>V</b> 50,94 Ванадий	<b>Cr</b> 52,00 Хром	<b>Mn</b> 54,94 Марганец	<b>Fe</b> 55,85 Железо	<b>Co</b> 58,93 Кобальт	<b>Ni</b> 58,69 Никель								
	5	<b>Rb</b> 85,47 Рубидий	<b>Sr</b> 87,62 Стронций	<b>Y</b> 88,91 Итрий	<b>Zr</b> 91,22 Цирконий	<b>Nb</b> 92,91 Ниобий	<b>Mo</b> 95,94 Молибден	<b>Tc</b> 98,91 Технеций	<b>Ru</b> 101,07 Рутений	<b>Rh</b> 102,91 Родий	<b>Pd</b> 106,42 Палладий								
	6	<b>Cs</b> 132,91 Цезий	<b>Ba</b> 137,33 Барий	<b>La</b> * 138,91 Лантан	<b>Hf</b> 178,49 Гафний	<b>Ta</b> 180,95 Тантал	<b>W</b> 183,85 Вольфрам	<b>Re</b> 186,21 Рений	<b>Os</b> 190,2 Осмий	<b>Ir</b> 192,22 Иридий	<b>Pt</b> 195,08 Платина								
	7	<b>Au</b> 196,97 Золото	<b>Hg</b> 200,59 Ртуть	<b>Tl</b> 204,38 Таллий	<b>Pb</b> 207,2 Свинец	<b>Bi</b> 208,98 Висмут	<b>Po</b> [209] Полоний	<b>At</b> [210] Астат	<b>Hs</b> [269] Хассий	<b>Mt</b> [268] Мейтнерий	<b>Ds</b> [271] Дармштадтий								
		<b>Rg</b> [280] Рентгений	<b>Cn</b> [285] Коперниций	<b>Nh</b> [286] Нихоний	<b>Fl</b> [289] Флеровий	<b>Mc</b> [290] Московский	<b>Lv</b> [293] Ливерморий	<b>Ts</b> [294] Теннесси											<b>Og</b> [294] Оганесон

\* Лантаноиды

58	<b>Ce</b> 140 Церий	59	<b>Pr</b> 141 Празеодим	60	<b>Nd</b> 144 Неодим	61	<b>Pm</b> [145] Прометий	62	<b>Sm</b> 150 Самарий	63	<b>Eu</b> 152 Европий	64	<b>Gd</b> 157 Гадолиний	65	<b>Tb</b> 159 Тербий	66	<b>Dy</b> 162,5 Диспрозий	67	<b>Ho</b> 165 Гольмий	68	<b>Er</b> 167 Эрбий	69	<b>Tm</b> 169 Тулий	70	<b>Yb</b> 173 Иттербий	71	<b>Lu</b> 175 Лютеций
----	------------------------	----	----------------------------	----	-------------------------	----	-----------------------------	----	--------------------------	----	--------------------------	----	----------------------------	----	-------------------------	----	------------------------------	----	--------------------------	----	------------------------	----	------------------------	----	---------------------------	----	--------------------------

\*\* АКТИНОИДЫ

90	<b>Th</b> 232 Торий	91	<b>Pa</b> 231 Протактиний	92	<b>U</b> 238 Уран	93	<b>Np</b> 237 Нептуний	94	<b>Pu</b> [244] Плутоний	95	<b>Am</b> [243] Америций	96	<b>Cm</b> [247] Кюрий	97	<b>Bk</b> [247] Берклий	98	<b>Cf</b> [251] Калифорний	99	<b>Es</b> [252] Эйнштейний	100	<b>Fm</b> [257] Фермий	101	<b>Md</b> [258] Менделеевий	102	<b>No</b> [259] Нобелий	103	<b>Lr</b> [262] Лоуренсий
----	------------------------	----	------------------------------	----	----------------------	----	---------------------------	----	-----------------------------	----	-----------------------------	----	--------------------------	----	----------------------------	----	-------------------------------	----	-------------------------------	-----	---------------------------	-----	--------------------------------	-----	----------------------------	-----	------------------------------

**РЯД АКТИВНОСТИ МЕТАЛЛОВ / ЭЛЕКТРОХИМИЧЕСКИЙ РЯД НАПРЯЖЕНИЙ**

Li Rb K Ba Sr Ca Na Mg Al Mn Zn Cr Fe Cd Co Ni Sn Pb (H) Sb Bi Cu Hg Ag Pt Au

↑  
активность металлов уменьшается

**РАСТВОРИМОСТЬ КИСЛОТ, СОЛЕЙ И ОСНОВАНИЙ В ВОДЕ**

	H <sup>+</sup>	Li <sup>+</sup>	K <sup>+</sup>	Na <sup>+</sup>	NH <sub>4</sub> <sup>+</sup>	Ba <sup>2+</sup>	Ca <sup>2+</sup>	Mg <sup>2+</sup>	Sr <sup>2+</sup>	Al <sup>3+</sup>	Cr <sup>3+</sup>	Fe <sup>2+</sup>	Fe <sup>3+</sup>	Ni <sup>2+</sup>	Co <sup>2+</sup>	Mn <sup>2+</sup>	Zn <sup>2+</sup>	Ag <sup>+</sup>	Hg <sup>2+</sup>	Pb <sup>2+</sup>	Sn <sup>2+</sup>	Cu <sup>2+</sup>	
OH <sup>-</sup>		Р	Р	Р	Р	Р	М	Н	М	Н	Н	Н	Н	Н	Н	Н	Н	Н	-	-	Н	Н	Н
F <sup>-</sup>	Р	М	Р	Р	Р	М	Н	Н	Н	М	Н	Н	Н	Р	Р	Р	Р	Р	Р	-	Н	Р	Р
Cl <sup>-</sup>	Р	Р	Р	Р	Р	Р	Р	Р	Р	Р	Р	Р	Р	Р	Р	Р	Р	Р	Н	Р	М	Р	Р
Br <sup>-</sup>	Р	Р	Р	Р	Р	Р	Р	Р	Р	Р	Р	Р	Р	Р	Р	Р	Р	Р	Н	М	М	Р	Р
I <sup>-</sup>	Р	Р	Р	Р	Р	Р	Р	Р	Р	Р	?	Р	?	Р	Р	Р	Р	Р	Н	Н	Н	М	?
S <sup>2-</sup>	Р	Р	Р	Р	Р	-	-	-	Н	-	-	Н	-	Н	Н	Н	Н	Н	Н	Н	Н	Н	Н
HS <sup>-</sup>	Р	Р	Р	Р	Р	Р	Р	Р	Р	?	?	?	?	?	?	?	?	?	?	?	?	?	?
SO <sub>3</sub> <sup>2-</sup>	Р	Р	Р	Р	Р	Н	Н	М	Н	?	-	Н	?	Н	Н	?	М	Н	Н	Н	Н	?	?
HSO <sub>3</sub> <sup>-</sup>	Р	?	Р	Р	Р	Р	Р	Р	Р	?	?	?	?	?	?	?	?	?	?	?	?	?	?
SO <sub>4</sub> <sup>2-</sup>	Р	Р	Р	Р	Р	Н	М	Р	Н	Р	Р	Р	Р	Р	Р	Р	Р	М	-	Н	Р	Р	
HSO <sub>4</sub> <sup>-</sup>	Р	Р	Р	Р	Р	?	?	?	-	?	?	?	?	?	?	?	?	?	?	?	?	?	?
NO <sub>3</sub> <sup>-</sup>	Р	Р	Р	Р	Р	Р	Р	Р	Р	Р	Р	Р	Р	Р	Р	Р	Р	Р	Р	Р	Р	Р	Р
NO <sub>2</sub> <sup>-</sup>	Р	Р	Р	Р	Р	Р	Р	Р	Р	?	?	?	?	Р	М	?	?	?	?	?	?	?	?
PO <sub>4</sub> <sup>3-</sup>	Р	Н	Р	Р	-	Н	Н	Н	Н	Н	Н	Н	Н	Н	Н	Н	Н	Н	Н	Н	Н	Н	Н
HPO <sub>4</sub> <sup>2-</sup>	Р	?	Р	Р	Р	Н	Н	М	Н	?	?	Н	?	?	?	?	?	?	?	?	М	Н	?
H <sub>2</sub> PO <sub>4</sub> <sup>-</sup>	Р	Р	Р	Р	Р	Р	Р	Р	Р	?	?	Р	?	?	?	?	Р	Р	Р	?	-	?	?
CO <sub>3</sub> <sup>2-</sup>	Р	Р	Р	Р	Р	Н	Н	Н	Н	?	?	Н	-	Н	Н	Н	Н	Н	Н	Н	Н	?	Н
HCO <sub>3</sub> <sup>-</sup>	Р	Р	Р	Р	Р	Р	Р	Р	Р	?	?	Р	?	?	?	?	?	?	?	?	?	?	?
CH <sub>3</sub> COO <sup>-</sup>	Р	Р	Р	Р	Р	Р	Р	Р	Р	-	Р	Р	-	Р	Р	Р	Р	Р	Р	Р	Р	-	Р
SiO <sub>3</sub> <sup>2-</sup>	Н	Н	Р	Р	?	Н	Н	Н	Н	?	?	Н	?	?	?	?	Н	Н	?	?	Н	?	?

“Р” – растворяется (> 1 г на 100 г H<sub>2</sub>O)

“М” – мало растворяется (от 0,1 г до 1 г на 100 г H<sub>2</sub>O)

“Н” – не растворяется (меньше 0,01 г на 1000 г воды)

“-” – в водной среде разлагается

“?” – нет достоверных сведений о существовании соединений

1

Выберите два утверждения, в которых говорится о фосфоре как о химическом элементе.

- 1) В природе в свободном состоянии фосфор не встречается из-за высокой химической активности.
- 2) Фосфор умели получать ещё арабские алхимики.
- 3) Белый фосфор имеет молекулярную кристаллическую решётку.
- 4) Фосфор содержится в тканях живых организмов.
- 5) При физических нагрузках возрастает потребность человека в фосфоре.

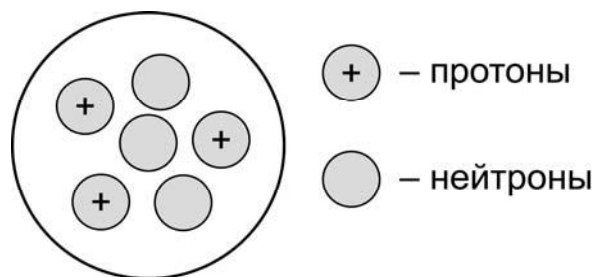
Запишите номера выбранных ответов.

Ответ.

--	--

2

На рисунке изображена модель строения ядра атома некоторого химического элемента.



Запишите в таблицу номер периода (X) и номер группы (Y), в которой данный химический элемент расположен в Периодической системе Д.И. Менделеева. (Для записи ответа используйте арабские цифры.)

Ответ:

X	Y

3

Расположите химические элементы –

1) фосфор 2) кремний 3) хлор

в порядке увеличения кислотности их высших оксидов.

Запишите указанные номера элементов в соответствующем порядке.

Ответ:

	→		→	
--	---	--	---	--

4

Установите соответствие между формулой вещества и степенью окисления серы в данном веществе: к каждой позиции, обозначенной буквой, подберите соответствующую позицию, обозначенную цифрой.

ФОРМУЛА ВЕЩЕСТВА	СТЕПЕНЬ ОКИСЛЕНИЯ СЕРЫ
А) $\text{Li}_2\text{SO}_3$	1) -2
Б) $(\text{NH}_4)_2\text{SO}_4$	2) +3
В) $\text{FeS}$	3) +4
	4) +6

Запишите в таблицу выбранные цифры под соответствующими буквами.

Ответ:

А	Б	В

5

Из предложенного перечня выберите два вещества с металлической связью.

- 1)  $\text{S}_8$
- 2)  $\text{Mg}$
- 3)  $\text{K}_2\text{S}$
- 4)  $\text{Fe}$
- 5)  $\text{CaCl}_2$

Запишите номера выбранных ответов.

Ответ.

--	--

6

Какие два утверждения верны для характеристики как магния, так и кальция?

- 1) Атом имеет два электрона во внешнем слое.
- 2) Соответствующее простое вещество существует в виде двухатомных молекул.
- 3) Относится к щёлочноземельным металлам.
- 4) Значение электроотрицательности больше, чем у фосфора.
- 5) Химический элемент образует высший оксид состава ЭО.

Запишите номера выбранных ответов.

Ответ.

--	--

7

Из предложенного перечня веществ выберите одноосновную кислоту и соль.

- 1)  $\text{NaN}$
- 2)  $\text{H}_2\text{SO}_4$
- 3)  $\text{PBr}_3$
- 4)  $\text{HClO}_4$
- 5)  $\text{NH}_4\text{Cl}$

Запишите в поле ответа сначала номер одноосновной кислоты, а затем номер соли.

Ответ.

--	--

8) Какие два из перечисленных веществ вступают в реакцию с литием?

- 1)  $\text{H}_3\text{PO}_4$
- 2)  $\text{Al}$
- 3)  $\text{KOH}$
- 4)  $\text{BaSO}_4$
- 5)  $\text{N}_2$

Запишите номера выбранных ответов.

Ответ: 

--	--

9) Установите соответствие между реагирующими веществами и продуктом(-ами) их взаимодействия: к каждой позиции, обозначенной буквой, подберите соответствующую позицию, обозначенную цифрой.

РЕАГИРУЮЩИЕ ВЕЩЕСТВА

- А)  $\text{Al}(\text{OH})_3$  и  $\text{KOH}$  (р-р)
- Б)  $\text{Ca}(\text{OH})_2$  и  $\text{NH}_4\text{Br}$
- В)  $\text{Al}_2\text{O}_3$  и  $\text{KOH}$  (тв.)

ПРОДУКТ(Ы)  
ВЗАИМОДЕЙСТВИЯ

- 1)  $\text{CaBr}_2$ ,  $\text{N}_2$  и  $\text{H}_2\text{O}$
- 2)  $\text{K}[\text{Al}(\text{OH})_4]$
- 3)  $\text{K}_2\text{O}$  и  $\text{Al}(\text{OH})_3$
- 4)  $\text{KAlO}_2$  и  $\text{H}_2\text{O}$
- 5)  $\text{CaBr}_2$ ,  $\text{NH}_3$  и  $\text{H}_2\text{O}$

Запишите в таблицу выбранные цифры под соответствующими буквами.

Ответ: 

А	Б	В

10) Установите соответствие между веществом и реагентами, с каждым из которых оно может вступать в реакцию: к каждой позиции, обозначенной буквой, подберите соответствующую позицию, обозначенную цифрой.

ВЕЩЕСТВО

- А)  $\text{C}$
- Б)  $\text{Al}_2\text{O}_3$
- В)  $\text{CuCl}_2$

РЕАГЕНТЫ

- 1)  $\text{O}_2$ ,  $\text{H}_2\text{SO}_4$  (конц.)
- 2)  $\text{Mg}$ ,  $\text{AgNO}_3$  (р-р)
- 3)  $\text{CaO}$ ,  $\text{HCl}$  (р-р)
- 4)  $\text{Fe}(\text{OH})_2$ ,  $\text{AlCl}_3$  (р-р)

Запишите в таблицу выбранные цифры под соответствующими буквами.

Ответ: 

А	Б	В

11

Из предложенного перечня выберите две пары веществ, между которыми протекает реакция замещения.

- 1) магний и нитрат железа(III)
- 2) оксид серы(VI) и оксид железа(III)
- 3) оксид меди(II) и соляная кислота
- 4) алюминий и хлор
- 5) кальций и вода

Запишите номера выбранных ответов.

Ответ.

--	--

12

Установите соответствие между реагирующими веществами и признаком протекающей между ними реакции: к каждой позиции, обозначенной буквой, подберите соответствующую позицию, обозначенную цифрой.

## РЕАГИРУЮЩИЕ ВЕЩЕСТВА

- А)  $\text{Na}_2\text{CO}_3$  и  $\text{H}_2\text{SO}_4$
- Б)  $\text{KCl}$  и  $\text{AgNO}_3$
- В)  $\text{NaOH}$  и  $\text{H}_2\text{SO}_4$

## ПРИЗНАК РЕАКЦИИ

- 1) образование осадка
- 2) выделение газа
- 3) растворение осадка
- 4) видимые признаки реакции отсутствуют

Запишите в таблицу выбранные цифры под соответствующими буквами.

Ответ:

А	Б	В

13

При внесении в воду каких двух из представленных веществ образуются хлорид-анионы?

- 1)  $\text{CCl}_4$
- 2)  $\text{AlCl}_3$
- 3)  $\text{KCl}$
- 4)  $\text{KClO}$
- 5)  $\text{KClO}_3$

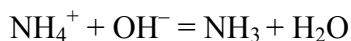
Запишите номера выбранных ответов.

Ответ.

--	--

14

Выберите два исходных вещества, взаимодействию которых соответствует сокращённое ионное уравнение реакции



- 1)  $(\text{NH}_4)_2\text{SO}_4$
- 2)  $\text{Ba}(\text{OH})_2$
- 3)  $\text{CaO}$
- 4)  $\text{NH}_4\text{NO}_3$
- 5)  $\text{Cu}(\text{OH})_2$
- 6)  $(\text{NH}_4)_2\text{CO}_3$

Запишите номера выбранных ответов.

Ответ.

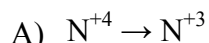
--	--

15

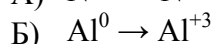
Установите соответствие между схемой процесса, происходящего в окислительно-восстановительной реакции, и названием этого процесса: к каждой позиции, обозначенной буквой, подберите соответствующую позицию, обозначенную цифрой.

СХЕМА ПРОЦЕССА

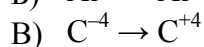
НАЗВАНИЕ ПРОЦЕССА



1) окисление



2) восстановление



Запишите в таблицу выбранные цифры под соответствующими буквами.

Ответ:

А	Б	В

16

Из перечисленных суждений о правилах работы с веществами и оборудованием в лаборатории и быту выберите верное(-ые) суждение(-я).

- 1) Перед использованием застывшей масляной краски её рекомендуется подогреть на открытом огне.
- 2) При использовании органических растворителей во время ремонта в помещении окна должны быть плотно закрыты.
- 3) При нагревании пробирки с твёрдой смесью, используемой для получения аммиака, пробирку держат горизонтально.
- 4) Для проведения опытов в пробирку наливают по 1–2 мл растворов реактивов.

Запишите в поле ответа номер(а) верного(-ых) суждения(-й).

Ответ: \_\_\_\_\_.



17

Установите соответствие между двумя веществами, взятыми в виде водных растворов, и реактивом, с помощью которого можно различить эти вещества: к каждой позиции, обозначенной буквой, подберите соответствующую позицию, обозначенную цифрой.

ВЕЩЕСТВА	РЕАКТИВ
А) LiCl и HCl	1) KOH
Б) NaBr и MgBr <sub>2</sub>	2) CaCO <sub>3</sub>
В) NaF и NaCl	3) AgNO <sub>3</sub>
	4) H <sub>2</sub> SO <sub>4</sub>

Запишите в таблицу выбранные цифры под соответствующими буквами.

Ответ:

А	Б	В

**Задания 18 и 19 выполняются с использованием следующего текста.**

Кальций – один из важнейших макроэлементов, необходимый для всех живых организмов. Для восполнения недостатка кальция в организме человека рекомендован приём витаминно-минеральных комплексов, содержащих гидрофосфат кальция (CaHPO<sub>4</sub>). При некоторых заболеваниях необходим ежедневный приём 400 мг кальция в составе витаминно-минеральных комплексов.

18

Вычислите массовую долю (в процентах) кальция в гидрофосфате кальция. Запишите число с точностью до десятых.

Ответ: \_\_\_\_\_ %.

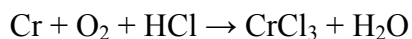
19

Вычислите массу гидрофосфата кальция (в миллиграммах), которую должна содержать одна таблетка витаминно-минерального комплекса, если рекомендован приём двух таблеток в сутки. Запишите число с точностью до целых.

Ответ: \_\_\_\_\_ мг.

20

Используя метод электронного баланса, расставьте коэффициенты в уравнении реакции, схема которой



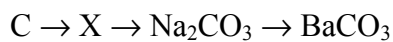
Определите окислитель и восстановитель.

Решение.



21

Дана схема превращений:



Напишите молекулярные уравнения реакций, с помощью которых можно осуществить указанные превращения. Для третьей реакции составьте сокращённое ионное уравнение.

Решение.



22

К 205 г раствора с массовой долей фосфата натрия 8% добавили избыток раствора нитрата бария. Определите массу выпавшего осадка.

В ответе запишите уравнение реакции, о которой идёт речь в условии задачи, и приведите все необходимые вычисления (указывайте единицы измерения искомых физических величин).

Решение.

Ответ: