

Всероссийская проверочная работа
по профильному учебному предмету «ХИМИЯ»
для обучающихся первых курсов по очной форме обучения по образовательным
программам среднего профессионального образования на базе основного общего
образования

Вариант 27260

Инструкция по выполнению работы

На выполнение работы по химии отводится 2 часа (120 минут). Работа включает в себя 22 задания.

Ответы на задания запишите в поля ответов в тексте работы. В случае записи неверного ответа зачеркните его и запишите рядом новый.

При выполнении работы разрешается использовать следующие дополнительные материалы:

- Периодическая система химических элементов Д.И. Менделеева;
- таблица растворимости кислот, солей и оснований в воде;
- ряд активности металлов / электрохимический ряд напряжений;
- непрограммируемый калькулятор.

При необходимости можно пользоваться черновиком. Записи в черновике проверяться и оцениваться не будут.

Советуем выполнять задания в том порядке, в котором они даны. Для экономии времени пропускайте задание, которое не удаётся выполнить сразу, и переходите к следующему. Если после выполнения всей работы у Вас останется время, то Вы сможете вернуться к пропущенным заданиям.

Баллы, полученные Вами за выполненные задания, суммируются. Постарайтесь выполнить как можно больше заданий и набрать наибольшее количество баллов.

Желаем успеха!

Таблица для внесения баллов участника

Номер задания	1	2	3	4	5	6	7	8	9	10	11	12	13	14	15	16
Баллы																
Номер задания	17	18	19	20	21	22	Сумма баллов	Отметка за работу								
Баллы																

Периодическая система химических элементов Д.И. Менделеева

		Г р у п п ы																	
		I	II	III	IV	V	VI	VII	VIII										
П е р и о д ы	1	H 1,008 Водород																He 4,00 Гелий	
	2	Li 6,94 Литий	Be 9,01 Бериллий	B 10,81 Бор	C 12,01 Углерод	N 14,00 Азот	O 16,00 Кислород	F 19,00 Фтор	Ne 20,18 Неон										
	3	Na 22,99 Натрий	Mg 24,31 Магний	Al 26,98 Алюминий	Si 28,09 Кремний	P 30,97 Фосфор	S 32,06 Сера	Cl 35,45 Хлор	Ar 39,95 Аргон										
	4	K 39,10 Калий	Ca 40,08 Кальций	Sc 44,96 Скандий	Ti 47,90 Титан	V 50,94 Ванадий	Cr 52,00 Хром	Mn 54,94 Марганец	Fe 55,85 Железо	Co 58,93 Кобальт	Ni 58,69 Никель								
	5	Cu 63,55 Медь	Zn 65,39 Цинк	Ga 69,72 Галлий	Ge 72,59 Германий	As 74,92 Мышьяк	Se 78,96 Селен	Br 79,90 Бром	Kr 83,80 Криптон										
	6	Rb 85,47 Рубидий	Sr 87,62 Стронций	Y 88,91 Итрий	Zr 91,22 Цирконий	Nb 92,91 Ниобий	Mo 95,94 Молибден	Tc 98,91 Технеций	Ru 101,07 Рутений	Rh 102,91 Родий	Pd 106,42 Палладий								
	7	Ag 107,87 Серебро	Cd 112,41 Кадмий	In 114,82 Индий	Sn 118,69 Олово	Sb 121,75 Сурьма	Te 127,60 Теллур	I 126,90 Йод	Xe 131,29 Ксенон										
	8	Cs 132,91 Цезий	Ba 137,33 Барий	La * 138,91 Лантан	Hf 178,49 Гафний	Ta 180,95 Тантал	W 183,85 Вольфрам	Re 186,21 Рений	Os 190,2 Осмий	Ir 192,22 Иридий	Pt 195,08 Платина								
	9	Au 196,97 Золото	Hg 200,59 Ртуть	Tl 204,38 Таллий	Pb 207,2 Свинец	Bi 208,98 Висмут	Po [209] Полоний	At [210] Астат	Rn [222] Радон										
	10	Fr [223] Франций	Ra 226 Радий	Ac ** [227] Актиний	Rf [261] Резерфордий	Db [262] Дубний	Sg [266] Сиборгий	Bh [264] Борий	Hs [269] Хассий	Mt [268] Мейтнерий	Ds [271] Дармштадтий								
	11	Rg [280] Рентгений	Cn [285] Коперниций	Nh [286] Нихоний	Fl [289] Флеровий	Mc [290] Московский	Lv [293] Ливерморий	Ts [294] Теннесий	Og [294] Оганесон										

* Лантаноиды

58	Ce 140 Церий	59	Pr 141 Празеодим	60	Nd 144 Неодим	61	Pm [145] Прометий	62	Sm 150 Самарий	63	Eu 152 Европий	64	Gd 157 Гадолиний	65	Tb 159 Тербий	66	Dy 162,5 Диспрозий	67	Ho 165 Гольмий	68	Er 167 Эрбий	69	Tm 169 Тулий	70	Yb 173 Иттербий	71	Lu 175 Лютеций
----	------------------------	----	----------------------------	----	-------------------------	----	-----------------------------	----	--------------------------	----	--------------------------	----	----------------------------	----	-------------------------	----	------------------------------	----	--------------------------	----	------------------------	----	------------------------	----	---------------------------	----	--------------------------

** АКТИНОИДЫ

90	Th 232 Торий	91	Pa 231 Протактиний	92	U 238 Уран	93	Np 237 Нептуний	94	Pu [244] Плутоний	95	Am [243] Америций	96	Cm [247] Кюрий	97	Bk [247] Берклий	98	Cf [251] Калифорний	99	Es [252] Эйнштейний	100	Fm [257] Фермий	101	Md [258] Менделеевий	102	No [259] Нобелий	103	Lr [262] Лоуренсий
----	------------------------	----	------------------------------	----	----------------------	----	---------------------------	----	-----------------------------	----	-----------------------------	----	--------------------------	----	----------------------------	----	-------------------------------	----	-------------------------------	-----	---------------------------	-----	--------------------------------	-----	----------------------------	-----	------------------------------

РЯД АКТИВНОСТИ МЕТАЛЛОВ / ЭЛЕКТРОХИМИЧЕСКИЙ РЯД НАПРЯЖЕНИЙ

Li Rb K Ba Sr Ca Na Mg Al Mn Zn Cr Fe Cd Co Ni Sn Pb (H) Sb Bi Cu Hg Ag Pt Au



активность металлов уменьшается

РАСТВОРИМОСТЬ КИСЛОТ, СОЛЕЙ И ОСНОВАНИЙ В ВОДЕ

	H ⁺	Li ⁺	K ⁺	Na ⁺	NH ₄ ⁺	Ba ²⁺	Ca ²⁺	Mg ²⁺	Sr ²⁺	Al ³⁺	Cr ³⁺	Fe ²⁺	Fe ³⁺	Ni ²⁺	Co ²⁺	Mn ²⁺	Zn ²⁺	Ag ⁺	Hg ²⁺	Pb ²⁺	Sn ²⁺	Cu ²⁺	
OH ⁻		Р	Р	Р	Р	Р	М	Н	М	Н	Н	Н	Н	Н	Н	Н	Н	-	-	Н	Н	Н	Н
F ⁻	Р	М	Р	Р	Р	М	Н	Н	Н	М	Н	Н	Н	Р	Р	Р	Р	Р	Р	-	Н	Р	Р
Cl ⁻	Р	Р	Р	Р	Р	Р	Р	Р	Р	Р	Р	Р	Р	Р	Р	Р	Р	Р	Н	Р	М	Р	Р
Br ⁻	Р	Р	Р	Р	Р	Р	Р	Р	Р	Р	Р	Р	Р	Р	Р	Р	Р	Р	Н	М	М	Р	Р
I ⁻	Р	Р	Р	Р	Р	Р	Р	Р	Р	Р	?	Р	?	Р	Р	Р	Р	Р	Н	Н	Н	М	?
S ²⁻	Р	Р	Р	Р	Р	-	-	-	Н	-	-	Н	-	Н	Н	Н	Н	Н	Н	Н	Н	Н	Н
HS ⁻	Р	Р	Р	Р	Р	Р	Р	Р	Р	?	?	?	?	?	Н	?	?	?	?	?	?	?	?
SO ₃ ²⁻	Р	Р	Р	Р	Р	Н	Н	М	Н	?	-	Н	?	Н	Н	?	М	Н	Н	Н	Н	?	?
HSO ₃ ⁻	Р	?	Р	Р	Р	Р	Р	Р	Р	?	?	?	?	?	?	?	?	?	?	?	?	?	?
SO ₄ ²⁻	Р	Р	Р	Р	Р	Н	М	Р	Н	Р	Р	Р	Р	Р	Р	Р	Р	М	-	Н	Р	Р	Р
HSO ₄ ⁻	Р	Р	Р	Р	Р	?	?	?	-	?	?	?	?	?	?	?	?	?	?	?	?	?	?
NO ₃ ⁻	Р	Р	Р	Р	Р	Р	Р	Р	Р	Р	Р	Р	Р	Р	Р	Р	Р	Р	Р	Р	Р	-	Р
NO ₂ ⁻	Р	Р	Р	Р	Р	Р	Р	Р	Р	?	?	?	?	?	?	?	?	?	М	?	?	?	?
PO ₄ ³⁻	Р	Н	Р	Р	-	Н	Н	Н	Н	Н	Н	Н	Н	Н	Н	Н	Н	Н	Н	Н	Н	Н	Н
HPO ₄ ²⁻	Р	?	Р	Р	Р	Н	Н	М	Н	?	?	Н	?	?	?	?	?	?	?	?	М	Н	?
H ₂ PO ₄ ⁻	Р	Р	Р	Р	Р	Р	Р	Р	Р	?	?	Р	?	?	?	?	Р	Р	Р	?	-	?	?
CO ₃ ²⁻	Р	Р	Р	Р	Р	Н	Н	Н	Н	?	?	Н	-	Н	Н	Н	Н	Н	Н	Н	Н	?	Н
HCO ₃ ⁻	Р	Р	Р	Р	Р	Р	Р	Р	Р	?	?	Р	?	?	?	?	?	?	?	?	?	?	?
CH ₃ COO ⁻	Р	Р	Р	Р	Р	Р	Р	Р	Р	-	Р	Р	-	Р	Р	Р	Р	Р	Р	Р	Р	-	Р
SiO ₃ ²⁻	Н	Н	Р	Р	?	Н	Н	Н	Н	?	?	Н	?	?	?	?	Н	?	?	?	Н	?	?

“Р” – растворяется (> 1 г на 100 г H₂O)

“М” – мало растворяется (от 0,1 г до 1 г на 100 г H₂O)

“Н” – не растворяется (меньше 0,01 г на 1000 г воды)

“-” – в водной среде разлагается

“?” – нет достоверных сведений о существовании соединений

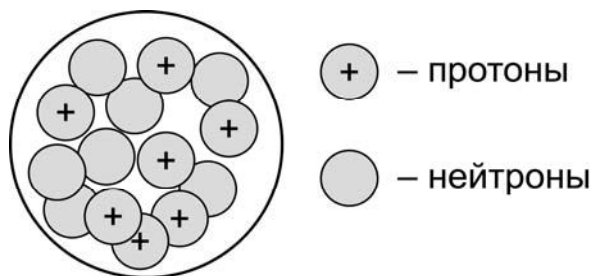
1 Выберите два утверждения, в которых говорится о сере как о простом веществе.

- 1) Сера – необходимый элемент питания растений.
- 2) Жидкую серу хранят в обогреваемых резервуарах и транспортируют в цистернах.
- 3) Серу применяют для вулканизации каучука.
- 4) Сера входит в состав многих белков.
- 5) В рацион питания следует включать продукты, богатые серой.

Запишите номера выбранных ответов.

Ответ:

2 На рисунке изображена модель строения ядра атома некоторого химического элемента.



Запишите в таблицу число электронов во внешнем электронном слое данного атома (X) и номер периода (Y), в котором данный химический элемент расположен в Периодической системе Д.И. Менделеева. (Для записи ответа используйте арабские цифры.)

Ответ:

X	Y

3 Расположите химические элементы –

- 1) фосфор 2) кремний 3) алюминий

в порядке увеличения восстановительных свойств образуемых ими простых веществ. Запишите указанные номера элементов в соответствующем порядке.

Ответ: → →

4

Установите соответствие между формулой вещества и степенью окисления марганца в данном веществе: к каждой позиции, обозначенной буквой, подберите соответствующую позицию, обозначенную цифрой.

ФОРМУЛА ВЕЩЕСТВА

СТЕПЕНЬ ОКИСЛЕНИЯ
МАРГАНЦА

- А) Mn_2O_7
 Б) $Mn(OH)_2$
 В) Na_2MnO_4

- 1) +2
 2) +7
 3) +4
 4) +6

Запишите в таблицу выбранные цифры под соответствующими буквами.

Ответ:

А	Б	В

5

Из предложенного перечня выберите два вещества с металлической связью.

- 1) Cu
 2) Na_2O
 3) CaF_2
 4) Na
 5) C_{60}

Запишите номера выбранных ответов.

Ответ.

6

Какие два утверждения верны для характеристики как кислорода, так и серы?

- 1) Соответствующее простое вещество газообразно при обычных условиях.
 2) Является неметаллом.
 3) Химический элемент в соединениях с водородом проявляет отрицательную степень окисления.
 4) Электроны в атоме расположены на шести электронных слоях.
 5) Высшая валентность этого элемента равна II.

Запишите номера выбранных ответов.

Ответ.

7

Из предложенного перечня веществ выберите два основания.

- 1) $Zn(OH)_2$ 2) $Mg(OH)_2$ 3) $Fe(OH)_3$ 4) LiOH 5) $Al(OH)_3$

Запишите номера выбранных ответов.

Ответ.

8

Какие два из перечисленных веществ вступают в реакцию с оксидом железа(III)?

- 1) HCl
- 2) Ba(NO₃)₂
- 3) Al
- 4) O₂
- 5) H₂O

Запишите номера выбранных ответов.

Ответ.

--	--

9

Установите соответствие между реагирующими веществами и продуктом(-ами) их взаимодействия: к каждой позиции, обозначенной буквой, подберите соответствующую позицию, обозначенную цифрой.

РЕАГИРУЮЩИЕ ВЕЩЕСТВА

- А) CaO и H₂O
- Б) Na₂O и H₂SO₄
- В) Ca и H₂O

ПРОДУКТ(Ы)
ВЗАИМОДЕЙСТВИЯ

- 1) Ca(OH)₂ и H₂
- 2) Na₂SO₄ и H₂O
- 3) Ca(OH)₂
- 4) Na₂SO₄ и H₂
- 5) Na₂SO₃ и H₂O

Запишите в таблицу выбранные цифры под соответствующими буквами.

Ответ:

А	Б	В

10

Установите соответствие между веществом и реагентами, с каждым из которых оно может вступать в реакцию: к каждой позиции, обозначенной буквой, подберите соответствующую позицию, обозначенную цифрой.

ВЕЩЕСТВО

- А) Br₂
- Б) P₂O₅
- В) Na₂CO₃

РЕАГЕНТЫ

- 1) H₂O, CaO
- 2) KI, Cu
- 3) O₂, FeSO₄
- 4) CaCl₂, HNO₃

Запишите в таблицу выбранные цифры под соответствующими буквами.

Ответ:

А	Б	В

11

Из предложенного перечня выберите две пары веществ, между которыми протекает реакция соединения.

- 1) калий и вода
- 2) оксид фосфора(V) и вода
- 3) оксид натрия и углекислый газ
- 4) оксид бария и соляная кислота
- 5) углекислый газ и магний

Запишите номера выбранных ответов.

Ответ.

--	--

12

Установите соответствие между реагирующими веществами и признаком протекающей между ними реакции: к каждой позиции, обозначенной буквой, подберите соответствующую позицию, обозначенную цифрой.

РЕАГИРУЮЩИЕ ВЕЩЕСТВА

- А) K_2CO_3 и HNO_3
- Б) $AgNO_3$ и Na_3PO_4
- В) $Ba(OH)_2$ и H_2SO_4

ПРИЗНАК РЕАКЦИИ

- 1) выпадение голубого осадка
- 2) выпадение жёлтого осадка
- 3) выпадение белого осадка
- 4) выделение бесцветного газа

Запишите в таблицу выбранные цифры под соответствующими буквами.

Ответ:

А	Б	В

13

При полной диссоциации 1 моль каких двух из представленных веществ образуется 2 моль ионов?

- 1) карбонат натрия
- 2) сульфат цинка
- 3) нитрат кальция
- 4) гидроксид натрия
- 5) фосфат калия

Запишите номера выбранных ответов.

Ответ.

--	--

14

Выберите два исходных вещества, взаимодействию которых соответствует сокращённое ионное уравнение реакции



- 1) FeS
- 2) Al₂S₃
- 3) Na₂S
- 4) H₂CO₃
- 5) HBr
- 6) HNO₂

Запишите номера выбранных ответов.

Ответ.

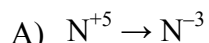
--	--

15

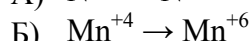
Установите соответствие между схемой процесса, происходящего в окислительно-восстановительной реакции, и названием этого процесса: к каждой позиции, обозначенной буквой, подберите соответствующую позицию, обозначенную цифрой.

СХЕМА ПРОЦЕССА

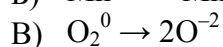
НАЗВАНИЕ ПРОЦЕССА



1) окисление



2) восстановление



Запишите в таблицу выбранные цифры под соответствующими буквами.

Ответ:

А	Б	В

16

Из перечисленных суждений о правилах работы с веществами в лаборатории и быту выберите верное(-ые) суждение(-я).

- 1) Смесь нефти и воды можно разделить методом фильтрования.
- 2) Для измельчения твёрдых веществ используют шпатель.
- 3) Томатный сок является чистым веществом.
- 4) При использовании в быту чистящих растворов, содержащих едкий натр, необходимо надевать защитные перчатки.

Запишите в поле ответа номер(а) верного(-ых) суждения(-й).

Ответ: _____.

17

Установите соответствие между двумя веществами, взятыми в виде водных растворов, и реактивом, с помощью которого можно различить эти два вещества: к каждой позиции, обозначенной буквой, подберите соответствующую позицию, обозначенную цифрой.

ВЕЩЕСТВА

- А) AgNO_3 и $\text{Zn(NO}_3)_2$
 Б) Ba(OH)_2 и NaOH
 В) $\text{Zn(NO}_3)_2$ и MgSO_4

РЕАКТИВ

- 1) HNO_3
 2) $\text{Ba(CH}_3\text{COO)}_2$
 3) K_3PO_4
 4) фенолфталеин

Запишите в таблицу выбранные цифры под соответствующими буквами.

Ответ:

А	Б	В

Задания 18 и 19 выполняются с использованием следующего текста.

Железо – один из важнейших микроэлементов, необходимый для всех живых организмов. Для восполнения недостатка железа в организме человека рекомендован приём витаминно-минеральных комплексов, содержащих сульфат железа(II) (FeSO_4). При некоторых заболеваниях необходим ежедневный приём 20 мг железа в составе витаминно-минеральных комплексов.

18

Вычислите массовую долю (в процентах) железа в сульфате железа(II). Запишите число с точностью до десятых.

Ответ: _____ %.

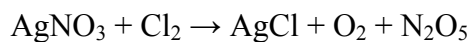
19

Вычислите массу сульфата железа(II) (в миллиграммах), которую должна содержать одна таблетка витаминно-минерального комплекса, если рекомендован приём двух таблеток в сутки. Запишите число с точностью до целых.

Ответ: _____ мг.

20

Используя метод электронного баланса, расставьте коэффициенты в уравнении реакции, схема которой



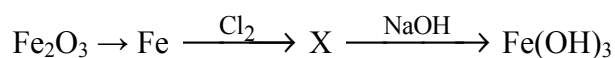
Определите окислитель и восстановитель.

Решение.



21

Дана схема превращений:



Напишите молекулярные уравнения реакций, с помощью которых можно осуществить указанные превращения. Для третьего превращения составьте сокращённое ионное уравнение реакции.

Решение.



22

К раствору соляной кислоты массой 116,8 г и массовой долей HCl 10% добавили избыток сульфида железа(II). Вычислите объём (н.у.) выделившегося газа.

В ответе запишите уравнение реакции, о которой идёт речь в условии задачи, и приведите все необходимые вычисления (указывайте единицы измерения искомых физических величин).

Решение.

Ответ: