

**Всероссийская проверочная работа**  
**ДЛЯ ОЦЕНКИ МЕТАПРЕДМЕТНЫХ РЕЗУЛЬТАТОВ ОБУЧЕНИЯ**  
**в соответствии с федеральным государственным образовательным**  
**стандартом основного общего образования**  
**для обучающихся первых курсов по очной форме обучения по образовательным**  
**программам среднего профессионального образования на базе основного общего**  
**образования**

**Вариант 34831**

**Инструкция по выполнению работы**

Проверочная работа включает в себя 23 задания.

На выполнение проверочной работы отводится 2 часа (120 минут).

Ответами к заданиям 1–11, 13, 14, 20–23 являются цифра, последовательность цифр или слово (словосочетание). Задания 12, 15–19 требуют полного ответа (дать объяснение, описание или обоснование; высказать и аргументировать собственное мнение). В случае записи неверного ответа зачеркните его и запишите рядом новый.

При выполнении работы не разрешается пользоваться учебниками, рабочими тетрадями и другими справочными материалами.

При выполнении заданий Вы можете пользоваться черновиком. Записи в черновике проверяться и оцениваться не будут.

Советуем выполнять задания в том порядке, в котором они даны. В целях экономии времени пропускайте задание, которое не удаётся выполнить сразу, и переходите к следующему. Если после выполнения всей работы у Вас останется время, то Вы сможете вернуться к пропущенным заданиям.

Баллы, полученные Вами за выполненные задания, суммируются. Постарайтесь выполнить как можно больше заданий и набрать наибольшее количество баллов.

***Желаем успеха!***

*Таблица для внесения баллов участника*

Номер задания	1	2	3	4	5	6	7	8	9	10	11	12	13	14	15
Баллы															
Номер задания	16	17(1)	17(2)	18	19	20(1)	20(2)	21.1	21.2	21.3	22	23	Сумма баллов	Отметка за работу	
Баллы															

1

Назовите исторического деятеля, о котором идёт речь.

Церковный и государственный деятель, благословивший московского князя Дмитрия Ивановича на Куликовскую битву. Канонизирован Русской Православной Церковью.

Ответ: \_\_\_\_\_.

2

Заполните пропуски в данных предложениях, используя приведённый ниже список пропущенных элементов: для каждого предложения, обозначенного буквой и содержащего пропуск, выберите номер нужного элемента.

А) После смерти Бориса Годунова к власти пришёл \_\_\_\_\_.

Б) Лжедмитрий II получил прозвище \_\_\_\_\_.

В) В период Смуты происходила интервенция \_\_\_\_\_ в Россию.

Пропущенные элементы:

- 1) Окаянный
- 2) Речи Посполитой
- 3) Лжедмитрий I
- 4) Франции
- 5) Фёдор Иванович
- 6) Тушинский вор

Запишите в таблицу выбранные цифры под соответствующими буквами.

Ответ:

А	Б	В

3

Рассмотрите изображение и выполните задание.



Укажите событие, один из эпизодов которого изображён на данной иллюстрации.

Ответ: \_\_\_\_\_.

4

Прочтите отрывок из сочинения историка и укажите имя и прозвище князя, пропущенные в тексте.

«Рыцари-крестоносцы заняли псковскую крепость Изборск, а затем укрепились во Пскове, где с согласия части псковских бояр были посажены «судить» немецкие «тиуны». На следующий год орден вторгся в новгородские пределы, совершая набеги и создавая опорные пункты. В ответ \_\_\_\_\_ во главе дружины захватил крепость Копорье, а потом стремительным броском освободил от крестоносцев Псков. Затем княжеская владимиро-суздальская дружина и новгородское ополчение двинулись к Чудскому озеру, на льду которого произошло решающее сражение. Битва, которая вошла в историю как Ледовое побоище, закончилась полным поражением крестоносцев».

Ответ: \_\_\_\_\_.

5

Заполните пустые ячейки таблицы, используя приведённый ниже список пропущенных элементов: для каждого пропуска, обозначенного буквой, выберите номер нужного элемента.

Год	Событие	Участник
_____ (А)	_____ (Б)	Иван III
1558 г.	_____ (В)	Иван IV
_____ (Г)	Издание Манифеста о вольности дворянской	_____ (Д)

Пропущенные элементы:

- 1) присоединение Новгородской земли к Москве
- 2) 1147 г.
- 3) Пётр III
- 4) создание II Ополчения
- 5) начало Ливонской войны
- 6) 1762 г.
- 7) А.Д. Меншиков
- 8) 1478 г.

Запишите в таблицу выбранные цифры под соответствующими буквами.

Ответ:

А	Б	В	Г	Д

6

Рассмотрите изображение и выполните задание.



Укажите название города в период Великой Отечественной войны, с историей которого непосредственно связаны представленные дневниковые записи.

Ответ: \_\_\_\_\_

**Ознакомьтесь с перечнем и изображениями памятников культуры и выполните задания 7 и 8.**

- 1) «Слово о Законе и Благодати»;
- 2) роман «Отцы и дети»;
- 3) «Слово о полку Игореве»

4)



5)



7

Какие из приведённых памятников культуры были созданы в XIX в.? Выберите два памятника культуры и запишите в таблицу цифры, под которыми они указаны.

Ответ:

--	--

8

Создателем какого из приведённых памятников культуры является И.С. Тургенев? Укажите порядковый номер этого памятника культуры.

Ответ:

--

9

Установите соответствие между полномочиями и субъектами государственной власти РФ, которые ими наделены: к каждому элементу, данному в первом столбце, подберите соответствующий элемент из второго столбца.

## ПОЛНОМОЧИЯ

СУБЪЕКТЫ  
ГОСУДАРСТВЕННОЙ ВЛАСТИ  
РФ

- |  |   |
|--|---|
| <p>А) объявление амнистии</p> <p>Б) утверждение изменения границ между субъектами РФ</p> <p>В) назначение на должность Председателя Центрального банка</p> <p>Г) осуществление мер по реализации внешней политики РФ</p> <p>Д) осуществление управления федеральной собственностью</p> | <p>1) Правительство РФ</p> <p>2) Государственная Дума</p> <p>3) Совет Федерации</p> |
|--|---|

Запишите в таблицу выбранные цифры под соответствующими буквами.

Ответ:

А	Б	В	Г	Д

10

Ниже приведены примеры правонарушений. Запишите цифры, под которыми указаны ситуации, в которых правонарушитель будет привлечён к гражданско-правовой ответственности.

- 1) Марина не оплатила проезд в автобусе.
- 2) Продавец магазина отказался оформить возврат денег за товар, имевший заводской брак.
- 3) Находясь за рулём автомобиля, Иван превысил установленную скорость на 40 км/ч.
- 4) Фирма нарушила условия договора об оказании услуг.
- 5) Пётр совершил разбойное нападение на Фёдора.

Ответ: \_\_\_\_\_.

11

Установите соответствие между примерами и мерами юридической ответственности в РФ: к каждой позиции, данной в первом столбце, подберите соответствующую позицию из второго столбца.

## ПРИМЕРЫ

- А) признание права
- Б) лишение права занимать определённые должности
- В) предупреждение
- Г) административный штраф
- Д) принудительные работы

МЕРЫ ЮРИДИЧЕСКОЙ ОТВЕТСТВЕННОСТИ  
В РФ

- 1) способы защиты гражданских прав по Гражданскому кодексу РФ
- 2) наказания по Уголовному кодексу РФ
- 3) административные наказания по Кодексу РФ об административных правонарушениях

Запишите в таблицу выбранные цифры под соответствующими буквами.

Ответ:

А	Б	В	Г	Д

12

Рассмотрите фотографию.



Кто из участников трудовых правоотношений имеет право выдавать данный документ? Что служит основой возникновения трудовых правоотношений в Российской Федерации?

Ответ: \_\_\_\_\_

\_\_\_\_\_

Используя обществоведческие знания, факты общественной жизни и личный социальный опыт, укажите любые две обязанности работника (в соответствии с Трудовым кодексом Российской Федерации.)

Ответ: \_\_\_\_\_

\_\_\_\_\_



13

Установите соответствие между примерами и видами экономического продукта: к каждому элементу, данному в первом столбце, подберите соответствующий элемент из второго столбца.

## ПРИМЕРЫ

- А) организация юбилея агентством
- Б) фотоаппарат
- В) проведение фотосессии
- Г) гоночный автомобиль
- Д) исполнение песни артистом

ВИДЫ ЭКОНОМИЧЕСКОГО  
ПРОДУКТА

- 1) товар
- 2) услуга

Запишите в таблицу выбранные цифры под соответствующими буквами.

Ответ:

А	Б	В	Г	Д

14

Константин решил инвестировать средства. Какая информация позволит сделать вывод о том, что выбранной им финансовой организации можно доверять? Запишите **цифры**, под которыми указаны две соответствующие позиции.

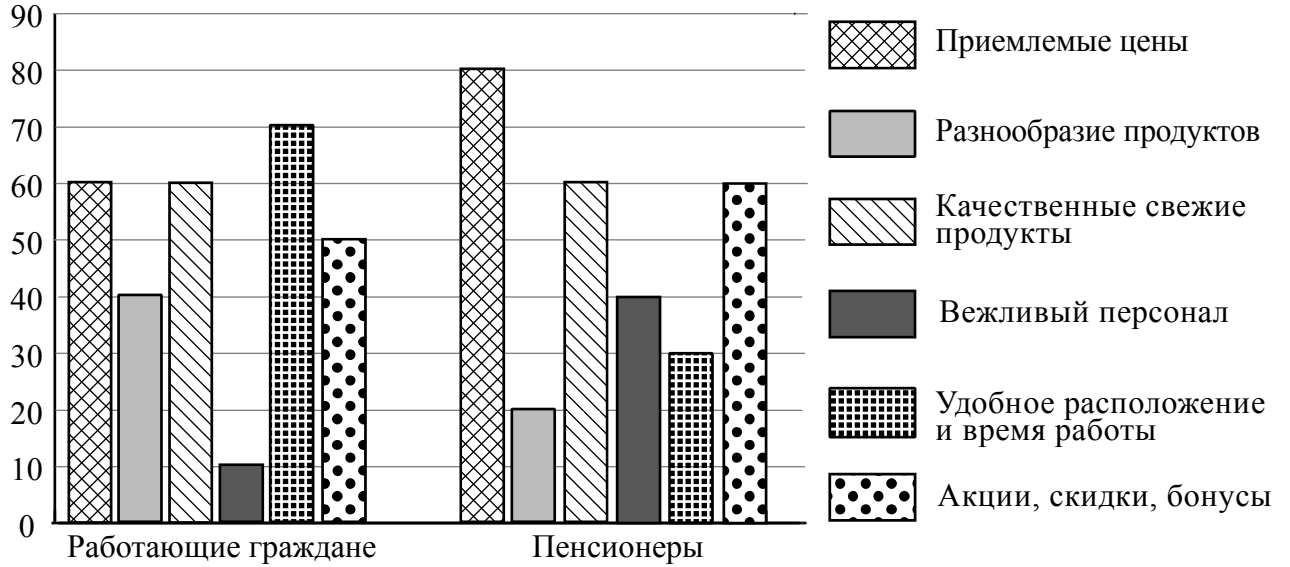
- 1) Доступна информация о наличии у организации лицензии Банка России.
- 2) Информация о руководстве компании и её реквизитах отсутствует.
- 3) Инвестору обещают доходность примерно на уровне средних ставок по банковским вкладам.
- 4) Название организации на её сайте и в договоре различается.
- 5) От потенциальных вкладчиков требуют уплатить взносы «за вступление», «за регистрацию» в качестве инвестора.

Ответ: \_\_\_\_\_.

15

В ходе социологического опроса гражданам страны Z задавали вопрос: «Что из перечисленного необходимо, чтобы магазин, в котором вы покупаете продукты, полностью вас устраивал?» (Можно было выбрать не более пяти ответов.)

Результаты опроса (в % от числа отвечавших) представлены в графическом виде.



Сформулируйте одно существенное различие в позициях групп опрошенных. Выскажите предположение о том, чем объясняется это различие.

Различие: \_\_\_\_\_  
 \_\_\_\_\_  
 \_\_\_\_\_

Предположение: \_\_\_\_\_  
 \_\_\_\_\_  
 \_\_\_\_\_



16

Совершеннолетнему Максиму Л., получающему пенсию по инвалидности, пришло СМС-сообщение о том, что ему будут перечислены 15000 рублей от благотворительного фонда. Но предварительно он должен оплатить комиссию в 500 рублей за перевод этих средств.

В чём состоит опасность данной ситуации для личных финансов Максима Л.? Как ему правильно поступить в данной ситуации?

Ответ: \_\_\_\_\_

\_\_\_\_\_

\_\_\_\_\_

\_\_\_\_\_

\_\_\_\_\_

\_\_\_\_\_

\_\_\_\_\_

\_\_\_\_\_

\_\_\_\_\_

\_\_\_\_\_

\_\_\_\_\_

17

Абсолютное большинство людей общаются в социальных сетях, рассказывают о своей семье, работе и повседневных делах, отдыхе и развлечениях.

Публикация некоторой информации может быть опасной для человека, его семьи. Приведите не менее трёх примеров такой информации и для каждого из них объясните, в чём опасность публикации.

Пример «опасной» информации	Объяснение опасности публикации



20

На рисунках представлены контуры стран – соседей России с указанием столиц этих стран. Подпишите под каждым рисунком рядом с номером название соответствующей страны.

1) Выберите из списка названия этих стран и укажите их под рисунками.



1 – \_\_\_\_\_ 2 – \_\_\_\_\_ 3 – \_\_\_\_\_ 4 – \_\_\_\_\_

Страны-соседи России:

Белоруссия, Китай, Япония, Польша.

2) Определите расположение указанных Вами стран на схеме и впишите в пустые квадраты их **номера**.

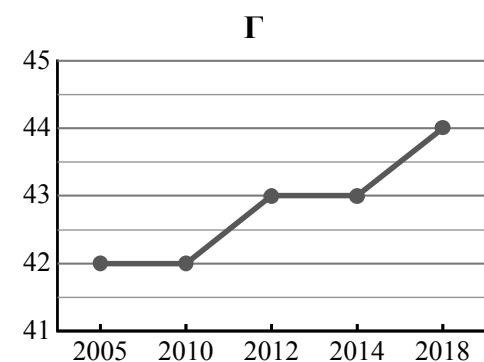
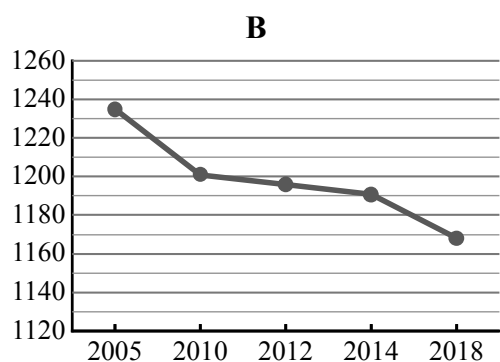
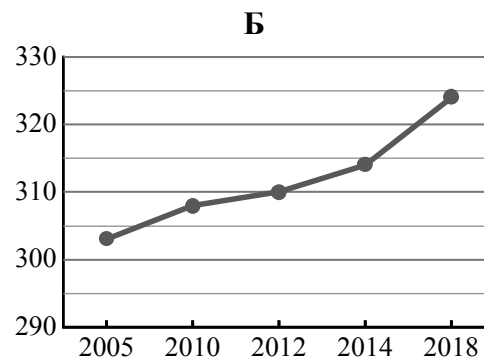
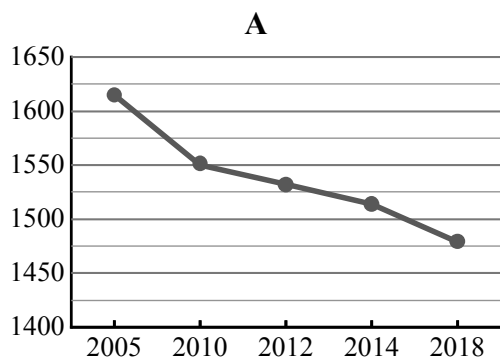


21

Используя представленную ниже таблицу и графики динамики численности населения по субъектам Российской Федерации за период 2005–2018 гг., выполните задания.

**Динамика численности населения, тыс. человек**

№ п/п	Субъекты РФ	2005 г.	2010 г.	2012 г.	2014 г.	2018 г.
1	Ненецкий автономный округ	42	42	43	43	44
2	Республика Тыва	303	308	310	314	324
3	Тульская область	1615	1550	1532	1514	1479
4	Вологодская область	1235	1201	1196	1191	1168



1) Определите, какому субъекту Российской Федерации соответствует каждый график динамики численности населения. Запишите в ответе **порядковые номера** субъектов Российской Федерации под соответствующими буквами.

Ответ.

А	Б	В	Г

2) В каких из приведённых в таблице субъектов Российской Федерации численность населения за указанный период снизилась?

Ответ. \_\_\_\_\_

3) В каком из приведённых в таблице субъектов Российской Федерации рост численности населения за указанный период был наибольшим?

Ответ. \_\_\_\_\_

22

В регионах с высокой сейсмической активностью нужно возводить здания, способные устоять в случае землетрясения. В каких двух из перечисленных регионов России строительство сейсмостойких зданий наиболее актуально? Запишите в таблицу цифры, под которыми указаны эти регионы.

- 1) Ивановская область
- 2) Астраханская область
- 3) Тамбовская область
- 4) Республика Алтай
- 5) Республика Дагестан

Ответ.

--	--

23

Туристические фирмы разных регионов России разработали слоганы (рекламные лозунги) для привлечения туристов в свои регионы. Установите соответствие между слоганами и регионами: к каждому элементу первого столбца подберите соответствующий элемент из второго столбца.

## СЛОГАНЫ

## РЕГИОНЫ

- |   |  |
|---|--|
| <p>А) Приезжайте в наш регион зимой! Настоящий северный мороз, сафари на вездеходах по тайге – для вас, любители экстремального туризма!</p> <p>Б) По количеству, разнообразию и полезным свойствам минеральных вод и лечебных грязей наш регион не имеет аналогов в Европе. Курорты Кавказских Минеральных Вод ждут вас!</p> | <ol style="list-style-type: none"> <li>1) Воронежская область</li> <li>2) Ставропольский край</li> <li>3) Республика Карелия</li> <li>4) Астраханская область</li> </ol> |
|---|--|

Запишите в таблицу выбранные цифры под соответствующими буквами.

Ответ:

А	Б