

**Проверочная работа
по МАТЕМАТИКЕ**

5 класс (по программе начальной школы)

Вариант 2

Инструкция по выполнению работы

На выполнение работы по математике даётся 45 минут. Работа содержит 12 заданий.

В заданиях, после которых есть поле со словом «Ответ», запиши ответ в указанном месте.

В заданиях 5 (пункт 2) и 11 нужно сделать чертёж или рисунок. В задании 10 нужно записать ответ, заполнив приведенную форму.

В заданиях, после которых есть поле со словами «Решение» и «Ответ», запиши решение и ответ в указанном месте.

Если ты хочешь изменить ответ, то зачеркни его и запиши рядом новый.

При выполнении работы нельзя пользоваться учебниками, рабочими тетрадями, справочниками, калькулятором.

При необходимости можно пользоваться черновиком. Записи в черновике проверяться и оцениваться не будут.

Советуем выполнять задания в том порядке, в котором они даны. Для экономии времени пропускай задание, которое не удаётся выполнить сразу, и переходи к следующему. Постарайся выполнить как можно больше заданий.

Желаем успеха!










1 Вычисли: $61 - 19$.

Ответ:	
--------	--

2 Вычисли: $(38 + 18) : 2 - 9$.

Ответ:	
--------	--

3 В магазине продаются овощи. На рисунке указана цена 1 кг.

 Морковь 9 руб.	 Картофель 22 руб.	 Капуста 26 руб.
 Репчатый лук 32 руб.	 Кабачки 97 руб.	 Свёкла 14 руб.
 Редис 58 руб.	 Перец 73 руб.	 Чеснок 180 руб.

Покупатель взял пять килограммов картофеля. Сколько рублей сдачи получит покупатель с 500 рублей?

Запиши решение и ответ.

Решение.	
Ответ:	

10

Люба написала сочинение «Наша дача».

Наш дачный посёлок правильно называется «кооператив». У нас есть водонапорная башня, которая на плане обозначена шестиугольником. Башня хоть и ржавая, но работает, и поэтому у нас есть водопровод. Водопровод нам очень нужен, потому что на нашем участке папа сделал бассейн.

Если выйти с нашего участка и повернуть налево, то придёшь к воротам, а если направо, то будет калитка, через которую мы ходим в лес.

Между нашим участком и калиткой есть ещё один участок, там растёт большая ель, а живёт Алексей Петрович. За его участком дача Степана Ивановича. Степан Иванович врач, и в прошлом году он вылечил больную спину Марии Петровны. Мария Петровна тоже наша соседка, только она живёт с другой стороны посёлка у самых ворот. Если въехать в ворота, то справа дача председателя нашего кооператива, а слева как раз дача Марии Петровны, а за ней ещё две: сначала участок Ильи Михайловича, а ближе к калитке — дача Ивана Павловича. Иван Павлович знает все грибы в лесу — какие хорошие, а какие ядовитые. Поэтому, когда мы идём за грибами, всегда зовём его с собой. Он никогда не отказывается, только ворчит, что мы грибы собирать не умеем и наберём поганок.

Рассмотри план дачного кооператива и, пользуясь описанием, которое дала Люба, обозначь цифрами на плане шесть участков.

1. Участок, где живёт автор сочинения Люба.
2. Участок Алексея Петровича.
3. Участок Степана Ивановича.
4. Участок Марии Петровны.
5. Участок Ильи Михайловича.
6. Участок Ивана Павловича.

