

ВСЕРОССИЙСКАЯ ПРОВЕРОЧНАЯ РАБОТА**ХИМИЯ
11 КЛАСС****Вариант 2****Инструкция по выполнению работы**

Проверочная работа включает в себя 15 заданий. На выполнение работы по химии отводится 1 час 30 минут (90 минут).

Оформляйте ответы в тексте работы согласно инструкциям к заданиям. В случае записи неверного ответа зачеркните его и запишите рядом новый.

При выполнении работы разрешается использовать следующие дополнительные материалы:

- Периодическая система химических элементов Д.И. Менделеева;
- таблица растворимости солей, кислот и оснований в воде;
- электрохимический ряд напряжений металлов;
- непрограммируемый калькулятор.

При выполнении заданий Вы можете использовать черновик. Записи в черновике проверяться и оцениваться не будут.

Советуем выполнять задания в том порядке, в котором они даны. Для экономии времени пропускайте задание, которое не удаётся выполнить сразу, и переходите к следующему. Если после выполнения всей работы у Вас останется время, Вы сможете вернуться к пропущенным заданиям.

Баллы, полученные Вами за выполненные задания, суммируются. Постарайтесь выполнить как можно больше заданий и набрать наибольшее количество баллов.

Желаем успеха!

Таблица для внесения баллов участника

Номер задания	1	2	3	4	5	6	7	8	9	10	11	12	13	14	15	Сумма баллов	Отметка за работу
Баллы																	

1

Из курса химии Вам известны следующие способы разделения смесей: *отстаивание, фильтрование, дистилляция (перегонка), действие магнитом, выпаривание, кристаллизация*. На рисунках 1–3 представлены примеры использования некоторых из перечисленных способов.




Рис. 1

Рис. 2

Рис. 3

Ознакомьтесь с этими рисунками и дайте ответы на вопросы.

Какие из названных способов разделения смесей можно применить для:

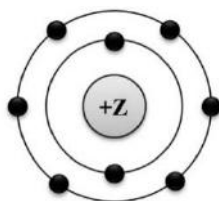
- 1) разделения «Уайт-спирита» (смеси углеводородов) на компоненты;
- 2) отделения озёрной воды от примесей глины и песка?

Заполните таблицу: укажите номер рисунка и название соответствующего способа разделения смеси.

Смесь	Номер рисунка	Способ разделения смеси
Растворитель «Уайт-спирит»		
Озёрная вода и примеси глины и песка		

2

На рисунке изображена модель электронного строения атома некоторого химического элемента.



На основании предложенной модели выполните следующие задания:

- 1) запишите порядковый номер химического элемента, которому соответствует данная модель атома;
- 2) запишите номер периода и номер группы в Периодической системе химических элементов Д.И. Менделеева, в которых расположен этот элемент;
- 3) определите, к металлам или неметаллам относится простое вещество, которое образует этот элемент.

Ответы запишите в таблицу.

Порядковый номер химического элемента	№ периода	№ группы	Металл/неметалл

3

Периодическая система химических элементов Д.И. Менделеева – богатое хранилище информации о химических элементах, их свойствах и свойствах их соединений. Так, например, известно, что с увеличением порядкового номера химического элемента способность атомов притягивать к себе электроны (электроотрицательность) в периодах усиливается, а в группах ослабевает.

Учитывая эти закономерности, расположите в порядке увеличения электроотрицательности следующие элементы: алюминий, хлор, фосфор. В ответе запишите символы элементов в нужной последовательности.

Ответ: _____

4

В приведённой ниже таблице представлены некоторые характеристики ковалентной и ионной видов химической связи.

Химическая связь	
Ковалентная	Ионная
Образована атомами одного и того же элемента-неметалла или атомами различных неметаллов	Образована атомами металла и неметалла

Используя данную информацию, определите вид химической связи: 1) в бромиде кальция (CaBr_2); 2) в молекуле кислорода (O_2).

1) В бромиде кальция _____

2) В молекуле кислорода _____

Прочитайте следующий текст и выполните задания 5–7.

Простое вещество барий представляет собой серебристо-белый ковкий металл, легко раскалывающийся при резком ударе. На воздухе барий быстро окисляется, образуя смесь оксида бария (BaO) и нитрида бария (Ba_3N_2) а при незначительном нагревании воспламеняется. Барий активно взаимодействует с различными неметаллами (P , S , Cl_2), кислотами. При взаимодействии металлического бария с водой образуется гидроксид бария ($\text{Ba}(\text{OH})_2$) и выделяется водород.

Оксид и гидроксид бария проявляют основной характер и взаимодействуют с кислотными оксидами (SO_3 , P_2O_5) и кислотами (HNO_3 , HCl) с образованием соответствующих солей.

Многие соли бария нерастворимы или малорастворимы в воде: сульфат бария BaSO_4 , карбонат бария BaCO_3 , фосфат бария $\text{Ba}_3(\text{PO}_4)_2$. Их можно легко получить, действуя на растворимые соли бария сульфатами (Na_2SO_4), карбонатами (Na_2CO_3) или фосфатами (Na_3PO_4) щелочных металлов.

При работе с растворимыми солями бария следует соблюдать осторожность, поскольку они высокотоксичны. В тоже время его нерастворимые соли, например сульфат бария, токсичностью не обладают, что дает возможность использовать их в медицине. Так нерастворимый и нетоксичный BaSO_4 , применяется в качестве рентгеноконтрастного вещества при медицинском обследовании желудочно-кишечного тракта.

5

Сложные неорганические вещества условно можно распределить, то есть классифицировать, по четырём группам, как показано на схеме. В эту схему для каждой из четырёх групп *впишите* по одной химической формуле веществ, из тех, о которых говорится в приведённом выше тексте.



6

1. Составьте уравнение реакции между оксидом фосфора(V) и оксидом бария.

Ответ: _____

2. Укажите, является ли эта реакция окислительно-восстановительной или протекает без изменения степеней окисления.

Ответ: _____

7

1. Составьте молекулярное уравнение реакции между сульфатом натрия и нитратом бария.

Ответ: _____

2. Укажите признаки реакции, протекающей между сульфатом натрия и нитратом бария.

Ответ: _____

8

При исследовании минерализации бутилированной воды в ней были обнаружены следующие анионы: Cl^- , S^{2-} , SO_4^{2-} . Для проведения качественного анализа к этой воде добавили раствор FeCl_2 .

1. Какое изменение в растворе можно наблюдать при проведении данного опыта (концентрация веществ достаточная для проведения анализа).

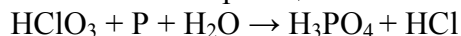
Ответ: _____

2. Запишите сокращённое ионное уравнение произошедшей химической реакции.

Ответ: _____

9

Дана схема окислительно-восстановительной реакции.



1. Составьте электронный баланс этой реакции.

Ответ: _____

2. Укажите окислитель и восстановитель.

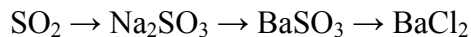
Ответ: _____

3. Расставьте коэффициенты в уравнении реакции.

Ответ: _____

10

Дана схема превращений:



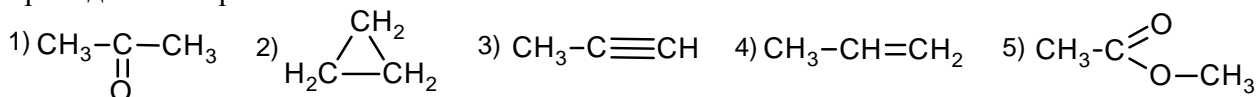
Напишите молекулярные уравнения реакций, с помощью которых можно осуществить указанные превращения.

1) _____

2) _____

3) _____

Для выполнения заданий 11–13 используйте вещества, структурные формулы которых приведены в перечне:



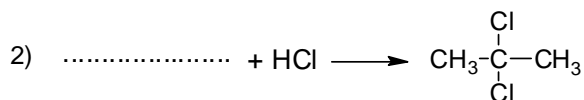
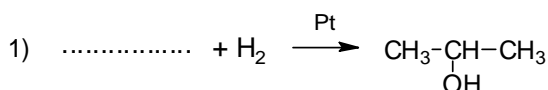
11

Из приведённого перечня выберите алкин и сложный эфир. Запишите в таблицу номера выбранных веществ.

Алкин	Сложный эфир

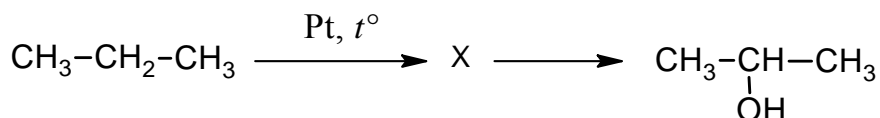
12

Составьте уравнения реакций: в предложенные схемы химических реакций впишите структурные формулы пропущенных веществ и расставьте коэффициенты.



13

Изопропиловый спирт благодаря низкой токсичности используется в качестве растворителя в косметике, парфюмерии, бытовой химии, в средствах для очистки стёкол, оргтехники и т.п. Изопропиловый спирт можно получить в соответствии с приведённой схемой превращений:



Определите вещество X, выбрав его из предложенного выше перечня веществ. Запишите уравнения двух реакций, с помощью которых можно осуществить эти превращения. Запишите название вещества X.

При написании уравнений реакций используйте структурные формулы органических веществ.

- 1) _____
- 2) _____
- 3) _____

14

Одним из важных понятий в экологии и химии является «предельно допустимая концентрация» (ПДК). ПДК – это такая концентрация вредного вещества в окружающей среде, присутствуя в которой постоянно, данное вещество не оказывает в течение всей жизни прямого или косвенного неблагоприятного влияния на настоящее или будущее поколение, не снижает работоспособности человека, не ухудшает его самочувствия и условий жизни.

ПДК акролеина в воздухе рабочей зоны составляет $0,2 \text{ мг/м}^3$.

В рабочем помещении одного из ресторанов быстрого питания площадью 32 м^2 и высотой потолка $3,2 \text{ м}$ в процессе длительной тепловой обработки жира в воздух выделилось $25,6 \text{ мг}$ акролеина. Определите и подтвердите расчётами, превышает ли концентрация акролеина в воздухе данного помещения значение ПДК. Предложите способ, позволяющий снизить концентрацию акролеина в помещении.

Ответ: _____

15

Для повышения урожайности семена моркови перед посевом рекомендуется обработать $0,2\%$ -ным раствором сульфата цинка. Рассчитайте массу сульфата цинка и массу воды, которые необходимы для приготовления 800 г такого раствора. Запишите подробное решение задачи.

Ответ: _____
