

**Проверочная работа  
по ИСТОРИИ**

**5 класс**

**Вариант 1**

**Инструкция по выполнению работы**

На выполнение работы по истории даётся 45 минут. Работа состоит из двух частей и включает в себя 8 заданий. Часть 1 работы содержит задания по истории Древнего мира, в части 2 предложены задания по истории родного края.

Ответы на задания запишите в поля ответов в тексте работы. В случае записи неверного ответа зачеркните его и запишите рядом новый.

При выполнении работы не разрешается пользоваться учебником, рабочими тетрадями и другими справочными материалами.

При необходимости можно пользоваться черновиком. Записи в черновике проверяться и оцениваться не будут.

Советуем выполнять задания в том порядке, в котором они даны. В целях экономии времени пропускайте задание, которое не удаётся выполнить сразу, и переходите к следующему. Если после выполнения всей работы у Вас останется время, то Вы сможете вернуться к пропущенным заданиям.

***Желаем успеха!***

*Таблица для внесения баллов участника*

Номер задания	1	2	3	4	5	6	7	8	Сумма баллов	Отметка за работу
Баллы										

Часть 1



**В этой части работы даны задания по истории Древнего мира.**

**Прочтите перечень из четырёх тем и выполните задания, относящиеся к этому перечню.**

- Перечень тем**
- |                            |                   |
|----------------------------|-------------------|
| А) Ассирийское государство | Б) Древний Египет |
| В) Древняя Индия           | Г) Древняя Греция |

1

Каждая из иллюстраций, приведённых ниже, относится к одной из указанных в перечне тем. Установите соответствие между темами и иллюстрациями: к каждой теме подберите по одной иллюстрации.



Запишите в таблицу выбранные цифры под соответствующими буквами.

Ответ:

А	Б	В	Г

## Перечень тем

А) Ассирийское государство

Б) Древний Египет

В) Древняя Индия

Г) Древняя Греция

2

Прочтите отрывок из исторического документа и определите, к какой из данных тем он относится. В ответе напишите букву, которой обозначена эта тема.

«...Тогда его величество издал приказ своему войску, говоря: "Сражайтесь хорошо, войска мои храбрые! Вот, находятся все чужеземные страны в этом городе согласно приказу Ра сегодня, ибо все князья всех стран собраны в этом городе, ибо взятие тысячи городов – это взятие Мегиддо. Сражайтесь храбро, храбро!"

И всё, что делал его величество против этого города, против того презренного врага с его презренным войском, – отмечалось ежедневно... и было оно запечатлено на кожаном свитке в храме Амона...».

Ответ:

**Выберите одну тему из перечня, а затем выполните относящиеся к этому перечню задания только по выбранной Вами теме. Перед выполнением каждого из относящихся к перечню заданий укажите букву, которой обозначена выбранная тема. Указанные в заданиях буквы должны быть одинаковыми.**

3

Выбранная тема:  (укажите букву в перечне).

Прочтите список слов (словосочетаний) и напишите слово (словосочетание), относящееся к выбранной Вами теме.

*Варны, сатрапия, Парфенон, суд Соломона, фараон, Тигр.*

Ответ: \_\_\_\_\_

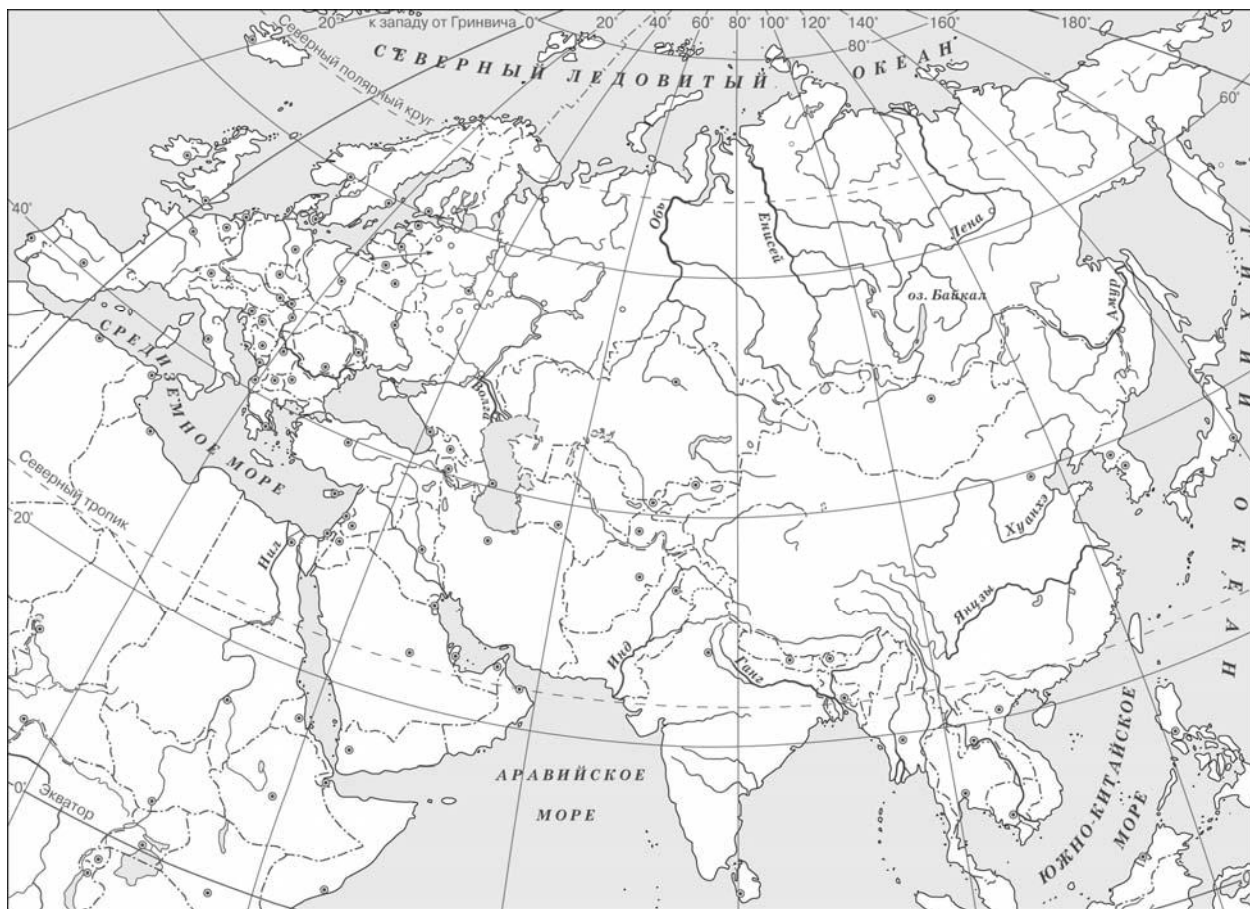
Объясните смысл этого слова (словосочетания).

Ответ: \_\_\_\_\_



5

Заштрихуйте на контурной карте один четырёхугольник, образованный градусной сеткой (параллелями и меридианами), в котором полностью или частично расположена страна, где жил Конфуций.



6

Используя знания исторических фактов, объясните, как природно-климатические условия повлияли на занятия жителей страны, где жил Конфуций.



Ответ: \_\_\_\_\_  
 \_\_\_\_\_  
 \_\_\_\_\_  
 \_\_\_\_\_

