

**Проверочная работа  
по ГЕОГРАФИИ**

**7 КЛАСС**

**Вариант 1**

**Инструкция по выполнению работы**


На выполнение работы по географии даётся 90 минут. Работа включает в себя 8 заданий.

Ответы на задания запишите в поля ответов в тексте работы. В случае записи неверного ответа зачеркните его и запишите рядом новый.

При выполнении работы не разрешается пользоваться учебником, рабочими тетрадями, атласом и другим справочным материалом. Для выполнения задания 2 Вам потребуются калькулятор и карандаш.

При необходимости можно пользоваться черновиком. Записи в черновике проверяться и оцениваться не будут.

Советуем выполнять задания в том порядке, в котором они даны. В целях экономии времени пропускайте задание, которое не удаётся выполнить сразу, и переходите к следующему. Если после выполнения всей работы у Вас останется время, то Вы сможете вернуться к пропущенным заданиям.

Значком  отмечены задания, ответы на которые записываются на картах, приведённых на страницах 2, 11.

***Желаем успеха!***

*Таблица для внесения баллов участника*

Номер задания	1.1	1.2	1.3	1.4	2.1	2.2	2.3	3.1	3.2	3.3	3.4	4.1	4.2	4.3	5.1	5.2
Баллы																
Номер задания	6.1	6.2	6.3	7.1	7.2	8.1	8.2	8.3	Сумма баллов		Отметка за работу					
Баллы																



**Задания 1–3 выполняются с использованием карты мира, приведённой на странице 2.**

1

На карте мира, приведённой на странице 2, изображён маршрут экспедиции одного из путешественников, портреты которых представлены ниже. Рассмотрите карту и портреты путешественников и выполните задания.

1.1. Маршрут экспедиции кого из путешественников изображён на карте?



*Г.И. Шелихов*



*Александр Маккензи*



*Христофор Колумб*

Ответ. \_\_\_\_\_



Подпишите на карте название материка, по которому проходил маршрут экспедиции.



1.2. На карте буквами обозначены объекты, определяющие географическое положение указанного Вами материка.



А	Б	В	Г

1.3. По линии маршрута экспедиции отмечены точки, расположенные на территории крупных географических объектов. Определите и запишите в ответе географические координаты **точки 1**.



Ответ. \_\_\_\_\_

1.4. Прочитайте текст, составленный по запискам путешественников, исследователей и туристов, посещавших объект, на территории которого расположена **точка 1**.

Это озеро привлекает туристов и любителей путешествовать, ведь оно, несмотря на то что давно уже открыто человеком, сохранило свою первозданную красоту и чистоту воды. Буйный и беспокойный нрав озера проявляется во время штормов, которые не дают ему замёрзнуть в морозные зимы. Это самое крупное озеро в системе Великих озёр. Первые французские переселенцы называли его Самое высокое озеро. В нём водятся ценные виды рыб: осётр, корюшка, лосось, форель, сазан, сиг, пресноводная сельдь, судак. Смешанные леса, произрастающие на побережье озера, отличаются многообразием видов хвойных и лиственных деревьев. Здесь можно увидеть также около шестидесяти видов орхидей.

Запишите в ответе название этого географического объекта.



Ответ. \_\_\_\_\_

2

На уроке географии Семён построил профиль рельефа Австралии, представленный на рисунке 1. Используя рисунок 1 и карту мира, приведённую на странице 2, выполните задания.

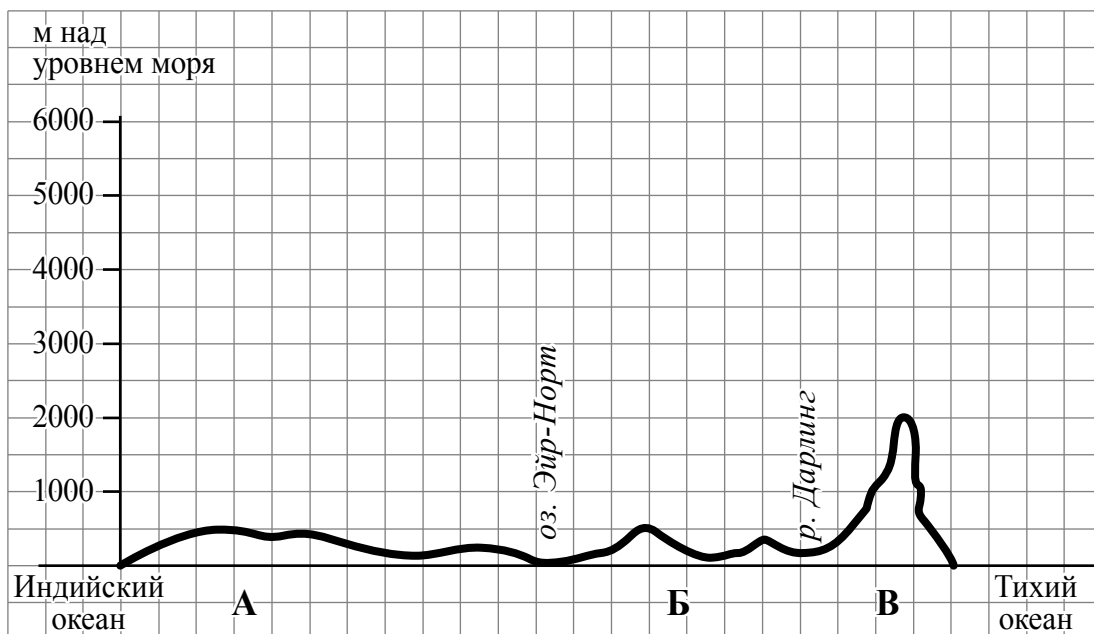


Рисунок 1

2.1. По какому из отрезков, проведённых на карте вдоль трёх параллелей, пересекающих материк Австралия, построен профиль рельефа, представленный на рисунке 1? Укажите в ответе значение параллели.

Ответ. \_\_\_\_\_

Определите по карте протяжённость материка Австралия **в градусах** по указанной Вами параллели.

Ответ. \_\_\_\_\_

Рассчитайте протяжённость материка Австралия по указанной Вами параллели **в километрах** с помощью приведённой ниже таблицы. (Для расчёта воспользуйтесь калькулятором.)

Широта	0°	10°	20°	30°	40°	50°	60°	70°	80°	90°
Длина дуги параллели в 1°, км	111,3	109,6	104,6	96,5	85,4	71,7	55,8	38,2	19,4	0

Ответ. \_\_\_\_\_

2.2. Укажите географическое название крупной формы рельефа, которой соответствует участок профиля, обозначенный на рисунке 1 буквой Б.

Ответ. \_\_\_\_\_

Определите наибольшую абсолютную высоту территории, через которую проходит профиль на этом участке.

Ответ. \_\_\_\_\_

2.3. На рисунке 2 представлены значки, которыми обозначаются месторождения полезных ископаемых на географических картах.




Рисунок 2

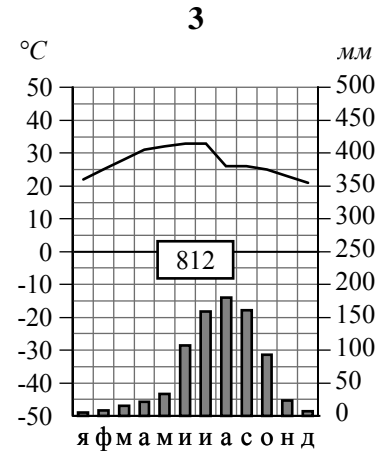
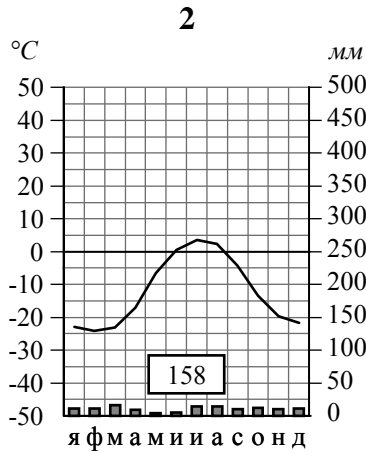
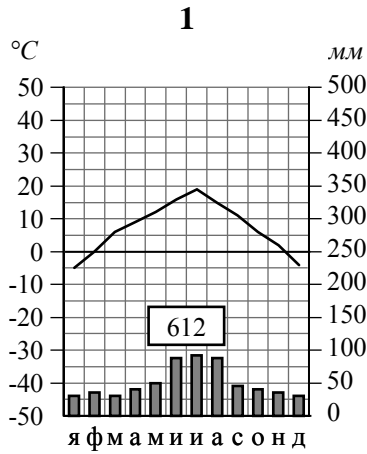
Внесите в таблицу значки, обозначающие месторождения полезных ископаемых, которые добывают на территории, обозначенной на профиле буквой Б.

Нефть	Природный газ	Урановые руды	Полиметаллические руды

3

Рассмотрите рисунки с изображением климатограмм, построенных по данным метеонаблюдений в разных частях Земли, и выполните задания.

3.1. Определите, какому климатическому поясу соответствует каждая климатограмма. Подпишите название климатического пояса под соответствующей климатограммой.



3.2. На карте мира, приведённой на странице 2, территории, для которых построены изображённые на рисунках климатограммы, обозначены пустыми квадратами. Впишите в каждый квадрат на карте номер соответствующей климатограммы.

3.3. Какой природной зоне мира соответствуют приведённые ниже характеристики? Укажите в ответе название этой природной зоны.

- 1) Занимает преимущественно равнинные территории.
- 2) Характерна смена сухого и влажного сезонов года.
- 3) Преобладает травянистый покров с травами, достигающими 3 м в высоту.
- 4) Древесная растительность представлена акациями, веерными пальмами, баобабами.
- 5) Обитают крупные травоядные животные: слоны, жирафы, зебры, антилопы, буйволы, носороги, бегемоты, а также хищники: гепарды, леопарды, шакалы, гиены.

Ответ. \_\_\_\_\_

Выберите климатограмму, соответствующую климатическим особенностям указанной Вами природной зоны. Укажите в ответе её номер.

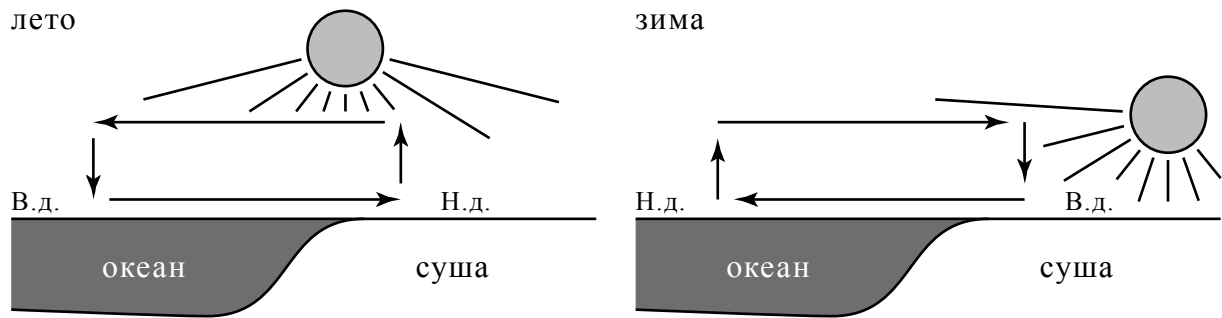
Ответ.

3.4. По выбранной Вами климатограмме заполните таблицу климатических показателей для указанной природной зоны.

Средняя температура воздуха, °C		Годовая амплитуда температур, °C	Годовое количество осадков, мм	Месяц, на который приходится наибольшее количество осадков
в январе	в июле			
<input type="text"/>	<input type="text"/>	<input type="text"/>	<input type="text"/>	<input type="text"/>

4

Рассмотрите схему природного процесса и выполните задания.



Н.д. – низкое давление  
В.д. – высокое давление

4.1. Какой природный процесс отображён на схеме?

Ответ. \_\_\_\_\_

4.2. Установите последовательность этапов указанного Вами природного процесса **в зимний период**. Запишите в ответе **порядковые номера** этапов.

ЭТАПЫ:

- 1) Сухой холодный воздух с суши перемещается в сторону океана.
- 2) Зимой суша охлаждается быстрее, чем океан, и воздух над сушей становится холоднее.
- 3) Океан остывает дольше, чем суша, и над его поверхностью воздух остаётся более тёплым и лёгким.
- 4) Тёплый лёгкий воздух поднимается вверх, и над океаном формируется область пониженного давления.
- 5) Холодный тяжёлый воздух скапливается у поверхности суши, и над сушей формируется область повышенного давления.

Ответ.

--	--	--	--	--

4.3. Для каких регионов мира характерен процесс, отображённый на схеме? Приведите один пример.

Ответ. \_\_\_\_\_

\_\_\_\_\_

5

5.1. Установите соответствие между географическими особенностями и материками, для которых они характерны: для этого к каждой позиции первого столбца подберите соответствующую позицию из второго столбца.

**ГЕОГРАФИЧЕСКИЕ ОСОБЕННОСТИ**

**МАТЕРИКИ**

- А) На материке расположена самая крупная пустыня мира.
  - Б) Материк омывается водами четырёх океанов и имеет сильно изрезанную береговую линию с большим количеством полуостровов, заливов, проливов.
  - В) Материк расположен в двух частях света, которые сильно отличаются друг от друга по природным условиям, а также по культуре и традициям народов.
  - Г) Материк в центральной части пересекается экватором.
  - Д) На материке расположена высочайшая горная система мира, в пределах которой находится самая высокая вершина Земли.
  - Е) На крайнем юге материка обитают пингвины.
- 1) Евразия
  - 2) Африка

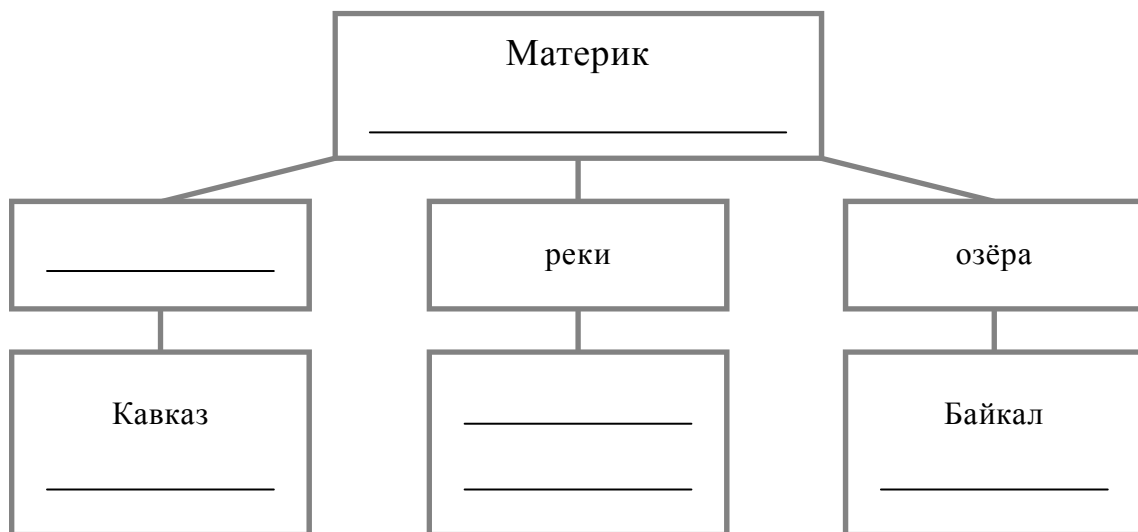
Запишите в таблицу выбранные цифры под соответствующими буквами.

Ответ.

А	Б	В	Г	Д	Е

5.2. В приведённом ниже списке перечислены крупные географические объекты. Выберите из списка названия географических объектов, расположенных на территории одного из указанных в задании 5.1 материков, и заполните схему. Впишите в схему название материка, типы и названия выбранных Вами географических объектов.

*Гималаи, Маракайбо, Анды, Дарлинг, Калахари, Замбези, Янцзы, Виктория, Карибское, Амур, Онежское, Аппалачи*





**Задания 6 и 7 выполняются с использованием политической карты мира, приведённой на странице 11.**

6


Табит и Ченг познакомились на международном фестивале театров в Италии. Табит живёт в столице Египта, а Ченг – в столице Китая. Подростки общаются через Интернет, и при общении им приходится учитывать разницу во времени между их городами.



6.1. На политической карте мира, приведённой на странице 11, выделите штриховкой страны, в которых живут подростки.




6.2. Часы на рисунках отображают время в городах, где живут подростки. Подпишите названия городов под соответствующими часами.



Время по Гринвичу  
12:00 (полдень)



10 апреля  
14:00



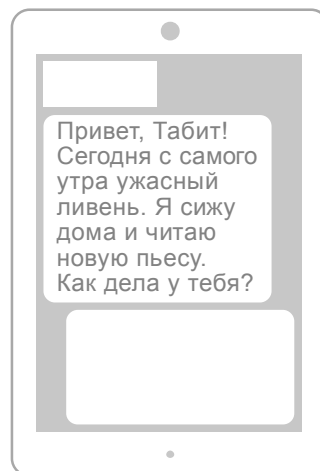
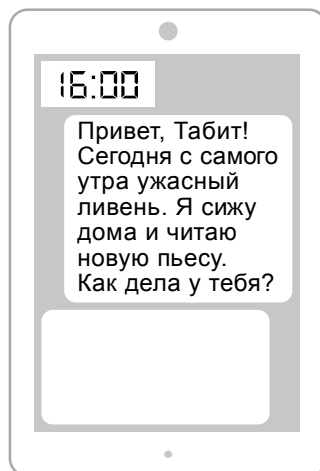
10 апреля  
20:00



6.3. Ченг отправил Табиту электронное сообщение в 16:00 по местному времени.

Ченг

Табит



Какое время будет отображаться в соответствующем окне на экране смартфона Табита, когда он получит сообщение от Ченга?



Ответ. \_\_\_\_\_

7

Используя представленную ниже таблицу и политическую карту мира, приведённую на странице 11, выполните задания.

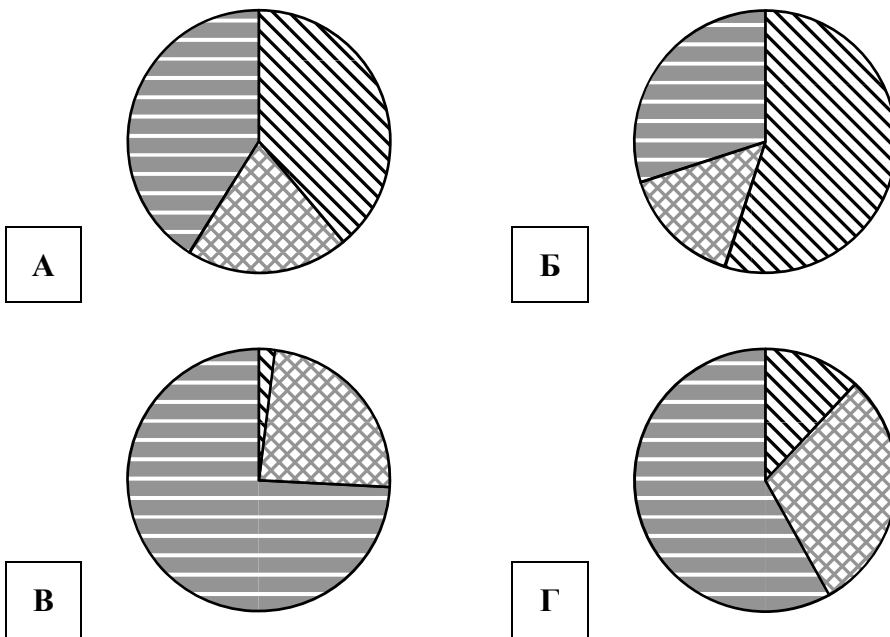
**Занятость населения по отраслям хозяйства, 2017 г.**




№	Страна	Численность занятого населения, млн человек	Доля занятого населения, %		
			в сельском хозяйстве	в промышленности	в сфере услуг
1	Германия	45,9	2	24	74
2	Марокко	12,0	39	20	41
3	Кыргызстан	4,0	55	15	30
4	Польша	17,6	12	30	58



7.1. Подпишите на политической карте мира название страны с наибольшей численностью занятого населения.


7.2. Определите, структуру занятости населения какой страны отражает каждая диаграмма. Запишите в ответе порядковые номера стран под соответствующими буквами.

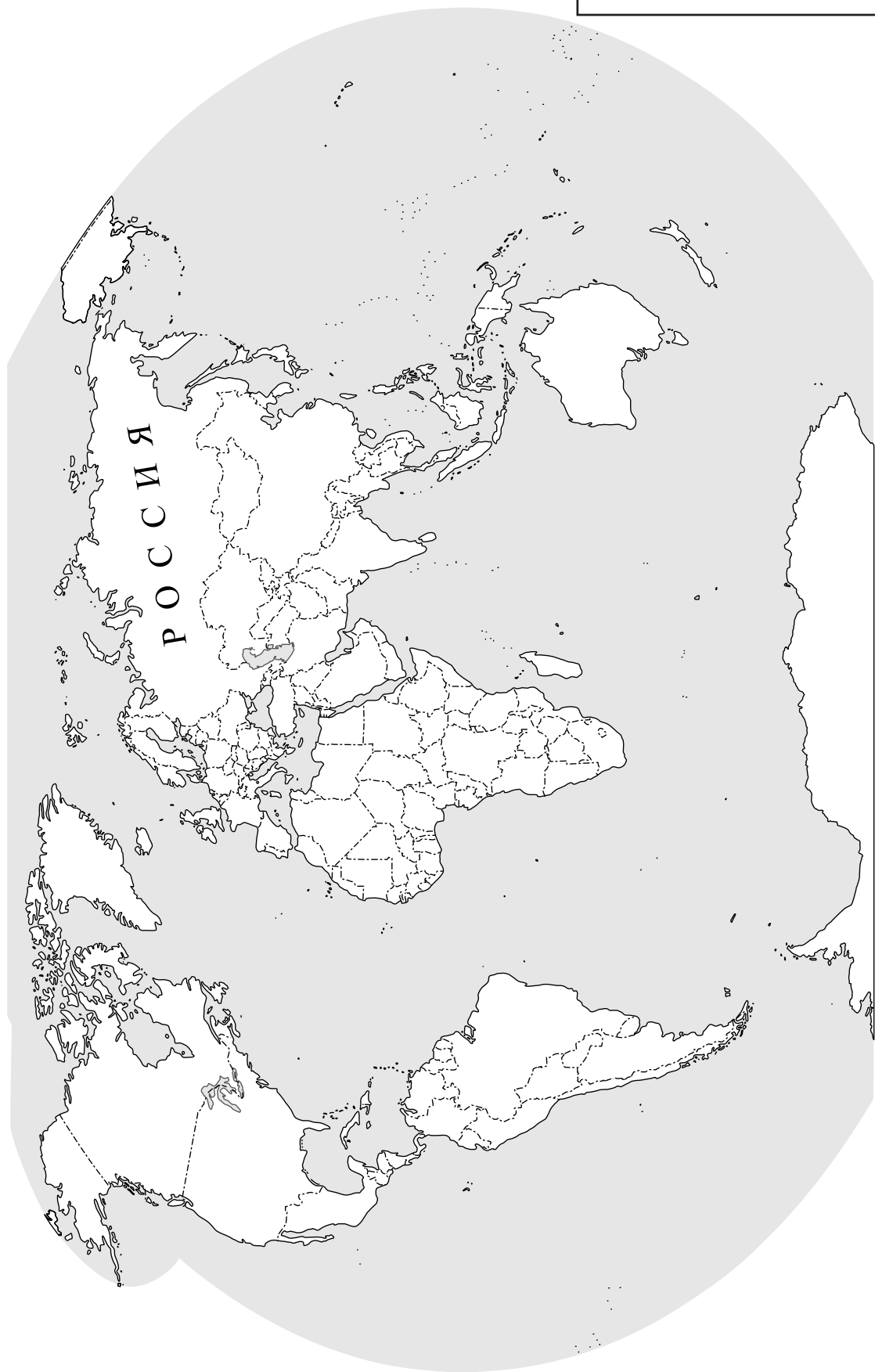


 доля населения, занятого в сельском хозяйстве     
  доля населения, занятого в промышленности     
  доля населения, занятого в сфере услуг

Ответ.

А	Б	В	Г

 Карта для выполнения заданий 6.1, 7.1



8

Представьте, что Вам было поручено взять интервью у зарубежного сверстника, чтобы он познакомил Вас со своей страной. Для иллюстрации этого интервью Вы попросили его прислать несколько фотографий, сделанных в стране, в которой он живёт.

8.1. Рассмотрите фотографии и ответьте на вопрос.



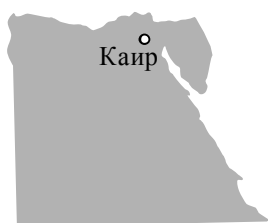
В какой стране живёт Ваш сверстник?

Ответ. \_\_\_\_\_

8.2. Рассмотрите представленные ниже рисунки. Выберите рисунок с контуром страны, в которой живёт Ваш сверстник. Запишите в ответе букву, которой обозначен этот рисунок.



А



Б



В

Ответ.

8.3. Предположите, какие ответы на вопросы о своей стране даст Ваш сверстник в ходе интервью. Запишите их в таблицу.

<b>Вопрос</b>	<b>Ответ</b>
1. В какой части света находится твоя страна?	
2. Какие океаны омывают берега твоей страны?	
3. На каком архипелаге расположена твоя страна?	
4. В каких климатических поясах расположена твоя страна?	
5. Какие полезные ископаемые добывают в твоей стране?	
6. Какую религию исповедует большая часть населения твоей страны?	
7. Какие сельскохозяйственные культуры выращивают в твоей стране?	

