

ВСЕРОССИЙСКАЯ ПРОВЕРОЧНАЯ РАБОТА**БИОЛОГИЯ
11 КЛАСС****Вариант 1****Инструкция по выполнению работы**

Проверочная работа состоит из одной части и включает в себя 14 заданий. На выполнение работы по биологии отводится 1 час 30 минут (90 минут).

Ответом к заданиям является последовательность цифр, число, слово (словосочетание) или короткий свободный ответ, который записывается в отведённом для этого месте работы. В случае записи неверного ответа зачеркните его и запишите рядом **новый**.

При выполнении заданий Вы можете пользоваться черновиком. Записи в черновике не учитываются при оценивании работы. Советуем выполнять задания в том порядке, в котором они даны. Для экономии времени пропускайте задание, которое не удаётся выполнить сразу, и переходите к следующему. Если после выполнения всей работы у Вас останется время, Вы сможете вернуться к пропущенным заданиям.

Баллы, полученные Вами за выполненные задания, суммируются.

Постарайтесь выполнить как можно больше заданий и набрать наибольшее количество баллов.

Желаем успеха!

Таблица для внесения баллов участника

Номер задания	1.1	1.2	2.1	2.2	2.3	3	4	5	6.1	6.2	7	8	9	10.1	10.2	11.1	11.2	12.1	12.2	
Баллы																				

Номер задания	12.3	13	14	Сумма баллов	Отметка за работу
Баллы					

1

На рисунке схематично изображена связь животного с окружающей средой.



□

1.1. Какое общее свойство живых систем иллюстрируют эти связи?

Ответ: _____

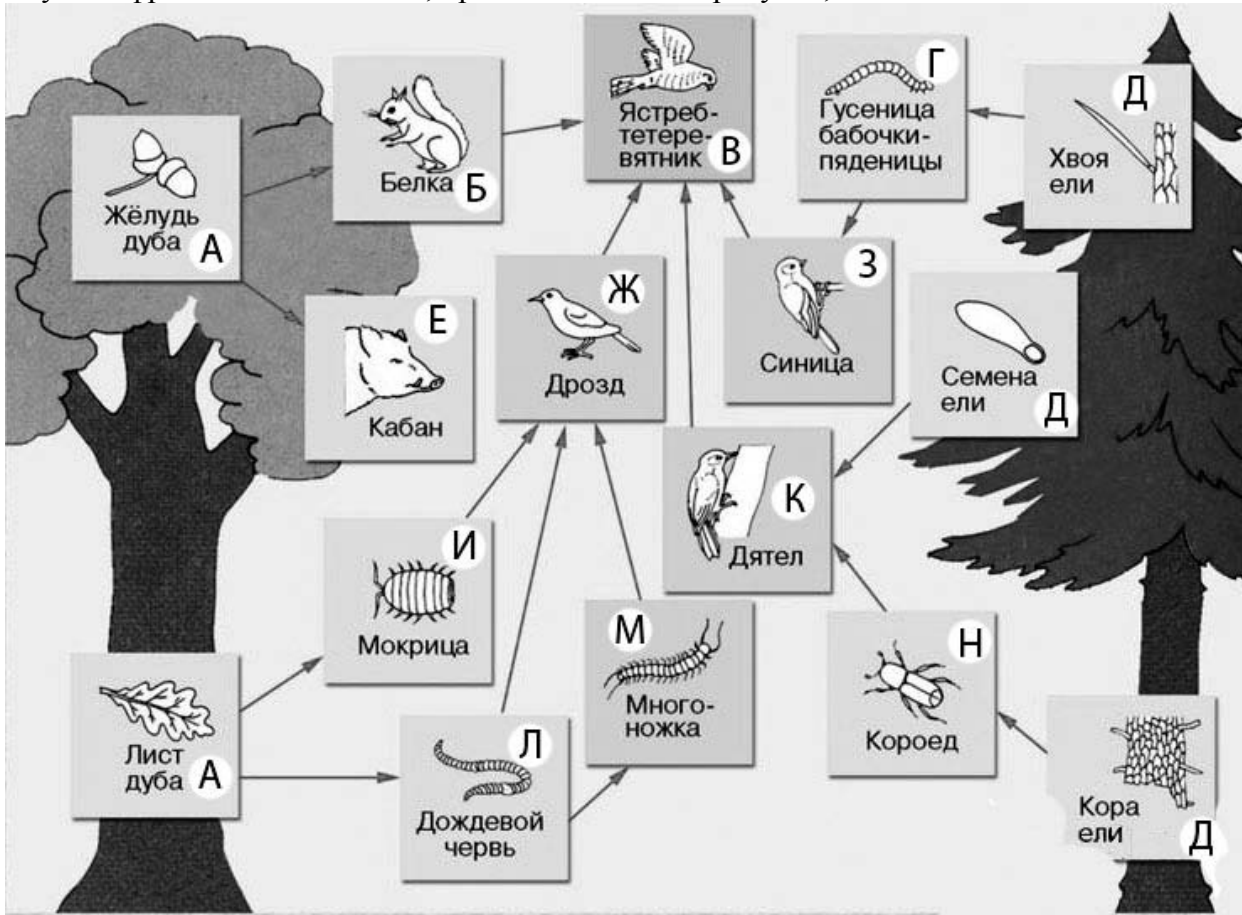
□

1.2. Приведите пример процесса, иллюстрирующего подобное свойство у растений.

Ответ: _____

2

Изучите фрагмент экосистемы, представленный на рисунке, и выполните задания.



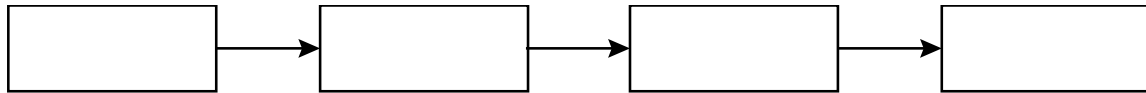
2.1. Выберите из приведённого ниже списка два понятия или термина, которые можно использовать для **экологического описания белки** в экосистеме.

- 1) доминирующий вид
- 2) консумент
- 3) продуцент
- 4) детритофаг
- 5) фитофаг

Ответ:

--	--

2.2. Составьте пищевую цепь из четырёх организмов, в которую входит многоножка. В ответе запишите последовательность букв.



2.3. Правило гласит: «только 10% энергии поступает от каждого предыдущего трофического уровня к последующему». Рассчитайте размер первичной годовой продукции экосистемы (в кДж), если на уровень гусеницы бабочки-пяденицы перешло 62000 кДж. Объясните свои расчёты.

Ответ: _____

3

Рассмотрите рисунок, на котором представлена схема круговорота азота в природе. Название какого процесса должно быть написано на месте вопросительного знака?

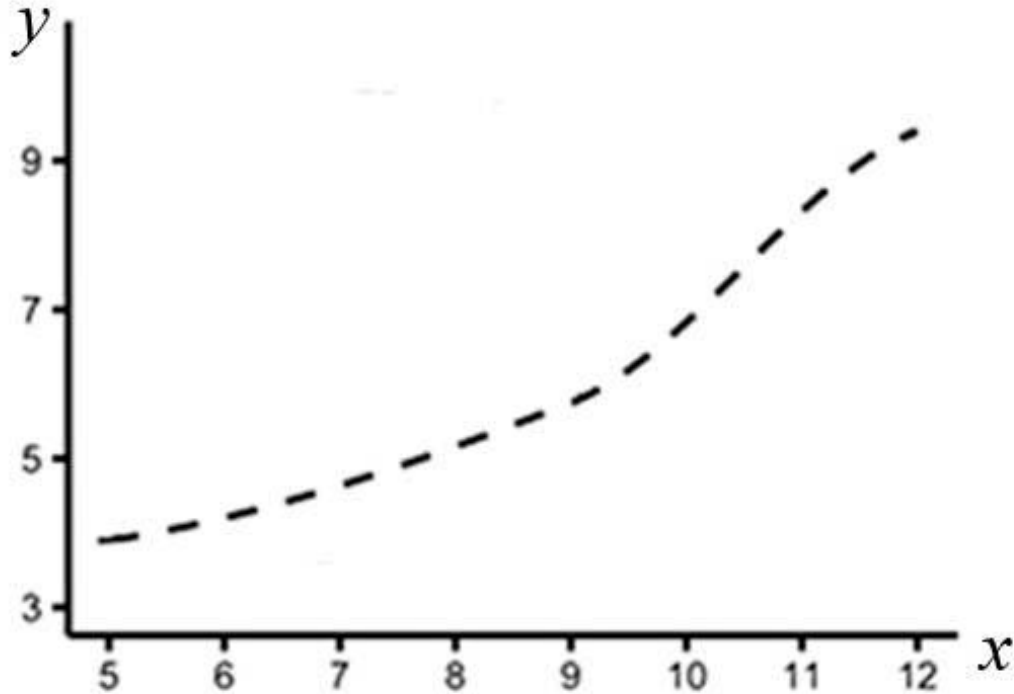


□

Ответ: _____

4

Мария Борисовна изучала зависимость накопления жира от возраста у мышей. Она оценивала массу жировой ткани мышей разного возраста, живших в одинаковых клетках и получавших одинаковое питание. По результатам исследования Мария Борисовна построила график (по оси x отложен возраст мышей (в неделях), а по оси y – масса жира (в г)).



Определите, в каком возрасте у мышей меняется скорость накопления жировой ткани.

Ответ: _____

5

Установите последовательность соподчинения элементов биологических систем, начиная с наибольшего.

Элементы:

- 1) растительное сообщество
- 2) биоценоз
- 3) биосфера
- 4) популяция
- 5) вид
- 6) организм

Запишите в таблицу соответствующую последовательность цифр.

Ответ:

--	--	--	--	--	--	--

6

Около 80% холестерина (примерно 1 г в день) вырабатывается в печени, остальная часть поступает из продуктов, которые мы употребляем.

Холестерин укрепляет мембрану клетки, преобразуется в желчную кислоту, которая помогает в расщеплении жиров в кишечнике, способствует образованию в организме витамина D и гормонов, – тестостерона (у мужчин) и эстрогена (у женщин).

Продукты	Содержание холестерина, г / 100 г продукта	Продукты	Содержание холестерина, г / 100 г продукта
Молоко пастеризованное	0,01	Сосиски (1 сосиска – 40 г)	0,04
Творог нежирный	0,04	Колбаса варёная	0,07
Сыр голландский	0,51	Яйцо куриное (1 яйцо – 50 г)	0,57
Масло сливочное	0,18	Треска	0,03

6.1. Используя данные таблицы, рассчитайте количество холестерина, которое человек получил во время обеда, если в его рационе было: 80 г трески, 5 г сливочного масла, одно куриное яйцо. Ответ округлите до сотых.

Ответ: _____

6.2. В каком отделе головного мозга находятся центры безусловных пищевых рефлексов?

Ответ: _____

7

Определите происхождение болезней, приведённых в списке. Запишите номер каждой из болезней в списке в соответствующую ячейку таблицы. В ячейках таблицы может быть записано несколько номеров.

Список болезней человека:

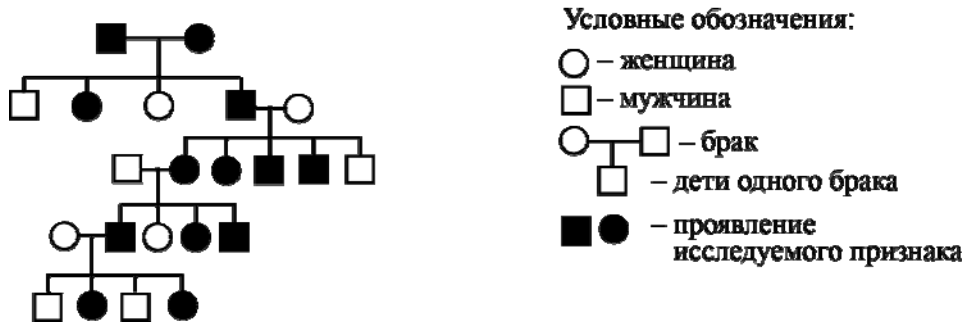
- 1) холецистит
- 2) сальмонеллёз
- 3) фенилкетонурия
- 4) коклюш
- 5) депрессия

Наследственное заболевание (генное)	Приобретённое заболевание	
	Инфекционное	Неинфекционное

8

В медицинской генетике широко используется **генеалогический метод**. Он основан на составлении родословной человека и изучении наследования того или иного признака. В подобных исследованиях используются определённые обозначения. Изучите фрагмент родословного дерева одной семьи, у членов которой встречается преждевременное поседение в возрасте 25 лет.

Фрагмент родословного дерева семьи



Используя предложенную схему, определите, доминантным или рецессивным является данный признак и сцеплен ли он с половыми хромосомами.

Ответ: _____

9

Селекционер скрестил самку чистой линии мыши с прямой шерстью и самца чистой линии мыши с извитой шерстью. В результате скрещивания получилось гибридное потомство с прямой шерстью. Определите генотипы исходных самки, самца мышей и полученного гибридного потомства по указанному признаку.

Ответы занесите в таблицу.

Генотип самки мыши с прямой шерстью	Генотип самца мыши с извитой шерстью	Генотип гибридного потомства с прямой шерстью

10

Олег решил сдать кровь в качестве донора. При заборе крови выяснилось, что у Олега вторая группа. Олег знает, что у его матери третья группа крови.

		Группа крови отца				
		I (0)	II (A)	III (B)	IV (AB)	
Группа крови матери	I (0)	I (0)	II (A) I (0)	III (B) I (0)	II (A) III (B)	Группа крови ребёнка
	II (A)	II (A) I (0)	II (A) I (0)	Любая	II (A), III (B) IV (AB)	
	III (B)	III (B) I (0)	Любая	III (B) I (0)	II (A), III (B) IV (AB)	
	IV (AB)	II (A) III (B)	II (A), III (B) IV (AB)	II (A), III (B) IV (AB)	II (A), III (B) IV (AB)	

10.1. Какая группа крови может быть у отца Олега?

Ответ: _____

10.2. Руководствуясь правилами переливания крови, определите, может ли Олег быть донором крови для своего отца.

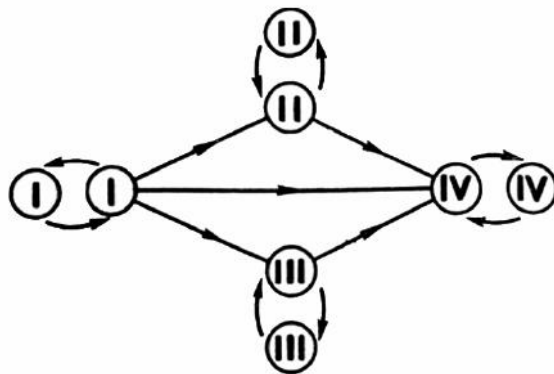
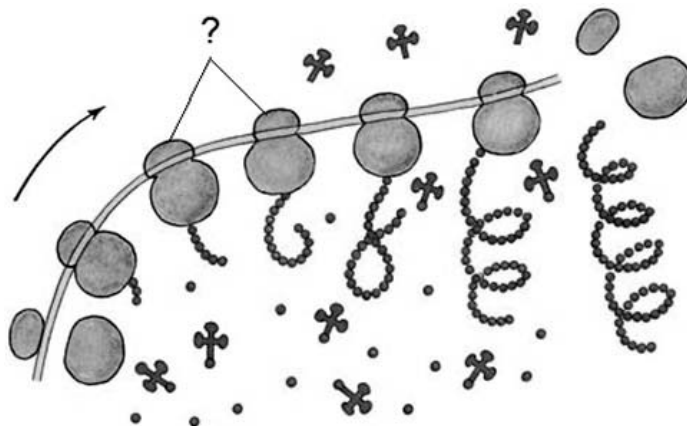


Рисунок. Правила переливания крови

Ответ: _____

11

На рисунке изображена полисома. Эта структура выполняет важнейшую роль в реализации наследственной информации в клетке.



11.1. Какие органоиды, обозначенные вопросительным знаком, образуют полисому?

Ответ: _____

11.2. Объясните, какой процесс происходит на полисоме и с какой целью органоиды объединяются в эту структуру.

Ответ: _____

12

Фрагмент транскрибируемой цепи молекулы ДНК имеет следующую последовательность:

АТГАЦЦТЦАГГАТГЦ

Определите последовательность участка иРНК, матрицей для синтеза которого послужил этот фрагмент ДНК, и аминокислотную последовательность белка, которая кодируется этим фрагментом ДНК. При выполнении задания воспользуйтесь правилом комплементарности и таблицей генетического кода.

Таблица генетического кода (и-РНК)

Первое основание	Второе основание				Третье основание
	У	Ц	А	Г	
У	Фен	Сер	Тир	Цис	У
	Фен	Сер	Тир	Цис	Ц
	Лей	Сер	—	—	А
	Лей	Сер	—	Три	Г
Ц	Лей	Про	Гис	Арг	У
	Лей	Про	Гис	Арг	Ц
	Лей	Про	Глн	Арг	А
	Лей	Про	Глн	Арг	Г
А	Иле	Тре	Асн	Сер	У
	Иле	Тре	Асн	Сер	Ц
	Иле	Тре	Лиз	Арг	А
	Мет	Тре	Лиз	Арг	Г
Г	Вал	Ала	Асп	Гли	У
	Вал	Ала	Асп	Гли	Ц
	Вал	Ала	Глу	Гли	А
	Вал	Ала	Глу	Гли	Г

Правила пользования таблицей

Первый нуклеотид в триplete берётся из левого вертикального ряда, второй – из верхнего горизонтального ряда и третий – из правого вертикального. Там, где пересекутся линии, идущие от всех трёх нуклеотидов, и находится искомая аминокислота.

Ответ:

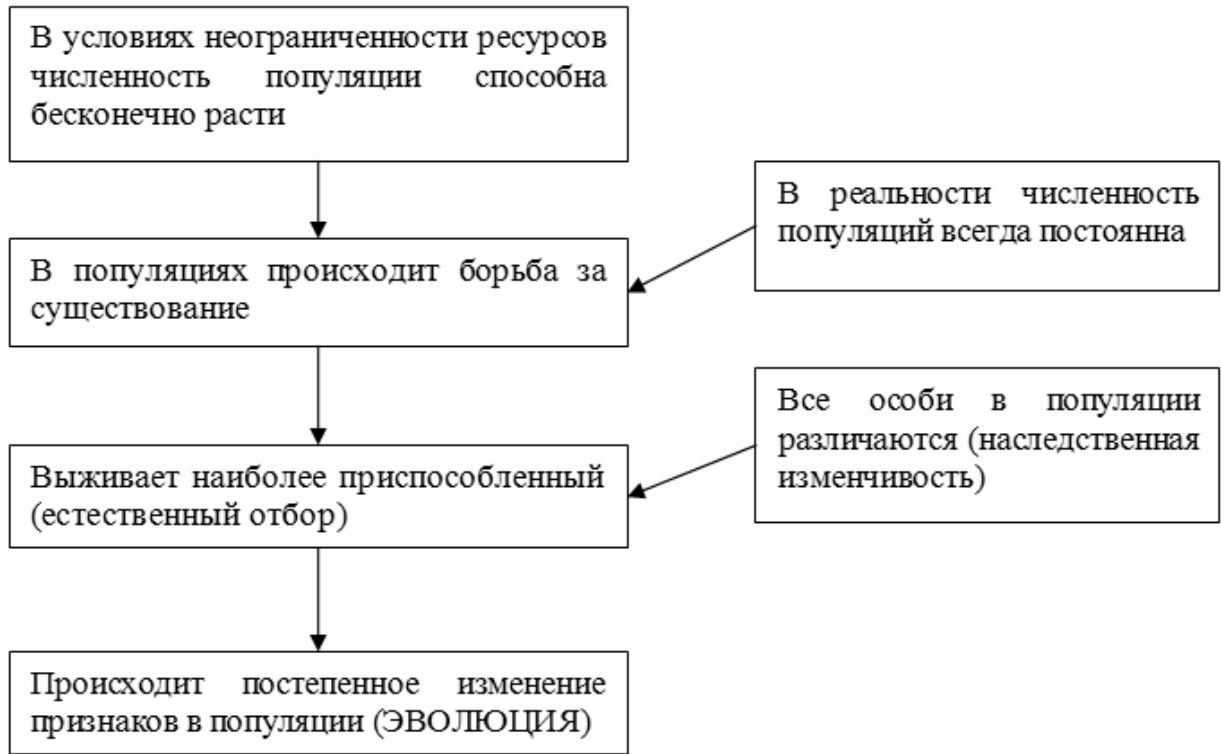
12.1 иРНК:

12.2 Белок:

12.3. При расшифровке генома мартышки было установлено, что во фрагменте молекулы ДНК доля аденина составляет 40%. Пользуясь правилом Чаргаффа, описывающим количественные соотношения между различными типами азотистых оснований в ДНК ($A = T, G = C$), рассчитайте количество (в %) в этой пробе нуклеотидов с гуанином.

Ответ:

13 Современную эволюционную теорию можно представить в виде следующей схемы.



Объясните, руководствуясь этой схемой, формирование способности менять окраску у предков современного хамелеона.



Ответ: _____

14

На рисунке изображён ракоскорпион – вымершее животное, обитавшее примерно 470–299 млн лет назад.



Используя фрагмент геохронологической таблицы, установите эру и периоды, в которые обитал данный организм, а также установите родственную ему группу животных.

Геохронологическая таблица

ЭРА		Период и продолжительность (в млн лет)	Животный и растительный мир
Название и продолжительность (в млн лет)	Начало (млн лет назад)		
Кайнозойская, 67	67	Антропоген, 1,5	Появление и развитие человека. Формирование существующих растительных сообществ. Животный мир принял современный облик
		Неоген, 23,5	Господство млекопитающих и птиц
		Палеоген, 42	Появление хвостатых лемуринов, позднее – парапитеков, дриопитеков. Бурный расцвет насекомых. Продолжается вымирание крупных пресмыкающихся. Исчезают многие группы головоногих моллюсков. Господство покрытосеменных растений
Мезозойская, 163	230	Мел, 70	Появление высших млекопитающих и настоящих птиц, хотя зубастые птицы ещё распространены. Преобладают костистые рыбы. Сокращение многообразия папоротников и голосеменных растений. Появление и распространение покрытосеменных растений
		Юра, 58	Появление первых птиц, примитивных млекопитающих, расцвет динозавров. Господство голосеменных. Процветание головоногих моллюсков
		Триас, 35	Начало расцвета пресмыкающихся. Появление костистых рыб

Палеозойская, 295	Нет точных данных	Пермь, 55	Вымирание трилобитов. Возникновение зверозубых пресмыкающихся. Исчезновение каменноугольных лесов
		Карбон, 63	Расцвет земноводных. Появление первых пресмыкающихся. Характерно разнообразие насекомых. Расцвет гигантских хвощей, плаунов, древовидных папоротников
		Девон, 60	Быстрая эволюция рыб. В позднем девоне многие группы древних рыб вымерли. Суша подверглась нашествию множества членистоногих. Появились первые земноводные. Появились споровые хвощи и плауны
		Силур, 25	Происходит активное рифостроительство. Распространены ракоскорпионы. Растения заселяют берега водоёмов
		Ордовик, 42	Множество бесчелюстных рыб. Появляются различные виды водорослей. В конце появляются первые наземные растения
		Кембрий, 56	В ходе грандиозного эволюционного взрыва возникло большинство современных типов животных. В океанах и морях многообразие водорослей

Эра: _____

Периоды: _____

Возможные родственники среди современных животных: _____