

**Проверочная работа
по ИСТОРИИ**

5 класс

Вариант 2

Инструкция по выполнению работы

На выполнение работы по истории даётся 45 минут. Работа состоит из двух частей и включает в себя 8 заданий. Часть 1 работы содержит задания по истории Древнего мира, в части 2 предложены задания по истории родного края.

Ответы на задания запишите в поля ответов в тексте работы. В случае записи неверного ответа зачеркните его и запишите рядом новый.

При выполнении работы не разрешается пользоваться учебником, рабочими тетрадями и другими справочными материалами.

При необходимости можно пользоваться черновиком. Записи в черновике проверяться и оцениваться не будут.

Советуем выполнять задания в том порядке, в котором они даны. В целях экономии времени пропускайте задание, которое не удаётся выполнить сразу, и переходите к следующему. Если после выполнения всей работы у Вас останется время, то Вы сможете вернуться к пропущенным заданиям.

Желаем успеха!

Таблица для внесения баллов участника

| Номер задания | 1 | 2 | 3 | 4 | 5 | 6 | 7 | 8 | Сумма баллов | Отметка за работу |
|---------------|---|---|---|---|---|---|---|---|--------------|-------------------|
| Баллы | | | | | | | | | | |

Часть 1

В этой части работы даны задания по истории Древнего мира.

Прочтите перечень из четырёх тем и выполните задания, относящиеся к этому перечню.

Перечень тем

А) Древний Египет


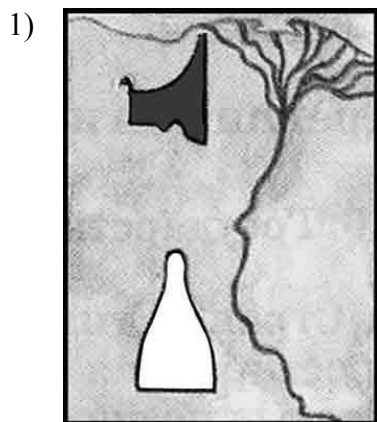
Б) Древняя Греция

В) Древний Китай

Г) Древняя Индия

1

Каждая из иллюстраций, приведённых ниже, относится к одной из указанных в перечне тем. Установите соответствие между темами и иллюстрациями: к каждой теме подберите по одной иллюстрации.



Запишите в таблицу выбранные цифры под соответствующими буквами.

Ответ:

| А | Б | В | Г |
|---|---|---|---|
| | | | |

Перечень тем

А) Древний Египет

Б) Древняя Греция

В) Древний Китай

Г) Древняя Индия

2

Прочтите отрывок из легенды и определите, к какой из данных тем он относится. В ответе напишите букву, которой обозначена эта тема.

«Немало опасностей и приключений выпало на долю Гаутамы после просветления. Однажды в горах близ Матхуры он был схвачен дикарями, заставлявшими чужеземцев разгадывать загадки и при неправильных ответах их убивавшими. Будде удалось убедить нечестивцев отказаться от их образа жизни, а некоторых сделать своими последователями. В другой раз Будда отправился в стан свирепого разбойника Ангулималы, убивавшего каждого встречного. Поражённый бесстрашием гостя, разбойник выслушал его, присоединился к его последователям и кончил жизнь буддийским монахом. Ему приходилось сталкиваться с презрением со стороны людей, видевших в каждом, не занятом повседневным трудом и питающемся подаянием, бродягу и бездельника, и с открытой ненавистью таких же, как он, бродячих проповедников, считавших его опасным соперником».

Ответ:

Выберите одну тему из перечня, а затем выполните относящиеся к этому перечню задания только по выбранной Вами теме. Перед выполнением каждого из относящихся к перечню заданий укажите букву, которой обозначена выбранная тема. Указанные в заданиях буквы должны быть одинаковыми.

3

Выбранная тема: (укажите букву в перечне).

Прочтите список слов и напишите слово, относящееся к выбранной Вами теме.

Филистимляне, фараон, Пирей, Ниневия, брахманы, Хуанхэ.

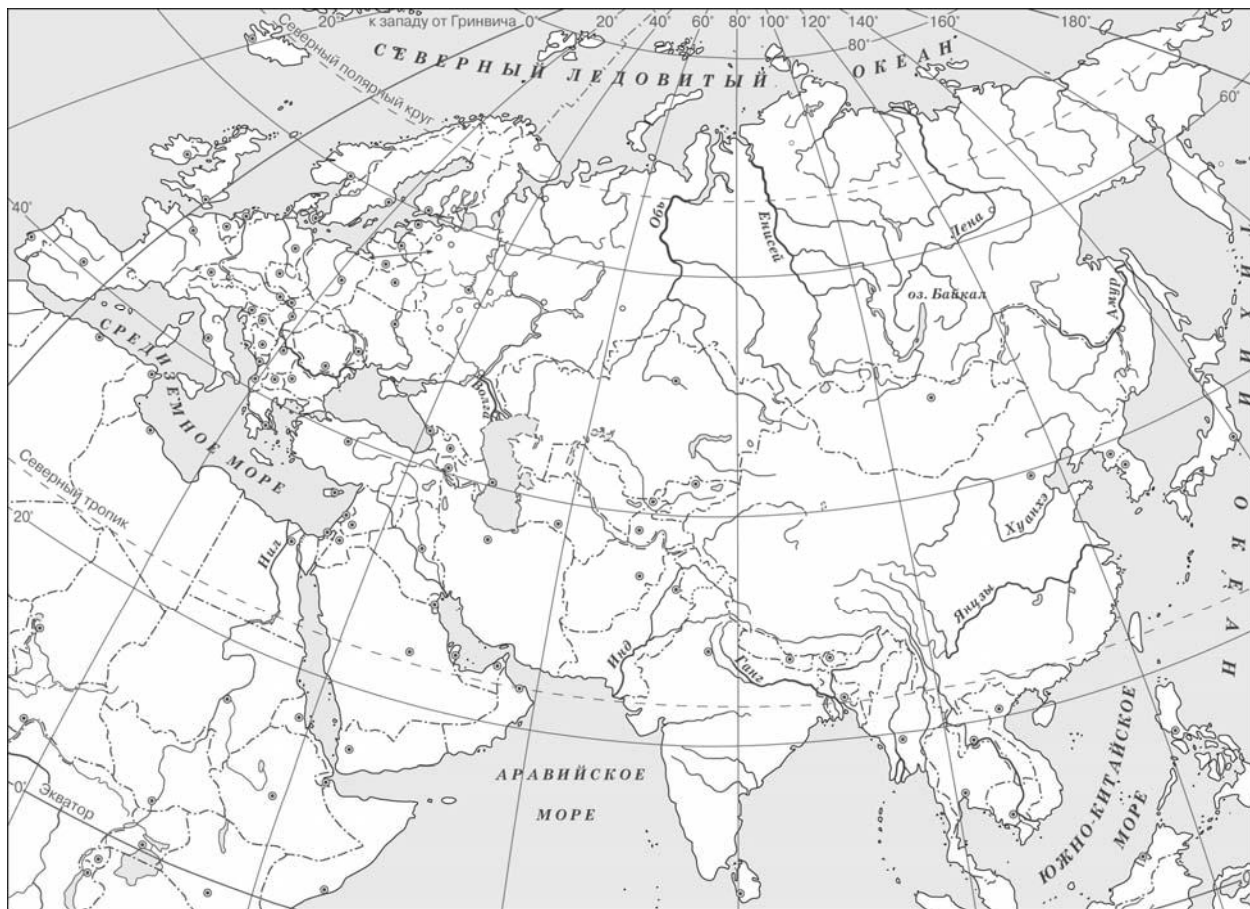
Ответ: _____

Объясните смысл этого слова.

Ответ: _____

5

Заштрихуйте на контурной карте один четырёхугольник, образованный градусной сеткой (параллелями и меридианами), в котором полностью или частично находится река Тигр.



6

Используя знания исторических фактов, объясните, как природно-климатические условия повлияли на занятия жителей территории, расположенной в бассейне реки Тигр.



Ответ: _____

Часть 2

Вспомните важнейшие события истории Вашего региона или населённого пункта и выполните задания 7 и 8.

7 Укажите одно любое название населённого пункта или улицы в вашем регионе, в котором отразилось какое-либо историческое событие (явление, процесс).

Ответ: _____

8 Какое значение имело событие (явление, процесс), отражённое в указанном Вами названии, для Вашего региона, или населённого пункта, или нашей страны, или мира в целом?
