

**Проверочная работа
по ИСТОРИИ**

5 класс

Вариант 1

Инструкция по выполнению работы

На выполнение работы по истории даётся 45 минут. Работа состоит из двух частей и включает в себя 8 заданий. Часть 1 работы содержит задания по истории Древнего мира, в части 2 предложены задания по истории родного края.

Ответы на задания запишите в поля ответов в тексте работы. В случае записи неверного ответа зачеркните его и запишите рядом новый.

При выполнении работы не разрешается пользоваться учебником, рабочими тетрадями и другими справочными материалами.

При необходимости можно пользоваться черновиком. Записи в черновике проверяться и оцениваться не будут.

Советуем выполнять задания в том порядке, в котором они даны. В целях экономии времени пропускайте задание, которое не удаётся выполнить сразу, и переходите к следующему. Если после выполнения всей работы у Вас останется время, то Вы сможете вернуться к пропущенным заданиям.

Желаем успеха!

Таблица для внесения баллов участника

Номер задания	1	2	3	4	5	6	7	8	Сумма баллов	Отметка за работу
Баллы										

Часть 1

В этой части работы даны задания по истории Древнего мира.

Прочтите перечень из четырёх тем и выполните задания, относящиеся к этому перечню.

Перечень тем

А) Древняя Греция

Б) Древняя Индия


В) Древний Египет

Г) шумерские города-государства


1

Каждая из иллюстраций, приведённых ниже, относится к одной из указанных в перечне тем. Установите соответствие между темами и иллюстрациями: к каждой теме подберите по одной иллюстрации.

1)



2)



3)



4)



Запишите в таблицу выбранные цифры под соответствующими буквами.

Ответ:

А	Б	В	Г

Перечень тем

А) Древняя Греция

Б) Древняя Индия

В) Древний Египет

Г) шумерские города-государства

2

Прочтите отрывок из исторического источника и определите, к какой из данных тем он относится. В ответе напишите букву, которой обозначена эта тема.

«Время от времени старшины над молодыми спартиатами посылали тех, кто проявлял наибольшую сообразительность, бродить по стране без определённой цели; они не брали с собой ничего, кроме короткого меча и необходимых съестных припасов. Днём они рассеивались по прикрытым местам, прятались там и спали, по ночам же выходили на дороги, и тех из илотов, которые попадались им в руки, они закалывали. Часто также, проходя по полям, они убивали самых крепких и сильных илотов.

И во всём остальном спартиаты поступали с илотами сурово и жестоко. Кто говорит, что в Спарте свободные пользуются наивысшей свободой, а рабы пребывают в самом тяжёлом порабощении, тот хорошо понимает разницу в их положении».

Ответ:

Выберите одну тему из перечня, а затем выполните относящиеся к этому перечню задания только по выбранной Вами теме. Перед выполнением каждого из относящихся к перечню заданий укажите букву, которой обозначена выбранная тема. Указанные в заданиях буквы должны быть одинаковыми.

3

Выбранная тема: (укажите букву в перечне).

Прочтите список слов (словосочетаний) и напишите слово (словосочетание), относящееся к выбранной Вами теме.

Анубис, «сын неба», «Рамаяна», Гильгамеш, минотавр, «царство стран».

Ответ: _____

Объясните смысл этого слова (словосочетания).

Ответ: _____

Перечень тем	
А) Древняя Греция	Б) Древняя Индия
В) Древний Египет	Г) шумерские города-государства

4

Выбранная тема: (укажите букву в перечне).

Прочтите список событий (явлений, процессов) и напишите событие (явление, процесс), которое относится к выбранной Вами теме.

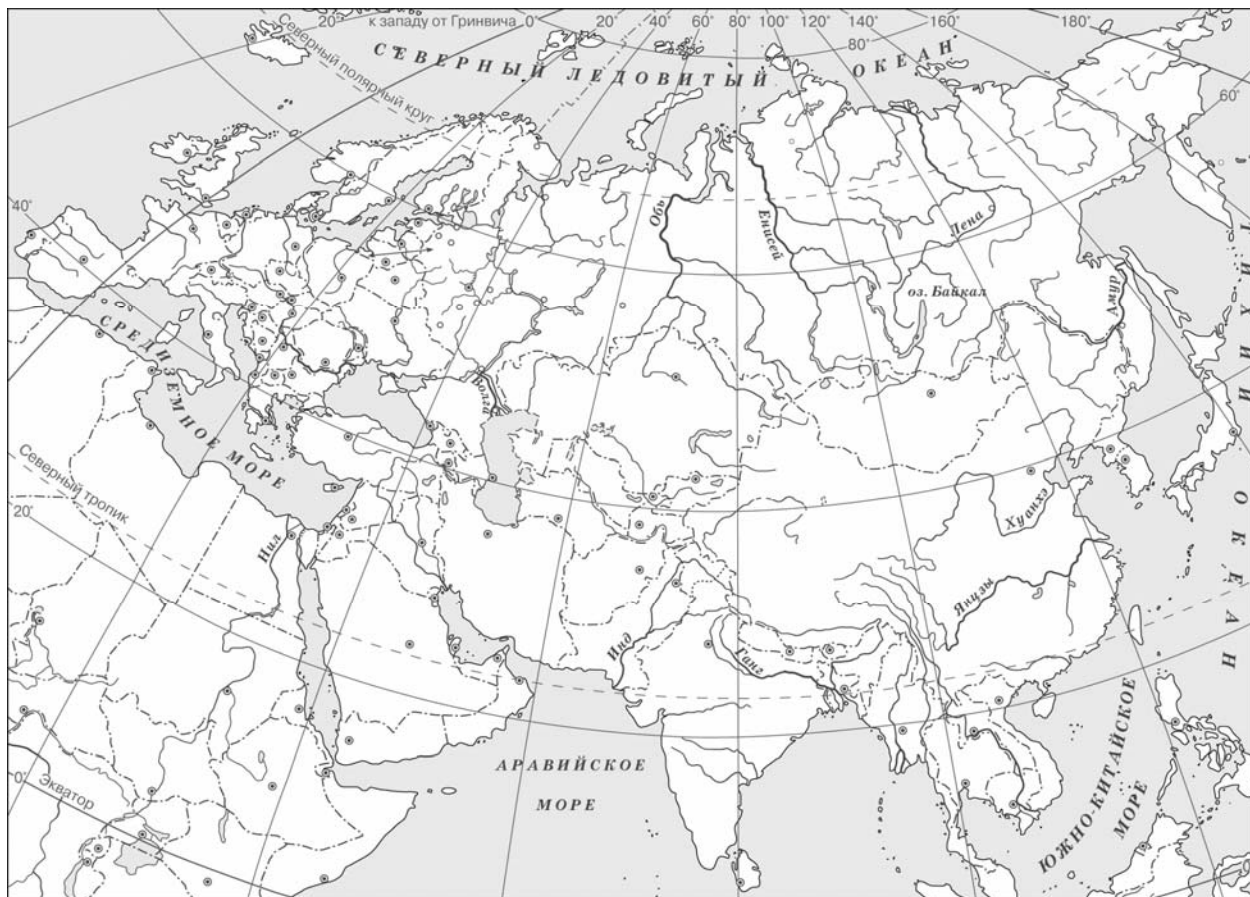
Создание первого алфавита, легенда о принце Гаутаме, реформы Солона, завоевания фараона Тутмоса III, переход Ганнибала через Альпы, возникновение первых государств в Двуречье.

Ответ: _____

Используя знания по истории, расскажите об этом событии (явлении, процессе). Ваш рассказ должен содержать не менее двух исторических фактов.

5

Заштрихуйте на контурной карте четырёхугольник, образованный градусной сеткой (параллелями и меридианами), в котором был расположен город Вавилон.



6

Используя знания исторических фактов, объясните, как природно-климатические условия повлияли на занятия жителей территории, на которой расположен город Вавилон.

Ответ: _____

Часть 2

Вспомните важнейшие события истории Вашего региона или населённого пункта и выполните задания 7 и 8.

7 Назовите одно любое историческое событие (явление, процесс), произошедшее в Вашем регионе.

Ответ: _____

8 Какое значение имело указанное Вами событие (явление, процесс) для Вашего региона, или населённого пункта, или нашей страны, или мира в целом?
