

**Проверочная работа
по ИСТОРИИ**

7 класс

Вариант 2

Инструкция по выполнению работы

На выполнение работы по истории даётся 45 минут. Работа включает в себя 9 заданий. Часть 1 работы посвящена истории России и истории зарубежных стран (история Нового времени), в части 2 предложено задание, связанное с памятью народа России о Великой Отечественной войне.

Ответы на задания запишите в поля ответов в тексте работы. В случае записи неверного ответа зачеркните его и запишите рядом новый.

При необходимости можно пользоваться черновиком. Записи в черновике проверяться и оцениваться не будут.

Советуем выполнять задания в том порядке, в котором они даны. В целях экономии времени пропускайте задание, которое не удаётся выполнить сразу, и переходите к следующему. Если после выполнения всей работы у Вас останется время, то Вы сможете вернуться к пропущенным заданиям.

Желаем успеха!

Заполняется учителем, экспертом или техническим специалистом

Обратите внимание: в случае, если какие-либо задания не могли быть выполнены целым классом по причинам, связанным с отсутствием соответствующей темы в реализуемой школой образовательной программе, в форме сбора результатов ВПР всем обучающимся класса за данное задание вместо балла выставляется значение «Тема не пройдена». В соответствующие ячейки таблицы заполняется н/п.

Таблица для внесения баллов участника

Номер задания	1	2	3	4	5	6	7	8	9	Сумма баллов	Отметка за работу
Баллы											

Часть 1

В этой части работы даны задания по истории России и истории зарубежных стран в Новое время.

1

Установите соответствие между событиями (процессами) и их участниками: к каждой позиции первого столбца подберите соответствующую позицию из второго столбца.

СОБЫТИЯ (ПРОЦЕССЫ)

- А) введение опричнины
 Б) борьба с польско-литовской интервенцией в период Смутного времени
 В) завоевание Испанией государства ацтеков

УЧАСТНИКИ

- 1) Малюта Скуратов
 2) патриарх Иов
 3) Иван Сусанин
 4) Васко да Гама
 5) Эрнан Кортес

Запишите в таблицу выбранные цифры под соответствующими буквами.

Ответ:

А	Б	В

2

Запишите термин, о котором идёт речь.

Повинность зависимых крестьян, обязанных отдавать часть продуктов собственного труда или денег владельцу земли за право проживания за ней.

Ответ: _____.

Прочтите отрывок из исторического источника и выполните задание 3.

«Сперва, когда наши на границе подошли к первой московской крепости, называвшейся Моравск, тамошняя чернь, связав воевод, отдала царевичу и крепость, и слободы. А оттуда пошли к другой крепости – Чернигов, где также чернь, связав воевод, вступила в войско царевича и присягнула ему. И после пошли наши под Новгород-Северский, третью московскую крепость, в которой застали царское войско, и до 1000 стрельцов там оборонялось. Восемь недель пытались наши взять эту третью крепость. Пока длилась осада, по точным подсчётам, пришло на помощь "Москве" 40 000 человек, но наши их, с Божьей помощью, разбили в последний день декабря».

3

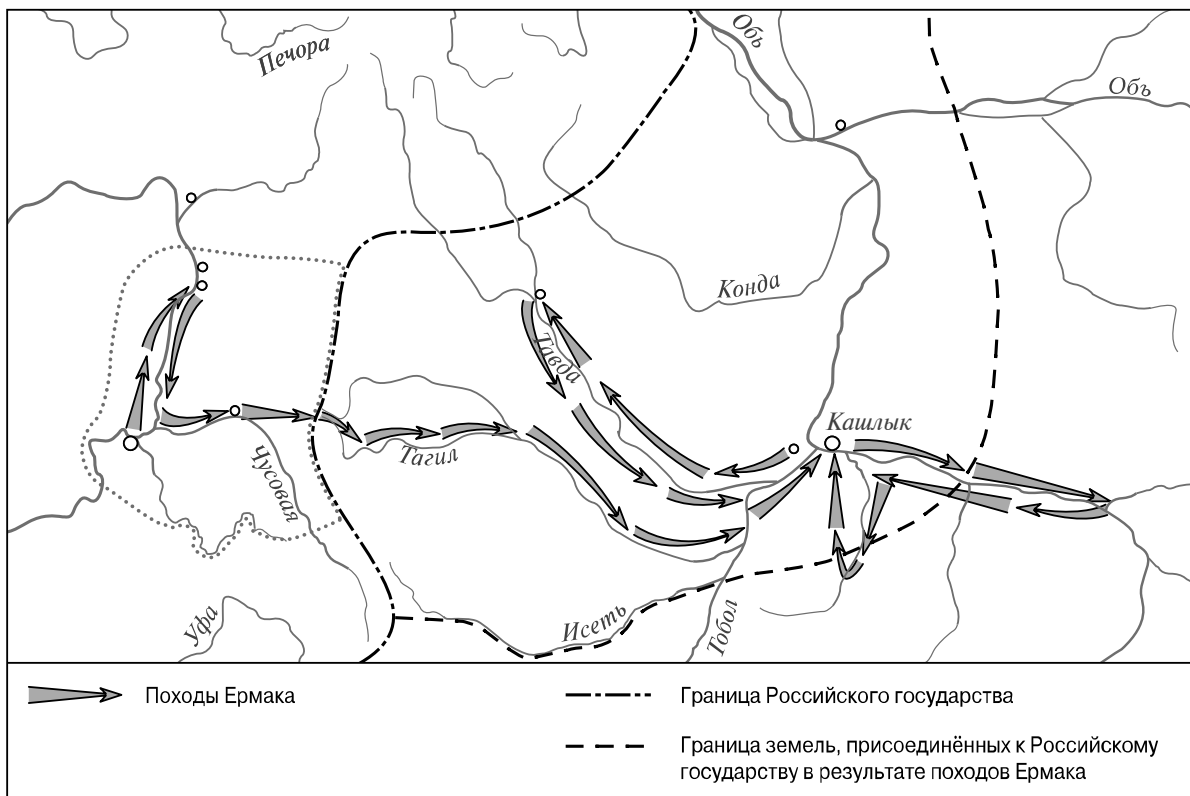
Укажите российского монарха, в период правления которого произошли описанные в отрывке события.

Ответ: _____

Укажите российскую правящую династию, представителем которой назвался упомянутый в отрывке «царевич».

Ответ: _____

Рассмотрите карту и выполните задания 4, 5.



4 Заполните пропуск в предложении (укажите монарха): «Походы, обозначенные на карте стрелками, были совершены в период правления в России _____».



□ Ответ: _____.

5 Подпишите на карте реку Иртыш и владения купцов Строгановых.

□

Ознакомьтесь с приведённым перечнем и изображениями памятников культуры и выполните задания 6, 7.

- 1) «Житие Сергия Радонежского»
- 2) «История о великом князе Московском»



6) Какие из приведённых памятников культуры были созданы в XVI в.? Выберите **два** памятника культуры и запишите в таблицу цифры, под которыми они указаны.

Ответ:

--	--

7) Какой из приведённых памятников культуры относится к памятникам светской культуры? Укажите порядковый номер этого памятника культуры.

Ответ:

--

8) Укажите с точностью до десятилетия время, когда состоялся Стоглавый собор. Укажите монарха, правившего в России в этот период. Приведите один любой факт, характеризующий Стоглавый собор.

Время: _____

Монарх: _____

Факт: _____

Часть 2

9

Рассмотрите изображение и выполните задание.



Укажите год, когда окончилась война, которой посвящено данное изображение. Почему советские солдаты – участники этой войны – пользуются безграничным уважением людей во всём мире?

□ Ответ: _____
