

**Всероссийская проверочная работа**  
**по профильному учебному предмету «ИНФОРМАТИКА»**  
**для обучающихся первых курсов по очной форме обучения по образовательным**  
**программам среднего профессионального образования на базе основного общего**  
**образования**

**Вариант 94404**

**Инструкция по выполнению работы**

На выполнение работы по информатике отводится 2 часа 30 минут (150 минут). Работа включает в себя 15 заданий.

Ответы на задания 1–12 запишите в поля ответов в тексте работы. В случае записи неверного ответа зачеркните его и запишите рядом новый.

Результатом выполнения каждого из заданий 13–15 является отдельный файл. Формат файла, его имя и каталог для сохранения Вам сообщат организаторы.

При выполнении работы не разрешается пользоваться учебником, рабочими тетрадями и другими справочными материалами.

При необходимости можно пользоваться черновиком. Записи в черновике проверяться и оцениваться не будут.

Советуем выполнять задания в том порядке, в котором они даны. В целях экономии времени пропускайте задание, которое не удаётся выполнить сразу, и переходите к следующему. Если после выполнения всей работы у Вас останется время, то Вы сможете вернуться к пропущенным заданиям.

Баллы, полученные Вами за выполненные задания, суммируются. Постарайтесь выполнить как можно больше заданий и набрать наибольшее количество баллов.

***Желаем успеха!***

*Таблица для внесения баллов участника*

Номер задания	1	2	3	4	5	6	7	8	9	10	11	12	13	14	15	Сумма баллов	Отметка за работу
Баллы																	

- 1 В кодировке КОИ-8 каждый символ кодируется 8 битами.  
Вова написал текст (в нём нет лишних пробелов):

«Алый, синий, фуксия, красный, янтарный, оранжевый, фиолетовый, канареечный, баклажановый – цвета».

Ученик вычеркнул из списка название одного цвета. Заодно он вычеркнул ставшие лишними запятую и пробел – два пробела не должны идти подряд.

При этом размер нового предложения в данной кодировке оказался на 7 байт меньше, чем размер исходного предложения. Напишите в ответе вычеркнутое название цвета.

Ответ: \_\_\_\_\_.

- 2 Разведчик передал в штаб радиogramму.

• - - • • - • • - - • • - - -

При передаче радиogramмы было потеряно разбиение на буквы, но известно, что в радиogramме использовались только следующие буквы.

А	Д	Ж	Л	Т
• -	- • •	• - • •	-	• • • -

Определите текст радиogramмы.

В ответе запишите получившееся слово (набор букв).

Ответ: \_\_\_\_\_.

- 3 Напишите наибольшее натуральное число  $x$ , для которого ИСТИННО высказывание:  
( $x < 8$ ) И НЕ ( $x < 7$ ).

Ответ: \_\_\_\_\_.

4

Между населёнными пунктами А, В, С, D, Е построены дороги, протяжённость которых (в километрах) приведена в таблице.

	А	В	С	D	Е
А		7	4		
В	7		2		4
С	4	2		4	
D			4		4
Е		4		4	

Определите длину кратчайшего пути между пунктами А и Е, проходящего через пункт С. Передвигаться можно только по дорогам, протяжённость которых указана в таблице. Каждый пункт можно посетить только один раз.

Ответ: \_\_\_\_\_.

5

У исполнителя Делитель две команды, которым присвоены номера:

**1. раздели на 2**

**2. прибавь 1**

Первая из них уменьшает число на экране в 2 раза, вторая увеличивает его на 1.

Исполнитель работает только с натуральными числами.

Составьте алгоритм получения **из числа 23 числа 4**, содержащий не более 5 команд. В ответе запишите только номера команд.

(Например, 11222 – это алгоритм:

раздели на 2

раздели на 2

прибавь 1

прибавь 1

прибавь 1,

который преобразует число 36 в 12.)

Если таких алгоритмов более одного, то запишите любой из них.

Ответ: \_\_\_\_\_.

6

Ниже приведена программа, записанная на пяти языках программирования.

Алгоритмический язык	Паскаль
<pre> алг нач цел s, t, A ввод s ввод t ввод A если s &gt; 10 или t &gt; A то вывод "YES" иначе вывод "NO" все кон </pre>	<pre> var s, t, A: integer; begin   readln(s);   readln(t);   readln(A);   if (s &gt; 10) or (t &gt; A)     then writeln("YES")     else writeln("NO") end. </pre>
Бейсик	Python
<pre> DIM s, t, A AS INTEGER INPUT s INPUT t INPUT A IF s &gt; 10 OR t &gt; A THEN   PRINT "YES" ELSE   PRINT "NO" ENDIF </pre>	<pre> s = int(input()) t = int(input()) A = int(input()) if (s &gt; 10) or (t &gt; A):   print("YES") else:   print("NO") </pre>
C++	
<pre> #include &lt;iostream&gt; using namespace std;  int main(){   int s, t, A;   cin &gt;&gt; s;   cin &gt;&gt; t;   cin &gt;&gt; A;   if (s &gt; 10) or (t &gt; A)     cout &lt;&lt; "YES" &lt;&lt; endl;   else     cout &lt;&lt; "NO" &lt;&lt; endl;   return 0; } </pre>	

Было проведено 9 запусков программы, при которых в качестве значений переменных  $s$  и  $t$  вводились следующие пары чисел:

(1, 2); (11, 2); (1, 12); (11, 12); (-11, -12); (-11, 12); (-12, 11); (10, 10); (10, 5).

Укажите количество целых значений параметра  $A$ , при которых для указанных входных данных программа напечатает «YES» шесть раз.

Ответ: \_\_\_\_\_.

7

Доступ к файлу **test.xls**, находящемуся на сервере **school.org**, осуществляется по протоколу **ftp**. Фрагменты адреса файла закодированы цифрами от 1 до 7. Запишите последовательность этих цифр, кодирующую адрес указанного файла в сети Интернет.

- 1) test
- 2) school
- 3) /
- 4) ://
- 5) .org
- 6) .xls
- 7) ftp

Ответ: \_\_\_\_\_.

8

В языке запросов поискового сервера для обозначения логической операции «ИЛИ» используется символ «|», а для обозначения логической операции «И» – символ «&».

В таблице приведены запросы и количество найденных по ним страниц некоторого сегмента сети Интернет.

Запрос	Найдено страниц (в тысячах)
<i>Бокс &amp; Фехтование</i>	1230
<i>Бокс   Фехтование</i>	6620
<i>Фехтование</i>	4800

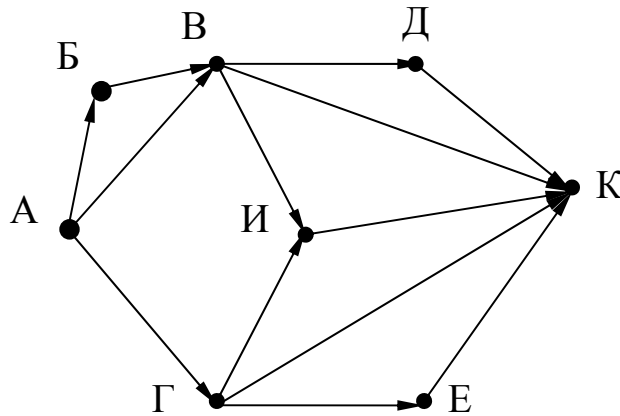
Какое количество страниц (в тысячах) будет найдено по запросу *Бокс*?

Считается, что все запросы выполнялись практически одновременно, так что набор страниц, содержащих все искомые слова, не изменялся за время выполнения запросов.

Ответ: \_\_\_\_\_.

9

На рисунке – схема дорог, связывающих города А, Б, В, Г, Д, Е, И, К. По каждой дороге можно двигаться только в одном направлении, указанном стрелкой. Сколько существует различных путей из города А в город К?



Ответ: \_\_\_\_\_.

10

Переведите двоичное число 1100011 в десятичную систему счисления.

Ответ: \_\_\_\_\_.

**Задания этой части (11–15) выполняются на компьютере. Ответами к заданиям 11, 12 являются слово или число, которые следует записать в поле ответа в тексте работы. Результатом выполнения заданий 13–15 является отдельный файл (для одного задания – один файл). Формат файла, его имя и каталог для сохранения Вам сообщат организаторы.**

11

В одном из произведений А.С. Пушкина, текст которого приведён в подкаталоге каталога **Проза**, есть героиня Палашка. С помощью поисковых средств операционной системы и текстового редактора или браузера выясните название профессии этой женщины.

Ответ: \_\_\_\_\_.

12

Сколько файлов с расширением htm, каждый объемом от 100 Кб до 148 Кб включительно, содержится в подкаталогах каталога **ДЕМО-12**? В ответе укажите только число.

Ответ: \_\_\_\_\_.

**Выберите ОДНО из предложенных ниже заданий: 13.1 или 13.2.**

13.1

Используя информацию и иллюстративный материал, содержащийся в каталоге DEMO-13, создайте презентацию из трёх слайдов на тему «Такса». В презентации должны содержаться краткие иллюстрированные сведения о внешнем виде, истории породы, темпераменте собак породы такса. Все слайды должны быть выполнены в едином стиле, каждый слайд должен быть озаглавлен.

Презентацию сохраните в файле, имя которого Вам сообщат организаторы экзамена.

**Требования к оформлению работы**

1. Ровно три слайда без анимации. Параметры страницы (слайда): экран (16:9), ориентация альбомная.

2. Содержание, структура, форматирование шрифта и размещение изображений на слайдах:

- первый слайд – титульный слайд с названием презентации, в подзаголовке титульного слайда в качестве информации об авторе презентации указывается идентификационный номер участника экзамена;



- второй слайд – основная информация в соответствии с заданием, размещённая по образцу на рисунке макета слайда 2:

- заголовок слайда;
- два изображения;
- два блока текста;

- третий слайд – дополнительная информация по теме презентации, размещённая по образцу на рисунке макета слайда 3:

- заголовок слайда;
- три изображения;
- три блока текста.

<div style="border: 1px solid black; padding: 10px; margin: 0 auto; width: 80%;"> <div style="border: 1px solid black; padding: 5px; margin: 0 auto; width: 60%;">Название презентации</div> <div style="border: 1px solid black; padding: 5px; margin: 5px auto; width: 40%;">Информация об авторе</div> </div>	<p><b>Макет 1 слайда</b> <b>Тема презентации</b></p>
--	--

	<p><b>Макет 2 слайда</b>  <b>Основная информация по теме презентации</b></p>
	<p><b>Макет 3 слайда</b>  <b>Дополнительная информация по теме презентации</b></p>

В презентации должен использоваться единый тип шрифта.

Размер шрифта для названия презентации на титульном слайде – 40 пунктов, для подзаголовка на титульном слайде и заголовков слайдов – 24 пункта, для подзаголовков на втором и третьем слайдах и для основного текста – 20 пунктов.

Текст не должен перекрывать основные изображения и сливаться с фоном.



13.2

Создайте в текстовом редакторе документ и напишите в нём следующий текст, точно воспроизведя всё оформление текста, имеющееся в образце.

Данный текст должен быть набран шрифтом размером 14 пунктов обычного начертания. Отступ первой строки первого абзаца основного текста – 1 см. Расстояние между строками текста не менее высоты одинарного, но не более полуторного междустрочного интервала. Основной текст выровнен по ширине; заголовок и текст в ячейках второго столбца таблицы – по центру. Текст в ячейках первого столбца таблицы выровнен по левому краю. В основном тексте и таблице есть слова, выделенные полужирным шрифтом и курсивом или подчёркиванием. Ширина таблицы меньше ширины основного текста. Таблица выровнена на странице по центру.

При этом допустимо, чтобы ширина Вашего текста отличалась от ширины текста в примере, поскольку ширина текста зависит от размеров страницы и полей. В этом случае разбиение текста на строки должно соответствовать стандартной ширине абзаца.

Интервал между текстом и таблицей не менее 12 пунктов, но не более 24 пунктов.

Текст сохраните в файле, имя которого Вам сообщат организаторы.

### **КРЫЖОВЕННОЕ ВАРЕНЬЕ**

<i><b>Ингредиенты</b></i>	<i><b>Количество</b></i>
Ягоды крыжовника	1 кг
Сахар	1,5 кг
Вода	500 мл
Вишнёвые листья	30 шт.

Для варенья лучше взять незрелые, зелёные ягоды *крыжовника*. Очищенные ягоды промыть и уложить в таз, перекладывая их вишнёвыми листьями. Залить крыжовник с листьями холодной водой и оставить на 5–6 часов. Приготовить сироп. Ягоды с листьями отбросить на дуршлаг и опустить в кипящий сироп. Варить 5 минут. Отсудить. Повторить процедуру 5-минутной варки 4–5 раз. Готовое варенье быстро охладить.

14

В электронную таблицу занесли результаты мониторинга стоимости бензина трёх марок (92, 95, 98) на бензозаправках города. На рисунке приведены первые строки получившейся таблицы.

	<b>А</b>	<b>В</b>	<b>С</b>
<b>1</b>	<b>Улица</b>	<b>Марка</b>	<b>Цена</b>
<b>2</b>	Абельмановская	92	45,80
<b>3</b>	Абрамцевская	98	49,40
<b>4</b>	Авиамоторная	95	49,10
<b>5</b>	Авиаторов	95	47,70

В столбце А записано название улицы, на которой расположена бензозаправка, в столбце В – марка бензина, который продаётся на этой заправке (одно из чисел 92, 95, 98), в столбце С – стоимость бензина на данной бензозаправке (в рублях, с указанием двух знаков дробной части). На каждой улице может быть расположена только одна заправка, для каждой заправки указана только одна марка бензина. Всего в электронную таблицу были занесены данные по 1000 бензозаправок. Порядок записей в таблице произвольный.

Откройте файл с данной электронной таблицей (расположение файла вам сообщат организаторы экзамена). На основании данных, содержащихся в этой таблице, выполните задания.

1. Какова максимальная цена бензина марки 92? Ответ на этот вопрос запишите в ячейку F2 таблицы.
2. Сколько бензозаправок продаёт бензин марки 92 по максимальной цене в городе? Ответ на этот вопрос запишите в ячейку F3 таблицы.
3. Постройте круговую диаграмму, отображающую соотношение количества бензозаправок, продающих бензин дешевле 45 рублей за литр, от 45 до 50 рублей за литр включительно и дороже 50 рублей за литр. Левый верхний угол диаграммы разместите вблизи ячейки G6. В поле диаграммы должны присутствовать легенда (обозначение, какой сектор диаграммы соответствует каким данным) и числовые значения данных, по которым построена диаграмма.

Полученную таблицу необходимо сохранить под именем, указанным организаторами экзамена.

**Выберите ОДНО из предложенных ниже заданий: 15.1 или 15.2.**

15.1

Исполнитель Робот умеет перемещаться по лабиринту, начерченному на плоскости, разбитой на клетки. Между соседними (по сторонам) клетками может стоять стена, через которую Робот пройти не может.

У Робота есть девять команд. Четыре команды – это команды-приказы:

**вверх вниз влево вправо**

При выполнении любой из этих команд Робот перемещается на одну клетку соответственно: вверх ↑, вниз ↓, влево ←, вправо →. Если Робот получит команду передвижения сквозь стену, то он разрушится.

Также у Робота есть команда **закрасить**, при которой закрашивается клетка, в которой Робот находится в настоящий момент.

Ещё четыре команды – это команды проверки условий. Эти команды проверяют, свободен ли путь для Робота в каждом из четырёх возможных направлений:

**сверху свободно снизу свободно слева свободно справа свободно**

Эти команды можно использовать вместе с условием «если», имеющим следующий вид:

**если условие то**

*последовательность команд*

**все**

Здесь *условие* – одна из команд проверки условия.

*Последовательность команд* – это одна или несколько любых команд-приказов.

Например, для передвижения на одну клетку вправо, если справа нет стенки и закрашивания клетки, можно использовать такой алгоритм:

**если справа свободно то**

**вправо**

**закрасить**

**все**

В одном условии можно использовать несколько команд проверки условий, применяя логические связки **и**, **или**, **не**, например:

**если (справа свободно) и (не снизу свободно) то**

**вправо**

**все**

Для повторения последовательности команд можно использовать цикл «пока», имеющий следующий вид:

**нц пока условие**

*последовательность команд*

**кц**

Например, для движения вправо, пока это возможно, можно использовать следующий алгоритм:

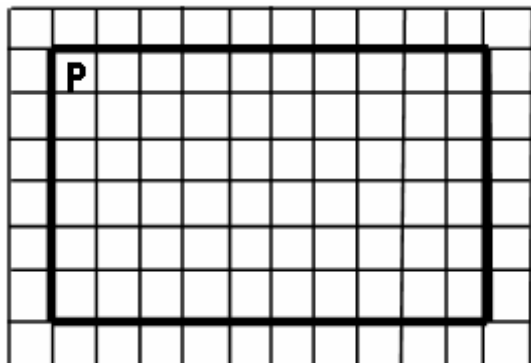
**нц пока справа свободно**

**вправо**

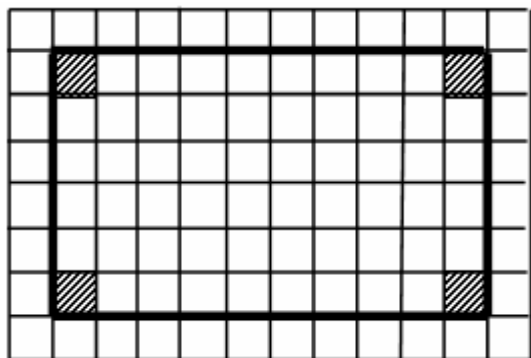
**кц**

**Выполните задание**

Робот находится в левом верхнем углу огороженного пространства, имеющего форму прямоугольника. **Размеры прямоугольника неизвестны.** Один из возможных размеров прямоугольника и расположение Робота внутри прямоугольника приведено на рисунке (Робот обозначен буквой «Р»):



Напишите для Робота алгоритм, закрашивающий четыре угловые клетки прямоугольника. Робот должен закрасить только угловые клетки. Например, для приведённого выше рисунка Робот должен закрасить следующие клетки (см. рисунок):



Конечное расположение Робота может быть произвольным. Алгоритм должен решать задачу для произвольного размера поля и любого допустимого расположения стен внутри прямоугольного поля. При исполнении алгоритма Робот не должен разрушиться.

Алгоритм может быть выполнен в среде формального исполнителя или записан в текстовом редакторе.

Сохраните алгоритм в формате программы Кумир или в текстовом файле. Название файла и каталог для сохранения Вам сообщат организаторы экзамена.

15.2

Напишите программу для решения следующей задачи.

Ученики 4 класса вели дневники наблюдения за погодой и ежедневно записывали дневную температуру. Найдите среднюю температуру для дней, когда температура поднималась выше нуля градусов. Определите количество таких дней. Гарантируется, что за время наблюдения хотя бы в один из дней температура поднималась выше нуля градусов.

Программа получает на вход количество дней, в течение которых проводилось наблюдение  $N$  ( $1 \leq N \leq 31$ ), затем для каждого дня вводится температура.

**Пример работы программы:**

Входные данные	Выходные данные
4	10.0
-5	2
12	
-2	
8	