

**Всероссийская проверочная работа**  
**по профильному учебному предмету «МАТЕМАТИКА»**  
**для обучающихся первых курсов по очной форме обучения по образовательным**  
**программам среднего профессионального образования на базе основного общего**  
**образования**

**Вариант 29970**

**Инструкция по выполнению работы**

На выполнение работы по математике отводится 2 часа (120 минут). Работа включает в себя 15 заданий.

Ответы на задания запишите в поля ответов в тексте работы. В случае записи неверного ответа зачеркните его и запишите рядом новый.

При выполнении работы не разрешается пользоваться учебниками, рабочими тетрадями, справочниками, калькулятором.

При необходимости можно пользоваться черновиком. Записи в черновике проверяться и оцениваться не будут.

Советуем выполнять задания в том порядке, в котором они даны. Для экономии времени пропускайте задание, которое не удаётся выполнить сразу, и переходите к следующему. Если после выполнения всей работы у Вас останется время, то Вы сможете вернуться к пропущенным заданиям.

Баллы, полученные Вами за выполненные задания, суммируются. Постарайтесь выполнить как можно больше заданий и набрать наибольшее количество баллов.

***Желаем успеха!***

*Таблица для внесения баллов участника*

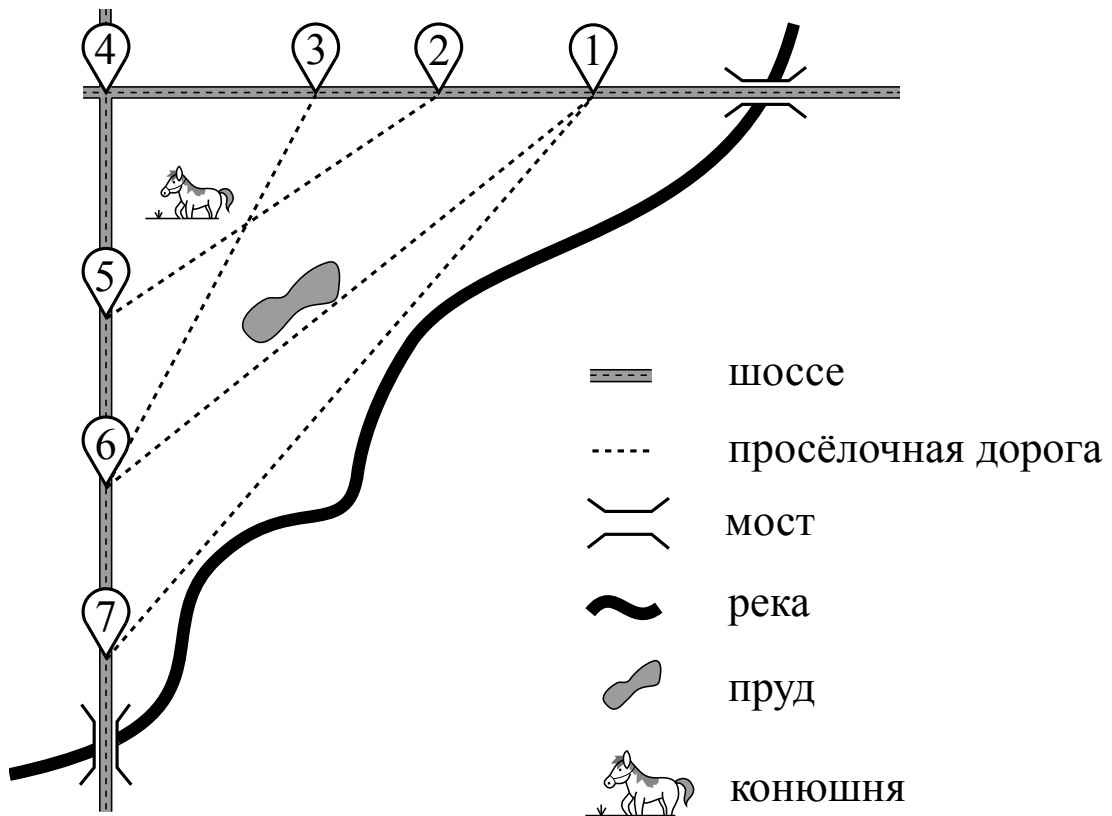
Номер задания	1	2	3	4	5	6	7	8	9	10	11	12	13	14	15	Сумма баллов	Отметка за работу
Баллы																	

**Прочитайте внимательно текст и выполните задания 1–5.**

На рисунке изображён план сельской местности.

Таня на летних каникулах приезжает в гости к дедушке в деревню Антоновка (на плане обозначена цифрой 1). В конце каникул дедушка на машине собирается отвезти Таню на автобусную станцию, которая находится в деревне Богданово. Из Антоновки в Богданово можно проехать по просёлочной дороге мимо реки. Есть другой путь — по шоссе до деревни Ванютино, где нужно повернуть под прямым углом налево на другое шоссе, ведущее в Богданово. Третий маршрут проходит по просёлочной дороге мимо пруда до деревни Горюново, где можно свернуть на шоссе до Богданово. Четвёртый маршрут пролегает по шоссе до деревни Доломино, от Доломино до Горюново по просёлочной дороге мимо конюшни и от Горюново до Богданово по шоссе. Ещё один маршрут проходит по шоссе до деревни Егорка, по просёлочной дороге мимо конюшни от Егорки до Жилино и по шоссе от Жилино до Богданово.

Шоссе и просёлочные дороги образуют прямоугольные треугольники.



По шоссе Таня с дедушкой едут со скоростью 50 км/ч, а по просёлочным дорогам — со скоростью 30 км/ч. Расстояние от Антоновки до Доломино равно 12 км, от Доломино до Егорки — 4 км, от Егорки до Ванютино — 12 км, от Горюново до Ванютино — 15 км, от Ванютино до Жилино — 9 км, а от Жилино до Богданово — 12 км.

- 1 Пользуясь описанием, определите, какими цифрами на плане обозначены деревни. Запишите в таблицу цифры под названиями соответствующих деревень.

Деревни	Егорка	Ванютино	Доломино	Жилино
Цифры				

- 2 Найдите расстояние от Доломино до Ванютино по шоссе. Ответ дайте в километрах.

Ответ: \_\_\_\_\_.

- 3 Найдите расстояние от Доломино до Горюново по прямой. Ответ дайте в километрах.

Ответ: \_\_\_\_\_.

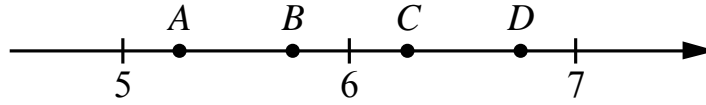
- 4 За какое наименьшее количество минут Таня с дедушкой могут добраться из Доломино в Горюново?

Ответ: \_\_\_\_\_.

- 5 На шоссе машина дедушки расходует 5,8 литра бензина на 100 км. Известно, что на путь из Антоновки до Богданово через Ванютино и путь напрямик ей необходим один и тот же объём бензина. Сколько литров бензина на 100 км машина дедушки расходует на просёлочных дорогах?

Ответ: \_\_\_\_\_.

6) На координатной прямой отмечены точки  $A, B, C, D$ . Одна из них соответствует числу  $\sqrt{46}$ . Какая это точка?



- 1) точка  $A$       2) точка  $B$       3) точка  $C$       4) точка  $D$

Ответ:

7) Родительский комитет закупил 10 пазлов для подарков детям в связи с окончанием учебного года, из них 2 с машинами и 8 с видами городов. Подарки распределяются случайным образом между 10 детьми, среди которых есть Андрюша. Найдите вероятность того, что Андрюше достанется пазл с машиной.

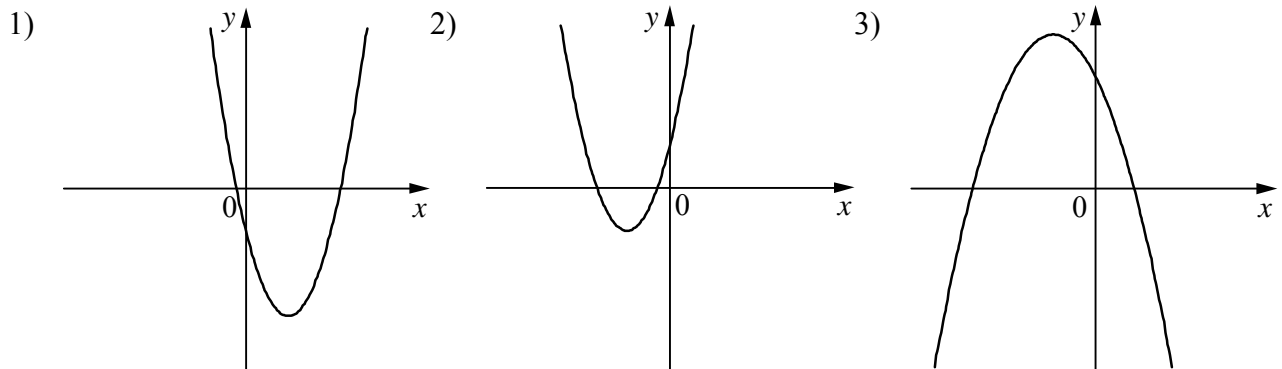
Ответ: \_\_\_\_\_.

8) На рисунках изображены графики функций вида  $y = ax^2 + bx + c$ . Установите соответствие между знаками коэффициентов  $a$  и  $c$  и графиками функций.

**КОЭФФИЦИЕНТЫ**

- А)  $a > 0, c < 0$       Б)  $a < 0, c > 0$       В)  $a > 0, c > 0$

**ГРАФИКИ**



В таблице под каждой буквой укажите соответствующий номер.

Ответ: 

А	Б	В

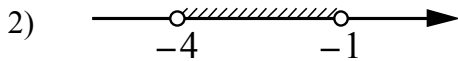
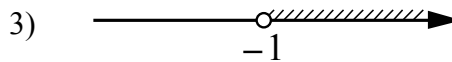
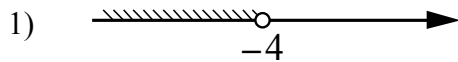
9) В фирме «Чистая вода» стоимость (в рублях) колодца из железобетонных колец рассчитывается по формуле  $C = 6500 + 4000n$ , где  $n$  — число колец, установленных в колодце. Пользуясь этой формулой, рассчитайте стоимость колодца из 13 колец. Ответ дайте в рублях.

Ответ: \_\_\_\_\_.

10

Укажите решение системы неравенств

$$\begin{cases} x > -1, \\ -4 - x > 0. \end{cases}$$

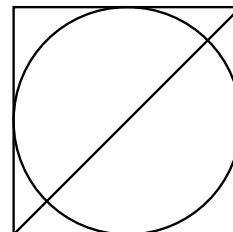


4) нет решений

Ответ.

11

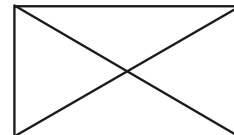
Радиус вписанной в квадрат окружности равен  $22\sqrt{2}$ . Найдите диагональ этого квадрата.



Ответ: \_\_\_\_\_.

12

Диагональ прямоугольника образует угол  $86^\circ$  с одной из его сторон. Найдите острый угол между диагоналями этого прямоугольника. Ответ дайте в градусах.



Ответ: \_\_\_\_\_.

13

Первая труба пропускает на 13 литров воды в минуту меньше, чем вторая труба. Сколько литров воды в минуту пропускает вторая труба, если резервуар объемом 208 литров она заполняет на 8 минут быстрее, чем первая труба?

Решение.

Ответ:

14

Постройте график функции

$$y = \frac{(0,5x^2 + 2x) \cdot |x|}{x + 4}$$

Определите, при каких значениях  $m$  прямая  $y = m$  не имеет с графиком ни одной общей точки.

Решение.

Ответ:

15

Окружность пересекает стороны  $AB$  и  $AC$  треугольника  $ABC$  в точках  $K$  и  $P$  соответственно и проходит через вершины  $B$  и  $C$ . Найдите длину отрезка  $KP$ , если  $AP = 34$ , а сторона  $BC$  в 2 раза меньше стороны  $AB$ .

Решение.

Ответ: