

Всероссийская проверочная работа
по профильному учебному предмету «МАТЕМАТИКА»
для обучающихся по программам среднего профессионального образования,
завершивших в предыдущем учебном году освоение общеобразовательных предметов,
проходящих обучение по очной форме на базе основного общего образования.

Вариант 52428

Инструкция по выполнению работы

На выполнение работы по математике отводится 2 часа (120 минут). Работа включает в себя 15 заданий.

Ответы на задания запишите в поля ответов в тексте работы. В случае записи неверного ответа зачеркните его и запишите рядом новый.

При выполнении работы не разрешается пользоваться учебниками, рабочими тетрадями, справочниками, калькулятором.

При необходимости можно пользоваться черновиком. Записи в черновике проверяться и оцениваться не будут.

Советуем выполнять задания в том порядке, в котором они даны. Для экономии времени пропускайте задание, которое не удаётся выполнить сразу, и переходите к следующему. Если после выполнения всей работы у Вас останется время, то Вы сможете вернуться к пропущенным заданиям.

Баллы, полученные Вами за выполненные задания, суммируются. Постарайтесь выполнить как можно больше заданий и набрать наибольшее количество баллов.

Желаем успеха!

Таблица для внесения баллов участника

Номер задания	1	2	3	4	5	6	7	8	9	10	11	12	13	14	15	Сумма баллов	Отметка за работу
Баллы																	

1 Найдите значение выражения $\frac{9,4}{2,1+2,6}$.

□ Ответ: _____.

2 В сентябре 1 кг слив стоил 70 рублей. В октябре сливы подорожали на 10%. Сколько рублей стоил 1 кг слив после подорожания в октябре?

□ Ответ: _____.

3 Площадь треугольника можно вычислить по формуле $S = \frac{abc}{4R}$, где a , b и c — стороны треугольника, а R — радиус окружности, описанной около этого треугольника. Пользуясь этой формулой, найдите площадь S , если $a = 11$, $b = 25$, $c = 30$ и $R = \frac{125}{8}$.

□ Ответ: _____.

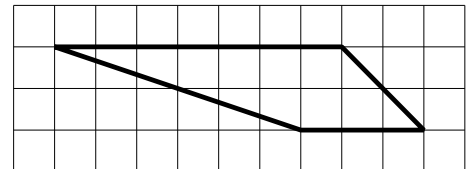
4 Найдите $\sin \alpha$, если $\cos \alpha = \frac{\sqrt{7}}{4}$ и $0^\circ < \alpha < 90^\circ$.

□ Ответ: _____.

5 На день рождения полагается дарить букет из нечётного числа цветов. Пионы стоят 60 рублей за штуку. У Вани есть 500 рублей. Из какого наибольшего числа пионов он может купить букет Маше на день рождения?

□ Ответ: _____.

6 На клетчатой бумаге с размером клетки 1×1 изображена трапеция. Найдите её площадь.



□ Ответ: _____.

7

В таблице приведены данные о шести чемоданах.

Номер чемодана	Длина (см)	Высота (см)	Ширина (см)	Масса (кг)
1	64	38	27	25
2	78	45	13	22,5
3	67	67	45	21
4	58	45	25	36
5	64	56	50	24
6	58	49	39	21,5

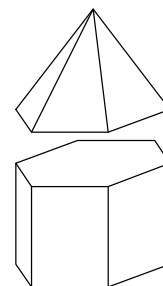
По правилам авиакомпании сумма трёх измерений (длина, высота, ширина) чемодана, сдаваемого в багаж, не должна превышать 158 см, а масса не должна быть больше 23 кг. Какие чемоданы можно сдать в багаж по правилам этой авиакомпании?

В ответе укажите номера всех выбранных чемоданов без пробелов, запятых и других дополнительных символов.

Ответ: _____.

8

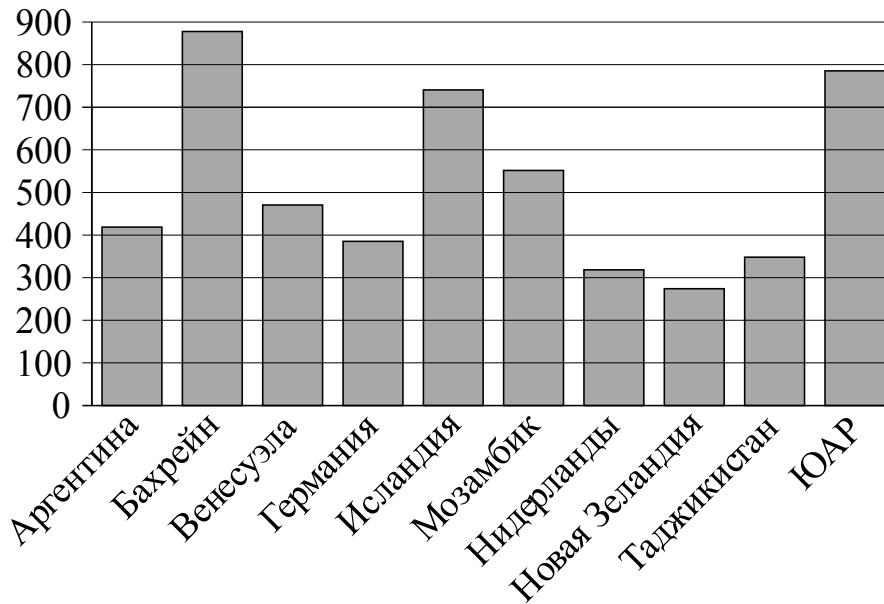
К правильной шестиугольной призме со стороной основания, равной 1, приклеили правильную шестиугольную пирамиду со стороной основания, равной 1, так, что основания совпали. Сколько граней у получившегося многогранника (невидимые рёбра на рисунке не изображены)?



Ответ: _____.

9

На диаграмме показано распределение выплавки алюминия в 10 странах (в тысячах тонн) за 2009 год. Среди представленных стран первое место по выплавке алюминия занимал Бахрейн, десятое место — Новая Зеландия. Какое место занимали Нидерланды?



Ответ: _____.

10

Марусе на день рождения подарили 20 шариков, из которых 13 красные, а остальные синие. Маруся хочет на четырёх случайных шариках нарисовать рисунки маркером, чтобы подарить маме, папе, брату и сестре. Выберите утверждения, которые будут верны при указанных условиях, не зависимо от того, на каких шариках Маруся нарисует рисунки.

- 1) Найдётся 4 красных шарика с рисунками.
- 2) Найдётся 2 синих шарика без рисунков.
- 3) Если шарик красный, то на нём есть рисунок.
- 4) Не найдётся 5 синих шариков с рисунками.

В ответе запишите номера выбранных утверждений без пробелов, запятых и других дополнительных символов.

Ответ: _____.

11

Вероятность того, что новый тостер прослужит больше года, равна 0,93. Вероятность того, что он прослужит больше двух лет, равна 0,82. Найдите вероятность того, что он прослужит меньше двух лет, но больше года.

Ответ: _____.

12

Найдите корень уравнения $7^{x-9} = \frac{1}{49}$.

Ответ: _____.

13

Число m равно $\log_2 5$.

Каждому из четырёх чисел в левом столбце соответствует отрезок, которому оно принадлежит. Установите соответствие между числами и отрезками из правого столбца.

ЧИСЛА	ОТРЕЗКИ
А) $m - 2$	1) $[0; 1]$
Б) m^2	2) $[1; 2]$
В) $4 - m$	3) $[2; 3]$
Г) $\frac{6}{m}$	4) $[4; 6]$

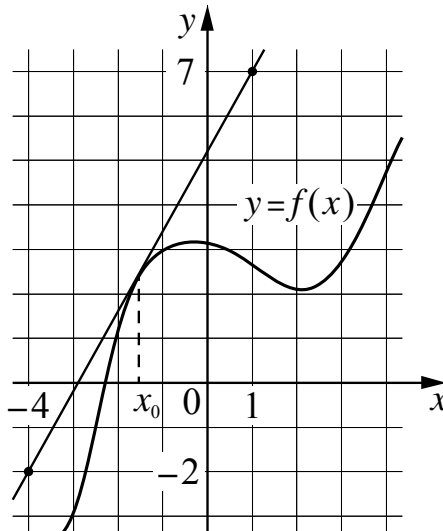
Впишите в приведённую в ответе таблицу под каждой буквой соответствующий отрезку номер.

Ответ:

А	Б	В	Г

14

На рисунке изображены график функции $y = f(x)$ и касательная к нему в точке с абсциссой x_0 . Найдите значение производной функции $f(x)$ в точке x_0 .



Ответ: _____.

15

Заказ на изготовление 323 деталей первый рабочий выполняет на 2 часа быстрее, чем второй. Сколько деталей за час изготавливает первый рабочий, если известно, что он за час изготавливает на 2 детали больше второго?

Ответ: _____.