

Всероссийская проверочная работа
ДЛЯ ОЦЕНКИ МЕТАПРЕДМЕТНЫХ РЕЗУЛЬТАТОВ ОБУЧЕНИЯ
в соответствии с федеральным государственным образовательным
стандартом основного общего образования
для обучающихся первых курсов по очной форме обучения по образовательным
программам среднего профессионального образования на базе основного общего
образования

Вариант 20499

Инструкция по выполнению работы

Проверочная работа включает в себя 23 задания.

На выполнение проверочной работы отводится 2 часа (120 минут).

Ответами к заданиям 1–11, 13, 14, 20–23 являются цифра, последовательность цифр или слово (словосочетание). Задания 12, 15–19 требуют полного ответа (дать объяснение, описание или обоснование; высказать и аргументировать собственное мнение). В случае записи неверного ответа зачеркните его и запишите рядом новый.

При выполнении работы не разрешается пользоваться учебниками, рабочими тетрадями и другими справочными материалами.

При выполнении заданий Вы можете пользоваться черновиком. Записи в черновике проверяться и оцениваться не будут.

Советуем выполнять задания в том порядке, в котором они даны. В целях экономии времени пропускайте задание, которое не удаётся выполнить сразу, и переходите к следующему. Если после выполнения всей работы у Вас останется время, то Вы сможете вернуться к пропущенным заданиям.

Баллы, полученные Вами за выполненные задания, суммируются. Постарайтесь выполнить как можно больше заданий и набрать наибольшее количество баллов.

Желаем успеха!

Таблица для внесения баллов участника

Номер задания	1	2	3	4	5	6	7	8	9	10	11	12	13	14	15
Баллы															
Номер задания	16	17(1)	17(2)	18	19	20(1)	20(2)	21.1	21.2	21.3	22	23	Сумма баллов	Отметка за работу	
Баллы															

1 Назовите фамилию исторического деятеля, о котором идёт речь.

Нижегородский земский староста, инициатор и один из руководителей Второго народного (земского) ополчения. Соратник князя Д.М. Пожарского.

□ Ответ: _____.

2 Заполните пропуски в данных предложениях, используя приведённый ниже список пропущенных элементов: для каждого предложения, обозначенного буквой и содержащего пропуск, выберите номер нужного элемента.

А) В годы регентства _____ в России была введена единая денежная система.

Б) В _____ году в России был созван первый Земский собор.

В) С целью укрепления обороноспособности страны в начале 1550-х гг. в России было учреждено первое постоянное войско – _____.

Пропущенные элементы:

- 1) Софьи Палеолог
- 2) 1549
- 3) рекрутское
- 4) Елены Глинской
- 5) 1654
- 6) стрелецкое

Запишите в таблицу выбранные цифры под соответствующими буквами.

□ Ответ:

А	Б	В

3

Рассмотрите изображение и выполните задание.



Укажите век, когда произошло событие, изображённое на картине. Ответ запишите словом.

Ответ: _____.

4

Прочтите отрывок из сочинения историка и укажите имя и прозвище князя, пропущенные в тексте.

«Победы князя встревожили Орден. Захватчики собрали свои главные силы и двинулись навстречу русским войскам. Бой с крестоносцами _____ решил принять на льду Чудского озера, расположив войско в урочище Узмени, у Вороньего камня.

Битва на Чудском озере произошла 5 апреля на восходе солнца. В летописи она описана со слов очевидца. Как и ожидал князь, немцы ударили по русскому центру и «пробились свиньёй сквозь полк». Но это не смутило русских, и они стали наносить удары по флангам и с фронта. Рыцари были окружены.

«Была тут сеча великая»,— говорит летописец».

Ответ: _____.

5

Заполните пустые ячейки таблицы, используя приведённый ниже список пропущенных элементов: для каждого пропуска, обозначенного буквой, выберите номер нужного элемента.

Год	Событие	Участник
1807 г.	_____ (А)	Александр I
1905 г.	_____ (Б)	_____ (В)
_____ (Г)	Полтавская битва	_____ (Д)

Пропущенные элементы:

- 1) издание жалованной грамоты дворянству
- 2) 1709 г.
- 3) «Кровавое воскресенье»
- 4) Д.А. Милютин
- 5) заключение Тильзитского мира
- 6) 1812 г.
- 7) Г.А. Гапон
- 8) А.Д. Меншиков

Запишите в таблицу выбранные цифры под соответствующими буквами.

Ответ:

А	Б	В	Г	Д

6

Рассмотрите изображение и выполните задание.



Назовите женское имя, которое стало неофициальным названием изображённого на фотографии оружия в годы Великой Отечественной войны.

Ответ: _____.

Ознакомьтесь с перечнем и изображениями памятников культуры и выполните задания 7 и 8.

- 1) «Слово о законе и благодати»;
- 2) «Хождение за три моря»;
- 3) «История о великом князе Московском»
- 4)



5)



7

Какие из приведённых памятников культуры были созданы в XI в.? Выберите два памятника культуры и запишите в таблицу цифры, под которыми они указаны.

Ответ:

--	--

8

Создателем какого из приведённых памятников культуры был Феофан Грек? Укажите порядковый номер этого памятника культуры.

Ответ:

--

9

Установите соответствие между полномочиями и субъектами государственной власти РФ, реализующими эти полномочия: к каждой позиции, данной в первом столбце, подберите соответствующую позицию из второго столбца.

ПОЛНОМОЧИЯ

СУБЪЕКТЫ
ГОСУДАРСТВЕННОЙ ВЛАСТИ
РФ

- | | |
|-----------------------------------------------------------------------------------------------------------------------------------------------------------------------------------------------------------------------------------------------------------------------------------------------------------------------------------------------------------------------------------------------------------------|-------------------------------------------------------------------------------------|
| <p>А) утверждение изменения границ между субъектами Российской Федерации</p> <p>Б) осуществление мер по поддержке институтов гражданского общества</p> <p>В) назначение на должность Председателя Центрального банка Российской Федерации</p> <p>Г) обеспечение создания доступной среды для инвалидов и улучшение качества их жизни</p> <p>Д) содействие развитию предпринимательства и частной инициативы</p> | <p>1) Государственная Дума</p> <p>2) Совет Федерации</p> <p>3) Правительство РФ</p> |
|-----------------------------------------------------------------------------------------------------------------------------------------------------------------------------------------------------------------------------------------------------------------------------------------------------------------------------------------------------------------------------------------------------------------|-------------------------------------------------------------------------------------|

Запишите в таблицу выбранные цифры под соответствующими буквами.

Ответ:

А	Б	В	Г	Д

10

Екатерина и Роман решили вступить в брак. Какие условия обязательны для заключения брака в Российской Федерации? Запишите цифры, под которыми указаны соответствующие условия.

- 1) добровольное согласие жениха и невесты
- 2) достижение женихом и невестой брачного возраста
- 3) владение русским языком
- 4) проживание жениха или невесты отдельно от родителей
- 5) наличие у жениха и невесты профессионального образования

Ответ: _____.

11

Установите соответствие между примерами и мерами юридической ответственности в РФ: к каждой позиции, данной в первом столбце, подберите соответствующую позицию из второго столбца.

ПРИМЕРЫ

- А) компенсация морального вреда
- Б) принудительные работы
- В) замечание
- Г) увольнение по соответствующим основаниям
- Д) взыскание неустойки

МЕРЫ ЮРИДИЧЕСКОЙ ОТВЕТСТВЕННОСТИ
В РФ

- 1) способы защиты гражданских прав по Гражданскому кодексу РФ
- 2) наказания по Уголовному кодексу РФ
- 3) дисциплинарные взыскания по Трудовому кодексу РФ

Запишите в таблицу выбранные цифры под соответствующими буквами.

Ответ:

А	Б	В	Г	Д

12

Рассмотрите фотографию.



Какая форма (область) культуры может быть проиллюстрирована с помощью данной фотографии? Объясните сущность данной формы (области) культуры.

Ответ: _____

Используя обществоведческие знания, факты социальной жизни и личный социальный опыт, укажите любые две тенденции развития этой формы (области) культуры.

Ответ: _____

13

Установите соответствие между примерами и факторами производства: к каждому элементу, данному в первом столбце, подберите элемент из второго столбца.

ПРИМЕРЫ

- А) станки и оборудование
- Б) полезные ископаемые
- В) стройматериалы
- Г) работники
- Д) здание завода

ФАКТОРЫ ПРОИЗВОДСТВА

- 1) капитал
- 2) труд
- 3) земля

Запишите в таблицу выбранные цифры под соответствующими буквами.

Ответ:

А	Б	В	Г	Д

14

Найдите в приведённом ниже списке два примера финансово грамотных действий граждан при размещении финансовых средств в негосударственные пенсионные фонды (НПФ) и запишите **цифры**, под которыми они указаны.

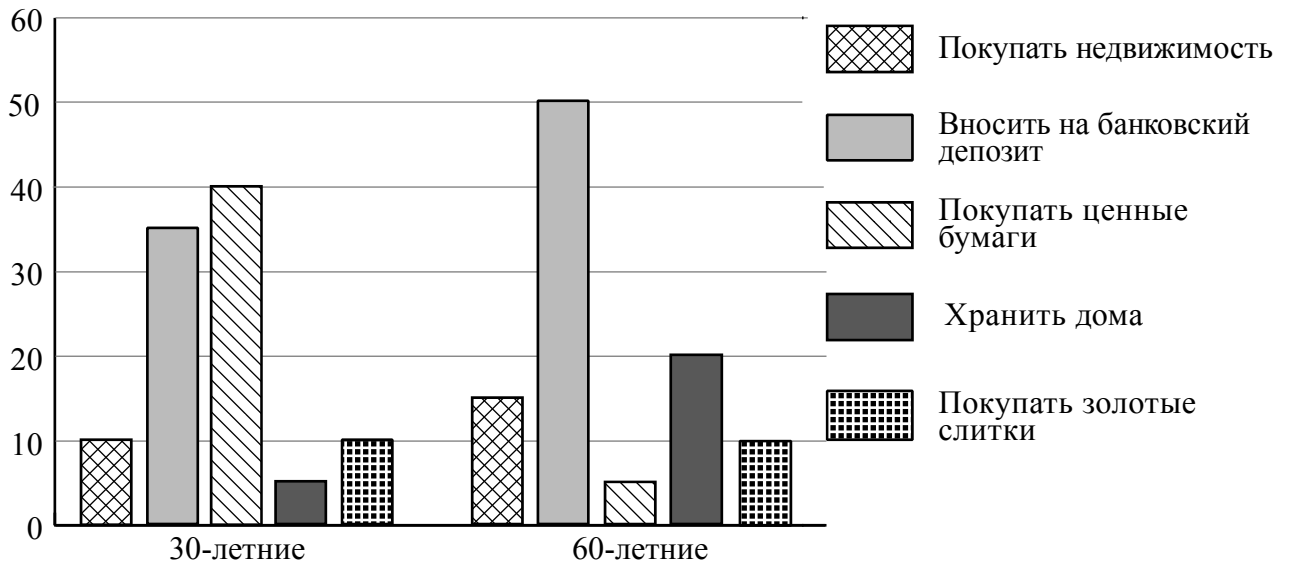
- 1) Нина направила свои пенсионные накопления в НПФ, который показал высокую доходность в течение десяти лет, включая период экономического кризиса.
- 2) Юрий разместил средства в НПФ с доходностью существенно ниже инфляции.
- 3) Клим направил свои пенсионные накопления в НПФ, недавно созданный молодой перспективной фирмой.
- 4) Руслан выбрал НПФ исключительно под влиянием рекламы, в которой снимался популярный актёр.
- 5) Михаил разместил финансовые средства в НПФ, который в течение нескольких лет без крупных проигрышей обеспечивал среднюю по рынку доходность.

Ответ: _____.

15

В ходе социологического опроса совершеннолетним гражданам страны Z задавали вопрос о том, какой способ сбережений они считают лучшим (можно было дать несколько ответов).

Результаты опроса (в % от числа отвечавших) представлены в графическом виде.



Сформулируйте одно существенное различие в позициях групп опрошенных. Выскажите предположение о том, чем объясняется это различие.

Различие: _____

Предположение: _____



16

Семнадцатилетняя Ирина искала работу, график которой можно было бы совместить с учёбой в колледже. В Интернете она нашла предложение следующего содержания: «Работа в удобное время. Набор текста. 1 лист – 75 рублей. Количество листов зависит только от вашего желания. Для получения первого заказа вы должны перечислить 500 рублей на электронный кошелек работодателя! Торопитесь! Осталось 10 вакансий!»

Оцените ситуацию с точки зрения возможности достижения цели Ирины. Как ей правильно поступить в данной ситуации?

Ответ: _____

17

Абсолютное большинство людей общаются в социальных сетях, рассказывают о своей семье, работе и повседневных делах, отдыхе и развлечениях.

Публикация некоторой информации может быть опасной для человека, его семьи. Приведите не менее трёх примеров такой информации и для каждого из них объясните, в чём опасность публикации.

Пример «опасной» информации	Объяснение опасности публикации

18 Назовите не менее трёх правил безопасного поведения, которые гражданин должен соблюдать для предотвращения нападения на него стаи диких собак.

Ответ: _____



19 Вы выехали в поле в автомобиле. Началась гроза. Сверкнула молния. Разряд молнии представляет большую опасность для здоровья и жизни человека. Назовите не менее двух правил безопасного поведения, которые нужно соблюдать, если начинается гроза и вы находитесь в автомобиле.

Ответ: _____



20

На рисунках представлены контуры стран – соседей России с указанием столиц этих стран. Подпишите под каждым рисунком рядом с номером название соответствующей страны.

1) Выберите из списка названия этих стран и укажите их под рисунками.



1 – _____ 2 – _____ 3 – _____ 4 – _____

Страны-соседи России:

Финляндия, Белоруссия, Литва, Грузия.

2) Определите расположение указанных Вами стран на схеме и впишите в пустые квадраты их **номера**.

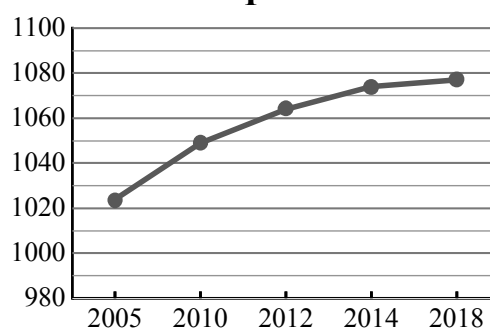
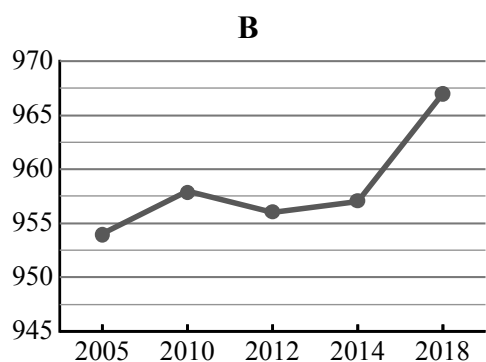
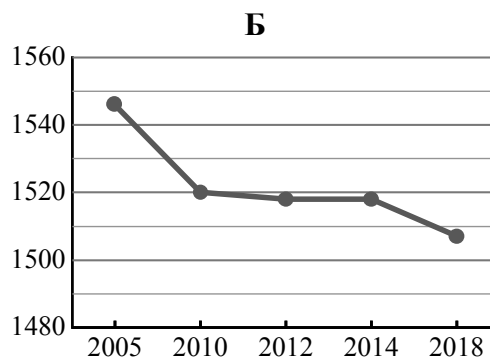
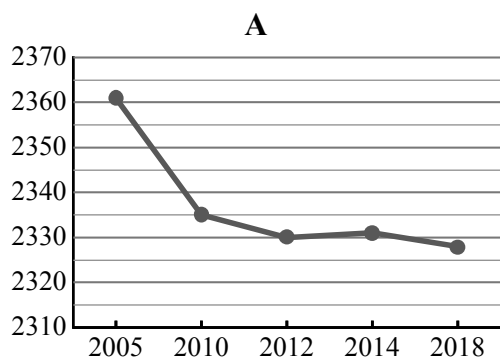


21

Используя представленную ниже таблицу и графики динамики численности населения по субъектам Российской Федерации за период 2005–2018 гг., выполните задания.

Динамика численности населения, тыс. человек

№ п/п	Субъекты РФ	2005 г.	2010 г.	2012 г.	2014 г.	2018 г.
1	Томская область	1024	1049	1064	1074	1077
2	Удмуртская Республика	1546	1520	1518	1518	1507
3	Республика Саха (Якутия)	954	958	956	957	967
4	Воронежская область	2361	2335	2330	2331	2328



1) Определите, какому субъекту Российской Федерации соответствует каждый график динамики численности населения. Запишите в ответе **порядковые номера** субъектов Российской Федерации под соответствующими буквами.

Ответ.

А	Б	В	Г

2) В каких из приведённых в таблице субъектов Российской Федерации численность населения за указанный период выросла?

Ответ. _____

3) В каком из приведённых в таблице субъектов Российской Федерации убыль населения за указанный период была наибольшей?

Ответ. _____

22

Такие неблагоприятные климатические явления, как засухи, суховеи и пыльные бури, значительно затрудняют хозяйственное использование территории. Для каких двух из перечисленных регионов России они наиболее характерны? Запишите в таблицу цифры, под которыми указаны эти регионы.

- 1) Камчатский край
- 2) Республика Калмыкия
- 3) Мурманская область
- 4) Калининградская область
- 5) Курганская область

Ответ.

--	--

23

Туристические фирмы различных регионов России разработали слоганы (рекламные лозунги) для привлечения туристов в свои регионы. Установите соответствие между слоганами и регионами: к каждому элементу первого столбца подберите соответствующий элемент из второго столбца.

СЛОГАНЫ

РЕГИОНЫ

- | | |
|--------------------------------------------------------------------------------------------------------------------------------------------------------------------------------------------------------------------------------------|---------------------------------------------------------------------------------------------------------------------|
| <p>А) Добро пожаловать на побережье Телецкого озера – горной жемчужины с неповторимой красотой!</p> <p>Б) Добро пожаловать в национальный парк Валдайский – жемчужину средней полосы России! Полюбуйтесь красотой озера Ильмень!</p> | <p>1) Республика Карелия</p> <p>2) Краснодарский край</p> <p>3) Республика Алтай</p> <p>4) Новгородская область</p> |
|--------------------------------------------------------------------------------------------------------------------------------------------------------------------------------------------------------------------------------------|---------------------------------------------------------------------------------------------------------------------|

Запишите в таблицу выбранные цифры под соответствующими буквами.

Ответ:

А	Б