

**Всероссийская проверочная работа**  
**ДЛЯ ОЦЕНКИ МЕТАПРЕДМЕТНЫХ РЕЗУЛЬТАТОВ ОБУЧЕНИЯ**  
**в соответствии с федеральным государственным образовательным**  
**стандартом основного общего образования**  
**для обучающихся первых курсов по очной форме обучения по образовательным**  
**программам среднего профессионального образования на базе основного общего**  
**образования**

**Вариант 71418**

**Инструкция по выполнению работы**

Проверочная работа включает в себя 23 задания.

На выполнение проверочной работы отводится 2 часа (120 минут).

Ответами к заданиям 1–11, 13, 14, 20–23 являются цифра, последовательность цифр или слово (словосочетание). Задания 12, 15–19 требуют полного ответа (дать объяснение, описание или обоснование; высказать и аргументировать собственное мнение). В случае записи неверного ответа зачеркните его и запишите рядом новый.

При выполнении работы не разрешается пользоваться учебниками, рабочими тетрадями и другими справочными материалами.

При выполнении заданий Вы можете пользоваться черновиком. Записи в черновике проверяться и оцениваться не будут.

Советуем выполнять задания в том порядке, в котором они даны. В целях экономии времени пропускайте задание, которое не удаётся выполнить сразу, и переходите к следующему. Если после выполнения всей работы у Вас останется время, то Вы сможете вернуться к пропущенным заданиям.

Баллы, полученные Вами за выполненные задания, суммируются. Постарайтесь выполнить как можно больше заданий и набрать наибольшее количество баллов.

***Желаем успеха!***

*Таблица для внесения баллов участника*

Номер задания	1	2	3	4	5	6	7	8	9	10	11	12	13	14	15
Баллы															
Номер задания	16	17(1)	17(2)	18	19	20(1)	20(2)	21.1	21.2	21.3	22	23	Сумма баллов	Отметка за работу	
Баллы															

1

Назовите исторического деятеля, о котором идёт речь.

Князь, военачальник. Один из руководителей Второго народного (земского) ополчения, освободившего Москву от польско-литовских интервентов в период Смутного времени.

Ответ: \_\_\_\_\_.

2

Заполните пропуски в данных предложениях, используя приведённый ниже список пропущенных элементов: для каждого предложения, обозначенного буквой и содержащего пропуск, выберите номер нужного элемента.

А) Князь Владимир Мономах в 1111 г. организовал и возглавил поход против \_\_\_\_\_.

Б) На Куликовом поле монгольское войско под командованием темника \_\_\_\_\_ было разгромлено русскими дружинами.

В) Размер дани, установленный по реформе княгини Ольги, назывался \_\_\_\_\_.

Пропущенные элементы:

- 1) урок
- 2) хазар
- 3) Узбека
- 4) половцев
- 5) оброк
- 6) Мамаю

Запишите в таблицу выбранные цифры под соответствующими буквами.

Ответ:

А	Б	В

3

Рассмотрите изображение и выполните задание.



Назовите князя, изображённого на картине.

Ответ: \_\_\_\_\_.

4

Прочтите отрывок из сочинения историка и укажите монарха, имя которого пропущено в тексте.

«27 февраля полиция схватила Желябова — главного организатора готовившегося покушения, но 1 марта руководимые Перовской народовольцы подстерегли царскую карету на берегу Екатерининского канала и взорвали её. Однако лишь вторая бомба, брошенная И.И. Гриневицким, смертельно ранила \_\_\_\_\_. Погиб и покушавшийся. Приговор царю был, наконец, приведён в исполнение.

Немало царедворцев полагало, что взрывы, унёсшие жизнь императора, лишь сигнал к восстанию. Столичный гарнизон был приведён в боевую готовность. Но уже к вечеру стало ясно, что массовых революционных выступлений не последует. Придворная камарилья постепенно приходила в себя».

Ответ: \_\_\_\_\_.

5

Заполните пустые ячейки таблицы, используя приведённый ниже список пропущенных элементов: для каждого пропуска, обозначенного буквой, выберите номер нужного элемента.

Год	Событие	Участник
988 г.	Крещение Руси	_____ (А)
1185 г.	_____ (Б)	_____ (В)
_____ (Г)	_____ (Д)	Иван III

Пропущенные элементы:

- 1) киевский князь Владимир Святославич
- 2) князь Андрей Боголюбский
- 3) 1380 г.
- 4) поход русского войска против половцев
- 5) 1480 г.
- 6) новгород-северский князь Игорь Святославич
- 7) антиордынское восстание в Твери
- 8) «стояние» на Угре

Запишите в таблицу выбранные цифры под соответствующими буквами.

Ответ:

А	Б	В	Г	Д

6

Рассмотрите изображение и выполните задание.



Укажите название города в период Великой Отечественной войны, к истории которого непосредственно относится эта фотография.


Ответ: \_\_\_\_\_.

**Ознакомьтесь с перечнем и изображениями памятников культуры и выполните задания 7 и 8.**

- 1) роман «Преступление и наказание»;
- 2) «Домострой»;
- 3) «Слово о полку Игореве»
- 4)



5)



7

Какие из приведённых памятников культуры были созданы в XIX в.? Выберите два памятника культуры и запишите в таблицу цифры, под которыми они указаны.

Ответ:

--	--

8

В создании какого из приведённых памятников культуры принимал участие О. Монферран? Укажите порядковый номер этого памятника культуры.

Ответ:

--

9

Установите соответствие между полномочиями и субъектами государственной власти РФ, реализующими эти полномочия: к каждой позиции, данной в первом столбце, подберите соответствующую позицию из второго столбца.

## ПОЛНОМОЧИЯ

СУБЪЕКТЫ  
ГОСУДАРСТВЕННОЙ ВЛАСТИ  
РФ

- |  |  |
|--|--|
| <p>А) обеспечение функционирования системы социальной защиты инвалидов</p> <p>Б) назначение высшего командования Вооружённых Сил РФ</p> <p>В) разрешение споров о компетенции между федеральными органами государственной власти</p> <p>Г) обеспечение исполнения федерального бюджета</p> <p>Д) осуществление управления федеральной собственностью</p> | <p>1) Президент РФ</p> <p>2) Конституционный Суд РФ</p> <p>3) Правительство РФ</p> |
|--|--|

Запишите в таблицу выбранные цифры под соответствующими буквами.

Ответ:

А	Б	В	Г	Д

10

Владимир и Полина решили вступить в брак. Какие условия обязательны для заключения брака в Российской Федерации? Запишите цифры, под которыми указаны соответствующие условия.

- 1) наличие у жениха и невесты постоянного источника доходов
- 2) достижение женихом и невестой брачного возраста
- 3) добровольное согласие жениха и невесты
- 4) проживание жениха или невесты отдельно от родителей
- 5) наличие у жениха и невесты профессионального образования

Ответ: \_\_\_\_\_.

11

Установите соответствие между примерами и мерами юридической ответственности в РФ: к каждой позиции, данной в первом столбце, подберите соответствующую позицию из второго столбца.

ПРИМЕРЫ

- А) замечание
- Б) взыскание неустойки
- В) штраф
- Г) принудительные работы
- Д) прекращение или изменение правоотношения

МЕРЫ ЮРИДИЧЕСКОЙ ОТВЕТСТВЕННОСТИ В РФ

- 1) дисциплинарные взыскания по Трудовому кодексу РФ
- 2) наказания по Уголовному кодексу РФ
- 3) способы защиты гражданских прав по Гражданскому кодексу РФ

Запишите в таблицу выбранные цифры под соответствующими буквами.

Ответ:

А	Б	В	Г	Д

12

Рассмотрите фотографию.



Для иллюстрации какой ветви государственной власти может быть использована данная фотография? Как называется парламент России?

Ответ: \_\_\_\_\_  
 \_\_\_\_\_  
 \_\_\_\_\_

Используя обществоведческие знания, факты общественной жизни и личный социальный опыт, назовите любые два полномочия Государственной Думы.

Ответ: \_\_\_\_\_  
 \_\_\_\_\_

13

Установите соответствие между примерами и видами денег: к каждому элементу, данному в первом столбце, подберите соответствующий элемент из второго столбца.

## ПРИМЕРЫ

## ВИДЫ ДЕНЕГ

- |  |  |
|--|--|
| <p>А) Виталий оплатил кофе в автомате 10 рублёвыми монетами.</p> <p>Б) Николай купил торт, расплатившись 100- и 200-рублёвыми купюрами.</p> <p>В) Михаил рассчитался в кафе с помощью пластиковой карты.</p> <p>Г) Алиса при покупке товара использовала кошелёк WebMoney.</p> <p>Д) Василий оплатил штраф через приложение Яндекс.Деньги.</p> | <p>1) наличные</p> <p>2) безналичные</p> |
|--|--|

Запишите в таблицу выбранные цифры под соответствующими буквами.

Ответ:

А	Б	В	Г	Д

14

Найдите в приведённом ниже списке два примера финансово грамотных действий граждан при инвестировании и запишите **цифры**, под которыми они указаны.

- 1) Вера приняла спонтанное решение приобрести акции предприятия на основе яркого впечатления от телевизионной рекламы.
- 2) Элеонора, рассчитывая на высокие доходы, инвестировала в рискованные активы и разочаровалась, увидев первые убытки.
- 3) Лилия, беспокоясь о рисках своих инвестиций, выбрала стратегию распределения средств в разные активы.
- 4) Вадим для первого инвестирования использовал заёмные средства.
- 5) Дмитрий приобрёл инвестиционные инструменты, определив заранее сумму и периодичность инвестирования.

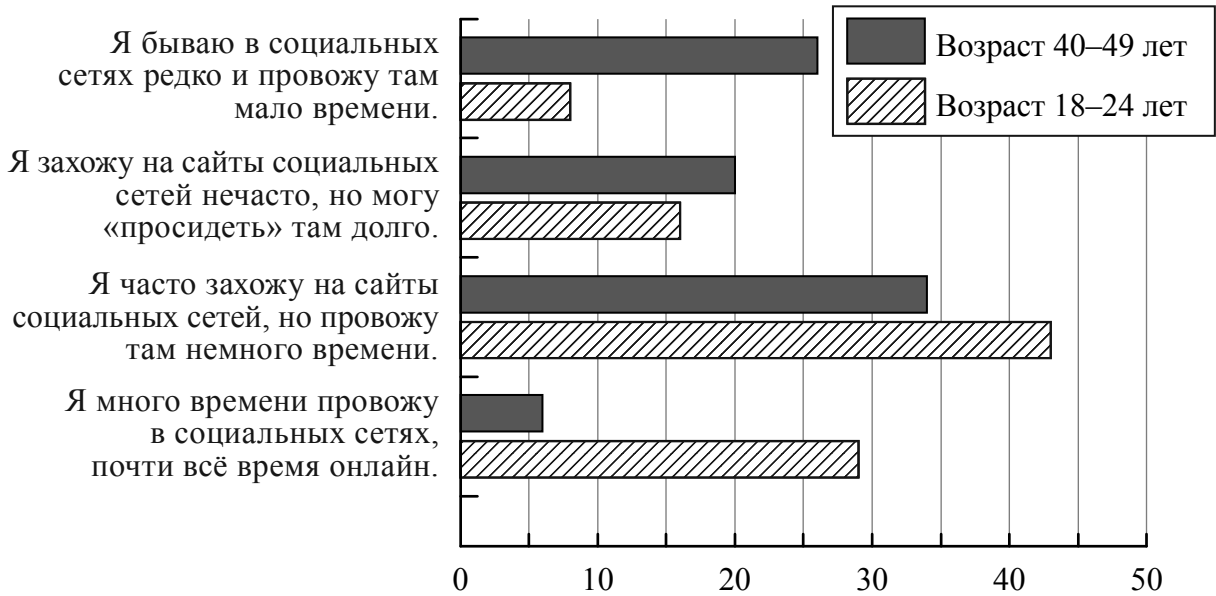
Ответ: \_\_\_\_\_.



15

Социологические службы города Z провели опрос граждан о том, какая из перечисленных позиций наиболее точно отражает их поведение в социальных сетях (можно было дать несколько ответов).

Результаты опроса (в % от числа отвечающих) представлены в графическом виде.



Сформулируйте одно существенное различие в позициях групп опрошенных. Выскажите предположение о том, чем объясняется это различие.

Различие: \_\_\_\_\_

\_\_\_\_\_

Предположение: \_\_\_\_\_

\_\_\_\_\_

\_\_\_\_\_

16

Ученику 9 класса Мураду пришло СМС-сообщение от неизвестного абонента: «Мурад, номер вашего мобильного участвовал в розыгрыше призов. Подробности получения выигрыша можно узнать, позвонив по платному номеру телефона +7 (\*\*\*)\*\*\*\*\*».

В чём состоит опасность данной ситуации для личных финансов Мурада? Как ему правильно поступить в данной ситуации?

Ответ: \_\_\_\_\_

---



---



---



---



---



---



---



---



---



---



17

Абсолютное большинство людей общаются в социальных сетях, рассказывают о своей семье, работе и повседневных делах, отдыхе и развлечениях.

Публикация некоторой информации может быть опасной для человека, его семьи. Приведите не менее трёх примеров такой информации и для каждого из них объясните, в чём опасность публикации.

Пример «опасной» информации	Объяснение опасности публикации

18

В списке детских развлечений огонь стоит далеко не на последнем месте. Назовите не менее трёх правил безопасного поведения, которые гражданин должен соблюдать для предотвращения пожара, спровоцированного детьми.

Ответ: \_\_\_\_\_

\_\_\_\_\_

\_\_\_\_\_

\_\_\_\_\_

\_\_\_\_\_

\_\_\_\_\_

\_\_\_\_\_

\_\_\_\_\_

\_\_\_\_\_

\_\_\_\_\_

\_\_\_\_\_



19

Если, двигаясь по лесу, Вы увидели горелые деревья – это горелый лес. Двигаться по горелому лесу опасно. Назовите не менее двух правил безопасного поведения, которые нужно соблюдать в этой ситуации.

Ответ: \_\_\_\_\_

\_\_\_\_\_

\_\_\_\_\_

\_\_\_\_\_

\_\_\_\_\_

\_\_\_\_\_

\_\_\_\_\_

\_\_\_\_\_

\_\_\_\_\_

\_\_\_\_\_

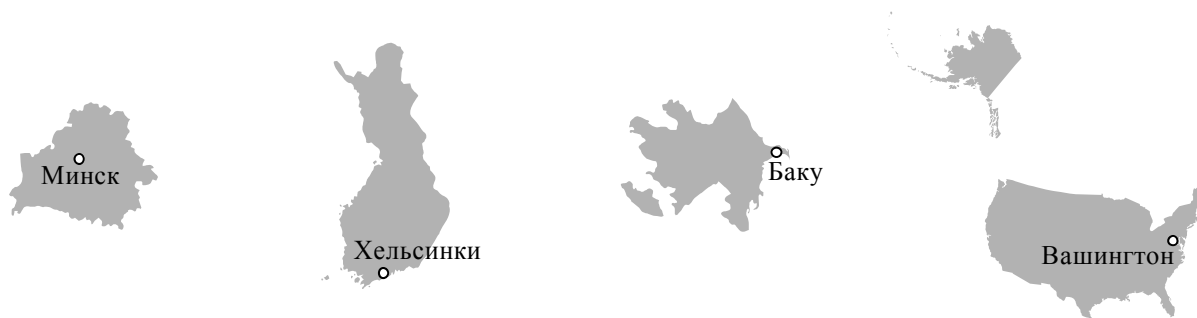
\_\_\_\_\_



20

На рисунках представлены контуры стран – соседей России с указанием столиц этих стран. Подпишите под каждым рисунком рядом с номером название соответствующей страны.

1) Выберите из списка названия этих стран и укажите их под рисунками.




1 – \_\_\_\_\_ 2 – \_\_\_\_\_ 3 – \_\_\_\_\_ 4 – \_\_\_\_\_

Страны-соседи России:

Белоруссия, США, Азербайджан, Финляндия.

2) Определите расположение указанных Вами стран на схеме и впишите в пустые квадраты их **номера**.

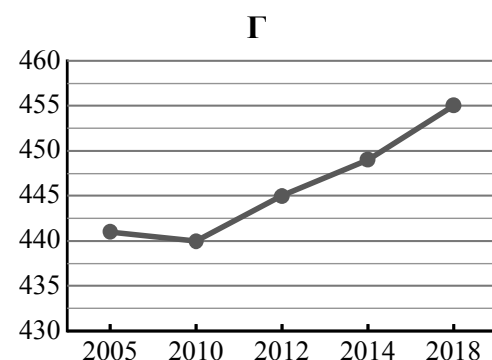
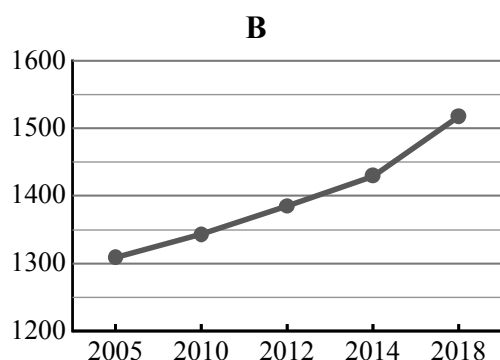
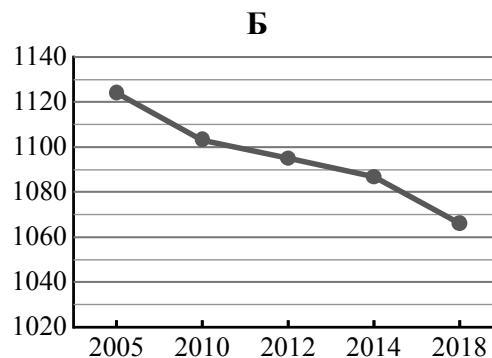
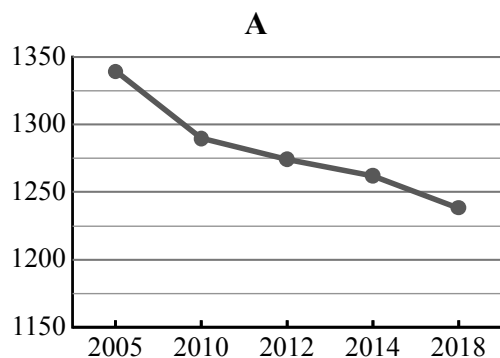


21

Используя представленную ниже таблицу и графики динамики численности населения по субъектам Российской Федерации за период 2005–2018 гг., выполните задания.

**Динамика численности населения, тыс. человек**

№ п/п	Субъекты РФ	2005 г.	2010 г.	2012 г.	2014 г.	2018 г.
1	Республика Адыгея	441	440	445	449	455
2	Забайкальский край	1124	1103	1095	1087	1066
3	Ульяновская область	1340	1290	1274	1262	1238
4	Тюменская область	1309	1343	1385	1429	1518



1) Определите, какому субъекту Российской Федерации соответствует каждый график динамики численности населения. Запишите в ответе **порядковые номера** субъектов Российской Федерации под соответствующими буквами.

Ответ.

А	Б	В	Г

2) В каких из приведённых в таблице субъектов Российской Федерации численность населения за указанный период снизилась?

Ответ. \_\_\_\_\_

3) В каком из приведённых в таблице субъектов Российской Федерации рост численности населения за указанный период был наибольшим?

Ответ. \_\_\_\_\_

22

При строительстве в сейсмоопасных районах применяется особая технология. Сейсмостойкость каменных зданий обеспечивают многими конструктивными приёмами, например устройством железобетонных каркасов в оконных и дверных проёмах и т. д. В каких двух из перечисленных регионов России строительство сейсмостойких зданий наиболее актуально? Запишите в таблицу цифры, под которыми указаны эти регионы.

- 1) Забайкальский край
- 2) Псковская область
- 3) Курская область
- 4) Республика Алтай
- 5) Астраханская область

Ответ.

--	--

23

Туристические фирмы разных регионов России разработали слоганы (рекламные лозунги) для привлечения туристов в свои регионы. Установите соответствие между слоганами и регионами: к каждому элементу первого столбца подберите соответствующий элемент из второго столбца.

## СЛОГАНЫ

## РЕГИОНЫ

- |   |   |
|---|---|
| <p>А) В нашем регионе, в дельте самой протяжённой реки Европейской части России, круглый год возможны рыбалка и отдых!</p> <p>Б) Субтропический климат, морское побережье, горный ландшафт создали в нашем регионе идеальные условия для туризма, отдыха и санаторного лечения!</p> | <ol style="list-style-type: none"> <li>1) Ростовская область</li> <li>2) Краснодарский край</li> <li>3) Калининградская область</li> <li>4) Астраханская область</li> </ol> |
|---|---|

Запишите в таблицу выбранные цифры под соответствующими буквами.

Ответ:

А	Б