

Всероссийская проверочная работа
ДЛЯ ОЦЕНКИ МЕТАПРЕДМЕТНЫХ РЕЗУЛЬТАТОВ ОБУЧЕНИЯ
в соответствии с федеральным государственным образовательным
стандартом основного общего образования
для обучающихся первых курсов по очной форме обучения по образовательным
программам среднего профессионального образования на базе основного общего
образования

Вариант 55757

Инструкция по выполнению работы

Проверочная работа включает в себя 23 задания.

На выполнение проверочной работы отводится 2 часа (120 минут).

Ответами к заданиям 1–11, 13, 14, 20–23 являются цифра, последовательность цифр или слово (словосочетание). Задания 12, 15–19 требуют полного ответа (дать объяснение, описание или обоснование; высказать и аргументировать собственное мнение). В случае записи неверного ответа зачеркните его и запишите рядом новый.

При выполнении работы не разрешается пользоваться учебниками, рабочими тетрадями и другими справочными материалами.

При выполнении заданий Вы можете пользоваться черновиком. Записи в черновике проверяться и оцениваться не будут.

Советуем выполнять задания в том порядке, в котором они даны. В целях экономии времени пропускайте задание, которое не удаётся выполнить сразу, и переходите к следующему. Если после выполнения всей работы у Вас останется время, то Вы сможете вернуться к пропущенным заданиям.

Баллы, полученные Вами за выполненные задания, суммируются. Постарайтесь выполнить как можно больше заданий и набрать наибольшее количество баллов.

Желаем успеха!

Таблица для внесения баллов участника

Номер задания	1	2	3	4	5	6	7	8	9	10	11	12	13	14	15
Баллы															
Номер задания	16	17(1)	17(2)	18	19	20(1)	20(2)	21.1	21.2	21.3	22	23	Сумма баллов	Отметка за работу	
Баллы															

1 Назовите имя исторического деятеля, о котором идёт речь.

Патриарх Московский и всея Руси. Проведённая им церковная реформа по приведению священных книг и обрядов в соответствие с греческой традицией привела к расколу в Русской православной церкви.

Ответ: _____.

2 Заполните пропуски в данных предложениях, используя приведённый ниже список пропущенных элементов: для каждого предложения, обозначенного буквой и содержащего пропуск, выберите номер нужного элемента.

А) В годы нахождения у власти царевны Софьи Алексеевны было открыто первое в России высшее учебное заведение – _____.

Б) _____ мирный договор окончательно утвердил вхождение Крыма в состав Российской империи.

В) Российским флотом в Синопском сражении командовал адмирал _____.

Пропущенные элементы:

- 1) Ф.Ф. Ушаков
- 2) Славяно-греко-латинская академия
- 3) Ясский
- 4) Московский университет
- 5) П.С. Нахимов
- 6) Ништадтский

Запишите в таблицу выбранные цифры под соответствующими буквами.

Ответ:

А	Б	В

3

Рассмотрите изображение и выполните задание.



Назовите киевского князя, в период правления которого было положено начало составлению документа, изображённого на монете.

Ответ: _____.

4

Прочтите отрывок из сочинения историка и укажите город, название которого трижды пропущено в тексте.

«Осенью 1854 г. противники России решили нанести удар по главной базе русского Черноморского флота — _____. Для этого они сосредоточили на побережье Болгарии в районе Варны большую экспедиционную армию, а затем высадили её в Крыму. Главнокомандующий французским десантным корпусом маршал Сент-Арно бахвалился: «Лишь только я высажусь в Крыму, и бог пошлёт нам несколько часов штилю — конечно: я владею _____ и Крымом». Лорд Раглан, командовавший английскими войсками, был более сдержан в речах, но разделял уверенность своего коллеги в том, что если высадка пройдёт удачно, то судьба _____ и русского флота будет предрешена».

Ответ: _____.

5

Заполните пустые ячейки таблицы, используя приведённый ниже список пропущенных элементов: для каждого пропуска, обозначенного буквой, выберите номер нужного элемента.

Год	Событие	Участник
1242 г.	_____ (А)	Александр Невский
_____ (Б)	Принятие Соборного уложения	_____ (В)
1770 г.	_____ (Г)	_____ (Д)

Пропущенные элементы:

- 1) Пётр I
- 2) Полтавская битва
- 3) Ледовое побоище
- 4) Алексей Михайлович
- 5) Чесменское сражение
- 6) 1547 г.
- 7) А.Г. Орлов
- 8) 1649 г.

Запишите в таблицу выбранные цифры под соответствующими буквами.

Ответ:

А	Б	В	Г	Д

6

Рассмотрите изображение и выполните задание.



Укажите год, когда проходил изображённый на картине парад.

Ответ: _____.

Ознакомьтесь с перечнем и изображениями памятников культуры и выполните задания 7 и 8.

- 1) роман «Война и мир»;
- 2) поэма «Мёртвые души»;
- 3) «Великие Четгы-Минеи»

4)



5)



7

Какие из приведённых памятников культуры были созданы в XVI в.? Выберите два памятника культуры и запишите в таблицу цифры, под которыми они указаны.

Ответ:

--	--

8

В создании какого из приведённых памятников культуры принял активное участие митрополит Макарий? Укажите порядковый номер этого памятника культуры.

Ответ:

--

9

Установите соответствие между вопросами и субъектами государственной власти РФ, к ведению которых эти вопросы относятся: к каждой позиции, данной в первом столбце, подберите соответствующую позицию из второго столбца.

ВОПРОСЫ

СУБЪЕКТЫ
ГОСУДАРСТВЕННОЙ ВЛАСТИ
РФ

- | | |
|--|--|
| <p>А) установление правовых основ единого рынка</p> <p>Б) регулирование и защита прав национальных меньшинств</p> <p>В) координация вопросов здравоохранения</p> <p>Г) защита исконной среды обитания и традиционного образа жизни малочисленных этнических общностей</p> <p>Д) адвокатура, нотариат</p> | <p>1) только федеральный центр</p> <p>2) совместно федеральный центр и субъекты РФ</p> |
|--|--|

Запишите в таблицу выбранные цифры под соответствующими буквами.

Ответ:

А	Б	В	Г	Д

10

Гражданину РФ Ивану 14 лет, а гражданину РФ Аркадию 12 лет. Найдите в приведённом списке позиции, общие для правового статуса Ивана и правового статуса Аркадия. Запишите **цифры**, под которыми они указаны.

- 1) быть заслушанным в ходе судебного разбирательства по определению места жительства при разводе родителей
- 2) совершать сделки, направленные на безвозмездное получение выгоды, не требующие нотариального удостоверения либо государственной регистрации
- 3) распоряжаться своими заработком, стипендией и иными доходами
- 4) заключать трудовой договор (работа курьера) с согласия родителей
- 5) вносить вклады в кредитные учреждения и распоряжаться этими вкладами

Ответ: _____.

11

Установите соответствие между примерами и мерами юридической ответственности в РФ: к каждой позиции, данной в первом столбце, подберите соответствующую позицию из второго столбца.

ПРИМЕРЫ

- А) компенсация морального вреда
- Б) увольнение по соответствующим основаниям
- В) предупреждение
- Г) обязательные работы
- Д) признание недействительным решения собрания

МЕРЫ ЮРИДИЧЕСКОЙ ОТВЕТСТВЕННОСТИ
В РФ

- 1) способы защиты гражданских прав по Гражданскому кодексу РФ
- 2) дисциплинарные взыскания по Трудовому кодексу РФ
- 3) административные наказания по Кодексу РФ об административных правонарушениях

Запишите в таблицу выбранные цифры под соответствующими буквами.

Ответ:

А	Б	В	Г	Д

12

Рассмотрите фотографию.



Какой тип межличностных отношений может быть проиллюстрирован с помощью данной фотографии? (Укажите не конкретное, а наиболее общее название.) Объясните, в чём состоит сущность данного типа межличностных отношений.

Ответ: _____

Используя обществоведческие знания, факты социальной жизни и личный социальный опыт, укажите любые два качества, которые необходимы изображённым на фотографии людям для того, чтобы такие межличностные отношения были успешными.

Ответ: _____

13

Установите соответствие между примерами и функциями денег: к каждому элементу, данному в первом столбце, подберите соответствующий элемент из второго столбца.

ПРИМЕРЫ

ФУНКЦИИ ДЕНЕГ

- | | |
|---|---|
| <p>А) Марта заплатила за стрижку 750 рублей.</p> <p>Б) Иосиф перечислил премию на свой счёт в банке.</p> <p>В) Вера отложила 1000 рублей на покупку вечернего платья.</p> <p>Г) Цена газеты в киоске – 25 рублей.</p> <p>Д) Сергей купил новую пару обуви за 6000 рублей.</p> | <p>1) мера стоимости</p> <p>2) средство обращения</p> <p>3) средство накопления /сбережения</p> |
|---|---|

Запишите в таблицу выбранные цифры под соответствующими буквами.

Ответ:

А	Б	В	Г	Д

14

Павел решил взять кредит. Какая информация позволит сделать вывод о том, что это решение было обдуманно и хорошо спланировано? Запишите **цифры**, под которыми указаны два соответствующих предложения.

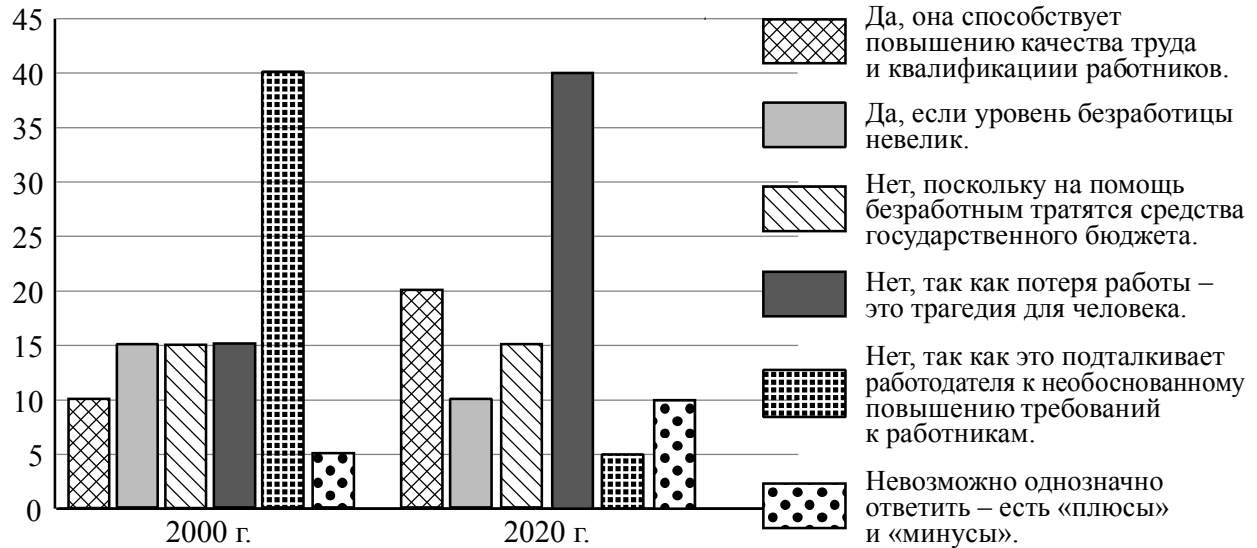
- 1) Желание взять кредит возникло после просмотра рекламной передачи о новой модели дорогих часов.
- 2) При выборе банка Павел руководствовался прежде всего территориальной близостью отделения банка к его дому.
- 3) Кредит потрачен на возвращающую трудоспособность реабилитацию после медицинских процедур.
- 4) Павел просчитал, что в состоянии погасить кредит без особого ущерба для своего бюджета.
- 5) Ранее Павел был признан банкротом.

Ответ: _____.

15

В начале XXI века в государстве Z началась реформа законодательства, был принят новый трудовой кодекс. В ходе социологических опросов жителям государства Z предложили ответить на вопрос: «Полезна ли безработица для развития экономики и общества в целом?».

Результаты опросов (в % от числа отвечавших) представлены в графическом виде.



Сформулируйте одно существенное различие в позициях групп опрошенных. Выскажите предположение о том, чем объясняется это различие.

Различие: _____

Предположение: _____



16

Светлане позвонил мужчина, который представился специалистом службы безопасности банка. Мужчина сообщил, что был сбой в компьютерной сети банка. Для проверки сохранности денег на счёте Светланы он попросил её продиктовать номер карты и трёхзначный код на её обратной стороне.

В чём состоит опасность данной ситуации для личных финансов Светланы? Как ей правильно поступить в данной ситуации?

Ответ: _____

17

Абсолютное большинство людей общаются в социальных сетях, рассказывают о своей семье, работе и повседневных делах, отдыхе и развлечениях.

Публикация некоторой информации может быть опасной для человека, его семьи. Приведите не менее трёх примеров такой информации и для каждого из них объясните, в чём опасность публикации.

Пример «опасной» информации	Объяснение опасности публикации

18

Для экономии времени хозяйка одновременно включила электрическую плиту, микроволновую печь и электрический чайник для приготовления ужина, в это же время занялась глажением электрическим утюгом. При этом в квартире работает холодильник, телевизор и все приборы освещения.

Назовите не менее трёх правил безопасного поведения, которые гражданин должен соблюдать для предотвращения пожара.

Ответ: _____



19

Купание на пляже при несоблюдении правил купания представляет собой опасность для здоровья, а в ряде случаев и угрозу для жизни.

Назовите не менее двух возможных угроз и опасностей, связанных с купанием на пляже, которые могут привести к получению травм или гибели человека.

Ответ: _____



20

На рисунках представлены контуры стран – соседей России с указанием столиц этих стран. Подпишите под каждым рисунком рядом с номером название соответствующей страны.

1) Выберите из списка названия этих стран и укажите их под рисунками.



1 – _____ 2 – _____ 3 – _____ 4 – _____

Страны-соседи России:

Украина, Финляндия, КНДР, Латвия.

2) Определите расположение указанных Вами стран на схеме и впишите в пустые квадраты их **номера**.

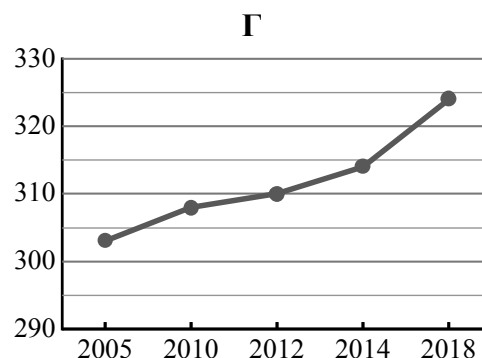
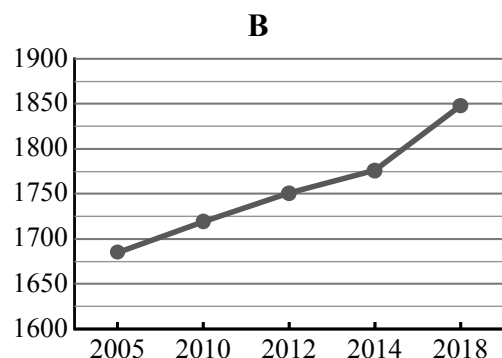
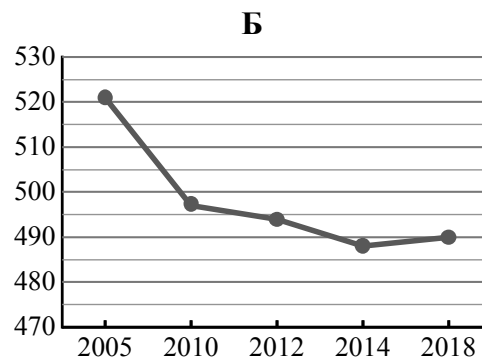
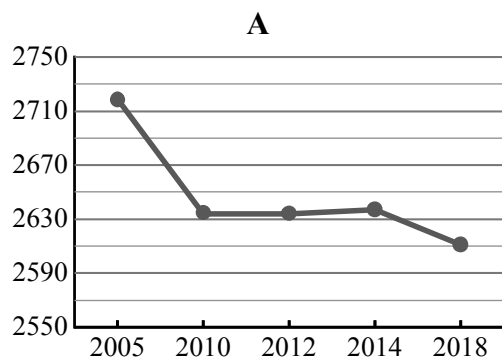


21

Используя представленную ниже таблицу и графики динамики численности населения по субъектам Российской Федерации за период 2005–2018 гг., выполните задания.

Динамика численности населения, тыс. человек

№ п/п	Субъекты РФ	2005 г.	2010 г.	2012 г.	2014 г.	2018 г.
1	Сахалинская область	521	497	494	488	490
2	Пермский край	2719	2634	2634	2637	2611
3	Республика Тыва	303	308	310	314	324
4	Ленинградская область	1685	1719	1751	1776	1848



1) Определите, какому субъекту Российской Федерации соответствует каждый график динамики численности населения. Запишите в ответе **порядковые номера** субъектов Российской Федерации под соответствующими буквами.

Ответ.

А	Б	В	Г

2) В каких из приведённых в таблице субъектов Российской Федерации численность населения за указанный период снизилась?

Ответ. _____

3) В каком из приведённых в таблице субъектов Российской Федерации рост численности населения за указанный период был наибольшим?

Ответ. _____

22

Для безопасности людей в сейсмоопасных районах применяется особая технология строительства. В каких двух из перечисленных регионов России необходимо вести сейсмостойкое строительство? Запишите в таблицу цифры, под которыми указаны эти регионы.

- 1) Республика Коми
- 2) Ростовская область
- 3) Калужская область
- 4) Республика Дагестан
- 5) Камчатский край

Ответ.

--	--

23

Туристические фирмы различных регионов России разработали слоганы (рекламные лозунги) для привлечения туристов в свои регионы. Установите соответствие между слоганами и регионами: к каждому элементу первого столбца подберите соответствующий элемент из второго столбца.

СЛОГАНЫ

РЕГИОНЫ

- | | |
|--|--|
| <p>А) Добро пожаловать на побережье Телецкого озера – горной жемчужины с неповторимой красотой!</p> <p>Б) Добро пожаловать в национальный парк Валдайский – жемчужину средней полосы России! Полюбуйтесь красотой озера Ильмень!</p> | <ol style="list-style-type: none"> 1) Республика Карелия 2) Краснодарский край 3) Республика Алтай 4) Новгородская область |
|--|--|

Запишите в таблицу выбранные цифры под соответствующими буквами.

Ответ:

А	Б