

Всероссийская проверочная работа
ДЛЯ ОЦЕНКИ МЕТАПРЕДМЕТНЫХ РЕЗУЛЬТАТОВ ОБУЧЕНИЯ
в соответствии с федеральным государственным образовательным
стандартом основного общего образования
для обучающихся первых курсов по очной форме обучения по образовательным
программам среднего профессионального образования на базе основного общего
образования

Вариант 86742

Инструкция по выполнению работы

Проверочная работа включает в себя 23 задания.

На выполнение проверочной работы отводится 2 часа (120 минут).

Ответами к заданиям 1–11, 13, 14, 20–23 являются цифра, последовательность цифр или слово (словосочетание). Задания 12, 15–19 требуют полного ответа (дать объяснение, описание или обоснование; высказать и аргументировать собственное мнение). В случае записи неверного ответа зачеркните его и запишите рядом новый.

При выполнении работы не разрешается пользоваться учебниками, рабочими тетрадями и другими справочными материалами.

При выполнении заданий Вы можете пользоваться черновиком. Записи в черновике проверяться и оцениваться не будут.

Советуем выполнять задания в том порядке, в котором они даны. В целях экономии времени пропускайте задание, которое не удаётся выполнить сразу, и переходите к следующему. Если после выполнения всей работы у Вас останется время, то Вы сможете вернуться к пропущенным заданиям.

Баллы, полученные Вами за выполненные задания, суммируются. Постарайтесь выполнить как можно больше заданий и набрать наибольшее количество баллов.

Желаем успеха!

Таблица для внесения баллов участника

Номер задания	1	2	3	4	5	6	7	8	9	10	11	12	13	14	15
Баллы															
Номер задания	16	17(1)	17(2)	18	19	20(1)	20(2)	21.1	21.2	21.3	22	23	Сумма баллов	Отметка за работу	
Баллы															

1 Назовите фамилию исторического деятеля, о котором идёт речь.

Декабрист, член «Союза спасения» и «Союза благоденствия». Основатель Южного общества декабристов. Автор «Русской правды».

Ответ: _____.

2 Заполните пропуски в данных предложениях, используя приведённый ниже список пропущенных элементов: для каждого предложения, обозначенного буквой и содержащего пропуск, выберите номер нужного элемента.

А) В 1565 г. с целью укрепления своей власти Иван IV учредил _____.

Б) Династия Романовых воцарилась на российском престоле в _____ году.

В) Фактическим правителем России в годы царствования Фёдора Иоанновича был его шурин – _____.

Пропущенные элементы:

- 1) 1613
- 2) Б.Ф. Годунов
- 3) 1645
- 4) опричнину
- 5) А.М. Курбский
- 6) местничество

Запишите в таблицу выбранные цифры под соответствующими буквами.

Ответ:

А	Б	В

3

Рассмотрите изображение и выполните задание.



Укажите российского монарха, по указу которого был возведён данный памятник архитектуры.

Ответ: _____.

4

Прочтите отрывок из сочинения историка и укажите предводителя народного восстания, имя которого пропущено в тексте.

«Вряд ли мысль назваться «императором Петром Фёдоровичем» кем-то была навязана _____. Стремление «быть отличным» от других проявлялось у него ещё во время войны с Турцией, когда он как-то хвастался своей саблей, якобы подаренной ему «крестным отцом... Петром Великим». Теперь «крестник» Петра I готов был стать Петром III».

Ответ: _____.

5

Заполните пустые ячейки таблицы, используя приведённый ниже список пропущенных элементов: для каждого пропуска, обозначенного буквой, выберите номер нужного элемента.

Год	Событие	Участник
_____ (А)	_____ (Б)	Московский князь Дмитрий Иванович
1612 г.	_____ (В)	Д.М. Пожарский
_____ (Г)	Синопский бой	_____ (Д)

Пропущенные элементы:

- 1) Куликовская битва
- 2) 1853 г.
- 3) П.С. Нахимов
- 4) «стояние» на реке Угре
- 5) освобождение Москвы от польско-литовских интервентов
- 6) 1380 г.
- 7) М.И. Кутузов
- 8) 1480 г.


Запишите в таблицу выбранные цифры под соответствующими буквами.

Ответ:

А	Б	В	Г	Д

6

Рассмотрите изображение и выполните задание.



Укажите название битвы, которой посвящено данное изображение.

Ответ: _____.

Ознакомьтесь с перечнем и изображениями памятников культуры и выполните задания 7 и 8.

- 1) роман «Преступление и наказание»;
- 2) «История о великом князе Московском»;
- 3) «Повесть временных лет»

4)



5)



7

Какие из приведённых памятников культуры были созданы в XVI в.? Выберите два памятника культуры и запишите в таблицу цифры, под которыми они указаны.

Ответ:

--	--

8

Создателем какого из приведённых памятников культуры является Андрей Курбский? Укажите порядковый номер этого памятника культуры.

Ответ:

--

9

Установите соответствие между вопросами и субъектами государственной власти РФ, к ведению которых эти вопросы относятся: к каждой позиции, данной в первом столбце, подберите соответствующую позицию из второго столбца.

ВОПРОСЫ

- А) федеральные налоги и сборы
 Б) федеральные транспорт, пути сообщения, информация и связь
 В) координация вопросов здравоохранения
 Г) защита исконной среды обитания и традиционного образа жизни малочисленных этнических общностей
 Д) оборонное производство

СУБЪЕКТЫ
ГОСУДАРСТВЕННОЙ ВЛАСТИ
РФ

- 1) только федеральный центр
 2) совместно федеральный центр и субъекты РФ

Запишите в таблицу выбранные цифры под соответствующими буквами.

Ответ:

А	Б	В	Г	Д

10

Гражданину России Артёму 14 лет, а гражданину России Петру 12 лет. Найдите в приведённом списке позиции, отличающие правовой статус Артёма от правового статуса Петра, и запишите **цифры**, под которыми они указаны.

- 1) быть заслушанным в ходе судебного разбирательства по определению места жительства при разводе родителей
- 2) распоряжаться своими заработком, стипендией и иными доходами
- 3) заключать трудовой договор (работа курьера) с согласия одного из родителей и органов опеки и попечительства
- 4) совершать сделки, направленные на безвозмездное получение выгоды, не требующие нотариального удостоверения либо государственной регистрации
- 5) совершать мелкие бытовые сделки

Ответ: _____.

11

Установите соответствие между примерами и мерами юридической ответственности в РФ: к каждой позиции, данной в первом столбце, подберите соответствующую позицию из второго столбца.

ПРИМЕРЫ

- А) административный штраф
- Б) взыскание неустойки
- В) возмещение убытков
- Г) арест
- Д) признание права

МЕРЫ ЮРИДИЧЕСКОЙ ОТВЕТСТВЕННОСТИ
В РФ

- 1) административные наказания по Кодексу РФ об административных правонарушениях
- 2) наказания по Уголовному кодексу РФ
- 3) способы защиты гражданских прав по Гражданскому кодексу РФ

Запишите в таблицу выбранные цифры под соответствующими буквами.

□

Ответ:

А	Б	В	Г	Д

12

Рассмотрите фотографию.



Какая форма (вид) деятельности может быть проиллюстрирована с помощью данной фотографии? (Укажите не конкретное, а наиболее общее название.) Объясните, в чём состоит сущность данной формы (вида) деятельности.

Ответ: _____

Используя обществоведческие знания, факты социальной жизни и личный социальный опыт, укажите любые два качества, которые необходимы человеку для того, чтобы эта деятельность была успешной.

□

Ответ: _____

13

Установите соответствие между примерами и смыслами понятия «экономика»: к каждому элементу, данному в первом столбце, подберите соответствующий элемент из второго столбца.

ПРИМЕРЫ

- А) расчёт изменения предложения чая и кофе
 Б) изучение спроса на печатные издания
 В) прогнозирование цен на подержанные автомобили
 Г) производство холодильников новой модели
 Д) оказание услуг по химической чистке одежды

СМЫСЛЫ ПОНЯТИЯ
«ЭКОНОМИКА»

- 1) экономика как наука
 2) экономика как хозяйство

Запишите в таблицу выбранные цифры под соответствующими буквами.

□ Ответ:

А	Б	В	Г	Д

14

Найдите в приведённом ниже списке два примера финансово грамотных действий граждан при размещении финансовых средств в паевые инвестиционные фонды (ПИФ) и запишите **цифры**, под которыми они указаны.

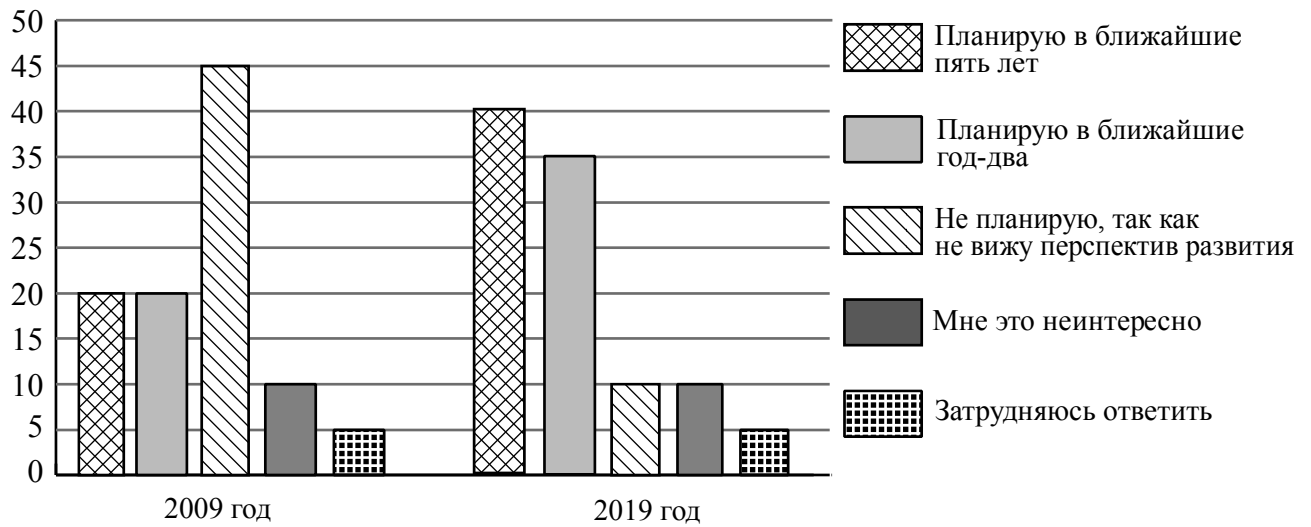
- 1) Нурбек приобрёл пай, ориентируясь на высокую доходность фонда в течение нескольких лет, включая период экономического кризиса.
- 2) Нина полгода не оплачивала услуги ЖКХ, чтобы купить на эти средства пай.
- 3) Татьяна для увеличения прибыли выбрала фонд смешанных инвестиций.
- 4) Христофор приобрёл пай, ориентируясь на доходность нового фонда только за первые полгода его существования.
- 5) Эльнур, не имея опыта использования финансовых инструментов, решил приобрести пай в ПИФе, не изучив информацию о его деятельности.

□ Ответ: _____.

15

В ходе социологического опроса совершеннолетних граждан страны Z им задавали вопрос: «Планируете ли Вы открыть, создать собственный бизнес?».

Результаты опроса (в % от числа отвечавших) представлены в графическом виде.



Сформулируйте одно существенное различие в позициях групп опрошенных. Выскажите предположение о том, чем объясняется это различие.

Различие: _____

Предположение: _____

16

66-летней пенсионерке Анне В. пришло СМС-сообщение о том, что ей будут перечислены 10 000 рублей от благотворительного фонда. Но предварительно она должна оплатить комиссию в 500 рублей за перевод этих средств.

В чём состоит опасность данной ситуации для личных финансов Анны В.? Как ей правильно поступить в данной ситуации?

Ответ: _____

17

Абсолютное большинство людей общаются в социальных сетях, рассказывают о своей семье, работе и повседневных делах, отдыхе и развлечениях.

Публикация некоторой информации может быть опасной для человека, его семьи. Приведите не менее трёх примеров такой информации и для каждого из них объясните, в чём опасность публикации.

Пример «опасной» информации	Объяснение опасности публикации

18

Назовите не менее трёх правил безопасного поведения, которые гражданин должен соблюдать для предотвращения падения человека, стоящего в оконном проёме (на балконе) и готового прыгнуть вниз.

Ответ: _____

19

Многие люди купаются в реках и морях.

Назовите не менее двух правил безопасного поведения, которые нужно соблюдать для предотвращения угроз и опасностей, связанных с речными и морскими течениями.

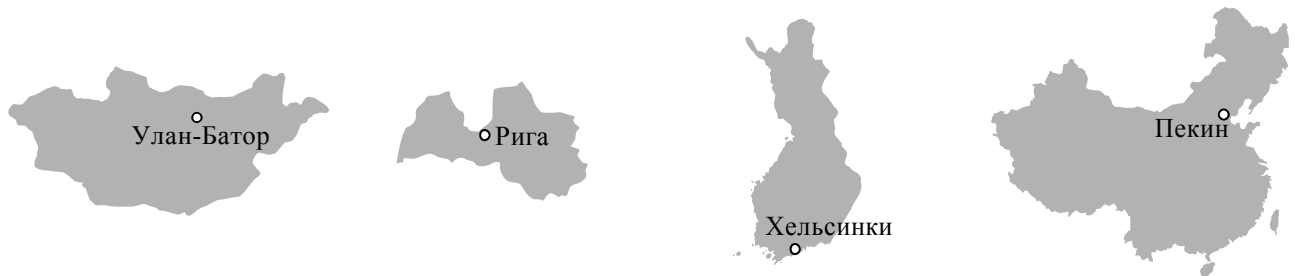
Ответ: _____



20

На рисунках представлены контуры стран – соседей России с указанием столиц этих стран. Подпишите под каждым рисунком рядом с номером название соответствующей страны.

1) Выберите из списка названия этих стран и укажите их под рисунками.



1 – _____ 2 – _____ 3 – _____ 4 – _____

Страны-соседи России:

Монголия, Китай, Финляндия, Латвия.

2) Определите расположение указанных Вами стран на схеме и впишите в пустые квадраты их **номера**.

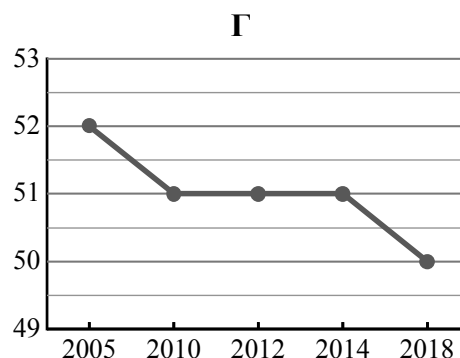
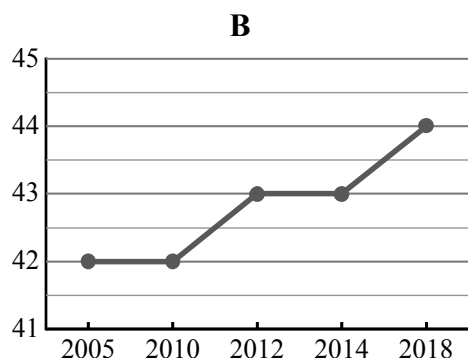
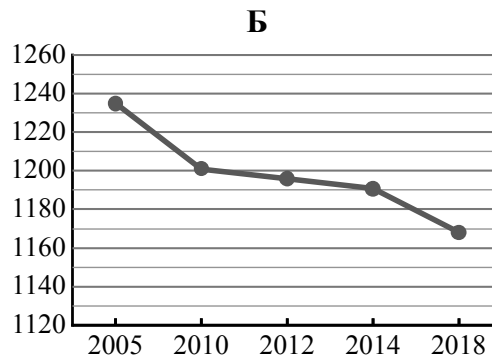
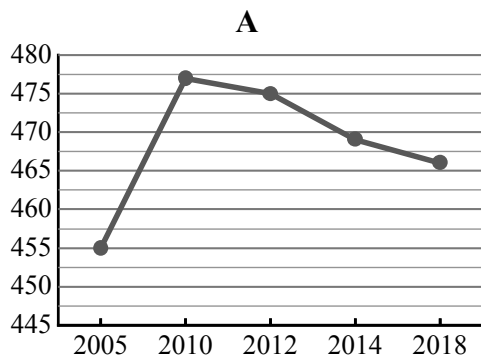


21

Используя представленную ниже таблицу и графики динамики численности населения по субъектам Российской Федерации за период 2005–2018 гг., выполните задания.

Динамика численности населения, тыс. человек

№ п/п	Субъекты РФ	2005 г.	2010 г.	2012 г.	2014 г.	2018 г.
1	Чукотский автономный округ	52	51	51	51	50
2	Вологодская область	1235	1201	1196	1191	1168
3	Ненецкий автономный округ	42	42	43	43	44
4	Карачаево-Черкесская Республика	455	477	475	469	466



1) Определите, какому субъекту Российской Федерации соответствует каждый график динамики численности населения. Запишите в ответе **порядковые номера** субъектов Российской Федерации под соответствующими буквами.

Ответ.

А	Б	В	Г

2) В каких из приведённых в таблице субъектов Российской Федерации численность населения за указанный период выросла?

Ответ. _____

3) В каком из приведённых в таблице субъектов Российской Федерации убыль населения за указанный период была наибольшей?

Ответ. _____

22

В районах распространения многолетнемерзлых грунтов, для того, чтобы обеспечить устойчивость сооружений и предотвратить их разрушение, дома строят на глубоко вбитых сваях. В каких двух из перечисленных городов России необходимо применять такую технологию строительства? Запишите в таблицу цифры, под которыми указаны эти города.

- 1) Петрозаводск
- 2) Магадан
- 3) Сыктывкар
- 4) Тюмень
- 5) Чита

Ответ.

--	--

23

Туристические фирмы разных регионов России разработали слоганы (рекламные лозунги) для привлечения новых туристов в свои регионы. Установите соответствие между слоганами и регионами: к каждому элементу первого столбца подберите соответствующий элемент из второго столбца.

СЛОГАНЫ

РЕГИОНЫ

- | | |
|--|---|
| <p>А) Здесь можно побывать и в Западном, и в Восточном полушарии!</p> <p>Б) Добро пожаловать в уникальную Долину гейзеров!</p> | <p>1) Камчатский край</p> <p>2) Мурманская область</p> <p>3) Калининградская область</p> <p>4) Чукотский АО</p> |
|--|---|

Запишите в таблицу выбранные цифры под соответствующими буквами.

Ответ:

А	Б