

**Всероссийская проверочная работа**  
**ДЛЯ ОЦЕНКИ МЕТАПРЕДМЕТНЫХ РЕЗУЛЬТАТОВ ОБУЧЕНИЯ**  
**в соответствии с федеральным государственным образовательным**  
**стандартом среднего общего образования**  
**для обучающихся по программам среднего профессионального образования,**  
**завершивших в предыдущем учебном году освоение общеобразовательных предметов,**  
**проходящих обучение по очной форме на базе основного общего образования.**

**Вариант 99954**

**Инструкция по выполнению работы**

Проверочная работа включает в себя 22 задания.

На выполнение диагностической работы отводится 2 часа (120 минут).

Ответами к заданиям 1, 2, 5, 6, 8, 9–12, 17–21 являются цифра, последовательность цифр или слово (словосочетание).

Задания 3, 4, 7, 13–16, 22 требуют полного ответа (дать объяснение, описание или обоснование; высказать и аргументировать собственное мнение). В случае записи неверного ответа зачеркните его и запишите рядом новый.

При выполнении работы не разрешается пользоваться учебниками, рабочими тетрадями и другими справочными материалами.

При выполнении заданий Вы можете пользоваться черновиком. Записи в черновике проверяться и оцениваться не будут.

Советуем выполнять задания в том порядке, в котором они даны. В целях экономии времени пропускайте задание, которое не удаётся выполнить сразу, и переходите к следующему. Если после выполнения всей работы у Вас останется время, то Вы сможете вернуться к пропущенным заданиям.

Баллы, полученные Вами за выполненные задания, суммируются. Постарайтесь выполнить как можно больше заданий и набрать наибольшее количество баллов.

***Желаем успеха!***

Таблица для внесения баллов участника

Номер задания	1	2	3	4	5	6	7	8	9	10	11	12	13	14
Баллы														
Номер задания	15(1)	15(2)	16	17	18	19	20	21	22	Сумма баллов	Отметка за работу			
Баллы														

1

Установите соответствие между историческими деятелями и информацией, относящейся к ним: к каждой позиции первого столбца подберите соответствующую позицию из второго столбца.

## ИСТОРИЧЕСКИЕ ДЕЯТЕЛИ

- А) А.Н. Туполев  
Б) Б.Н. Ельцин  
В) Г.Е. Львов

## ИНФОРМАЦИЯ

- 1) первый министр-председатель Временного правительства  
2) военачальник Красной армии во время Гражданской войны  
3) советский авиаконструктор, под руководством которого спроектировано более 100 типов самолётов  
4) первый Президент Российской Федерации

Запишите в таблицу выбранные цифры под соответствующими буквами.

Ответ:

А	Б	В

2

Прочитайте четыре предложения. Два из них содержат события, процессы, явления, являющиеся причинами (предпосылками). Другие два содержат последствия этих событий, процессов, явлений. Подберите для каждой из причин (предпосылок) соответствующее ей последствие. Номера соответствующих предложений запишите в таблицу.

- 1) Произошло выступление «антипартийной группы».  
2) Вспыхнуло массовое недовольство и открытые выступления в рабочей среде.  
3) В 1962 г. были повышены на 30 % цены на мясо и на 25 % цены на масло.  
4) После смерти И.В. Сталина началась борьба за власть в высшем партийном руководстве СССР.

	Номер предложения, содержащего			
	причину (предпосылку) 1	последствие 1	причину (предпосылку) 2	последствие 2
Ответ:				

3

Рассмотрите изображение и выполните задание.



Укажите название процесса форсированного наращивания промышленного потенциала СССР, в ходе которого был создан данный плакат.

Ответ: \_\_\_\_\_  
\_\_\_\_\_

Объясните, почему результаты указанного вами процесса важны а) для нашей страны, б) для всего человечества.

Ответ: \_\_\_\_\_  
\_\_\_\_\_  
\_\_\_\_\_  
\_\_\_\_\_  
\_\_\_\_\_  
\_\_\_\_\_  
\_\_\_\_\_  
\_\_\_\_\_  
\_\_\_\_\_  
\_\_\_\_\_



4

Прочтите отрывок из воспоминаний участника событий и выполните задание.

«27 апреля 3-я и 5-я ударные армии успешно наступали на центр Берлина – Тиргартен, где располагались главные государственные учреждения третьего рейха, в том числе и имперская канцелярия, в которой укрывался Гитлер со своей ставкой, и рейхстаг. 2-я гвардейская танковая армия вела бои в районе Шарлоттенбурга, 1-я гвардейская танковая армия действовала плечом к плечу с 8-й гвардейской. Левее 2-й гвардейской танковой и 8-й гвардейской наступали части 1-го Украинского фронта.

Попытки с ходу форсировать канал Ландвер потерпели неудачу. Тиргартен – остров, омываемый со всех сторон водами Шпрее и каналов, – оборонялся отборными частями СС и охранными батальонами.

Вечером я принял решение дать полусуточный отдых наступающим частям. Передышка была необходима не только для отдыха, но и для того, чтобы пополнить штурмовые группы, подвезти боеприпасы. Перед артиллеристами и миномётчиками была поставлена задача согласовать свои действия с артиллеристами соседних армий, наступающих на правительственные кварталы с востока, севера и запада. Кольцо вокруг противника сужалось, и в такой обстановке малейший перелёт снарядов и мин угрожал поражением наших войск».

Укажите год, когда произошли описываемые события. Почему, по словам автора, артиллеристам и миномётчикам необходимо было согласовать свои действия?

Назовите одну любую не указанную в данном тексте европейскую столицу, за которую Красная Армия вела бои в ходе войны, события которой описываются в данном отрывке.

Ответ: \_\_\_\_\_

---



---



---



---



---



---



---



---



---



---



---



---



---



---



---



---



---



---



---



---



---



---

**Ознакомьтесь с перечнем и изображениями памятников культуры и выполните задания 5 и 6.**

- 1) роман «Доктор Живаго»;
- 2) поэма «Мёртвые души»;

3)



4)



5

Какие из приведённых памятников культуры были созданы в XX в.? Выберите два памятника культуры и запишите в таблицу цифры, под которыми они указаны.

Ответ:

--	--

6

Создателем какого из приведённых памятников культуры является Б.Л. Пастернак? Укажите порядковый номер этого памятника культуры.

Ответ:

--

7

Рассмотрите изображение и выполните задание.



Назовите битву, в память о которой установлен изображённый на монете монумент. Каково значение этой битвы?

Ответ: \_\_\_\_\_

\_\_\_\_\_

\_\_\_\_\_

\_\_\_\_\_

\_\_\_\_\_

\_\_\_\_\_

\_\_\_\_\_

\_\_\_\_\_

\_\_\_\_\_

\_\_\_\_\_

\_\_\_\_\_

\_\_\_\_\_

\_\_\_\_\_

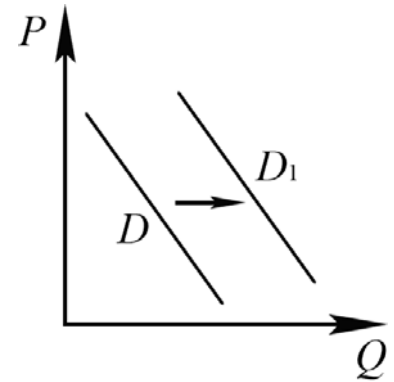
\_\_\_\_\_

\_\_\_\_\_

\_\_\_\_\_

8

На рисунке отражено изменение спроса на спортивные тренажёры на соответствующем рынке: линия спроса  $D$  переместилась в новое положение –  $D_1$ . ( $P$  – цена;  $Q$  – количество.)



Какие из перечисленных факторов могут вызвать такое изменение? Запишите цифры, под которыми они указаны.

- 1) снижение доходов населения
- 2) появление моды на здоровый образ жизни, занятия спортом
- 3) увеличение числа покупателей
- 4) рост затрат на производство спортивных тренажёров
- 5) государственная компенсация части затрат потребителей на занятия спортом

Ответ: \_\_\_\_\_.

9

Установите соответствие между примерами и видами налогов и сборов согласно Налоговому кодексу РФ: к каждой позиции, данной в первом столбце, подберите соответствующую позицию из второго столбца.

## ПРИМЕРЫ

## ВИДЫ НАЛОГОВ И СБОРОВ В РФ

- А) транспортный налог
- Б) налог на имущество организаций
- В) налог на прибыль организаций
- Г) водный налог
- Д) торговый сбор

- 1) федеральные
- 2) региональные
- 3) местные

Запишите в таблицу выбранные цифры под соответствующими буквами.

Ответ:

А	Б	В	Г	Д

10

Что из перечисленного относится к конституционным обязанностям гражданина РФ? Запишите цифры, под которыми они указаны.

- 1) уплата законно установленных налогов и сборов
- 2) забота трудоспособных детей, достигших 18 лет, о нетрудоспособных родителях
- 3) участие в референдуме
- 4) сохранение исторического и культурного наследия
- 5) бесплатное получение на конкурсной основе высшего образования в государственной образовательной организации

Ответ: \_\_\_\_\_.

11

Установите соответствие между полномочиями и субъектами государственной власти РФ, реализующими эти полномочия: к каждой позиции, данной в первом столбце, подберите соответствующую позицию из второго столбца.

## ПОЛНОМОЧИЯ

СУБЪЕКТЫ  
ГОСУДАРСТВЕННОЙ ВЛАСТИ  
РФ

- |   |  |
|---|--|
| <p>А) принятие федеральных законов</p> <p>Б) утверждение военной доктрины РФ</p> <p>В) обеспечение исполнения федерального бюджета</p> <p>Г) осуществление помилования</p> <p>Д) назначение на должность Уполномоченного по правам человека</p> | <p>1) Президент РФ</p> <p>2) Государственная Дума</p> <p>3) Правительство РФ</p> |
|---|--|

Запишите в таблицу выбранные цифры под соответствующими буквами.

□ Ответ:

А	Б	В	Г	Д

12

Виталий и Жанна обратились в органы ЗАГС с заявлением о регистрации брака. Найдите в приведённом списке условия, необходимые для заключения брака в РФ. Запишите **цифры**, под которыми они указаны.

- 1) достижение мужчиной и женщиной брачного возраста
- 2) наличие собственности хотя бы у одного из будущих супругов
- 3) отсутствие судимости у лиц, вступающих в брак
- 4) расторжение женихом другого, ранее зарегистрированного брака
- 5) добровольное согласие лиц, вступающих в брак
- 6) наличие работы хотя бы у одного из будущих супругов

□ Ответ: \_\_\_\_\_.



13

Граждане РФ Елена и Евгений накануне регистрации брака решили заключить брачный договор. По обоюдному согласию они включили в него пункты о правах и обязанностях в отношении своих будущих детей, о способах участия в доходах друг друга, о порядке несения каждым супругом семейных расходов, а также пункт об обязанности супруги обязательно согласовывать с супругом все вопросы, связанные с её трудоустройством.

- 1) Нотариус, к которому они обратились за удостоверением брачного договора, указал на необходимость исключить два пункта. О каких пунктах из перечисленных выше идёт речь?
- 2) Как Вы можете объяснить свой ответ?
- 3) Какое условие необходимо, чтобы составленный в письменной форме и удостоверенный у нотариуса брачный договор вступил в силу?
- 4) Какие ещё полномочия есть у нотариуса? (Укажите любые два таких полномочия.)

Ответ на первый вопрос: \_\_\_\_\_

\_\_\_\_\_

Ответ на второй вопрос: \_\_\_\_\_

\_\_\_\_\_

Ответ на третий вопрос: \_\_\_\_\_

\_\_\_\_\_

Ответ на четвёртый вопрос: \_\_\_\_\_

\_\_\_\_\_

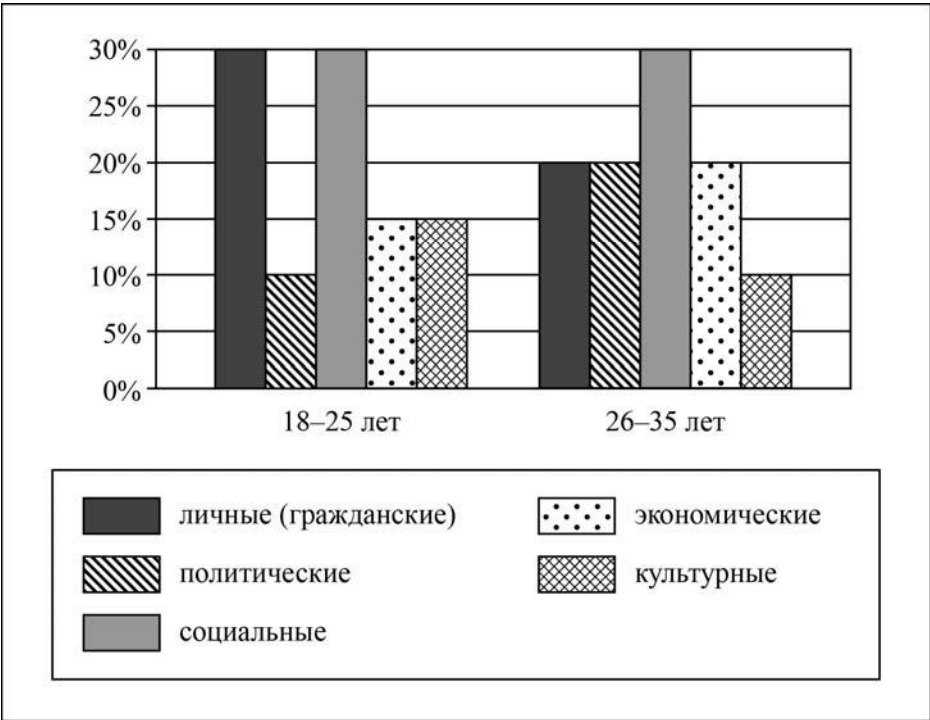
\_\_\_\_\_



14

В ходе социологического опроса граждан страны Z им задавали вопрос: «Какие группы прав, по вашему мнению, нарушаются чаще всего?»

Результаты опроса (в % от числа отвечающих) представлены в виде диаграммы.



Сформулируйте по одному выводу: а) о сходстве; б) о различии в позициях групп опрошенных. Выскажите предположение о том, чем объясняются указанные Вами: а) сходство; б) различие.



Ответ: \_\_\_\_\_

---



---



---



---



---



---



---



---



---



---



---



---



---



---



---

15

Назовите не менее четырёх действий, которые гражданин должен выполнить, если автобус, на котором он ехал, попал в аварию.

Ответ: \_\_\_\_\_

---

---

---

---

---

---

---

---

---

---

16

Представьте, что Вы купаетесь в море и видите, что недалеко тонет человек. Объясните, в чём состоит опасность данной ситуации.

Назовите не менее двух действий, которые нужно предпринять человеку, оказавшемуся в подобной ситуации.

Ответ: \_\_\_\_\_

---

---

---

---

---

---

---

---

---

---

17

Определите регион России по его краткому описанию.

Этот край, находящийся в Азиатской части страны, имеет приморское положение. Он граничит с самой большой по численности населения страной в мире. Административный центр расположен на берегу одной из самых протяжённых рек России. Одной из ведущих отраслей хозяйства является лесная и деревообрабатывающая промышленность.

Ответ: \_\_\_\_\_.

18

Прочитайте приведённый ниже текст, в котором пропущен ряд слов (словосочетаний). Выберите из предлагаемого списка слова (словосочетания), которые необходимо вставить на места пропусков.

### Особенности природы Европейского Юга России

Европейский Юг России имеет выход к нескольким морям. По рельефу делится на две части: равнинную и горную. Кавказские горы – это \_\_\_\_\_(А) горы. Здесь разведаны месторождения вольфрамо-молибденовых и свинцово-цинковых руд. На равнинной части географического района разведаны месторождения нефти, природного газа и \_\_\_\_\_(Б). Высочайшей вершиной Кавказских гор является гора Эльбрус, находящаяся на границе Кабардино-Балкарской Республики и \_\_\_\_\_(В).

Выбирайте последовательно одно слово (словосочетание) за другим, мысленно вставляя на места пропусков слова (словосочетания) из списка в нужной форме. Обратите внимание на то, что слов (словосочетаний) в списке больше, чем Вам потребуется для заполнения пропусков. Каждое слово (словосочетание) может быть использовано только один раз.

Список слов (словосочетаний):

- 1) древние
- 2) железные руды
- 3) молодые
- 4) каменный уголь
- 5) Карачаево-Черкесская Республика
- 6) Республика Калмыкия

В данной ниже таблице приведены буквы, обозначающие пропущенные слова (словосочетания). Запишите в таблицу под каждой буквой номер выбранного Вами слова (словосочетания).

Ответ:

А	Б	В

19

Установите соответствие между субъектом РФ и его административным центром: к каждому элементу первого столбца подберите соответствующий элемент из второго столбца.

### СУБЪЕКТ РФ

- А) Новгородская область
- Б) Амурская область
- В) Свердловская область

### АДМИНИСТРАТИВНЫЙ ЦЕНТР

- 1) Екатеринбург
- 2) Нижний Новгород
- 3) Благовещенск
- 4) Великий Новгород

Запишите в таблицу цифры, соответствующие выбранным ответам.

Ответ:

А	Б	В

20

Потенциал российских регионов для развития туризма огромен. Каждый из них имеет рекреационные ресурсы, способные привлечь тысячи туристов из России и зарубежных стран. Определите субъект Российской Федерации по описанию его рекреационного потенциала.

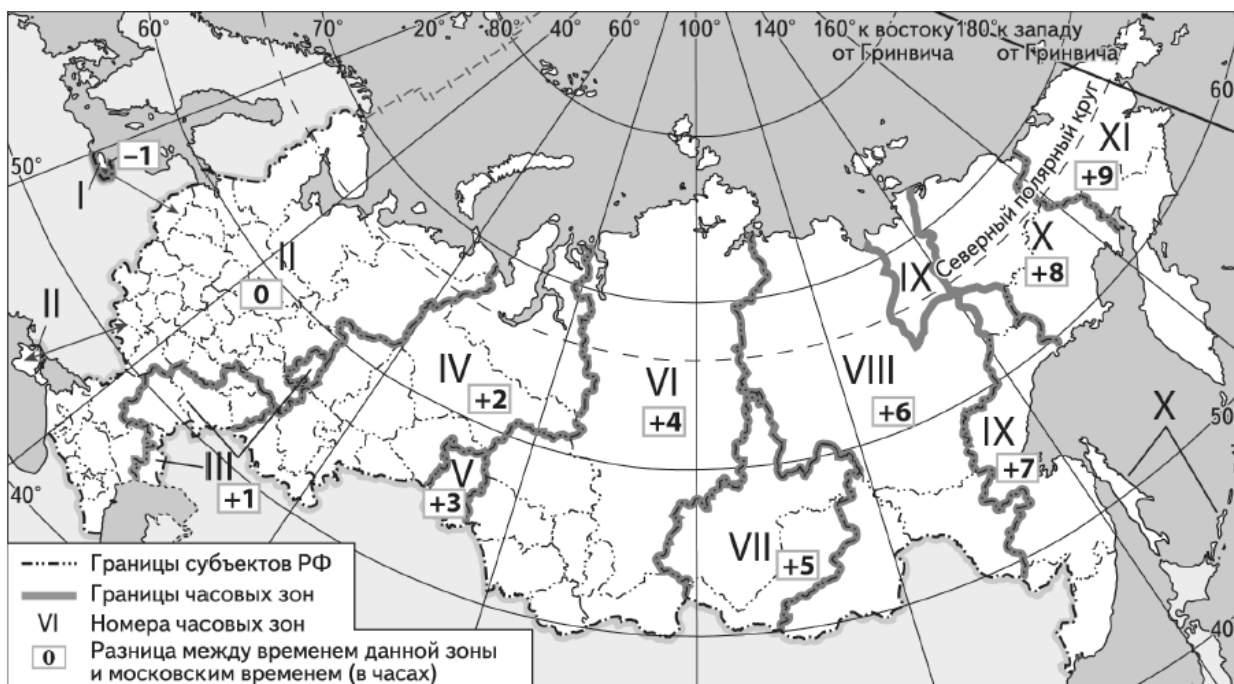
«Область выделяется своей тысячелетней историей, здесь находится более пяти тысяч объектов культурного наследия, около трёхсот уникальных музеев, великолепные природные артефакты. Здесь набирает силу великая русская река Волга и раскинулось рукотворное море – Рыбинское водохранилище. На территории области расположены три из восьми городов старейшего туристического маршрута "Золотое кольцо России". Историческая часть областного центра включена в список объектов всемирного культурного наследия ЮНЕСКО.»

Ответ: \_\_\_\_\_

21

Прямая трансляция из Санкт-Петербурга четвертьфинального матча Чемпионата Европы по футболу начнётся в 19 часов по московскому времени.

Используя карту, определите, в каких из перечисленных регионов эта трансляция начнётся в 21 час по местному времени этих регионов. Запишите **цифры**, под которыми они указаны.



- 1) Красноярский край
- 2) Омская область
- 3) Республика Башкортостан
- 4) Новосибирская область
- 5) Республика Татарстан
- 6) Пермский край

Ответ: \_\_\_\_\_

22

Многие банки предоставляют возможность подключения автоплатежа за коммунальные услуги, который оформляется через личный кабинет клиента на сайте соответствующего банка.

1) Какие сведения должен указать клиент в своём личном кабинете?

Ответ: \_\_\_\_\_  
\_\_\_\_\_  
\_\_\_\_\_  
\_\_\_\_\_  
\_\_\_\_\_  
\_\_\_\_\_

2) Как Вы думаете, что будет происходить после запуска клиентом данной услуги?

Ответ: \_\_\_\_\_  
\_\_\_\_\_  
\_\_\_\_\_  
\_\_\_\_\_  
\_\_\_\_\_  
\_\_\_\_\_

3) В чём преимущество автоплатежа перед другими способами оплаты коммунальных услуг? (Укажите любые два преимущества.)

Ответ: \_\_\_\_\_  
\_\_\_\_\_  
\_\_\_\_\_  
\_\_\_\_\_  
\_\_\_\_\_  
\_\_\_\_\_

4) Как Вы думаете, почему некоторые граждане не заинтересованы в оформлении автоплатежа? (Выскажите своё предположение.)

Ответ: \_\_\_\_\_  
\_\_\_\_\_  
\_\_\_\_\_  
\_\_\_\_\_  
\_\_\_\_\_  
\_\_\_\_\_

