

Всероссийская проверочная работа
ДЛЯ ОЦЕНКИ МЕТАПРЕДМЕТНЫХ РЕЗУЛЬТАТОВ ОБУЧЕНИЯ
в соответствии с федеральным государственным образовательным
стандартом среднего общего образования
для обучающихся по программам среднего профессионального образования,
завершивших в предыдущем учебном году освоение общеобразовательных предметов,
проходящих обучение по очной форме на базе основного общего образования.

Вариант 28133

Инструкция по выполнению работы

Проверочная работа включает в себя 22 задания.

На выполнение диагностической работы отводится 2 часа (120 минут).

Ответами к заданиям 1, 2, 5, 6, 8, 9–12, 17–21 являются цифра, последовательность цифр или слово (словосочетание).

Задания 3, 4, 7, 13–16, 22 требуют полного ответа (дать объяснение, описание или обоснование; высказать и аргументировать собственное мнение). В случае записи неверного ответа зачеркните его и запишите рядом новый.

При выполнении работы не разрешается пользоваться учебниками, рабочими тетрадями и другими справочными материалами.

При выполнении заданий Вы можете пользоваться черновиком. Записи в черновике проверяться и оцениваться не будут.

Советуем выполнять задания в том порядке, в котором они даны. В целях экономии времени пропускайте задание, которое не удаётся выполнить сразу, и переходите к следующему. Если после выполнения всей работы у Вас останется время, то Вы сможете вернуться к пропущенным заданиям.

Баллы, полученные Вами за выполненные задания, суммируются. Постарайтесь выполнить как можно больше заданий и набрать наибольшее количество баллов.

Желаем успеха!

Таблица для внесения баллов участника

Номер задания	1	2	3	4	5	6	7	8	9	10	11	12	13	14
Баллы														
Номер задания	15(1)	15(2)	16	17	18	19	20	21	22	Сумма баллов	Отметка за работу			
Баллы														

1

Установите соответствие между историческими деятелями и информацией, относящейся к ним: к каждой позиции первого столбца подберите соответствующую позицию из второго столбца.

ИСТОРИЧЕСКИЕ ДЕЯТЕЛИ

- А) С.В. Ильюшин
Б) М.В. Фрунзе
В) Э.И. Неизвестный

ИНФОРМАЦИЯ

- 1) советский скульптор
2) Генеральный секретарь ЦК КПСС
3) командующий Южным фронтом в годы Гражданской войны, действующим против армии П.Н. Врангеля в Крыму
4) советский авиаконструктор

Запишите в таблицу выбранные цифры под соответствующими буквами.

Ответ:

А	Б	В

2

Прочитайте четыре предложения. Два из них содержат события, процессы, явления, являющиеся причинами (предпосылками). Другие два содержат последствия этих событий, процессов, явлений. Подберите для каждой из причин (предпосылок) соответствующее ей последствие. Номера соответствующих предложений запишите в таблицу.

- 1) Подписан договор о ненападении между СССР и Германией.
2) Подписан Акт о безоговорочной капитуляции Германии.
3) Произошла Битва за Берлин.
4) Великая Отечественная война началась неожиданно для СССР.

	Номер предложения, содержащего			
	причину (предпосылку) 1	последствие 1	причину (предпосылку) 2	последствие 2
Ответ:				

3

Рассмотрите изображение и выполните задание.



Укажите название внешнеполитического процесса, юбилею одного из важнейших событий которого посвящена данная марка.

Ответ: _____

Объясните, почему этот процесс а) был важен для всего человечества, б) оказался непродолжительным.

Ответ: _____



4 Прочтите отрывок из книги руководителя СССР и выполните задание.

«Придя на XXVII съезде к концепции противоречивого, но взаимосвязанного, взаимозависимого, по сути дела, целостного мира, мы стали на этой основе выстраивать и свою внешнюю политику.

Надо мыслить и действовать по-новому. Причём история торопит, не даёт времени на раскачку. Завтра может быть поздно. А послезавтрашний день может и не наступить вовсе.

Единственный путь к безопасности – это путь политических решений... Подлинная, равная безопасность в наш век гарантируется всё более низким уровнем стратегического баланса, из которого необходимо полностью исключить ядерное и другие виды оружия массового уничтожения. Новое политическое мышление столь же категорично диктует характер военных доктрин. Они должны быть строго оборонительными...

Основа всеобщей безопасности в наше время – это признание за каждым народом права выбора собственного пути социального развития, это отказ от вмешательства во внутренние дела других государств, это уважение к другим в сочетании с объективным, самокритичным взглядом на собственное общество. Народ может выбрать и капитализм, и социализм. Это его суверенное право».

Укажите десятилетие, к которому относятся изменения во внешней политике СССР, описываемые в отрывке. Что, по словам автора, является принципиальной основой всеобщей безопасности в наше время?

Назовите одну любую инициативу СССР в рамках внешнеполитической концепции, упоминаемой в отрывке.

Ответ: _____

Ознакомьтесь с перечнем и изображениями памятников культуры и выполните задания 5 и 6.

- 1) стихотворение «Жди меня»;
- 2) стихотворение «Смерть поэта»;

3)



4)



5

Какие из приведённых памятников культуры были созданы в XX в.? Выберите два памятника культуры и запишите в таблицу цифры, под которыми они указаны.

Ответ:

--	--

6

Создателем какого из приведённых памятников культуры является К.М. Симонов? Укажите порядковый номер этого памятника культуры.

Ответ:

7

Рассмотрите изображение и выполните задание.

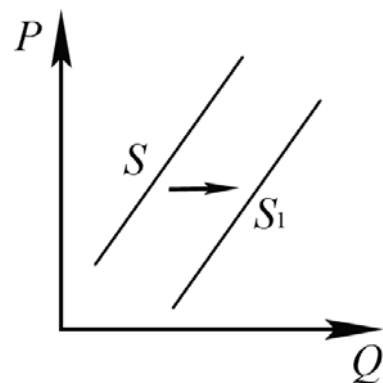


Укажите год, когда был создан данный плакат. Почему абсолютное большинство участников референдума сделало выбор, отражённый на данном плакате?

Ответ: _____

8

На рисунке отражено изменение предложения кухонной посуды на соответствующем рынке: линия предложения S переместилась в новое положение – S_1 . (P – цена; Q – количество.)



Какие из перечисленных факторов могут вызвать такое изменение? Запишите цифры, под которыми они указаны.

- 1) уменьшение налогов, уплачиваемых производителями кухонной посуды
- 2) сокращение стоимости сырья для производства сковород и кастрюль
- 3) увеличение количества производителей посуды
- 4) увеличение оплаты труда работников предприятий, производящих кухонную посуду
- 5) внедрение нового, высокотехнологичного оборудования для изготовления кухонной посуды

Ответ: _____.

9

Установите соответствие между примерами и видами налогов и сборов согласно Налоговому кодексу РФ: к каждой позиции, данной в первом столбце, подберите соответствующую позицию из второго столбца.

ПРИМЕРЫ

ВИДЫ НАЛОГОВ И СБОРОВ В РФ

- | | |
|---|--|
| <p>А) земельный налог
 Б) государственная пошлина
 В) налог на добычу полезных ископаемых
 Г) налог на имущество организаций
 Д) транспортный налог</p> | <p>1) федеральные
 2) региональные
 3) местные</p> |
|---|--|

Запишите в таблицу выбранные цифры под соответствующими буквами.

Ответ:

А	Б	В	Г	Д

10

Конституция РФ гарантирует различные права. Что из перечисленного относится к социально-экономическим правам (свободам) гражданина РФ? Запишите цифры, под которыми они указаны.

- 1) иметь право на свободу и личную неприкосновенность
- 2) трудиться в условиях, отвечающих требованиям безопасности и гигиены
- 3) уплачивать законно установленные налоги и сборы
- 4) совершеннолетним трудоспособным детям заботиться о нетрудоспособных родителях
- 5) иметь имущество в собственности; владеть, пользоваться и распоряжаться им как единолично, так и совместно с другими лицами

Ответ: _____.

11

Установите соответствие между полномочиями и субъектами государственной власти РФ, реализующими эти полномочия: к каждой позиции, данной в первом столбце, подберите соответствующую позицию из второго столбца.

ПОЛНОМОЧИЯ

СУБЪЕКТЫ
ГОСУДАРСТВЕННОЙ ВЛАСТИ
РФ

- А) управление федеральной собственностью
 Б) объявление амнистии
 В) назначение на должность Председателя
 Центрального банка Российской Федерации
 Г) утверждение военной доктрины
 Д) осуществление мер по обеспечению законности

- 1) Президент РФ
 2) Правительство РФ
 3) Государственная Дума

Запишите в таблицу выбранные цифры под соответствующими буквами.

□ Ответ:

А	Б	В	Г	Д

12

Поликарп работает в акционерном обществе, а Мефодий – в производственном кооперативе. Найдите в приведённом списке черты отличия акционерного общества от производственного кооператива. Запишите **цифры**, под которыми они указаны.

- 1) необходимость заключения трудового договора с работниками
- 2) разделение уставного капитала фирмы на равные части, каждая из которых оформлена ценной бумагой
- 3) возможность получения собственниками ценных бумаг предприятия дивидендов по итогам года
- 4) регистрация предприятия в установленном законом порядке
- 5) получение прибыли в качестве основной цели предприятия
- 6) несение риска убытков в пределах стоимости принадлежащих участнику ценных бумаг

□ Ответ: _____.

13

В свободное от учёбы время 14-летняя девятиклассница Анна решила устроиться на работу.

- 1) Чьё согласие необходимо для заключения договора в данной ситуации? (Укажите всех субъектов (кроме сторон трудового договора) в соответствии с Трудовым кодексом Российской Федерации.)
- 2) Как в Трудовом кодексе Российской Федерации характеризуется труд, которым может заниматься 14-летняя девятиклассница? (Приведите две характеристики.)
- 3) Как при заключении трудового договора с 14-летним работником решается вопрос о медицинском осмотре?
- 4) Какие обязанности есть у работника в Российской Федерации? (Назовите любые две обязанности работника в соответствии с Трудовым кодексом Российской Федерации.)

Ответ на первый вопрос: _____

Ответ на второй вопрос: _____

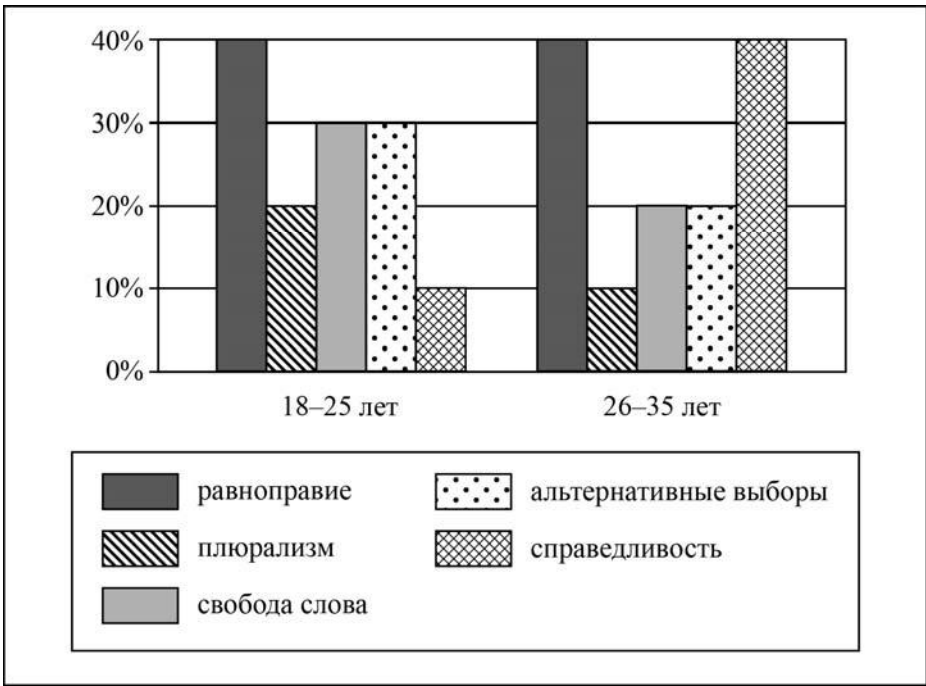
Ответ на третий вопрос: _____

Ответ на четвёртый вопрос: _____



14

В ходе социологического опроса граждан страны Z им задавали вопрос: «Какие демократические ценности вы считаете наиболее важными?» (можно было дать несколько ответов). Результаты опроса (в % от числа отвечающих) представлены в виде диаграммы.



Сформулируйте по одному выводу: а) о сходстве; б) о различии в позициях групп опрошенных. Выскажите предположение о том, чем объясняются указанные Вами: а) сходство; б) различие.

□ Ответ: _____

15

Человек проживает в квартире многоквартирного дома на втором или более высоком этаже. Произошло блокирование человека на этаже по объективной причине. Назовите не менее четырёх действий, которые гражданин должен предпринять для предотвращения получения физического ущерба.

Ответ: _____

16

В тёплое время года многие люди любят гулять в лесу. Там обитают осы, пчёлы, шершни, шмели. Укусы этих насекомых опасны для людей. Объясните, в чём состоит опасность. Назовите не менее двух действий, которые нужно предпринять, если человека в лесу укусили эти насекомые.

Ответ: _____

17

Определите город России по его краткому описанию.

Этот город является административным центром края. Расположен на побережье одного из морей, основан в XIX веке. В настоящее время крупный промышленный центр и транспортный узел, конечный пункт одной из важнейших железнодорожных магистралей страны.

Ответ: _____.

18

Прочитайте приведённый ниже текст, в котором пропущен ряд слов (словосочетание). Выберите из предлагаемого списка слова (словосочетание), которые необходимо вставить на места пропусков.

Промышленность Центральной России

Промышленность Центральной России представлена разнообразными отраслями. Развитие чёрной металлургии в районе обусловлено в первую очередь наличием уникального месторождения _____ (А), которые добывают в Белгородской и Курской областях. В Центральной России работают как металлургические комбинаты полного цикла, например, в городе _____ (Б), так и заводы передельной металлургии. Электроэнергию в регионе вырабатывают электростанции разных типов, в том числе _____ (В) (Нововоронежская, Смоленская, Калининская и Курская). Развита химическая промышленность.

Выбирайте последовательно одно слово (словосочетание) за другим, мысленно вставляя на места пропусков слова (словосочетание) из списка в нужной форме. Обратите внимание на то, что слов (словосочетания) в списке больше, чем Вам потребуется для заполнения пропусков. Каждое слово (словосочетание) может быть использовано только один раз.

Список слов (словосочетание):

- 1) бокситы
- 2) атомные
- 3) Липецк
- 4) железные руды
- 5) тепловые
- 6) Иваново

В данной ниже таблице приведены буквы, обозначающие пропущенные слова (словосочетание). Запишите в таблицу под каждой буквой номер выбранного Вами слова (словосочетания).

Ответ:

А	Б	В

19

Установите соответствие между субъектом РФ и его административным центром: к каждому элементу первого столбца подберите соответствующий элемент из второго столбца.

СУБЪЕКТ РФ

- А) Республика Тыва
- Б) Амурская область
- В) Чувашская Республика

АДМИНИСТРАТИВНЫЙ ЦЕНТР

- 1) Благовещенск
- 2) Сыктывкар
- 3) Чебоксары
- 4) КЫЗЫЛ

Запишите в таблицу выбранные цифры под соответствующими буквами.

Ответ:

А	Б	В

20

Потенциал российских регионов для развития туризма огромен. Каждый из них имеет рекреационные ресурсы, способные привлечь тысячи туристов из России и зарубежных стран. Определите субъект Российской Федерации по описанию его рекреационного потенциала.

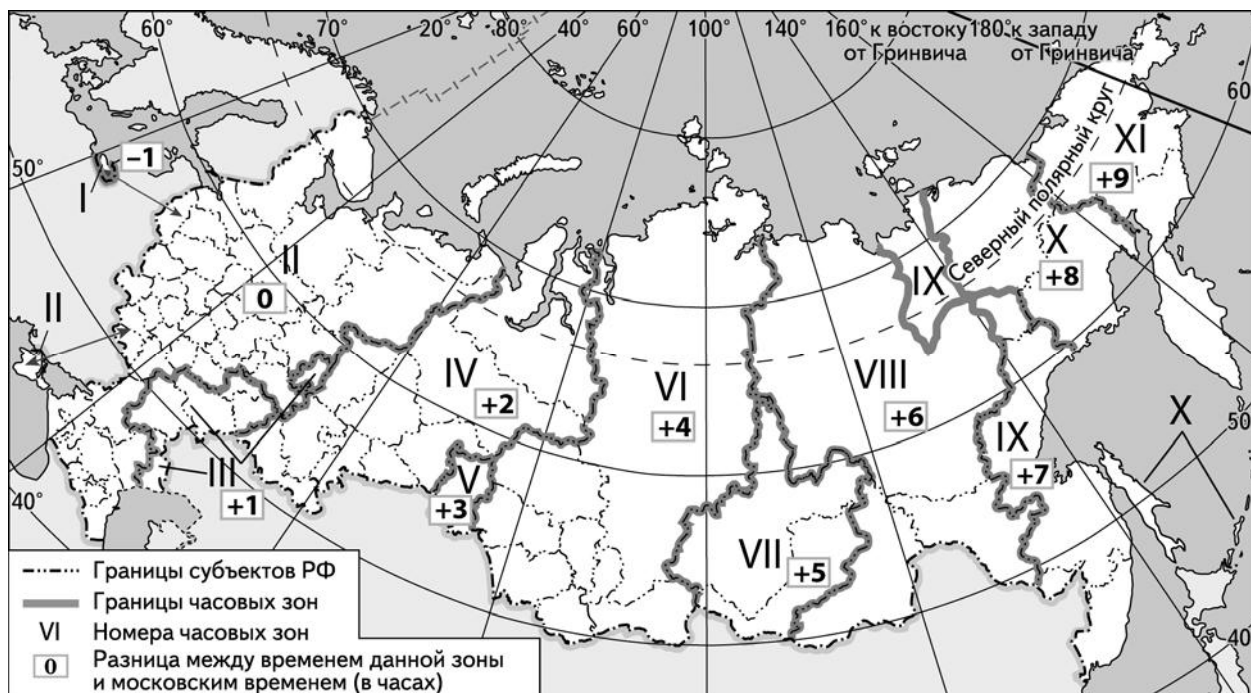
«Эта республика – один из центров туризма и горнолыжного спорта России. Здесь, в Приэльбрусье, сосредоточен большой комплекс спортивных сооружений, в том числе подъёмники и канатные дороги на горы Чегет и Эльбрус. Голубые озёра, термальные источники, Чегемские водопады – вот некоторые природные достопримечательности этого региона. Столице республики, расположенной на одноимённой реке – притоке Терека, ещё в 60-х-70-х гг. прошлого века был присвоен статус города-курорта.»

Ответ: _____

21

Парад в честь Дня Победы на Красной площади начинается в 10:00 по московскому времени. Трансляция парада ведётся в прямом эфире.

Используя карту, определите, в каких из перечисленных регионов эта трансляция начнётся после полудня по местному времени этих регионов. Запишите **цифры**, под которыми они указаны.



- 1) Приморский край
- 2) Волгоградская область
- 3) Красноярский край
- 4) Калининградская область
- 5) Новосибирская область
- 6) Республика Карелия

Ответ: _____

22

Портал «Госуслуги» (<https://www.gosuslugi.ru>) является одним из самых востребованных интернет-сервисов для решения вопросов, связанных с обращением в органы государственной власти Российской Федерации, различные ведомства и организации.

На портале возможны три уровня регистрации:

упрощённый – указываются контактные данные, доступ к услугам ограничен;

стандартный – указываются персональные данные, доступ к услугам ограничен;

подтверждённый – помимо указания персональных данных требуется процедура подтверждения личности.

Пользователю с подтверждённым уровнем регистрации доступен наиболее широкий набор услуг, включая выдачу различных персональных документов и справок.

Ответьте на следующие вопросы, связанные с использованием портала «Госуслуги».

1) Какие сведения (персональные данные) помимо ФИО должен указать гражданин при регистрации? Приведите не менее 4 различных позиций.

Ответ: _____

2) Каких рисков позволяет избежать ограничение по набору доступных услуг, введённое для пользователей со стандартным уровнем регистрации?

Ответ: _____

3) В чём удобство загрузки и хранения всех персональных данных на портале «Госуслуги» для гражданина, получившего подтверждённый уровень регистрации?

Ответ: _____

4) В чём удобство электронного способа получения справки по сравнению с очным визитом в соответствующее учреждение?

Ответ: _____

