

Всероссийская проверочная работа
ДЛЯ ОЦЕНКИ МЕТАПРЕДМЕТНЫХ РЕЗУЛЬТАТОВ ОБУЧЕНИЯ
в соответствии с федеральным государственным образовательным
стандартом среднего общего образования
для обучающихся по программам среднего профессионального образования,
завершивших в предыдущем учебном году освоение общеобразовательных предметов,
проходящих обучение по очной форме на базе основного общего образования.

Вариант 91814

Инструкция по выполнению работы

Проверочная работа включает в себя 22 задания.

На выполнение диагностической работы отводится 2 часа (120 минут).

Ответами к заданиям 1, 2, 5, 6, 8, 9–12, 17–21 являются цифра, последовательность цифр или слово (словосочетание).

Задания 3, 4, 7, 13–16, 22 требуют полного ответа (дать объяснение, описание или обоснование; высказать и аргументировать собственное мнение). В случае записи неверного ответа зачеркните его и запишите рядом новый.

При выполнении работы не разрешается пользоваться учебниками, рабочими тетрадями и другими справочными материалами.

При выполнении заданий Вы можете пользоваться черновиком. Записи в черновике проверяться и оцениваться не будут.

Советуем выполнять задания в том порядке, в котором они даны. В целях экономии времени пропускайте задание, которое не удаётся выполнить сразу, и переходите к следующему. Если после выполнения всей работы у Вас останется время, то Вы сможете вернуться к пропущенным заданиям.

Баллы, полученные Вами за выполненные задания, суммируются. Постарайтесь выполнить как можно больше заданий и набрать наибольшее количество баллов.

Желаем успеха!

Таблица для внесения баллов участника

Номер задания	1	2	3	4	5	6	7	8	9	10	11	12	13	14
Баллы														
Номер задания	15(1)	15(2)	16	17	18	19	20	21	22	Сумма баллов	Отметка за работу			
Баллы														

1

Установите соответствие между историческими деятелями и информацией, относящейся к ним: к каждой позиции первого столбца подберите соответствующую позицию из второго столбца.

ИСТОРИЧЕСКИЕ ДЕЯТЕЛИ

- А) И.Н. Кожедуб
Б) Л.П. Берия
В) В.И. Ленин

ИНФОРМАЦИЯ

- 1) советский кинорежиссёр
2) соратник И.В. Сталина, после смерти которого был обвинён в измене Родине и расстрелян
3) первый председатель Совета Народных Комиссаров
4) лётчик-ас времён Великой Отечественной войны, трижды Герой Советского Союза

Запишите в таблицу выбранные цифры под соответствующими буквами.

□ Ответ:

А	Б	В

2

Прочитайте четыре предложения. Два из них содержат события, процессы, явления, являющиеся причинами (предпосылками). Другие два содержат последствия этих событий, процессов, явлений. Подберите для каждой из причин (предпосылок) соответствующее ей последствие. Номера соответствующих предложений запишите в таблицу.

- 1) Была разработана и реализована денежная реформа 1947 г.
2) У населения была изъята значительная часть сбережений.
3) В состав СССР была включена часть Восточной Пруссии.
4) СССР победил в Великой Отечественной войне.

□	Номер предложения, содержащего			
	причину (предпосылку) 1	последствие 1	причину (предпосылку) 2	последствие 2
□				

3

Рассмотрите изображение и выполните задание.



Назовите фамилию руководителя политической партии, которая пришла к власти в результате изображённых на данной медали событий.

Ответ: _____

Объясните, почему приход к власти этой партии оказался важен а) для нашей страны, б) для всего человечества.

Ответ: _____



4

Прочтите отрывок из воспоминаний участника событий и выполните задание.

«27 апреля 3-я и 5-я ударные армии успешно наступали на центр Берлина – Тиргартен, где располагались главные государственные учреждения третьего рейха, в том числе и имперская канцелярия, в которой укрывался Гитлер со своей ставкой, и рейхстаг. 2-я гвардейская танковая армия вела бои в районе Шарлоттенбурга, 1-я гвардейская танковая армия действовала плечом к плечу с 8-й гвардейской. Левее 2-й гвардейской танковой и 8-й гвардейской наступали части 1-го Украинского фронта.

Попытки с ходу форсировать канал Ландвер потерпели неудачу. Тиргартен – остров, омываемый со всех сторон водами Шпрее и каналов, – оборонялся отборными частями СС и охранными батальонами.

Вечером я принял решение дать полусуточный отдых наступающим частям. Передышка была необходима не только для отдыха, но и для того, чтобы пополнить штурмовые группы, подвезти боеприпасы. Перед артиллеристами и миномётчиками была поставлена задача согласовать свои действия с артиллеристами соседних армий, наступающих на правительственные кварталы с востока, севера и запада. Кольцо вокруг противника сужалось, и в такой обстановке малейший перелёт снарядов и мин угрожал поражением наших войск».

Укажите год, когда произошли описываемые события. Почему, по словам автора, артиллеристам и миномётчикам необходимо было согласовать свои действия?

Назовите одну любую не указанную в данном тексте европейскую столицу, за которую Красная Армия вела бои в ходе войны, события которой описываются в данном отрывке.

Ответ: _____

Ознакомьтесь с перечнем и изображениями памятников культуры и выполните задания 5 и 6.

- 1) роман «12 стульев»;
- 2) роман «Герой нашего времени»;



5 Какие из приведённых памятников культуры были созданы в XX в.? Выберите два памятника культуры и запишите в таблицу цифры, под которыми они указаны.

Ответ:

--	--

6 Создателем какого из приведённых памятников культуры является А.В. Щусев? Укажите порядковый номер этого памятника культуры.

Ответ:

--

7

Рассмотрите изображение и выполните задание.

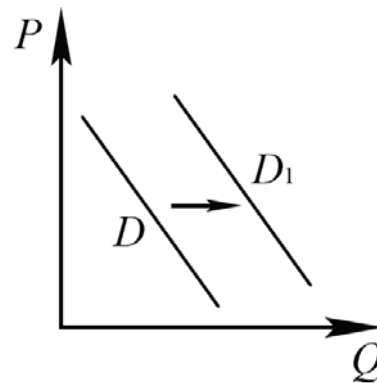


Укажите великую российскую реку, на берегах которой произошло событие, которому посвящена данная монета. Какое значение имело данное событие?

Ответ: _____

8

На рисунке отражено изменение спроса на спортивные тренажёры на соответствующем рынке: линия спроса D переместилась в новое положение – D_1 . (P – цена; Q – количество.)



Какие из перечисленных факторов могут вызвать такое изменение? Запишите **цифры**, под которыми они указаны.

- 1) снижение доходов населения
- 2) появление моды на здоровый образ жизни, занятия спортом
- 3) увеличение в структуре населения доли людей, занимающихся спортом
- 4) рост затрат на производство спортивных тренажёров
- 5) политика ряда компаний, компенсирующих часть затрат своих работников на приобретение спортивной продукции

Ответ: _____.

9

Установите соответствие между примерами и видами налогов и сборов согласно Налоговому кодексу РФ: к каждой позиции, данной в первом столбце, подберите соответствующую позицию из второго столбца.

ПРИМЕРЫ

ВИДЫ НАЛОГОВ И СБОРОВ В РФ

- А) торговый сбор
- Б) государственная пошлина
- В) налог на доходы физических лиц
- Г) земельный налог
- Д) налог на имущество организаций

- 1) федеральные
- 2) региональные
- 3) местные

Запишите в таблицу выбранные цифры под соответствующими буквами.

Ответ:

А	Б	В	Г	Д

10

Что из перечисленного относится к политическим правам (свободам) гражданина РФ? Запишите **цифры**, под которыми они указаны.

- 1) обращение в государственные органы
- 2) участие в управлении делами государства через своих представителей
- 3) уплата законно установленных налогов и сборов
- 4) защита Отечества
- 5) проведение шествий, пикетирование

Ответ: _____.

11

Установите соответствие между вопросами и субъектами государственной власти РФ, к ведению которых эти вопросы относятся: к каждой позиции, данной в первом столбце, подберите соответствующую позицию из второго столбца.

ВОПРОСЫ

- А) внешнеэкономические отношения РФ
 Б) вопросы владения, пользования и распоряжения землёй, недрами, водными и другими природными ресурсами
 В) осуществление мер по борьбе с катастрофами
 Г) оборона и безопасность
 Д) государственные награды РФ

СУБЪЕКТЫ
ГОСУДАРСТВЕННОЙ ВЛАСТИ
РФ

- 1) только федеральный центр
 2) совместно федеральный центр и субъекты РФ

Запишите в таблицу выбранные цифры под соответствующими буквами.

Ответ:

А	Б	В	Г	Д

12

Вам предложено подготовить презентацию о видах юридической ответственности в РФ. Что из перечисленного может быть включено в слайд «Уголовная ответственность»? Запишите **цифры**, под которыми указаны соответствующие положения.

- 1) Уголовная ответственность является правовым последствием совершения преступления.
- 2) К этому виду ответственности может быть привлечён работник, регулярно опаздывающий к началу рабочего дня.
- 3) Наказание применяется в целях восстановления социальной справедливости, а также исправления осуждённого и предупреждения совершения им новых преступлений.
- 4) Видами наказания являются штраф, обязательные работы, арест, лишение свободы на определённый срок и др.
- 5) Уголовная ответственность бывает двух видов: ограниченная и полная.
- 6) За совершённый поступок к ответственности могут привлекаться физические и юридические лица.

Ответ: _____.

13

Граждане РФ Марина и Фёдор накануне регистрации брака решили заключить брачный договор. По обоюдному согласию они включили в него пункты о способах участия в доходах друг друга, о разделении бытовых обязанностей, о взаимной обязанности супругов сообщать друг другу содержание всей личной и деловой переписки, а также пункт о порядке несения каждым супругом семейных расходов. Нотариус, к которому они обратились за удостоверением брачного договора, указал на необходимость исключить два пункта.

- 1) О каких пунктах из перечисленных выше идёт речь?
- 2) Как Вы можете объяснить свой выбор?
- 3) Какое условие необходимо, чтобы составленный в письменной форме и удостоверенный нотариусом брачный договор вступил в силу?
- 4) Какие ещё полномочия, кроме названного в условии задачи, есть у нотариуса? (Назовите любые два полномочия.)

Ответ на первый вопрос: _____

Ответ на второй вопрос: _____

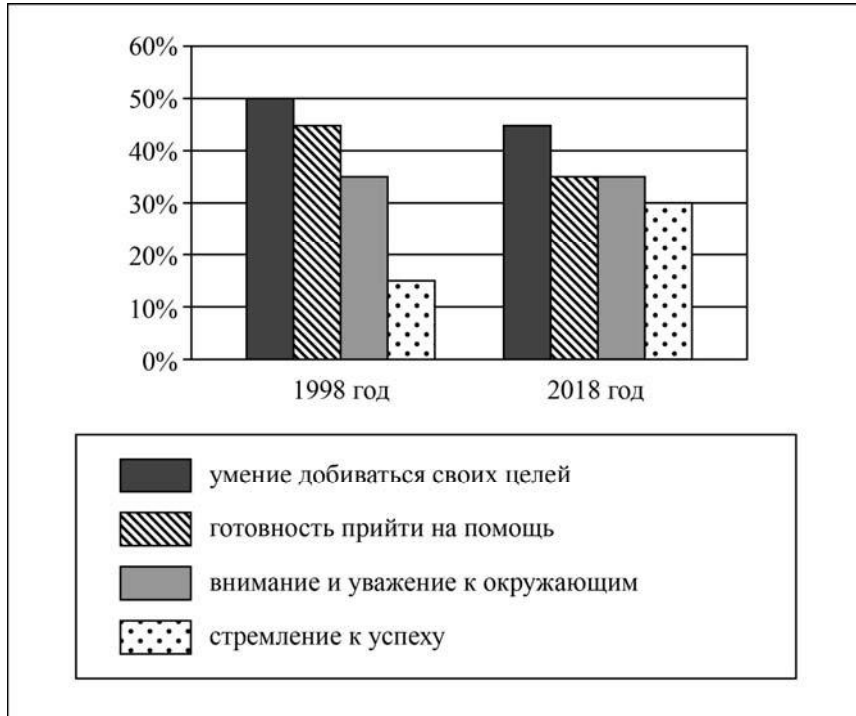
Ответ на третий вопрос: _____

Ответ на четвёртый вопрос: _____



14

В разные годы в ходе социологического опроса родителям первоклассников города Z задавали вопрос о том, какие качества они хотели бы воспитать в своих детях. Отдельные результаты опроса (в % от числа опрошенных) представлены в виде диаграммы (можно было выбрать несколько вариантов ответа).



Сформулируйте по одному выводу: а) о сходстве; б) о различии в позициях групп опрошенных. Выскажите предположение о том, чем объясняются указанные Вами: а) сходство; б) различие.

□ Ответ: _____

15

Начался пожар в лифте, где вы находитесь.

Назовите не менее четырёх правил безопасного поведения, которые необходимо выполнить в этом случае.

Ответ: _____

16

Вы находитесь в походе в лесу. Ночью начался сильный дождь. Вода в ближайшей реке поднялась, и началось наводнение. Наводнение представляет большую опасность для здоровья и жизни человека. Объясните, в чём состоит опасность.

Назовите не менее двух действий, которые нужно предпринять человеку при наводнении.

Ответ: _____

17

Определите регион России по его краткому описанию.

Этот край находится в восточной части России. Его административный центр, расположенный на побережье одного из морей, омывающих Россию, был основан в XIX веке. Это город – порт, являющийся также крупным промышленным центром и конечным пунктом одной из главных железнодорожных магистралей страны.

Ответ: _____.

18

Прочитайте приведённый ниже текст, в котором пропущен ряд слов (словосочетаний). Выберите из предлагаемого списка слова (словосочетания), которые необходимо вставить на места пропусков.

Рельеф и полезные ископаемые Северо-Запада России

Северо-Запад России — самый небольшой по площади территории географический район России. Он расположен в пределах Восточно-Европейской равнины. Для рельефа характерно распространение _____ (А), на которых плоские участки чередуются с невысокими холмами. Абсолютные высоты территории не превышают 300 м. Имеются залежи огнеупорных глин, горючих сланцев, фосфоритов, известняков, бокситов. На территории Ленинградской области добывают гранит, что обусловлено выходом на поверхность горных пород, слагающих _____ (Б) Восточно-Европейской платформы. В Калининградской области имеются крупные залежи _____ (В), имеющие мировое значение.

Выбирайте последовательно одно слово (словосочетание) за другим, мысленно вставляя на места пропусков слова (словосочетания) из списка в нужной форме. Обратите внимание на то, что слов (словосочетаний) в списке больше, чем Вам потребуется для заполнения пропусков. Каждое слово (словосочетание) может быть использовано только один раз.

Список слов (словосочетаний):

- 1) низменности
- 2) плоскогорья
- 3) янтарь
- 4) железные руды
- 5) кристаллический фундамент
- 6) осадочный чехол

В данной ниже таблице приведены буквы, обозначающие пропущенные слова (словосочетания). Запишите в таблицу под каждой буквой номер выбранного Вами слова (словосочетания).

Ответ:

А	Б	В

19

Установите соответствие между республикой в составе РФ и её столицей: к каждому элементу первого столбца подберите соответствующий элемент из второго столбца.

РЕСПУБЛИКА

- А) Тыва
- Б) Адыгея
- В) Кабардино-Балкарская

СТОЛИЦА

- 1) Чебоксары
- 2) Нальчик
- 3) Кызыл
- 4) Майкоп

Запишите в таблицу выбранные цифры под соответствующими буквами.

Ответ:

А	Б	В

20

Потенциал российских регионов для развития туризма огромен. Каждый из них имеет рекреационные ресурсы, способные привлечь тысячи туристов из России и зарубежных стран. Определите субъект Российской Федерации по описанию его рекреационного потенциала.

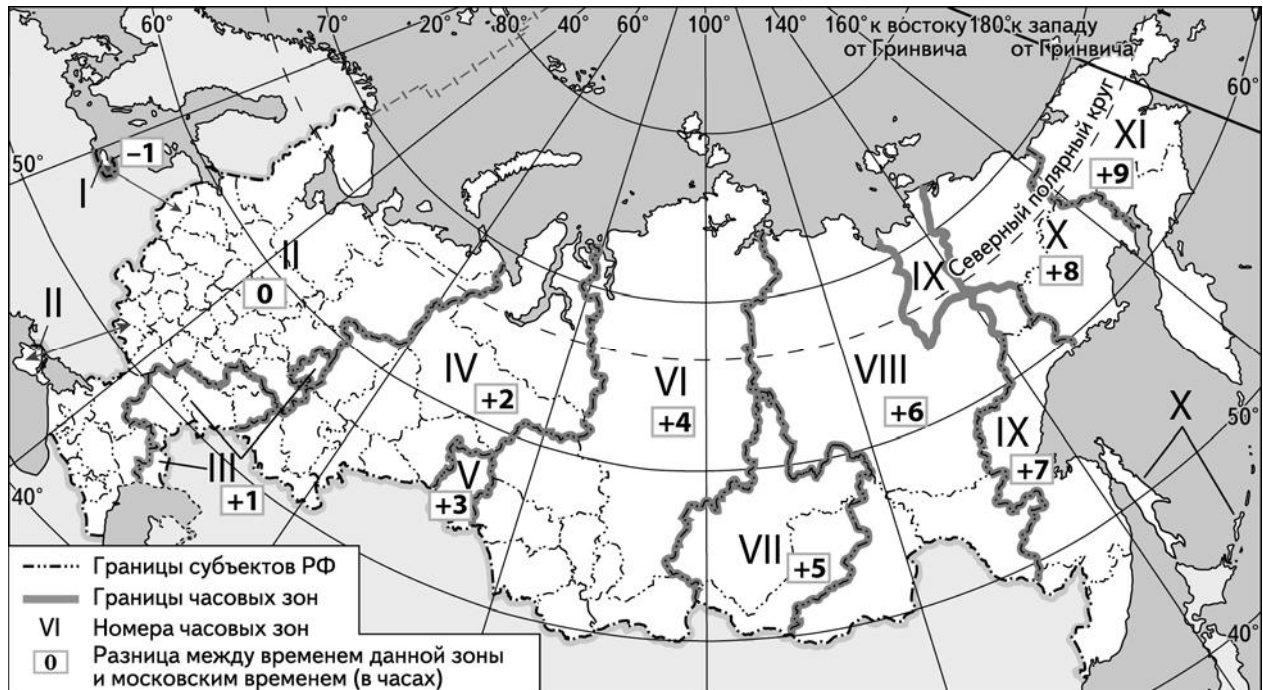
«На территории расположены природные заповедники Верхне-Тазовский, Гыданский и 13 заказников. Верхне-Тазовский заповедник создан для охраны уникальных экосистем находящейся под угрозой исчезновения ненарушенной северной тайги в верховьях Таза – одной из рек Западной Сибири. Территория заповедника важна для охраны сокращающейся популяции таёжного северного оленя. Гыданский заповедник создан для сохранения природы от современного и будущего техногенного воздействия, связанного с нефтегазовым освоением территории. Заповедник способствует сохранению Восточно-Атлантического пролётного пути водных и околоводных птиц, летящих вдоль северного побережья Азии. Есть возможности для развития этнографического туризма: проживание в чуме, участие в северном многоборье и в национальных праздниках – Дне оленевода, Дне рыбака, Вороньем дне, Медвежьем празднике».

Ответ: _____

21

Выборы депутатов Государственной Думы Федерального Собрания Российской Федерации проходят с 8 до 20 часов по местному времени.

Используя карту, определите, в каких из перечисленных регионов выборы уже завершились в 20 часов по местному времени города Оренбург (IV часовая зона). Запишите **цифры**, под которыми они указаны.



- 1) Забайкальский край
- 2) Псковская область
- 3) Астраханская область
- 4) Республика Адыгея
- 5) Республика Саха (Якутия)
- 6) Камчатский край

Ответ: _____

22

Многие банки предоставляют возможность подключения автоплатежа за коммунальные услуги, который оформляется через личный кабинет клиента на сайте соответствующего банка.

1) Какие сведения должен указать клиент в своём личном кабинете?

Ответ: _____

2) Как Вы думаете, что будет происходить после запуска клиентом данной услуги?

Ответ: _____

3) В чём преимущество автоплатежа перед другими способами оплаты коммунальных услуг? (Укажите любые два преимущества.)

Ответ: _____

4) Как Вы думаете, почему некоторые граждане не заинтересованы в оформлении автоплатежа? (Выскажите своё предположение.)

Ответ: _____

