

**Всероссийская проверочная работа**  
**ДЛЯ ОЦЕНКИ МЕТАПРЕДМЕТНЫХ РЕЗУЛЬТАТОВ ОБУЧЕНИЯ**  
**в соответствии с федеральным государственным образовательным**  
**стандартом среднего общего образования**  
**для обучающихся по программам среднего профессионального образования,**  
**завершивших в предыдущем учебном году освоение общеобразовательных предметов,**  
**проходящих обучение по очной форме на базе основного общего образования.**

**Вариант 44754**

**Инструкция по выполнению работы**

Проверочная работа включает в себя 22 задания.

На выполнение диагностической работы отводится 2 часа (120 минут).

Ответами к заданиям 1, 2, 5, 6, 8, 9–12, 17–21 являются цифра, последовательность цифр или слово (словосочетание).

Задания 3, 4, 7, 13–16, 22 требуют полного ответа (дать объяснение, описание или обоснование; высказать и аргументировать собственное мнение). В случае записи неверного ответа зачеркните его и запишите рядом новый.

При выполнении работы не разрешается пользоваться учебниками, рабочими тетрадами и другими справочными материалами.

При выполнении заданий Вы можете пользоваться черновиком. Записи в черновике проверяться и оцениваться не будут.

Советуем выполнять задания в том порядке, в котором они даны. В целях экономии времени пропускайте задание, которое не удаётся выполнить сразу, и переходите к следующему. Если после выполнения всей работы у Вас останется время, то Вы сможете вернуться к пропущенным заданиям.

Баллы, полученные Вами за выполненные задания, суммируются. Постарайтесь выполнить как можно больше заданий и набрать наибольшее количество баллов.

***Желаем успеха!***

*Таблица для внесения баллов участника*

|               |       |       |    |    |    |    |    |    |    |              |                   |    |    |    |
|---------------|-------|-------|----|----|----|----|----|----|----|--------------|-------------------|----|----|----|
| Номер задания | 1     | 2     | 3  | 4  | 5  | 6  | 7  | 8  | 9  | 10           | 11                | 12 | 13 | 14 |
| Баллы         |       |       |    |    |    |    |    |    |    |              |                   |    |    |    |
| Номер задания | 15(1) | 15(2) | 16 | 17 | 18 | 19 | 20 | 21 | 22 | Сумма баллов | Отметка за работу |    |    |    |
| Баллы         |       |       |    |    |    |    |    |    |    |              |                   |    |    |    |

1

Установите соответствие между историческими деятелями и информацией, относящейся к ним: к каждой позиции первого столбца подберите соответствующую позицию из второго столбца.

## ИСТОРИЧЕСКИЕ ДЕЯТЕЛИ

- А) В.М. Молотов  
Б) В.И. Ленин  
В) Н.С. Хрущёв

## ИНФОРМАЦИЯ

- 1) руководитель Советского государства, инициатор массового освоения целинных земель  
2) министр-председатель Временного правительства  
3) первый Председатель Совета народных комиссаров  
4) народный комиссар иностранных дел СССР, подписавший договор о ненападении с Германией

Запишите в таблицу выбранные цифры под соответствующими буквами.

□ Ответ:

| А | Б | В |
|---|---|---|
|   |   |   |

2

Прочитайте четыре предложения. Два из них содержат события, процессы, явления, являющиеся причинами (предпосылками). Другие два содержат последствия этих событий, процессов, явлений. Подберите для каждой из причин (предпосылок) соответствующее ей последствие. Номера соответствующих предложений запишите в таблицу.

- 1) С первых дней Великой Отечественной войны началась переброска промышленных предприятий из подвергшихся нападению врага районов на восток страны.  
2) На территории СССР, оккупированной врагом, действовали свыше 6000 партизанских отрядов.  
3) Гитлеровское командование вынуждено было направить около 10% своих войск, находящихся на Восточном фронте, на борьбу с партизанами.  
4) Уже к концу 1942 года в СССР производилось важнейших видов боевой техники и вооружения больше, чем в Германии.

|          | Номер предложения, содержащего |               |                         |               |
|----------|--------------------------------|---------------|-------------------------|---------------|
|          | причину (предпосылку) 1        | последствие 1 | причину (предпосылку) 2 | последствие 2 |
| □ Ответ: |                                |               |                         |               |

3

Рассмотрите изображение и выполните задание.



Укажите название процесса форсированного наращивания промышленного потенциала СССР, в ходе которого был создан данный плакат.

Ответ: \_\_\_\_\_

Объясните, почему результаты указанного вами процесса важны а) для нашей страны, б) для всего человечества.

Ответ: \_\_\_\_\_

\_\_\_\_\_

\_\_\_\_\_

\_\_\_\_\_

\_\_\_\_\_

\_\_\_\_\_

\_\_\_\_\_

\_\_\_\_\_

\_\_\_\_\_

\_\_\_\_\_

\_\_\_\_\_



4

Прочтите отрывок из воспоминаний участника событий и выполните задание.

«В моём докладе на XX съезде партии ничего не было сказано об открытых процессах 30-х годов, на которых присутствовали представители братских коммунистических партий. Тогда судили Рыкова, Бухарина, других вождей народа. Они заслуживают того, чтобы называться вождями. В вопросе об открытых процессах 30-х годов тоже сказалась двойственность нашего поведения. Мы опять боялись договорить до конца, хотя не вызывало никаких сомнений, что эти люди невиновны, что они были жертвами произвола. На открытых процессах присутствовали руководители братских компартий, которые потом свидетельствовали в своих странах справедливость приговоров. Мы не захотели дискредитировать их заявления и отложили реабилитацию Бухарина, Рыкова и других товарищей на неопределённый срок. Думаю, что правильнее было договаривать до конца. Шила в мешке не утаишь! Главное достижение XX съезда партии – то, что он начал процесс очищения партии и возвращения её к тем нормам жизни, за которые боролись Ленин и другие лучшие сыны нашей страны».

Укажите десятилетие, когда состоялся упоминаемый в тексте съезд партии. Что, по словам автора, было главным достижением упоминаемого в отрывке съезда?

Назовите одного любого видного государственного деятеля, кроме названных в тексте, осуждённого на упоминаемых в отрывке судебных процессах.

Ответ: \_\_\_\_\_

---

---

---

---

---

---

---

---

---

---

---

---

---

---

---

---

---

---

---

---

---

---

---

**Ознакомьтесь с перечнем и изображениями памятников культуры и выполните задания 5 и 6.**

- 1) роман «Пётр I»;
- 2) симфоническая сказка для детей «Петя и волк»;

3)



4)



5

Какие из приведённых памятников культуры были созданы в XX в.? Выберите два памятника культуры и запишите в таблицу цифры, под которыми они указаны.

Ответ:

|  |  |
|--|--|
|  |  |
|--|--|

6

Создателем какого из приведённых памятников культуры является С.С. Прокофьев? Укажите порядковый номер этого памятника культуры.

Ответ:

|  |
|--|
|  |
|--|

7

Рассмотрите изображение и выполните задание.



Укажите год, ранее которого не могла появиться данная монета. Какое значение для РФ имеет подписанный на монете город?

Ответ: \_\_\_\_\_

---

---

---

---

---

---

---

---

---

---

---

---

---

---

---

---

---

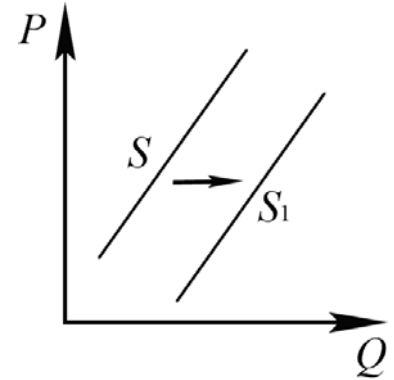
---

---

---

8

На рисунке отражено изменение предложения комнатных растений на соответствующем рынке: линия предложения  $S$  переместилась в новое положение –  $S_1$ . ( $P$  – цена;  $Q$  – количество.)



Какие из перечисленных факторов могут вызвать такое изменение? Запишите цифры, под которыми они указаны.

- 1) уменьшение стоимости удобрений, необходимых для выращивания комнатных растений
- 2) появление более экономичной технологии выращивания комнатных растений
- 3) введение запрета на импорт комнатных растений
- 4) появление моды на замену живых комнатных растений их искусственными аналогами
- 5) увеличение количества продавцов комнатных растений

Ответ: \_\_\_\_\_.

9

Установите соответствие между примерами и видами налогов и сборов согласно Налоговому кодексу РФ: к каждой позиции, данной в первом столбце, подберите соответствующую позицию из второго столбца.

## ПРИМЕРЫ

- А) водный налог
- Б) налог на имущество организаций
- В) земельный налог
- Г) торговый сбор
- Д) транспортный налог

## ВИДЫ НАЛОГОВ И СБОРОВ В РФ

- 1) федеральные
- 2) региональные
- 3) местные

Запишите в таблицу выбранные цифры под соответствующими буквами.

Ответ:

| А | Б | В | Г | Д |
|---|---|---|---|---|
|   |   |   |   |   |

10

Выберите в приведённом списке положения, характеризующие основы конституционного строя РФ, и запишите **цифры**, под которыми они указаны.

- 1) В РФ признаются и защищаются равным образом частная, государственная, муниципальная и иные формы собственности.
- 2) Высшим непосредственным выражением власти народа являются референдум и свободные выборы.
- 3) Российская Федерация обеспечивает целостность и неприкосновенность своей территории.
- 4) Заключение трудового договора по общему правилу допускается с лицами, достигшими возраста 12 лет.
- 5) Уголовная ответственность наступает за приготовление только к тяжкому и особо тяжкому преступлениям.

Ответ: \_\_\_\_\_.

11

Установите соответствие между вопросами и субъектами государственной власти РФ, к ведению которых эти вопросы относятся: к каждой позиции, данной в первом столбце, подберите соответствующую позицию из второго столбца.

## ВОПРОСЫ

СУБЪЕКТЫ  
ГОСУДАРСТВЕННОЙ ВЛАСТИ  
РФ

- А) судоустройство, прокуратура
- Б) федеральная государственная служба
- В) координация вопросов здравоохранения
- Г) защита исконной среды обитания и традиционного образа жизни малочисленных этнических общностей
- Д) оборонное производство

- 1) только федеральный центр
- 2) совместно федеральный центр и субъекты РФ

Запишите в таблицу выбранные цифры под соответствующими буквами.

Ответ:

| А | Б | В | Г | Д |
|---|---|---|---|---|
|   |   |   |   |   |



12

Пётр Васильевич – совершеннолетний гражданин РФ. Что из перечисленного ниже относится к его правам как налогоплательщика? Запишите цифры, под которыми указаны соответствующие положения.

- 1) получать по месту своего учёта от налоговых органов бесплатную информацию (в том числе в письменной форме) о действующих налогах и сборах
- 2) уплачивать законно установленные налоги
- 3) использовать налоговые льготы при наличии оснований и в порядке, установленном законодательством о налогах и сборах
- 4) требовать от должностных лиц налоговых органов и иных уполномоченных органов соблюдения законодательства о налогах и сборах при совершении ими действий в отношении налогоплательщика
- 5) встать на учёт в налоговых органах, если это предусмотрено Налоговым кодексом РФ
- 6) вести в установленном порядке учёт своих доходов (расходов) и объектов налогообложения, если это предусмотрено законодательством о налогах и сборах

□ Ответ: \_\_\_\_\_.

13

Граждане РФ Елена и Евгений накануне регистрации брака решили заключить брачный договор. По обоюдному согласию они включили в него пункты о правах и обязанностях в отношении своих будущих детей, о способах участия в доходах друг друга, о порядке несения каждым супругом семейных расходов, а также пункт об обязанности супруги обязательно согласовывать с супругом все вопросы, связанные с её трудоустройством.

- 1) Нотариус, к которому они обратились за удостоверением брачного договора, указал на необходимость исключить два пункта. О каких пунктах из перечисленных выше идёт речь?
- 2) Как Вы можете объяснить свой ответ?
- 3) Какое условие необходимо, чтобы составленный в письменной форме и удостоверенный у нотариуса брачный договор вступил в силу?
- 4) Какие ещё полномочия есть у нотариуса? (Укажите любые два таких полномочия.)

Ответ на первый вопрос: \_\_\_\_\_

\_\_\_\_\_

Ответ на второй вопрос: \_\_\_\_\_

\_\_\_\_\_

Ответ на третий вопрос: \_\_\_\_\_

\_\_\_\_\_

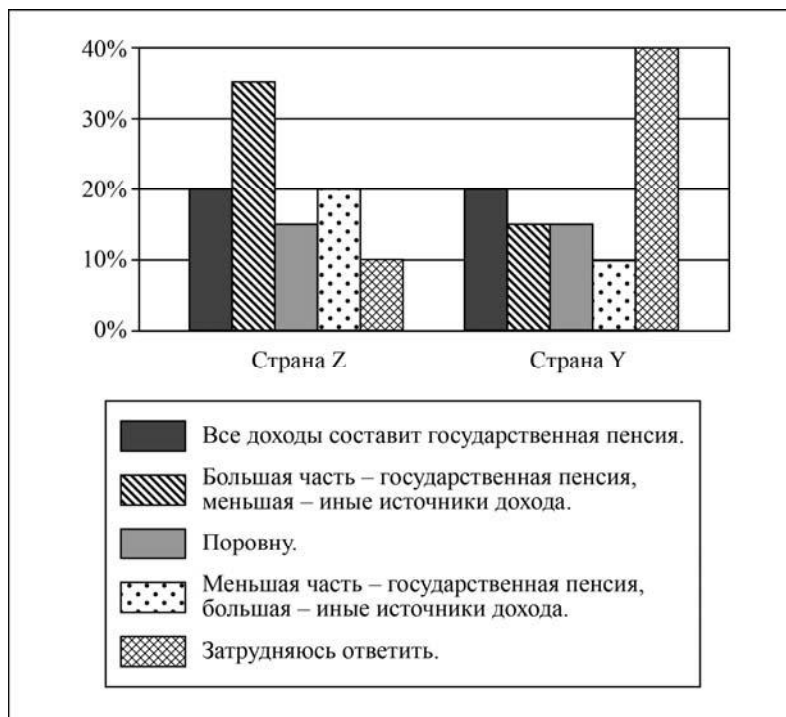
Ответ на четвёртый вопрос: \_\_\_\_\_

\_\_\_\_\_

14

В странах Z и Y осуществляется пенсионная реформа. В ходе социологических опросов совершеннолетних граждан каждой из этих стран им задавали вопрос: «Как вы думаете, какую часть ваших доходов в старости составит государственная пенсия, а какую – другие источники доходов?»

Результаты опроса (в % от числа отвечающих) представлены в виде диаграммы.



Сформулируйте по одному выводу: а) о сходстве; б) о различии в позициях групп опрошенных. Выскажите предположение о том, чем объясняются указанные Вами: а) сходство; б) различие.

Ответ: \_\_\_\_\_

\_\_\_\_\_

\_\_\_\_\_

\_\_\_\_\_

\_\_\_\_\_

\_\_\_\_\_

\_\_\_\_\_

\_\_\_\_\_

\_\_\_\_\_

\_\_\_\_\_

\_\_\_\_\_

\_\_\_\_\_

\_\_\_\_\_

\_\_\_\_\_

\_\_\_\_\_

\_\_\_\_\_

\_\_\_\_\_

\_\_\_\_\_

15

Назовите не менее четырёх действий безопасного поведения, которые гражданин должен выполнить в случае, если на его глазах произошло падение человека с высоты.

 Ответ: \_\_\_\_\_  
\_\_\_\_\_  
\_\_\_\_\_  
\_\_\_\_\_  
\_\_\_\_\_  
\_\_\_\_\_  
\_\_\_\_\_  
\_\_\_\_\_

16

На прогулке в лесу можно попасть под сильный ветер и ливень. Это опасные для здоровья и жизни ситуации. Объясните, в чём состоит опасность.

Назовите не менее двух действий, которые нужно предпринять при сильном ветре и ливне для обеспечения своей безопасности.

 Ответ: \_\_\_\_\_  
\_\_\_\_\_  
\_\_\_\_\_  
\_\_\_\_\_  
\_\_\_\_\_  
\_\_\_\_\_  
\_\_\_\_\_  
\_\_\_\_\_

17

Определите регион России по его краткому описанию.

Этот край не имеет выхода к морю и к государственной границе РФ, но наличие речных портов позволяет осуществлять перевозку грузов в порты Балтийского, Белого, Чёрного, Азовского и Каспийского морей. Административный центр края – город-миллионер с развитыми машиностроением и химической промышленностью.

 Ответ: \_\_\_\_\_.

18

Прочитайте приведённый ниже текст, в котором пропущен ряд слов. Выберите из предлагаемого списка слова, которые необходимо вставить на места пропусков.

### Географические особенности Европейского Севера России

Европейский Север как крупный район России имеет ряд географических особенностей. Большая часть территории района расположена в природной зоне \_\_\_\_\_(А). Суровые природные условия оказывают влияние на размещение населения. Район характеризуется \_\_\_\_\_(Б) показателем средней плотности населения. В районе получили развитие металлургия, машиностроение, химическая промышленность, отрасли ТЭК. Этот район является единственным среди районов Европейской части России, в котором традиционной отраслью сельского хозяйства является \_\_\_\_\_(В). Большое значение для хозяйства района имеет железнодорожный транспорт, обеспечивающий около 70% грузовых перевозок.

Выбирайте последовательно одно слово за другим, мысленно вставляя на места пропусков слова из списка в нужной форме. Обратите внимание на то, что слов в списке больше, чем Вам потребуется для заполнения пропусков. Каждое слово может быть использовано только один раз.

Список слов:

- 1) тайга
- 2) тундра
- 3) высокий
- 4) низкий
- 5) свиноводство
- 6) оленеводство

В данной ниже таблице приведены буквы, обозначающие пропущенные слова. Запишите в таблицу под каждой буквой номер выбранного Вами слова.

Ответ:

| А | Б | В |
|---|---|---|
|   |   |   |

19

Установите соответствие между субъектом РФ и его административным центром: к каждому элементу первого столбца подберите соответствующий элемент из второго столбца.

### СУБЪЕКТ РФ

- А) Чукотский автономный округ
- Б) Алтайский край
- В) Ямало-Ненецкий автономный округ

### АДМИНИСТРАТИВНЫЙ ЦЕНТР

- 1) Барнаул
- 2) Анадьрь
- 3) Нарьян-Мар
- 4) Салехард

Запишите в таблицу выбранные цифры под соответствующими буквами.

Ответ:

| А | Б | В |
|---|---|---|
|   |   |   |

20

Потенциал российских регионов для развития туризма огромен. Каждый из них имеет рекреационные ресурсы, способные привлечь тысячи туристов из России и зарубежных стран. Определите субъект Российской Федерации по описанию его рекреационного потенциала.

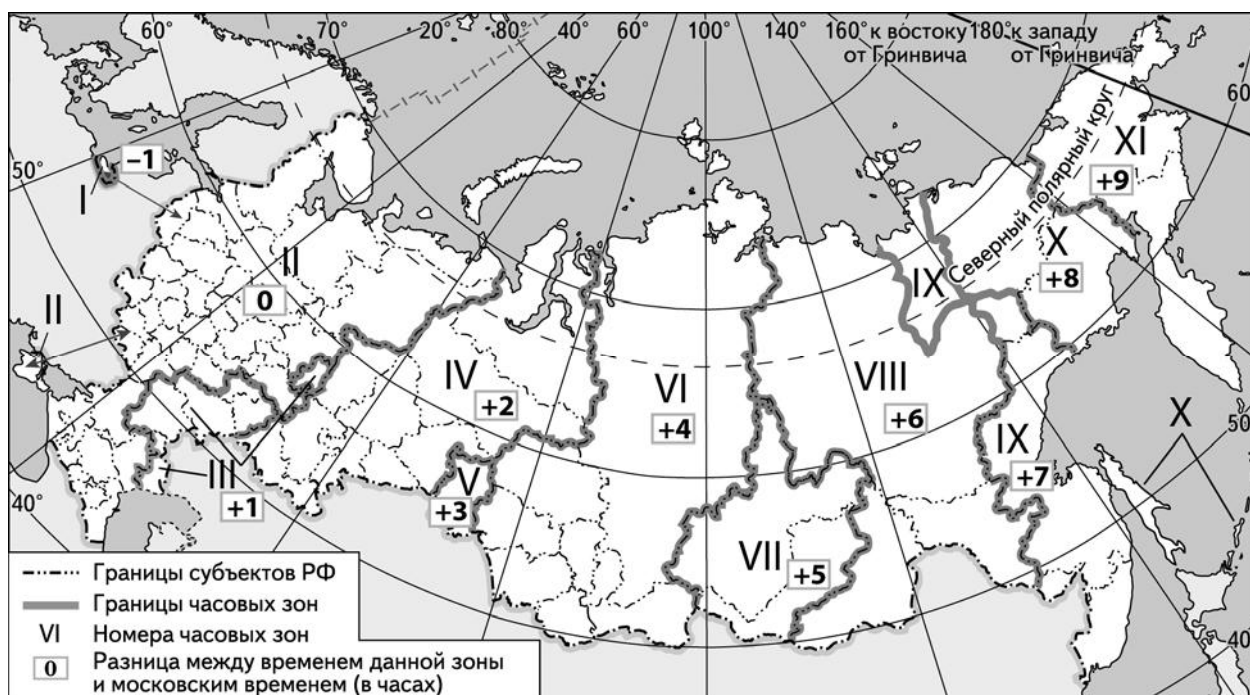
«Регион может развивать туризм разных направлений. На территории области расположены такие природные парки, как "Донской", "Щербаковский", "Цимлянские пески" и др. В лечебных целях можно отправиться на озеро Эльтон, богатое целебными солями и грязями. Конечно, никого не оставит равнодушным Мамаев Курган и величественная скульптура "Родина-мать", посвящённая Победе в Великой Отечественной войне».

Ответ: \_\_\_\_\_

21

Прямая трансляция новогоднего концерта начнётся в 00 часов 30 минут по местному времени в каждой часовой зоне.

Используя карту, определите, в каких из перечисленных регионов эта трансляция начнётся в 4 часа 30 минут по местному времени города Читы (VIII часовая зона). Запишите цифры, под которыми они указаны.



- 1) Ханты-Мансийский автономный округ – Югра
- 2) Вологодская область
- 3) Курганская область
- 4) Республика Калмыкия
- 5) Тюменская область
- 6) Астраханская область

Ответ: \_\_\_\_\_

22

Многие банки предоставляют возможность подключения автоплатежа за коммунальные услуги, который оформляется через личный кабинет клиента на сайте соответствующего банка.

1) Какие сведения должен указать клиент в своём личном кабинете?

Ответ: \_\_\_\_\_  
\_\_\_\_\_  
\_\_\_\_\_  
\_\_\_\_\_  
\_\_\_\_\_  
\_\_\_\_\_

2) Как Вы думаете, что будет происходить после запуска клиентом данной услуги?

Ответ: \_\_\_\_\_  
\_\_\_\_\_  
\_\_\_\_\_  
\_\_\_\_\_  
\_\_\_\_\_  
\_\_\_\_\_

3) В чём преимущество автоплатежа перед другими способами оплаты коммунальных услуг? (Укажите любые два преимущества.)

Ответ: \_\_\_\_\_  
\_\_\_\_\_  
\_\_\_\_\_  
\_\_\_\_\_  
\_\_\_\_\_  
\_\_\_\_\_

4) Как Вы думаете, почему некоторые граждане не заинтересованы в оформлении автоплатежа? (Выскажите своё предположение.)

Ответ: \_\_\_\_\_  
\_\_\_\_\_  
\_\_\_\_\_  
\_\_\_\_\_  
\_\_\_\_\_  
\_\_\_\_\_

