

**Всероссийская проверочная работа**  
**ДЛЯ ОЦЕНКИ МЕТАПРЕДМЕТНЫХ РЕЗУЛЬТАТОВ ОБУЧЕНИЯ**  
**в соответствии с федеральным государственным образовательным**  
**стандартом среднего общего образования**  
**для обучающихся по программам среднего профессионального образования,**  
**завершивших в предыдущем учебном году освоение общеобразовательных предметов,**  
**проходящих обучение по очной форме на базе основного общего образования.**

**Вариант 92910**

**Инструкция по выполнению работы**

Проверочная работа включает в себя 22 задания.

На выполнение диагностической работы отводится 2 часа (120 минут).

Ответами к заданиям 1, 2, 5, 6, 8, 9–12, 17–21 являются цифра, последовательность цифр или слово (словосочетание).

Задания 3, 4, 7, 13–16, 22 требуют полного ответа (дать объяснение, описание или обоснование; высказать и аргументировать собственное мнение). В случае записи неверного ответа зачеркните его и запишите рядом новый.

При выполнении работы не разрешается пользоваться учебниками, рабочими тетрадами и другими справочными материалами.

При выполнении заданий Вы можете пользоваться черновиком. Записи в черновике проверяться и оцениваться не будут.

Советуем выполнять задания в том порядке, в котором они даны. В целях экономии времени пропускайте задание, которое не удаётся выполнить сразу, и переходите к следующему. Если после выполнения всей работы у Вас останется время, то Вы сможете вернуться к пропущенным заданиям.

Баллы, полученные Вами за выполненные задания, суммируются. Постарайтесь выполнить как можно больше заданий и набрать наибольшее количество баллов.

***Желаем успеха!***

*Таблица для внесения баллов участника*

Номер задания	1	2	3	4	5	6	7	8	9	10	11	12	13	14
Баллы														
Номер задания	15(1)	15(2)	16	17	18	19	20	21	22	Сумма баллов	Отметка за работу			
Баллы														

1

Установите соответствие между историческими деятелями и информацией, относящейся к ним: к каждой позиции первого столбца подберите соответствующую позицию из второго столбца.

## ИСТОРИЧЕСКИЕ ДЕЯТЕЛИ

- А) Л.Д. Троцкий  
Б) И.Н. Кожедуб  
В) М.С. Горбачёв

## ИНФОРМАЦИЯ

- 1) один из руководителей белого движения в годы Гражданской войны  
2) лётчик-ас периода Великой Отечественной войны  
3) Президент СССР  
4) Председатель Революционного военного совета РСФСР в период Гражданской войны

Запишите в таблицу выбранные цифры под соответствующими буквами.

□ Ответ:

А	Б	В

2

Прочитайте четыре предложения. Два из них содержат события, процессы, явления, являющиеся причинами (предпосылками). Другие два содержат последствия этих событий, процессов, явлений. Подберите для каждой из причин (предпосылок) соответствующее ей последствие. Номера соответствующих предложений запишите в таблицу.

- 1) Произошло выступление «антипартийной группы».  
2) Вспыхнуло массовое недовольство и открытые выступления в рабочей среде.  
3) В 1962 г. были повышены на 30 % цены на мясо и на 25 % цены на масло.  
4) После смерти И.В. Сталина началась борьба за власть в высшем партийном руководстве СССР.

□	Номер предложения, содержащего			
	причину (предпосылку) 1	последствие 1	причину (предпосылку) 2	последствие 2
□				

3

Рассмотрите изображение и выполните задание.



Укажите название процесса форсированного наращивания промышленного потенциала СССР, в ходе которого был создан данный плакат.

Ответ: \_\_\_\_\_  
\_\_\_\_\_

Объясните, почему результаты указанного вами процесса важны а) для нашей страны, б) для всего человечества.

Ответ: \_\_\_\_\_  
\_\_\_\_\_  
\_\_\_\_\_  
\_\_\_\_\_  
\_\_\_\_\_  
\_\_\_\_\_  
\_\_\_\_\_  
\_\_\_\_\_  
\_\_\_\_\_  
\_\_\_\_\_



4

Прочтите отрывок из Декрета и выполните задание.

«Всероссийский съезд Советов рабочих, солдатских и крестьянских депутатов постановляет:

Образовать для управления страной, впредь до созыва Учредительного собрания, временное рабочее и крестьянское правительство, которое будет именоваться Советом Народных Комиссаров. Заведование отдельными отраслями государственной жизни поручается комиссиям, состав которых должен обеспечить проведение в жизнь провозглашённой съездом программы, в тесном единении с массовыми организациями рабочих, работниц, матросов, солдат, крестьян и служащих. Правительственная власть принадлежит коллегии председателей этих комиссий, то есть Совету Народных Комиссаров.

Контроль над деятельностью народных комиссаров и право смещения их принадлежит Всероссийскому съезду Советов рабочих, крестьянских и солдатских депутатов и его Центральному Исполнительному Комитету.

В настоящий момент Совет Народных Комиссаров составляется из следующих лиц:  
Председатель Совета – \_\_\_\_\_;  
Народный комиссар по внутренним делам – А. И. Рыков;  
Земледелия – В. П. Милютин...».

Укажите год, когда был издан данный Декрет. До какого момента, согласно данному отрывку, должно функционировать правительство, о создании которого идёт речь в данном отрывке? Назовите фамилию государственного деятеля, пропущенную в тексте.



Ответ: \_\_\_\_\_

\_\_\_\_\_

\_\_\_\_\_

\_\_\_\_\_

\_\_\_\_\_

\_\_\_\_\_

\_\_\_\_\_

\_\_\_\_\_

\_\_\_\_\_

\_\_\_\_\_

\_\_\_\_\_

\_\_\_\_\_

\_\_\_\_\_

\_\_\_\_\_

\_\_\_\_\_

\_\_\_\_\_

\_\_\_\_\_

\_\_\_\_\_

\_\_\_\_\_

\_\_\_\_\_

\_\_\_\_\_

\_\_\_\_\_

\_\_\_\_\_

\_\_\_\_\_

\_\_\_\_\_

**Ознакомьтесь с перечнем и изображениями памятников культуры и выполните задания 5 и 6.**

- 1) поэма «Василий Тёркин»;
- 2) роман «Преступление и наказание»;

3)



4)



5

Какие из приведённых памятников культуры были созданы в XX в.? Выберите два памятника культуры и запишите в таблицу цифры, под которыми они указаны.

Ответ:

--	--

6

Создателем какого из приведённых памятников культуры является А.Т. Твардовский? Укажите порядковый номер этого памятника культуры.

Ответ:

7

Рассмотрите изображение и выполните задание.



Укажите год, когда произошло событие, которому посвящён данный плакат. Какую реакцию со стороны США и Евросоюза вызвало данное событие?

Ответ: \_\_\_\_\_

\_\_\_\_\_

\_\_\_\_\_

\_\_\_\_\_

\_\_\_\_\_

\_\_\_\_\_

\_\_\_\_\_

\_\_\_\_\_

\_\_\_\_\_

\_\_\_\_\_

\_\_\_\_\_

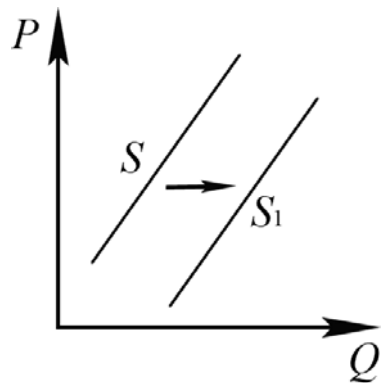
\_\_\_\_\_

\_\_\_\_\_

\_\_\_\_\_

8

На рисунке отражено изменение предложения наручных часов на соответствующем рынке: линия предложения  $S$  переместилась в новое положение –  $S_1$ . ( $P$  – цена;  $Q$  – количество.)



Какие из перечисленных факторов могут вызвать такое изменение? Запишите цифры, под которыми они указаны.

- 1) появление моды пользоваться часами на мобильных устройствах
- 2) рост себестоимости производства наручных часов
- 3) уменьшение налогов, уплачиваемых производителями наручных часов
- 4) увеличение количества продавцов наручных часов
- 5) использование новых высокопроизводительных технологий для изготовления наручных часов

Ответ: \_\_\_\_\_.

9

Установите соответствие между примерами и видами налогов и сборов согласно Налоговому кодексу РФ: к каждой позиции, данной в первом столбце, подберите соответствующую позицию из второго столбца.

ПРИМЕРЫ

ВИДЫ НАЛОГОВ И СБОРОВ В РФ

- |   |  |
|---|--|
| <p>А) торговый сбор<br/>                 Б) государственная пошлина<br/>                 В) налог на доходы физических лиц<br/>                 Г) налог на имущество физических лиц<br/>                 Д) транспортный налог</p> | <p>1) федеральные<br/>                 2) региональные<br/>                 3) местные</p> |
|---|--|

Запишите в таблицу выбранные цифры под соответствующими буквами.

Ответ: 

А	Б	В	Г	Д

10

Согласно Конституции РФ наша страна является социальным государством. Выберите в приведённом списке черты, характеризующие социальное государство, и запишите цифры, под которыми они указаны.

- 1) отделение религиозных объединений от государства
- 2) установление гарантированного минимального размера оплаты труда
- 3) создание условий, обеспечивающих гражданам РФ достойную жизнь
- 4) обеспечение государственной поддержки семьи
- 5) признание и гарантия местного самоуправления

Ответ: \_\_\_\_\_.

11

Установите соответствие между полномочиями и субъектами государственной власти РФ, реализующими эти полномочия: к каждой позиции, данной в первом столбце, подберите соответствующую позицию из второго столбца.

## ПОЛНОМОЧИЯ

- А) осуществление мер по обеспечению обороны страны  
 Б) утверждение военной доктрины РФ  
 В) разрешение споров о компетенции между федеральными органами государственной власти  
 Г) обеспечение исполнения федерального бюджета  
 Д) осуществление управления федеральной собственностью

СУБЪЕКТЫ  
ГОСУДАРСТВЕННОЙ ВЛАСТИ  
РФ

- 1) Президент РФ  
 2) Конституционный Суд РФ  
 3) Правительство РФ

Запишите в таблицу выбранные цифры под соответствующими буквами.

Ответ:

А	Б	В	Г	Д

12

Вам предложено подготовить презентацию о видах юридической ответственности в РФ. Что из перечисленного может быть включено в слайд «Уголовная ответственность»? Запишите **цифры**, под которыми указаны соответствующие положения.

- 1) Уголовная ответственность является правовым последствием совершения преступления.
- 2) К этому виду ответственности может быть привлечён работник, регулярно опаздывающий к началу рабочего дня.
- 3) Наказание применяется в целях восстановления социальной справедливости, а также исправления осуждённого и предупреждения совершения им новых преступлений.
- 4) Видами наказания являются штраф, обязательные работы, арест, лишение свободы на определённый срок и др.
- 5) Уголовная ответственность бывает двух видов: ограниченная и полная.
- 6) За совершённый поступок к ответственности могут привлекаться физические и юридические лица.

Ответ: \_\_\_\_\_.



13

В государстве  $Z$  развиваются новейшие коммуникационные технологии и сервисы, внедряются инновации, осуществляется переход к электронике на всех уровнях производственной деятельности, постоянно возрастает роль науки и образования в жизни общества.

В ходе социологических опросов было установлено, что в государстве  $Z$  в период с 2013 по 2018 г. на 25% выросла доля учащихся школ, воспользовавшихся правом выбора наиболее удобной формы обучения в соответствии со своими целями и интересами. Школьники и их родители отмечают общую ориентированность системы образования на развитие и становление отношений взаимного уважения учащихся и педагогов, сохранение и укрепление здоровья учеников.

Социологические опросы показали, что в государстве  $Z$  преобладают семьи демократического типа.

Государство  $Z$  включает в себя восемь территориальных единиц, не обладающих политической самостоятельностью. Законодательную власть осуществляет парламент, а всенародно избираемый глава государства формирует правительство и возглавляет исполнительную власть.

1) К какому типу относится общество  $Z$ ?

2) Какую тенденцию развития образования иллюстрируют приведённые данные?

3) Что характеризует семью демократического типа? (Приведите любые две характеристики.)

4) Какой факт из условия задачи позволяет сделать вывод, что  $Z$  – унитарное государство?

Ответ на первый вопрос: \_\_\_\_\_

\_\_\_\_\_

Ответ на второй вопрос: \_\_\_\_\_

\_\_\_\_\_

Ответ на третий вопрос: \_\_\_\_\_

\_\_\_\_\_

Ответ на четвёртый вопрос: \_\_\_\_\_

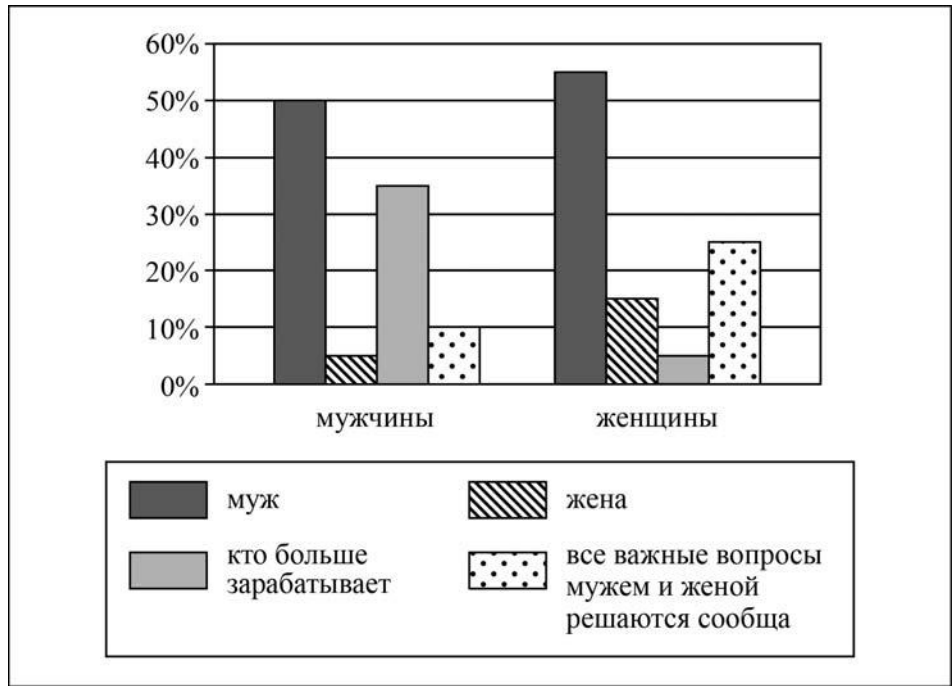
\_\_\_\_\_

\_\_\_\_\_

14

В ходе социологического опроса совершеннолетних граждан страны Z им задавали вопрос: «Кто должен быть главой семьи?»

Результаты опроса (в % от числа отвечавших) представлены в виде диаграммы.



Сформулируйте по одному выводу: а) о сходстве; б) о различии в позициях групп опрошенных. Выскажите предположение о том, чем объясняются указанные Вами: а) сходство; б) различие.

□ Ответ: \_\_\_\_\_

\_\_\_\_\_

\_\_\_\_\_

\_\_\_\_\_

\_\_\_\_\_

\_\_\_\_\_

\_\_\_\_\_

\_\_\_\_\_

\_\_\_\_\_

\_\_\_\_\_

\_\_\_\_\_

\_\_\_\_\_

\_\_\_\_\_

\_\_\_\_\_

\_\_\_\_\_

\_\_\_\_\_

\_\_\_\_\_

\_\_\_\_\_

\_\_\_\_\_

\_\_\_\_\_

\_\_\_\_\_

\_\_\_\_\_

\_\_\_\_\_

\_\_\_\_\_

\_\_\_\_\_

\_\_\_\_\_

15

Начался пожар в школе. Учащиеся находятся на перерыве вне класса.

Назовите не менее четырёх правил безопасного поведения, которые необходимо выполнить ученикам в этом случае.

Ответ: \_\_\_\_\_

\_\_\_\_\_

\_\_\_\_\_

\_\_\_\_\_

\_\_\_\_\_

\_\_\_\_\_

\_\_\_\_\_

\_\_\_\_\_

\_\_\_\_\_

16

Катаясь на лыжах в горах, можно попасть под снежную лавину. Объясните, в чём состоит опасность снежных лавин.

Назовите не менее двух действий, которые нужно предпринять человеку, попавшему в лавину.

Ответ: \_\_\_\_\_

\_\_\_\_\_

\_\_\_\_\_

\_\_\_\_\_

\_\_\_\_\_

\_\_\_\_\_

\_\_\_\_\_

\_\_\_\_\_

17

Определите регион России по его краткому описанию.

Особенностью ЭГП этой области является наличие выхода к Государственной границе Российской Федерации с тремя европейскими странами. Более трети территории области занимают леса. Другой особенностью её природы является обилие озёр. Полезными ископаемыми область небогата: разведаны залежи торфа и строительных материалов. Основные отрасли промышленности: машиностроение, деревообрабатывающая, лёгкая и пищевая. В сельском хозяйстве преобладает молочное скотоводство; растениеводство специализируется на производстве кормовых культур.

Ответ: \_\_\_\_\_.

18

Прочитайте приведённый ниже текст, в котором пропущен ряд слов (словосочетаний). Выберите из предлагаемого списка слова (словосочетания), которые необходимо вставить на места пропусков.

### Природа Северо-Запада России

Северо-Запад России – самый небольшой по площади территории географический район страны. На рельеф Северо-Запада России оказали влияние четвертичные оледенения, сформировавшие такие формы рельефа, как \_\_\_\_\_ (А) и задровые равнины. Полезные ископаемые Северо-Запада России: огнеупорные глины, горючие сланцы, фосфориты и \_\_\_\_\_ (Б). Район располагается в \_\_\_\_\_ (В) климатическом поясе. Территория района находится в пределах природных зон тайги и смешанных и широколиственных лесов.

Выбирайте последовательно одно слово (словосочетание) за другим, мысленно вставляя на места пропусков слова (словосочетания) из списка в нужной форме. Обратите внимание на то, что слов (словосочетаний) в списке больше, чем Вам потребуется для заполнения пропусков. Каждое слово (словосочетание) может быть использовано только один раз.

Список слов (словосочетаний):

- 1) умеренный
- 2) субарктический
- 3) моренные холмы
- 4) барханы
- 5) бокситы
- 6) каменный уголь

В данной ниже таблице приведены буквы, обозначающие пропущенные слова (словосочетания). Запишите в таблицу под каждой буквой номер выбранного Вами слова (словосочетания).

Ответ:

А	Б	В

19

Установите соответствие между республикой РФ и её столицей: к каждому элементу первого столбца подберите соответствующий элемент из второго столбца.

### РЕСПУБЛИКА

- А) Удмуртская Республика
- Б) Кабардино-Балкарская Республика
- В) Республика Мордовия

### СТОЛИЦА

- 1) Саранск
- 2) Элиста
- 3) Нальчик
- 4) Ижевск

Запишите в таблицу цифры, соответствующие выбранным ответам.

Ответ:

А	Б	В

20

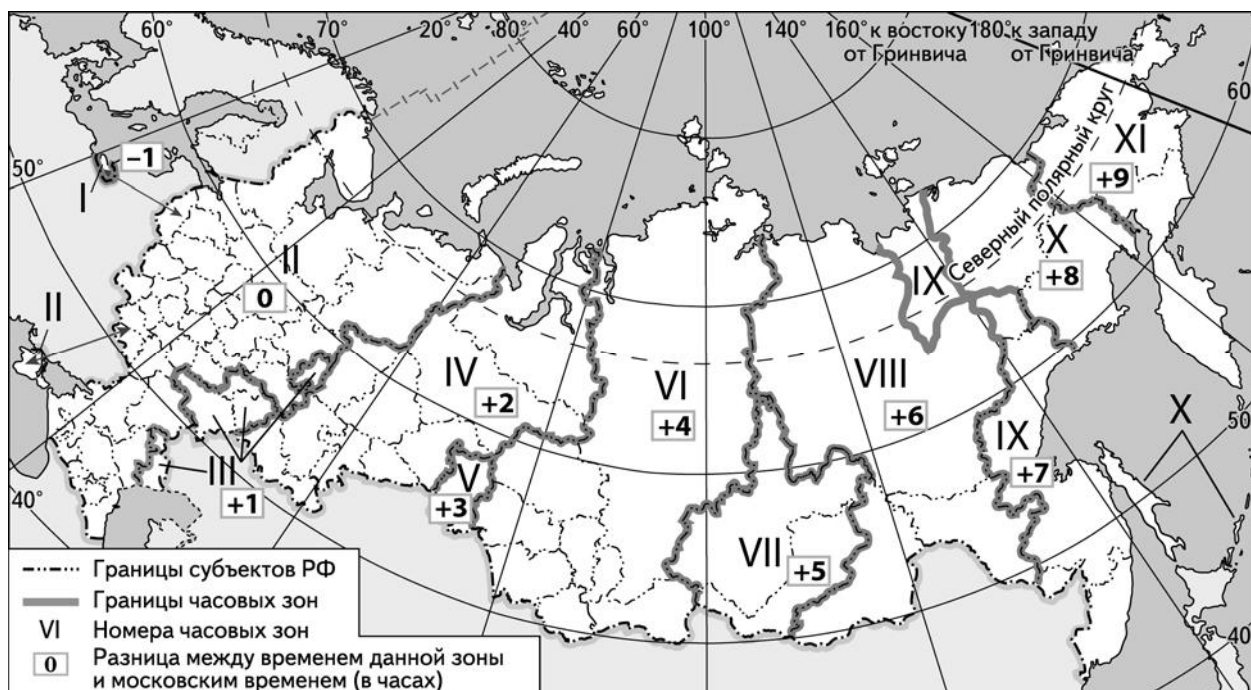
Потенциал российских регионов для развития туризма огромен. Каждый из них имеет рекреационные ресурсы, способные привлечь тысячи туристов из России и зарубежных стран. Определите субъект Российской Федерации по описанию его рекреационного потенциала.

«На побережье Белого моря и Онежского озера сохранились наскальные изображения – петроглифы, относящиеся к периоду неолита. Один из популярнейших объектов туризма – водопад Кивач, воды которого падают каскадами с небольших уступов высотой в 11 метров. К выдающимся памятникам русского деревянного зодчества региона относятся Успенская церковь в Кондопоге (XVIII в.) и комплекс деревянных сооружений Кижского погоста на острове Кижь в Онежском озере. Основу курортных ресурсов региона составляют минеральные воды и лечебные грязи. Железистые источники, обнаруженные близ Петрозаводска в XVIII веке, послужили базой для создания первого в России курорта – Марциальные Воды.»

Ответ: \_\_\_\_\_

21

Прямая линия с Президентом Российской Федерации В.В. Путиным в 2017 г. началась в 12 часов по московскому времени. Используя карту, определите, в каких из перечисленных ниже регионов трансляция началась в 16 часов по местному времени этих регионов. Запишите цифры, под которыми указаны эти регионы.



- 1) Свердловская область
- 2) Астраханская область
- 3) Томская область
- 4) Республика Хакасия
- 5) Новосибирская область
- 6) Республика Саха (Якутия)

Ответ: \_\_\_\_\_

22

Многие банки предоставляют возможность подключения автоплатежа за коммунальные услуги, который оформляется через личный кабинет клиента на сайте соответствующего банка.

1) Какие сведения должен указать клиент в своём личном кабинете?

Ответ: \_\_\_\_\_  
\_\_\_\_\_  
\_\_\_\_\_  
\_\_\_\_\_  
\_\_\_\_\_  
\_\_\_\_\_

2) Как Вы думаете, что будет происходить после запуска клиентом данной услуги?

Ответ: \_\_\_\_\_  
\_\_\_\_\_  
\_\_\_\_\_  
\_\_\_\_\_  
\_\_\_\_\_  
\_\_\_\_\_

3) В чём преимущество автоплатежа перед другими способами оплаты коммунальных услуг? (Укажите любые два преимущества.)

Ответ: \_\_\_\_\_  
\_\_\_\_\_  
\_\_\_\_\_  
\_\_\_\_\_  
\_\_\_\_\_  
\_\_\_\_\_

4) Как Вы думаете, почему некоторые граждане не заинтересованы в оформлении автоплатежа? (Выскажите своё предположение.)

Ответ: \_\_\_\_\_  
\_\_\_\_\_  
\_\_\_\_\_  
\_\_\_\_\_  
\_\_\_\_\_  
\_\_\_\_\_

