

**Проверочная работа  
по ИСТОРИИ**

**5 класс**

**Вариант 2**

**Инструкция по выполнению работы**

На выполнение работы по истории даётся 45 минут. Работа состоит из двух частей и включает в себя 7 заданий. Часть 1 работы содержит задания по истории Древнего мира, в части 2 предложено задание, связанное с памятью народа России о Великой Отечественной войне.

Ответы на задания запишите в поля ответов в тексте работы. В случае записи неверного ответа зачеркните его и запишите рядом новый.

При выполнении работы не разрешается пользоваться учебником, рабочими тетрадями и другими справочными материалами.

При необходимости можно пользоваться черновиком. Записи в черновике проверяться и оцениваться не будут.

Советуем выполнять задания в том порядке, в котором они даны. В целях экономии времени пропускайте задание, которое не удаётся выполнить сразу, и переходите к следующему. Если после выполнения всей работы у Вас останется время, то Вы сможете вернуться к пропущенным заданиям.

***Желаем успеха!***

---

*Заполняется учителем, экспертом или техническим специалистом*

**Обратите внимание:** в случае, если какие-либо задания не могли быть выполнены целым классом по причинам, связанным с отсутствием соответствующей темы в реализуемой школой образовательной программе, в форме сбора результатов ВПР всем обучающимся класса за данное задание вместо балла выставляется значение «Тема не пройдена». В соответствующие ячейки таблицы заполняется н/п.

*Таблица для внесения баллов участника*

Номер задания	1	2	3	4	5	6	7	Сумма баллов	Отметка за работу
Баллы									

Часть 1



В этой части работы даны задания по истории Древнего мира.

Прочтите перечень из четырёх тем и выполните задания, относящиеся к этому перечню.

- Перечень тем**
- А) шумерские города-государства
  - Б) Древний Египет
  - В) Древняя Индия
  - Г) Древняя Греция

1

Каждая из иллюстраций, приведённых ниже, относится к одной из указанных в перечне тем. Установите соответствие между темами и иллюстрациями: к каждой теме подберите по одной иллюстрации.



Запишите в таблицу выбранные цифры под соответствующими буквами.

Ответ:

А	Б	В	Г

## Перечень тем

А) шумерские города-государства

Б) Древний Египет

В) Древняя Индия

Г) Древняя Греция

2

Прочтите отрывок из жизнеописания исторического деятеля и определите, к какой из данных тем он относится. В ответе напишите букву, которой обозначена эта тема.

«После ж того, как его величество перебил соседние азиатские племена, он поплыл вверх по Нилу в северную Нубию с целью истребить нубийских кочевников. И его величество произвёл среди них страшное опустошение. И я захватил там добычу: 2 живых мужчин и 3 руки. И меня снова одарили золотом. И вот мне дали 2 рабынь. Его величество поплыл вниз по Нилу, с радостным сердцем, сильный и победоносный, пленив южан и северян».

Ответ:

**Выберите одну тему из перечня, а затем выполните относящиеся к этому перечню задания только по выбранной Вами теме. Перед выполнением каждого из относящихся к перечню заданий укажите букву, которой обозначена выбранная тема. Указанные в заданиях буквы должны быть одинаковыми.**

3

Выбранная тема:  (укажите букву в перечне).

Прочтите список слов и напишите слово, относящееся к выбранной Вами теме.

*Филистимляне, Персеполь, агора, варны, Амон-Ра, клинопись.*

Ответ: \_\_\_\_\_

Объясните смысл этого слова.

Ответ: \_\_\_\_\_

**Перечень тем**

<b>А)</b> шумерские города-государства	<b>Б)</b> Древний Египет
<b>В)</b> Древняя Индия	<b>Г)</b> Древняя Греция

4

Выбранная тема:  (укажите букву в перечне).

Прочтите список событий (явлений, процессов) и напишите событие (явление, процесс), которое относится к выбранной Вами теме.

*Изгнание Тарквиния Гордого, погребение фараона, строительство городов из глины, битва у Фермопил, сожжение Ниневии, легенда о принце Гаутаме.*

Ответ: \_\_\_\_\_

Используя знания по истории, расскажите об этом событии (явлении, процессе). Ваш рассказ должен содержать не менее двух исторических фактов.

\_\_\_\_\_

\_\_\_\_\_

\_\_\_\_\_

\_\_\_\_\_

\_\_\_\_\_

\_\_\_\_\_

\_\_\_\_\_

\_\_\_\_\_

\_\_\_\_\_

\_\_\_\_\_

\_\_\_\_\_

\_\_\_\_\_

\_\_\_\_\_

\_\_\_\_\_

\_\_\_\_\_

\_\_\_\_\_

\_\_\_\_\_

\_\_\_\_\_

\_\_\_\_\_

\_\_\_\_\_

\_\_\_\_\_

\_\_\_\_\_

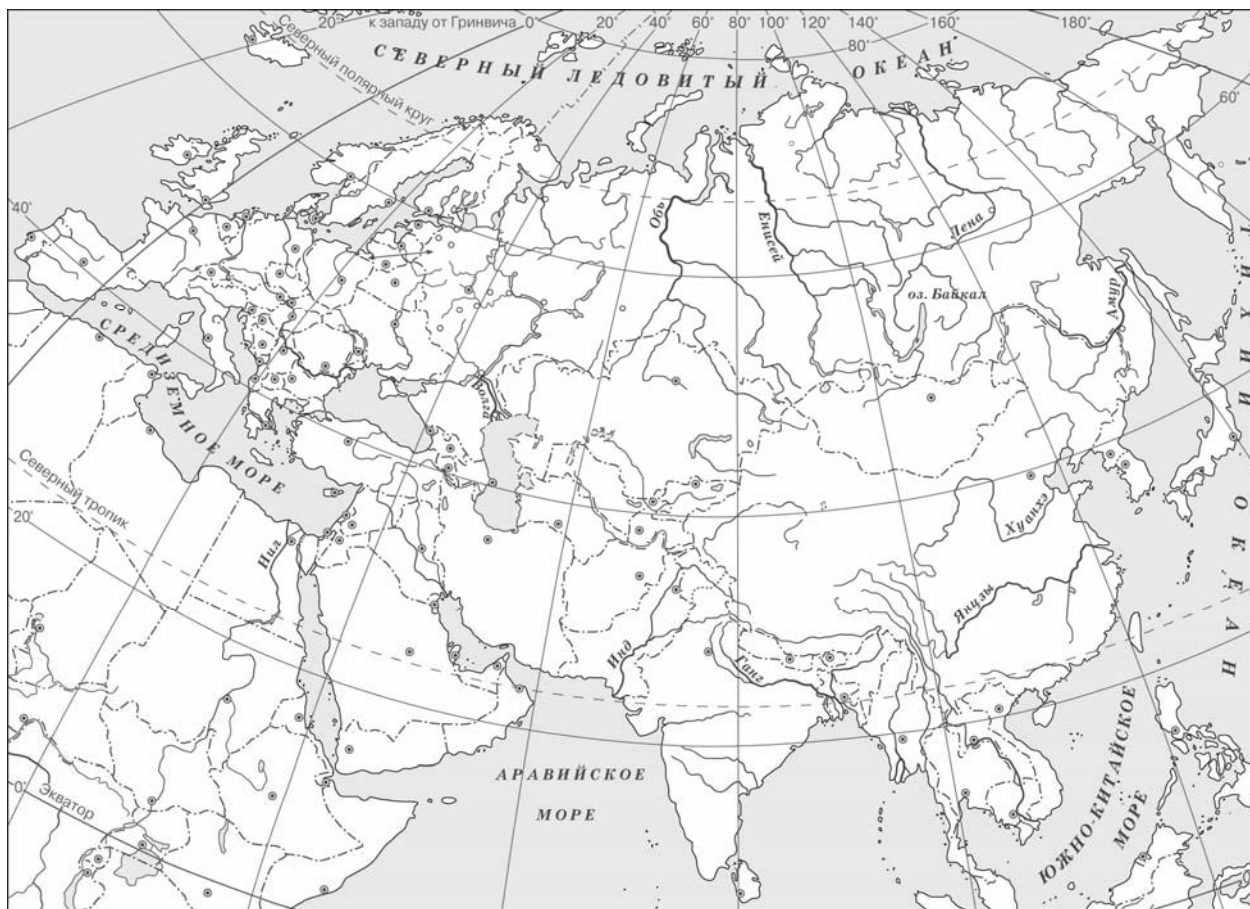
\_\_\_\_\_

\_\_\_\_\_



5

Заштрихуйте на контурной карте один четырёхугольник, образованный градусной сеткой (параллелями и меридианами), в котором полностью или частично расположена страна, получившая название Поднебесной.



6

Используя знания исторических фактов, объясните, как природно-климатические условия повлияли на занятия жителей страны, получившей название Поднебесной.



Ответ: \_\_\_\_\_  
 \_\_\_\_\_  
 \_\_\_\_\_  
 \_\_\_\_\_

### Часть 2

7

Рассмотрите изображение и выполните задание.



Укажите название акции памяти, во время проведения которой была сделана данная фотография. Объясните, почему участие в этой акции является значимым для граждан нашей страны.

□

Ответ: \_\_\_\_\_

---

---

---

---

---

---

---

---

---

---

---

---