

**Проверочная работа
по ИСТОРИИ**

6 класс

Вариант 2

Инструкция по выполнению работы

На выполнение работы по истории даётся 45 минут. Работа включает в себя 8 заданий. Часть 1 работы посвящена истории России и истории зарубежных стран (история Средних веков), в части 2 предложено задание, связанное с памятью народа России о Великой Отечественной войне.

Ответы на задания запишите в поля ответов в тексте работы. В случае записи неверного ответа зачеркните его и запишите рядом новый.

При необходимости можно пользоваться черновиком. Записи в черновике проверяться и оцениваться не будут.

Советуем выполнять задания в том порядке, в котором они даны. В целях экономии времени пропускайте задание, которое не удаётся выполнить сразу, и переходите к следующему. Если после выполнения всей работы у Вас останется время, то Вы сможете вернуться к пропущенным заданиям.

Желаем успеха!

Заполняется учителем, экспертом или техническим специалистом

Обратите внимание: в случае, если какие-либо задания не могли быть выполнены целым классом по причинам, связанным с отсутствием соответствующей темы в реализуемой школой образовательной программе, в форме сбора результатов ВПР всем обучающимся класса за данное задание вместо балла выставляется значение «Тема не пройдена». В соответствующие ячейки таблицы заполняется н/п.

Таблица для внесения баллов участника

Номер задания	1	2	3	4	5	6	7	8	Сумма баллов	Отметка за работу
Баллы										

Часть 1

В этой части работы даны задания по истории России и истории зарубежных стран (история Средних веков).




Прочтите перечень из четырёх событий (процессов) и выполните задания, относящиеся к этому перечню.

Перечень событий (процессов)

- А) взаимоотношения русских земель и княжеств с Золотой Ордой в XIII в.
- Б) внутренняя политика русских князей в X в.
- В) формирование законодательства Древнерусского государства в XI в.
- Г) образование Испанского королевства

1

Каждая из иллюстраций, приведённых ниже, относится к одному из указанных в перечне событий (процессов). Установите соответствие между событиями (процессами) и иллюстрациями: к каждому событию (процессу) подберите по одной иллюстрации.



Запишите в таблицу выбранные цифры под соответствующими буквами.

Ответ:

А	Б	В	Г

Перечень событий (процессов)

- | | |
|---|---|
| А) взаимоотношения русских земель и княжеств с Золотой Ордой в XIII в. | Б) внутренняя политика русских князей в X в. |
| В) формирование законодательства Древнерусского государства в XI в. | Г) образование Испанского королевства |

2

Прочтите отрывок из исторического источника и определите, к какому из данных событий (процессов) он относится. В ответе напишите букву, которой обозначено это событие (процесс).

«...Если убьёт свободный человек свободного, то за него имеют право мстить брат за брата, или сын за отца, или отец за сына, или сыновья брата и сестры; если кто из них не пожелает или не может мстить, то пусть получит 40 гривен за убитого; если убитый будет русин, или гридин, или купчина, или ябетник, или мечник, если он изгой будет или словенин, то уплатить за него 40 гривен.

...Если кто будет избит до крови или синяков, то (для получения вознаграждения) ему не надо представлять свидетеля; если на нём не будет явных знаков избияния, то он должен представить свидетеля, а если не может – делу конец; если же он не может за себя отомстить (обидчику), то получает за обиду 3 гривны и плату лекарю».

Ответ:

3

С каким из данных событий (процессов) связано слово «баскак»? Запишите букву, которой обозначено данное событие (процесс).

Ответ:

Объясните смысл слова «баскак».

Ответ:

4

Укажите две исторические личности, которые были непосредственно связаны с развитием градостроения в Северо-Восточной Руси в XII в.

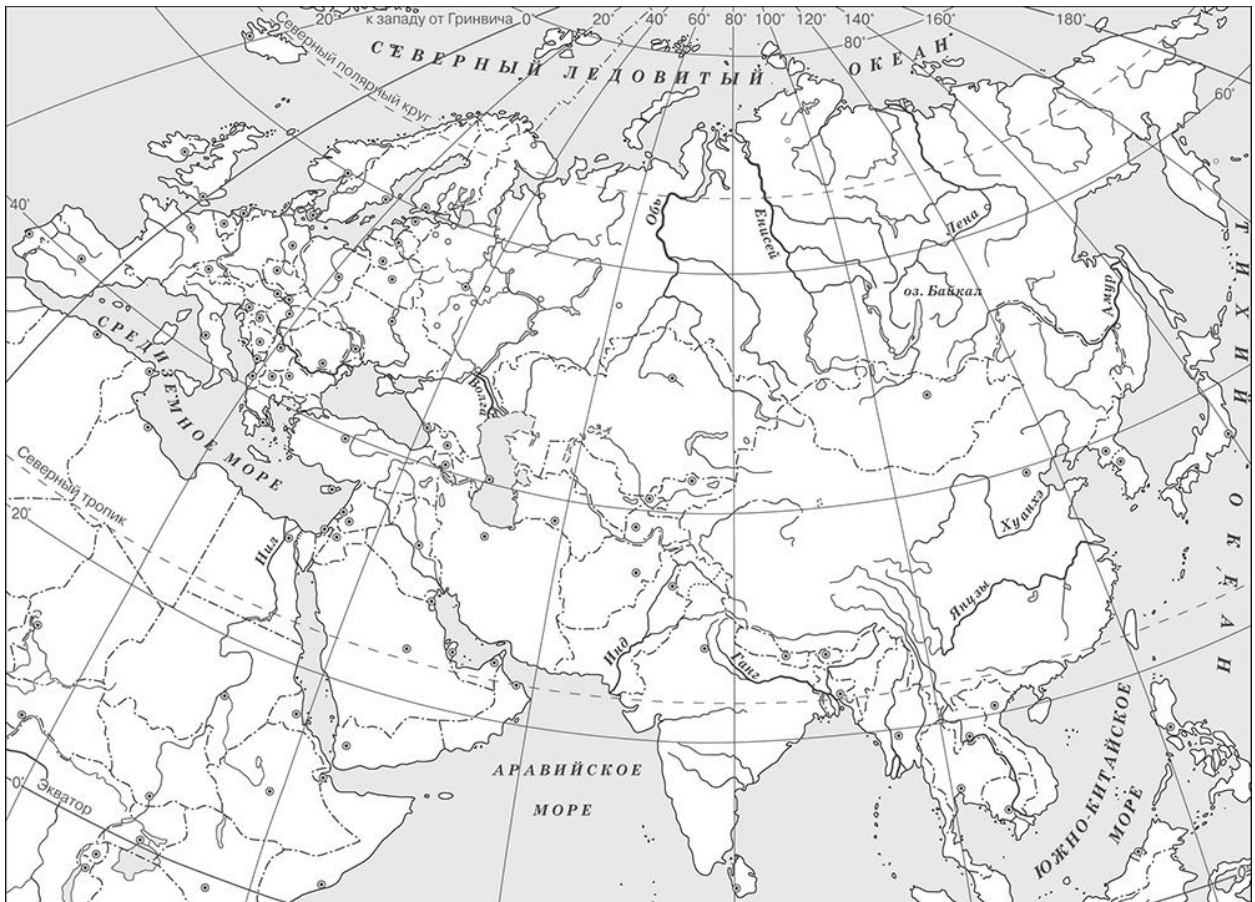
Укажите одно любое действие каждой из этих личностей, в значительной степени повлиявшее на развитие градостроения в Северо-Восточной Руси в XII в.

Ответ:



Личности	Действия
1.	
2.	

5

Заштрихуйте на контурной карте один четырёхугольник, образованный градусной сеткой, в котором находилась столица Делийского султаната – город Дели.



Рассмотрите изображения



6) На каких двух изображениях представлены памятники культуры России, а на каких – памятники культуры зарубежных стран? Запишите в таблицу порядковые номера соответствующих изображений.

□ Ответ:

Памятники культуры России		Памятники культуры зарубежных стран	

7) Какие из перечисленных памятников культуры созданы в период политической раздробленности Руси? Выберите два памятника культуры и запишите в таблицу цифры, под которыми они указаны.

- 1) Золотые ворота в Киеве
- 2) «Слово о полку Игореве»
- 3) «Чтение о Борисе и Глебе»
- 4) церковь Покрова на Нерли
- 5) Софийский собор в Новгороде

□ Ответ: □ □

Часть 2

8

Рассмотрите изображение и выполните задание.



Назовите войну, в годы которой совершили трудовой подвиг труженики тыла, в честь которых установлен данный памятный знак. Объясните, почему труженикам тыла устанавливаются памятники, как и участникам боевых действий в годы этой войны.

Ответ: _____
