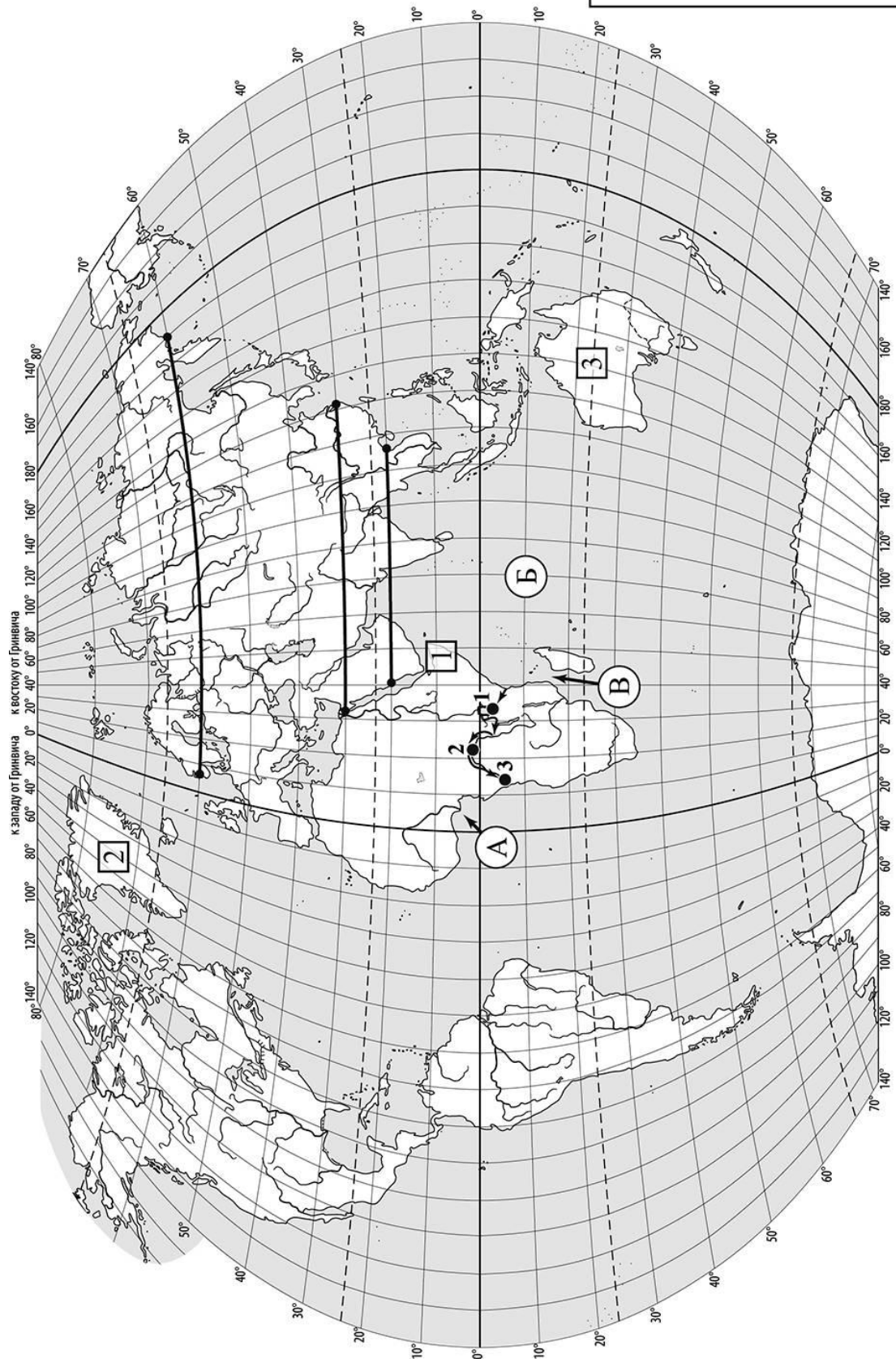
 Карта для выполнения заданий 1 – 3



Задания 1–3 выполняются с использованием карты мира, приведённой на странице 2.

1

На карте мира, приведённой на странице 2, изображён маршрут экспедиции одного из путешественников, портреты которых представлены ниже. Рассмотрите карту и портреты путешественников и выполните задания.

1.1. Маршрут экспедиции кого из путешественников изображён на карте?



Америго Веспуччи



Александр Гумбольдт



Генри Стэнли

Ответ. _____



Подпишите на карте название материка, по которому проходил маршрут экспедиции.



1.2. На карте буквами обозначены объекты, определяющие географическое положение материка, по которому проходил маршрут экспедиции. Выберите из приведённого списка и запишите в таблицу названия этих объектов.

*Бенгальский залив, Средиземное море, Гвинейский залив,
Мозамбикский пролив, Гибралтарский пролив, Индийский океан.*

А	Б	В



1.3. По линии маршрута экспедиции отмечены точки, расположенные на территории крупных географических объектов. Определите и запишите в ответе географические координаты **точки 2**.

Ответ. _____

На территории какого географического объекта расположена точка 2? Запишите в ответе его название.



Ответ. _____

2

На уроке географии Валентин построил профиль рельефа Евразии, представленный на рисунке 1. Используя рисунок и карту мира, приведённую на странице 2, выполните задания.

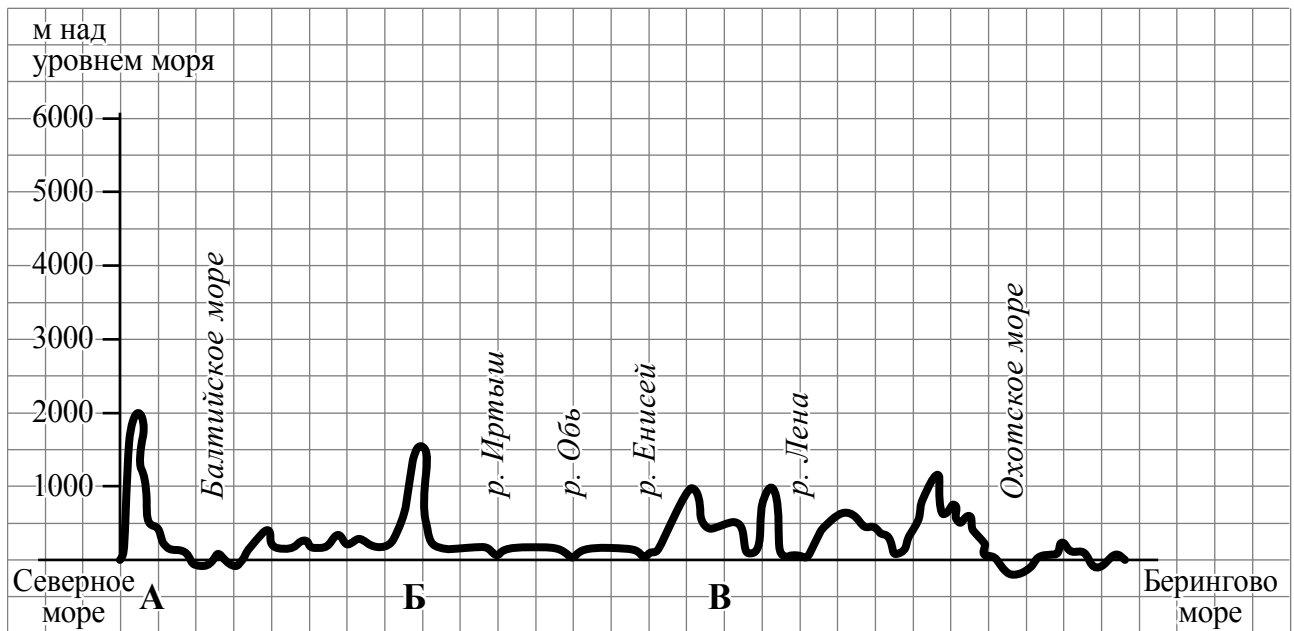


Рисунок 1

2.1. По какому из отрезков, проведённых на карте вдоль трёх параллелей, пересекающих материк Евразия, построен профиль рельефа, представленный на рисунке 1? Укажите в ответе значение параллели.

Ответ. _____

Определите по карте протяжённость материка Евразия **в градусах** по указанной Вами параллели.

Ответ. _____ °.

Рассчитайте протяжённость материка Евразия по указанной Вами параллели **в километрах** с помощью приведённой ниже таблицы. (Для расчёта воспользуйтесь калькулятором.)

Широта	0°	10°	20°	30°	40°	50°	60°	70°	80°	90°
Длина дуги параллели в 1°, км	111,3	109,6	104,6	96,5	85,4	71,7	55,8	38,2	19,4	0

Ответ. _____ км.

2.2. Какой крупной форме рельефа соответствует участок профиля, обозначенный на рисунке 1 буквой В?

- 1) Среднесибирское плоскогорье
- 2) Уральские горы
- 3) плоскогорье Декан
- 4) горы Сихотэ-Алинь

Ответ.

Определите наибольшую абсолютную высоту территории, через которую проходит профиль на этом участке.



Ответ. _____ м.

2.3. На рисунке 2 представлены значки, которыми обозначаются месторождения полезных ископаемых на географических картах.

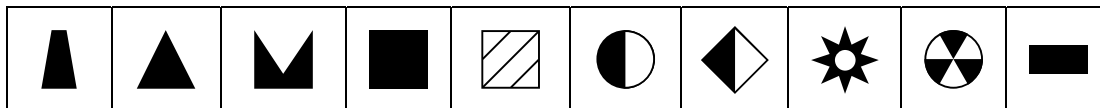


Рисунок 2

Внесите в таблицу значки, обозначающие месторождения полезных ископаемых, которые добывают на территории, обозначенной на профиле буквой В.

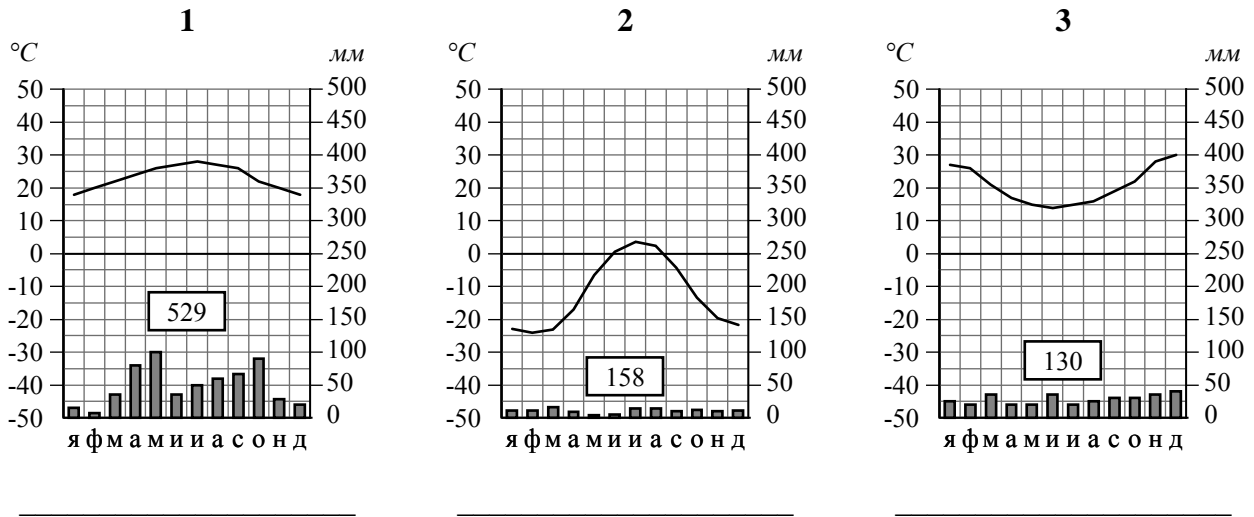


Золото	Каменный уголь	Алмазы	Бурый уголь

3

Рассмотрите рисунки с изображением климатограмм, построенных по данным метеонаблюдений в разных частях Земли, и выполните задания.

3.1. На карте мира территории, для которых построены изображённые на рисунках климатограммы, показаны квадратами с соответствующими номерами климатограмм. Определите, какому климатическому поясу соответствует каждая климатограмма. Подпишите названия климатических поясов под соответствующими климатограммами.



3.2. Какой природной зоне мира соответствуют приведённые ниже характеристики? Укажите в ответе название этой природной зоны.

- 1) Занимает преимущественно равнинные территории.
- 2) Характерна смена сухого и влажного сезонов года.
- 3) Преобладает травянистый покров с травами, достигающими 3 м в высоту.
- 4) Древесная растительность представлена акациями, веерными пальмами, баобабами.
- 5) Обитают крупные травоядные животные: слоны, жирафы, зебры, антилопы, буйволы, носороги, бегемоты, а также хищники: гепарды, леопарды, шакалы, гиены.

Ответ. _____

Выберите климатограмму, соответствующую климатическим особенностям указанной Вами природной зоны. Запишите в ответе её номер.

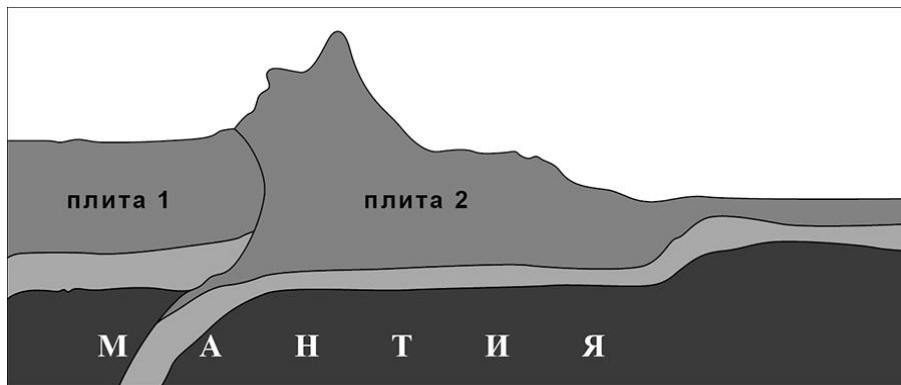
Ответ.

3.3. По выбранной климатограмме заполните таблицу климатических показателей для указанной Вами природной зоны.

Средняя температура воздуха, °С		Годовая амплитуда температур, °С	Годовое количество осадков, мм	Месяц, на который приходится наибольшее количество осадков
в январе	в июле			

4

Рассмотрите схему природного процесса и выполните задания.



4.1. Какой природный процесс отображён на схеме?

Ответ. _____

4.2. Установите последовательность этапов указанного Вами природного процесса. Запишите в ответе **порядковые номера** этапов.

ЭТАПЫ:

- 1) Литосферные плиты перемещаются по верхней части мантии навстречу друг другу.
- 2) Вдоль поясов сжатия происходит медленный подъём земной коры и смятие горных пород в складки.
- 3) Образуются пояса складчатых гор.
- 4) Происходит столкновение одинаковых по мощности плит.
- 5) В результате столкновения плиты надвигаются друг на друга, образуя пояса сжатия.

Ответ.

--	--	--	--	--	--

5. 5.1. Установите соответствие между материками и их географическими особенностями.

Материки

- А – Северная Америка
- Б – Южная Америка

Географические особенности

- 1) К северу от материка расположен один из крупнейших в мире архипелагов.
- 2) В северной части материк пересекается экватором.
- 3) По территории материка протекает самая длинная и полноводная река мира.
- 4) На материке расположены две страны, входящие в пятёрку самых крупных стран мира и занимающие 80% площади материка.
- 5) Около половины площади материка занимают влажные экваториальные леса – сельва.
- 6) На материке расположена самая крупная в мире система озёр, соединённых между собой реками и проливами.

Запишите в таблицу выбранные цифры под буквами, которыми обозначены материки.



Материк	А	Б
Географические особенности		

5.2. Заполните блок-схему: для этого по указанным на схеме названиям географических объектов определите и запишите название одного из двух материков, указанных в задании 5.1, а затем выберите из списка названия других географических объектов, расположенных на территории этого материка, запишите их в соответствующие ячейки на схеме и заполните оставшиеся пустые ячейки.

Мексика, Муррей, Гудзонов, Парана, Нил, Танганьика, Антарктический, Титикака, Бразилия, Байкал, Маракайбо, Килиманджаро.



Задание 6 выполняется с использованием политической карты мира, приведённой на странице 11.

6

Серхио и Жан познакомились на международном фестивале театров в Италии. Серхио живёт в столице Бразилии, а Жан – в столице Франции. Подростки общаются через Интернет, и при общении им приходится учитывать разницу во времени между их городами.



6.1. На политической карте мира, приведённой на странице 11, выделите штриховкой страны, в которых живут подростки.




6.2. Вследствие вращения Земли время различается в разных её частях, и в Бразилии день наступает позже, чем во Франции. Часы на рисунках отображают время в городах, где живут подростки. Подпишите названия городов под соответствующими часами.



Время по Гринвичу
12:00 (полдень)



10 ноября
13:00

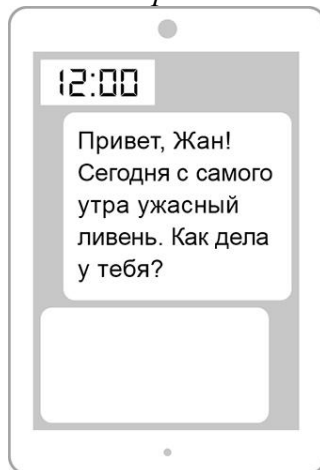


10 ноября
9:00

6.3. Серхио отправил Жану электронное сообщение в 12:00 по местному времени.

Серхио

Жан



Какое время будет отображаться в соответствующем окне на экране смартфона Жана, когда он получит сообщение от Серхио?



Ответ. _____

7

Используя представленную ниже таблицу, выполните задания.

Численность и структура занятости населения, 2017 г.


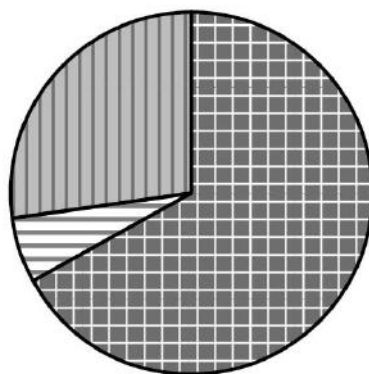
№	Страна	Численность занятого населения, млн человек	Доля занятого населения, %		
			в сельском хозяйстве	в промышленности	в сфере услуг
1	Франция	30,7	3	20	77
2	Казахстан	9,0	18	20	62
3	Гаити	4,6	38	12	50
4	Танзания	24,9	67	6	27

7.1. Расположите страны в порядке **уменьшения** численности занятого населения, начиная со страны с самым высоким показателем. Запишите в ответе последовательность **порядковых номеров** этих стран.

Ответ.

--	--	--	--

7.2. Структуру занятости населения какой страны, из приведённых в таблице, отражает представленная на рисунке диаграмма? Запишите в ответе **название** страны.



доля населения, занятого в сельском хозяйстве




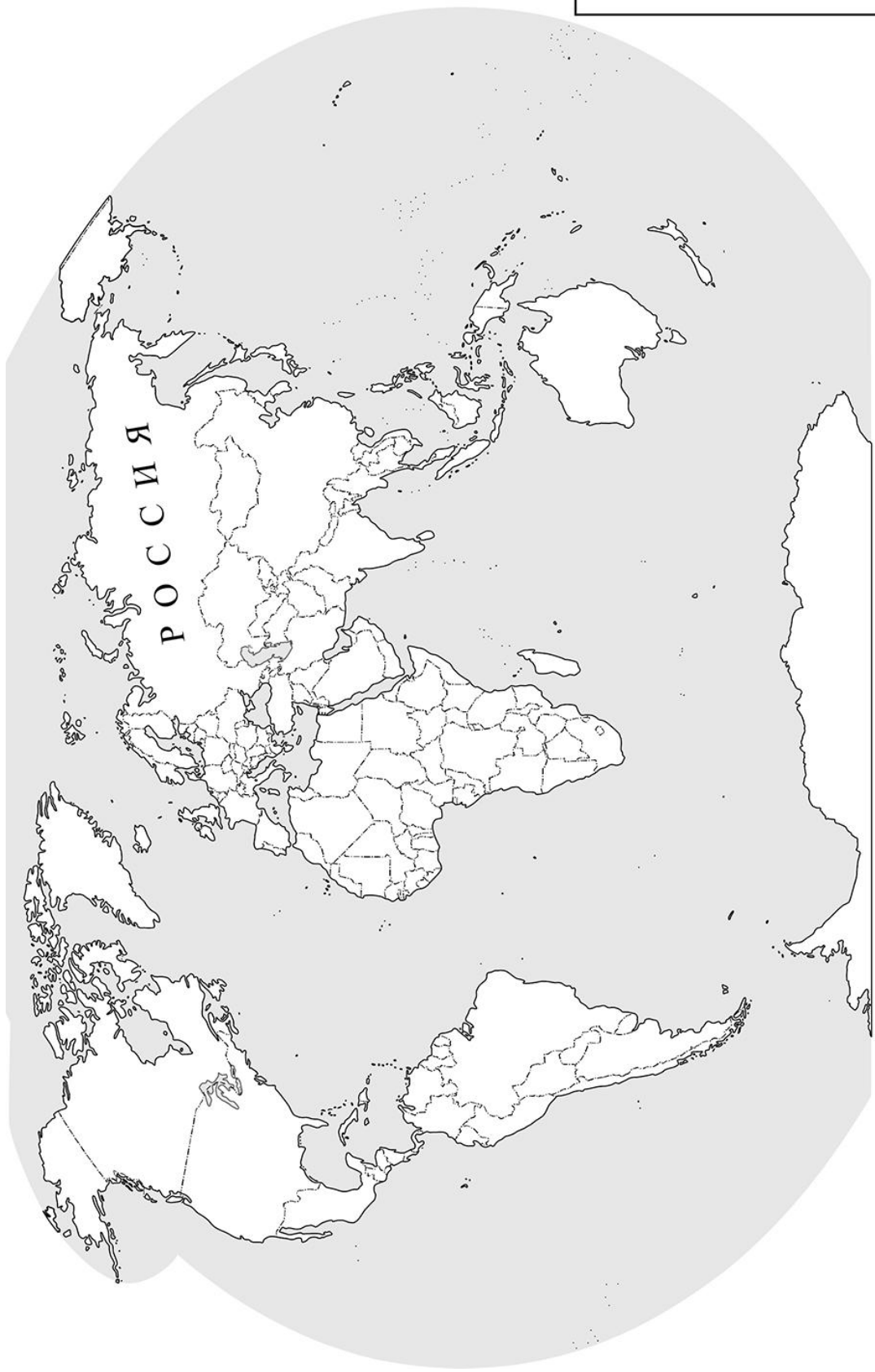
доля населения, занятого в промышленности



доля населения, занятого в сфере услуг

Ответ. _____

 Карта для выполнения задания 6



Приведена карта, используемая в учебниках и атласах по географии на начало 2022/2023 учебного года.

8

Представьте, что Вы познакомились со своим сверстником, который живёт за границей, и он прислал Вам фотографии, сделанные в его стране.

8.1. Рассмотрите фотографии и ответьте на вопрос.



В какой стране живёт Ваш сверстник?

Ответ. _____

8.2. Рассмотрите представленные ниже рисунки. Выберите рисунок с контуром страны, в которой живёт Ваш сверстник. Запишите в ответе букву, которой обозначен этот рисунок.



А



Б



В

Ответ.

В какой части света расположена эта страна?

Ответ. _____