

Задания 1–3 выполняются с использованием карты мира, приведённой на странице 2.

1

На карте мира, приведённой на странице 2, изображён маршрут экспедиции одного из путешественников, портреты которых представлены ниже. Рассмотрите карту и портреты путешественников и выполните задания.

1.1. Маршрут экспедиции кого из путешественников изображён на карте?



Абель Тасман



Фернан Магеллан



Христофор Колумб

Ответ. _____



Подпишите на карте название материка, который эта экспедиция обогнула с юга, пройдя через узкий пролив между южной оконечностью материка и островами.



1.2. На карте буквами обозначены объекты, определяющие географическое положение материка, который эта экспедиция обогнула с юга, пройдя через узкий пролив между южной оконечностью материка и островами. Выберите из приведённого списка и запишите в таблицу названия этих объектов.

*Тихий океан, Мозамбикский пролив, экватор,
Северный тропик, пролив Дрейка, Индийский океан.*

А	Б	В



1.3. По линии маршрута экспедиции отмечены точки, расположенные на территории крупных географических объектов. Определите и запишите в ответе географические координаты **точки 2**.

Ответ. _____

На территории какого географического объекта расположена точка 2? Запишите в ответе его название.



Ответ. _____

2

На уроке географии Лариса построила профиль рельефа Евразии, представленный на рисунке 1. Используя рисунок и карту мира, приведённую на странице 2, выполните задания.

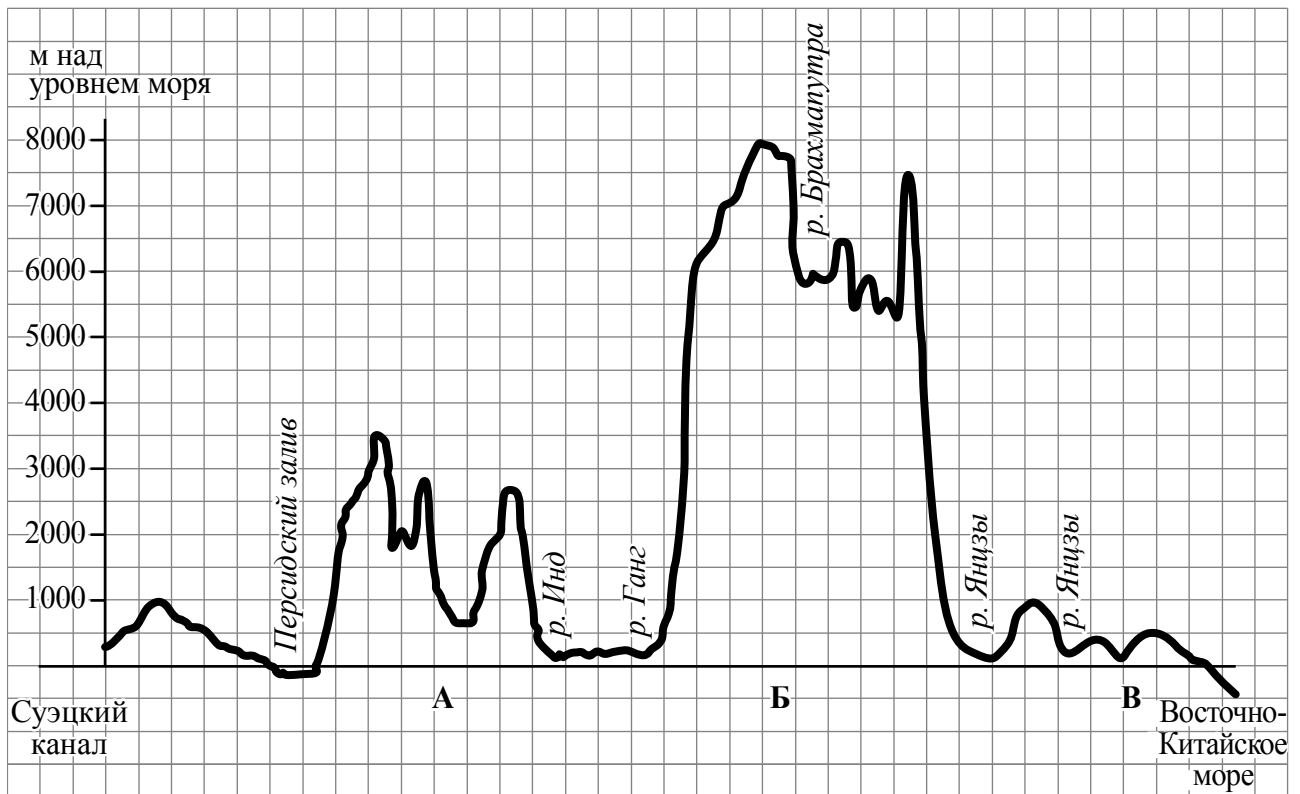


Рисунок 1

2.1. По какому из отрезков, проведённых на карте вдоль трёх параллелей, пересекающих материк Евразия, построен профиль рельефа, представленный на рисунке 1? Укажите в ответе значение параллели.

Ответ. _____

Определите по карте протяжённость материка Евразия **в градусах** по указанной Вами параллели.

Ответ. _____ °.

Рассчитайте протяжённость материка Евразия по указанной Вами параллели **в километрах** с помощью приведённой ниже таблицы. (Для расчёта воспользуйтесь калькулятором.)

Широта	0°	10°	20°	30°	40°	50°	60°	70°	80°	90°
Длина дуги параллели в 1°, км	111,3	109,6	104,6	96,5	85,4	71,7	55,8	38,2	19,4	0

Ответ. _____ км.

2.2. Какой крупной форме рельефа соответствует участок профиля, обозначенный на рисунке 1 буквой Б?

- 1) горы Памир
- 2) Алтайские горы
- 3) горы Гималаи
- 4) горы Альпы

Ответ.

Определите наибольшую абсолютную высоту территории, через которую проходит профиль на этом участке.



Ответ. _____ м.

2.3. На рисунке 2 представлены значки, которыми обозначаются месторождения полезных ископаемых на географических картах.

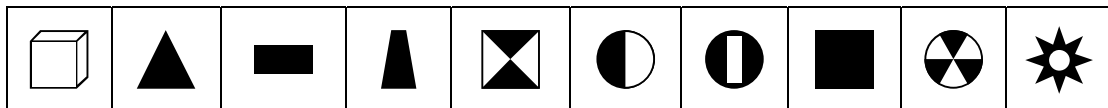


Рисунок 2

Внесите в таблицу значки, обозначающие месторождения полезных ископаемых, которые добывают на территории, обозначенной на профиле буквой Б.



Медные руды	Золото	Хромовые руды	Каменная соль

4

Рассмотрите схему природного процесса и выполните задания.



4.1. Какой природный процесс отображён на схеме?

Ответ. _____

4.2. Установите последовательность этапов указанного Вами природного процесса. Запишите в ответе **порядковые номера** этапов.

ЭТАПЫ:

- 1) Лава на земной поверхности охлаждается и затвердевает, образуя вулканическую породу.
- 2) В верхней мантии образуется очаг магмы.
- 3) При накоплении застывшей лавы формируется конусовидная гора с кратером на вершине, через который происходят последующие излияния лавы.
- 4) Поднявшись по трещинам в земной коре, магма изливается на земную поверхность в виде лавы.
- 5) Раскалённая магма выделяет газы и пары воды, которые, создавая огромное давление, обеспечивают продвижение магмы от очага к земной поверхности.

Ответ.

--	--	--	--	--	--

5. 5.1. Установите соответствие между материками и их географическими особенностями.

Материки

- А – Евразия
- Б – Южная Америка

Географические особенности

- 1) На юге материка выделяются три крупнейших полуострова мира.
- 2) Около половины площади материка занимают влажные экваториальные леса – сельва.
- 3) Материк является самым населённым на планете, на его территории проживает более 3/4 всего населения мира.
- 4) Около 40% территории материка занимает бассейн самой полноводной реки Земли.
- 5) В рельефе материка преобладают равнины, а в западной части с севера на юг протягивается самая длинная горная система Земли.
- 6) Территория материка расположена во всех климатических поясах Земли.

Запишите в таблицу выбранные цифры под буквами, которыми обозначены материки.

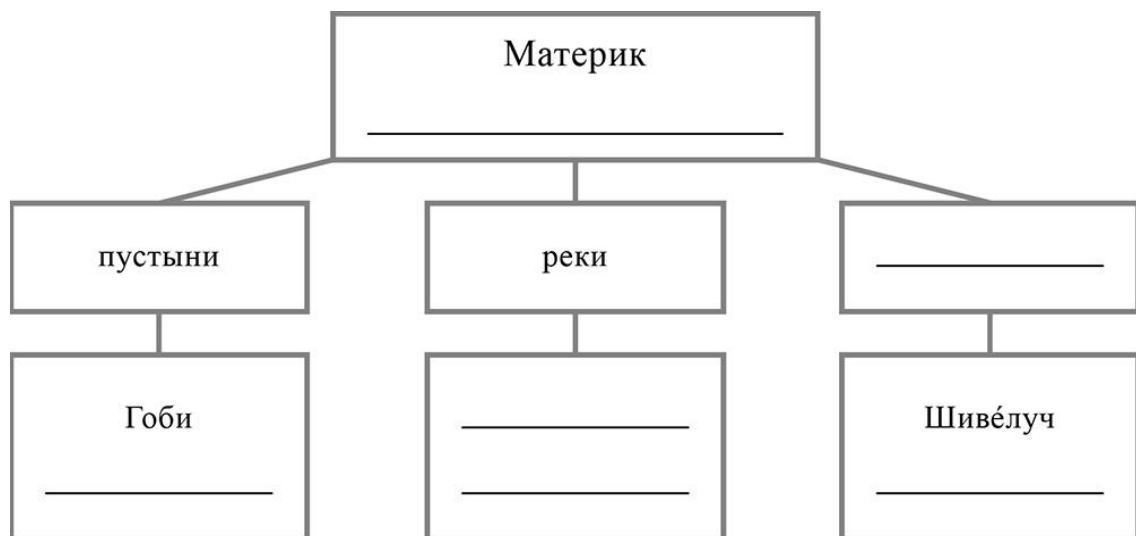
□

Материк	А	Б
Географические особенности		

5.2. Заполните блок-схему: для этого по указанным на схеме названиям географических объектов определите и запишите название одного из двух материков, указанных в задании 5.1, а затем выберите из списка названия других географических объектов, расположенных на территории этого материка, запишите их в соответствующие ячейки на схеме и заполните оставшиеся пустые ячейки.

Фудзияма, Аконкагуа, Ориноко, Енисей, Атакама, Виктория, Каракумы, Замбези, Орисаба, Муррей, Меконг, Маракайбо.

□



Задание 6 выполняется с использованием политической карты мира, приведённой на странице 11.

6

Александр и Тимур познакомились на чемпионате мира по хоккею в Словакии. Александр живёт в столице Белоруссии, а Тимур – в столице Казахстана. Подростки общаются через Интернет, и при общении им приходится учитывать разницу во времени между их городами.



6.1. На политической карте мира, приведённой на странице 11, выделите штриховкой страны, в которых живут подростки.




6.2. Вследствие вращения Земли время различается в разных её частях, и в Белоруссии день наступает позже, чем в Казахстане. Часы на рисунках отображают время в городах, где живут подростки. Подпишите названия городов под соответствующими часами.



Время по Гринвичу
12:00 (полдень)



21 марта
15:00

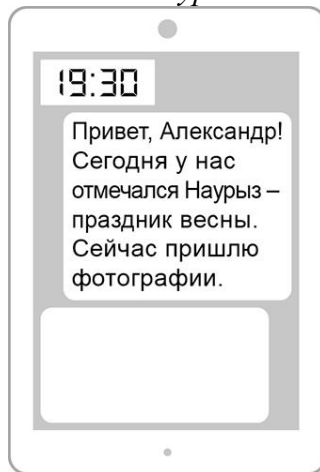


21 марта
18:00

6.3. Тимур отправил Александру электронное сообщение в 19:30 по местному времени.

Тимур

Александр



Какое время будет отображаться в соответствующем окне на экране смартфона Александра, когда он получит сообщение от Тимура?



Ответ. _____

7

Используя представленную ниже таблицу, выполните задания.

Рост численности населения в странах мира, 2000-2015 гг.

№	Страна	Численность населения в 2018 году, млн человек	Годы			
			2000	2005	2010	2015
1	Бангладеш	166	130	142	151	160
2	Нигерия	203	121	138	157	180
3	США	328	281	295	309	321
4	Индонезия	263	210	225	240	256

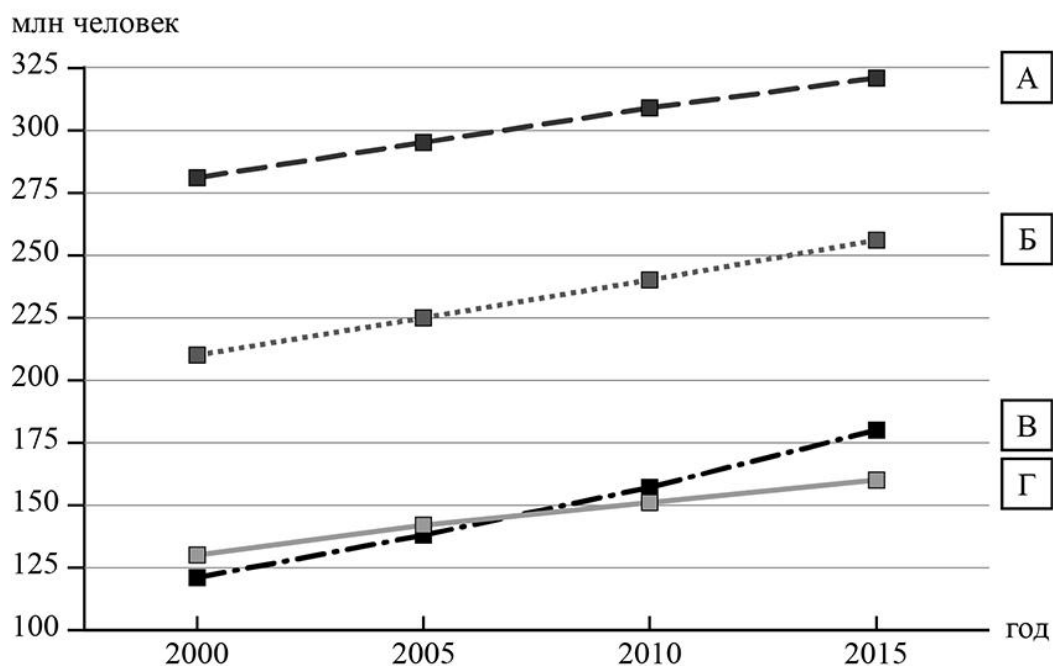
7.1. Расположите страны в порядке **увеличения** численности населения в 2018 году, начиная со страны с самой маленькой численностью. Запишите в ответе последовательность **порядковых номеров** этих стран.

□

Ответ.

--	--	--	--

7.2. Рост численности населения какой страны, из приведённых в таблице, отражает график, обозначенный буквой В? Запишите в ответе **название** страны.



□

Ответ. _____



Карта для выполнения задания 6



Приведена карта, используемая в учебниках и атласах по географии на начало 2022/2023 учебного года.

8

Представьте, что Вы познакомились со своим сверстником, который живёт за границей, и он прислал Вам фотографии, сделанные в его стране.

8.1. Рассмотрите фотографии и ответьте на вопрос.



В какой стране живёт Ваш сверстник?

Ответ. _____

8.2. Рассмотрите представленные ниже рисунки. Выберите рисунок с контуром страны, в которой живёт Ваш сверстник. Запишите в ответе букву, которой обозначен этот рисунок.



Ответ.

В какой части света расположена эта страна?

Ответ. _____