

**Проверочная работа
по ГЕОГРАФИИ**

7 КЛАСС

Вариант 1

Инструкция по выполнению работы

На выполнение работы по географии даётся 45 минут. Работа включает в себя 8 заданий.


Ответы на задания запишите в поля ответов в тексте работы. В случае записи неверного ответа зачеркните его и запишите рядом новый.

При вычислениях разрешается использовать непрограммируемый калькулятор. Для выполнения задания 2 Вам потребуется карандаш.

При выполнении работы не разрешается пользоваться учебником, рабочими тетрадями, атласом и другим справочным материалом.

При необходимости можно пользоваться черновиком. Записи в черновике проверяться и оцениваться не будут.

Советуем выполнять задания в том порядке, в котором они даны. В целях экономии времени пропускайте задание, которое не удаётся выполнить сразу, и переходите к следующему. Если после выполнения всей работы у Вас останется время, то Вы сможете вернуться к пропущенным заданиям.

Значком  отмечены задания, ответы на которые фиксируются на картах, приведённых на страницах 2, 11.

Желаем успеха!


Заполняется учителем, экспертом или техническим специалистом

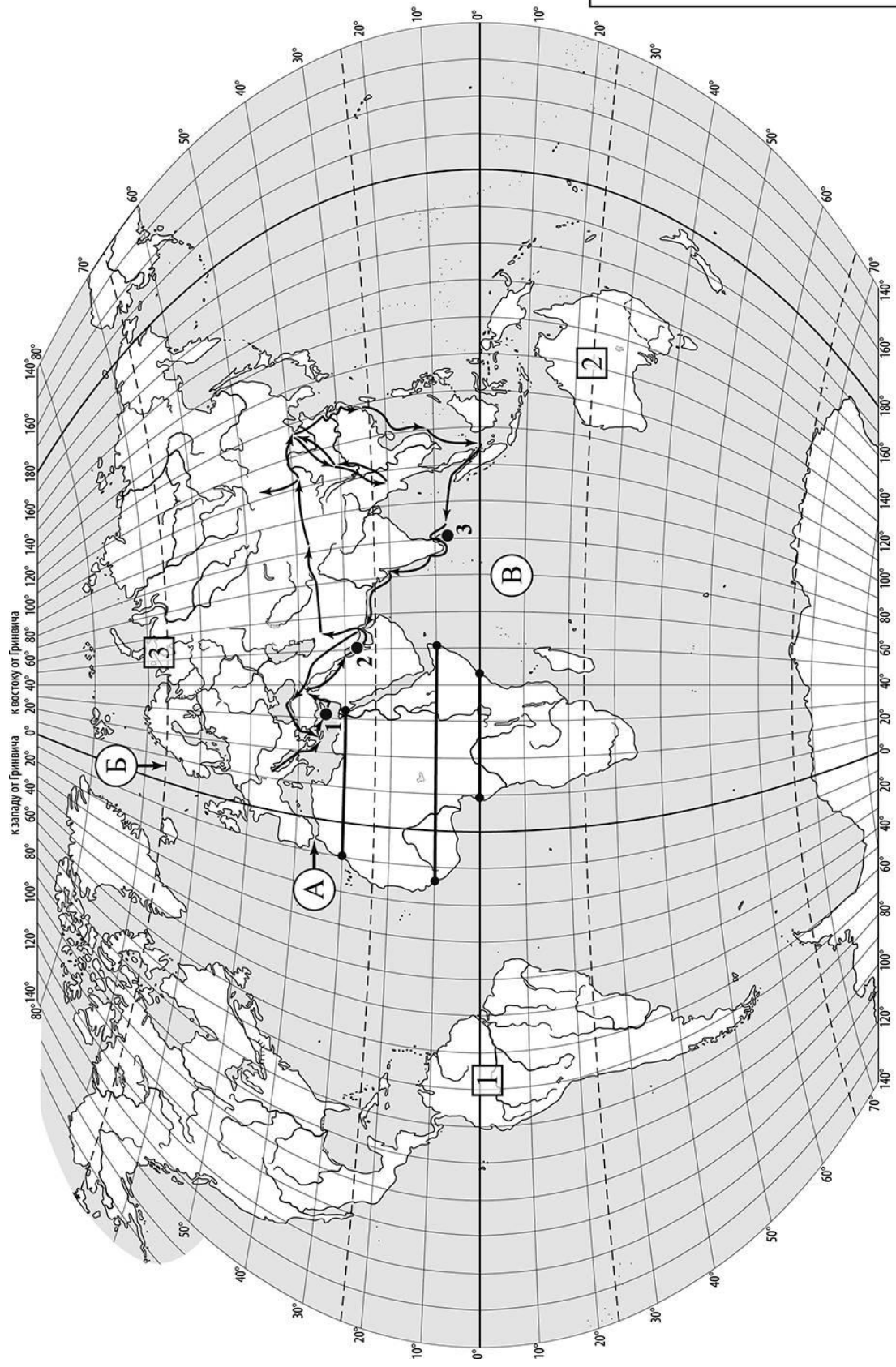
Обратите внимание: в случае, если какие-либо задания не могли быть выполнены целым классом по причинам, связанным с отсутствием соответствующей темы в реализуемой школой образовательной программе, в форме сбора результатов ВПР всем обучающимся класса за данное задание вместо балла выставляется значение «Тема не пройдена». В соответствующие ячейки таблицы заполняется н/п.

Таблица для внесения баллов участника

| | | | | | | | | | | | | | | | | |
|---------------|-----|-----|-----|-----|-----|-----|-----|-----|-----|-----|-----|-----|-----|-----|-----|-----|
| Номер задания | 1.1 | 1.2 | 1.3 | 2.1 | 2.2 | 2.3 | 3.1 | 3.2 | 3.3 | 4.1 | 4.2 | 5.1 | 5.2 | 6.1 | 6.2 | 6.3 |
| Баллы | | | | | | | | | | | | | | | | |

| | | | | | | |
|---------------|-----|-----|-----|-----|--------------|-------------------|
| Номер задания | 7.1 | 7.2 | 8.1 | 8.2 | Сумма баллов | Отметка за работу |
| Баллы | | | | | | |

 Карта для выполнения заданий 1 – 3




Задания 1–3 выполняются с использованием карты мира, приведённой на странице 2.

1

На карте мира, приведённой на странице 2, изображён маршрут экспедиции одного из путешественников, портреты которых представлены ниже. Рассмотрите карту и портреты путешественников и выполните задания.


1.1. Маршрут экспедиции кого из путешественников изображён на карте?



Марко Поло



П.П. Семёнов-Тян-Шанский



Васко да Гама

Ответ. _____



Подпишите на карте название материка, по которому проходил маршрут экспедиции.



1.2. На карте буквами обозначены объекты, определяющие географическое положение материка, по которому проходил маршрут экспедиции. Запишите в таблицу названия этих объектов.

*Индийский океан, Чёрное море, Северный полярный круг,
Северный тропик, Гибралтарский пролив, Мексиканский залив.*

| А | Б | В |
|---|---|---|
| | | |



1.3. По линии маршрута экспедиции отмечены точки, расположенные на территории крупных географических объектов. Определите и запишите в ответе географические координаты **точки 3**.

Ответ. _____

На территории какого географического объекта расположена точка 3? Запишите в ответе его название.



Ответ. _____

2

На уроке географии Яна построила профиль рельефа Африки, представленный на рисунке 1. Используя рисунок и карту мира, приведённую на странице 2, выполните задания.

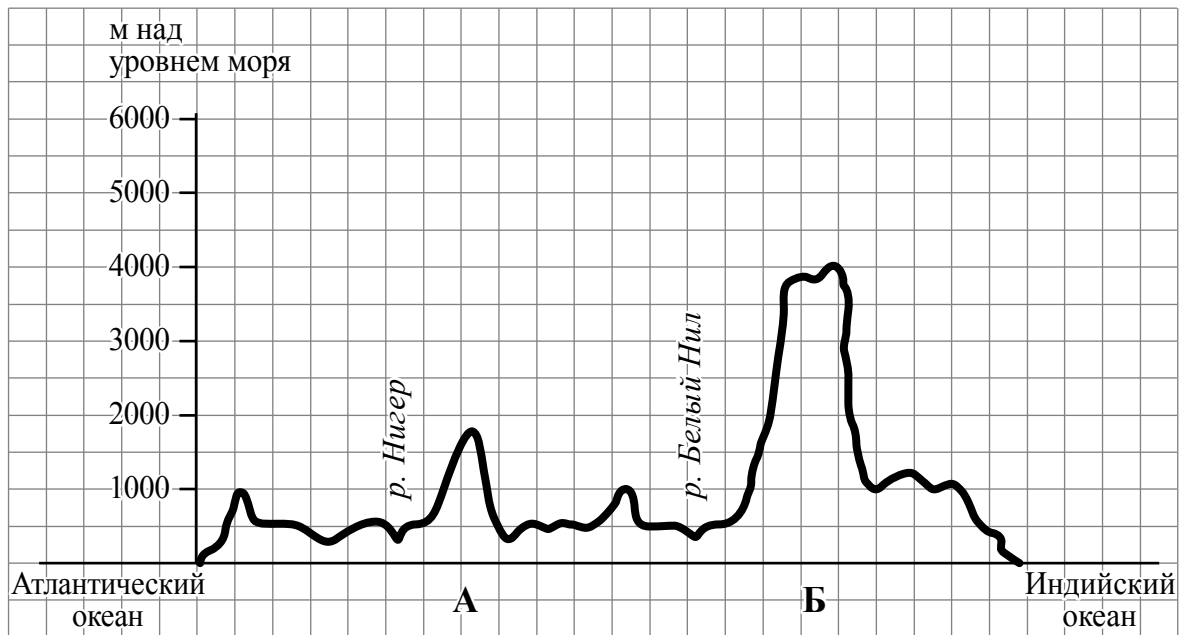


Рисунок 1

2.1. По какому из отрезков, проведённых на карте вдоль трёх параллелей, пересекающих материк Африка, построен профиль рельефа, представленный на рисунке 1? Укажите в ответе значение параллели.

Ответ. _____

Определите по карте протяжённость материка Африка **в градусах** по указанной Вами параллели.

Ответ. _____ °.

Рассчитайте протяжённость материка Африка по указанной Вами параллели **в километрах** с помощью приведённой ниже таблицы. (Для расчёта воспользуйтесь калькулятором.)

| Широта | 0° | 10° | 20° | 30° | 40° | 50° | 60° | 70° | 80° | 90° |
|-------------------------------|-------|-------|-------|------|------|------|------|------|------|-----|
| Длина дуги параллели в 1°, км | 111,3 | 109,6 | 104,6 | 96,5 | 85,4 | 71,7 | 55,8 | 38,2 | 19,4 | 0 |

Ответ. _____ км.

2.2. Какой крупной форме рельефа соответствует участок профиля, обозначенный на рисунке 1 буквой Б?

- 1) Эфиопское нагорье
- 2) Капские горы
- 3) впадина Конго
- 4) горы Атлас

Ответ.

Определите наибольшую абсолютную высоту территории, через которую проходит профиль на этом участке.



Ответ. _____ м.

2.3. На рисунке 2 представлены значки, которыми обозначаются месторождения полезных ископаемых на географических картах.




Рисунок 2

Внесите в таблицу значки, обозначающие месторождения полезных ископаемых, которые добывают на территории, обозначенной на профиле буквой Б.

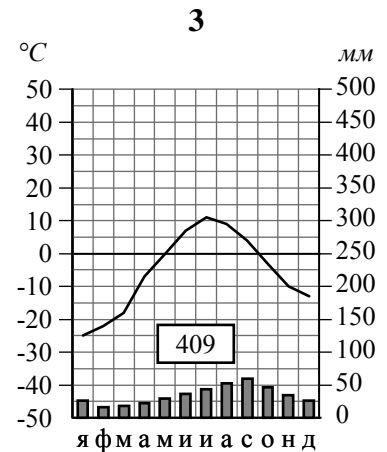
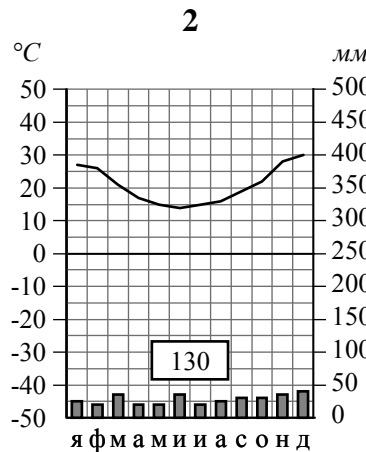
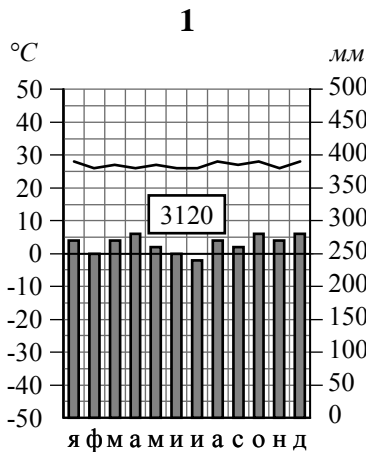


| Железные руды | Золото | Полиметаллические руды | Калийные соли |
|---------------|--------|------------------------|---------------|
| | | | |

3

Рассмотрите рисунки с изображением климатограмм, построенных по данным метеонаблюдений в разных частях Земли, и выполните задания.

3.1. На карте мира территории, для которых построены изображённые на рисунках климатограммы, показаны квадратами с соответствующими номерами климатограмм. Определите, какому климатическому поясу соответствует каждая климатограмма. Подпишите названия климатических поясов под соответствующими климатограммами.



3.2. Какой природной зоне мира соответствуют приведённые ниже характеристики? Укажите в ответе название этой природной зоны.

- 1) Почвы малопродуктивны и сильно заболочены.
- 2) Короткое лето с продолжительным полярным днём; длинная и очень суровая зима, сопровождающаяся сильными ветрами и метелями.
- 3) Осадков выпадает очень мало.
- 4) Распространена многолетняя мерзлота.
- 5) Растут в основном карликовые растения, мхи и кустарники.

Ответ. _____

Выберите климатограмму, соответствующую климатическим особенностям указанной Вами природной зоны. Запишите в ответе её номер.

Ответ.

3.3. По выбранной климатограмме заполните таблицу климатических показателей для указанной Вами природной зоны.

| Средняя температура воздуха, °С | | Годовая амплитуда температур, °С | Годовое количество осадков, мм | Месяц, на который приходится наибольшее количество осадков |
|---------------------------------|--------|----------------------------------|--------------------------------|--|
| в январе | в июле | | | |
| | | | | |

4

Рассмотрите схему природного процесса и выполните задания.



4.1. Какой природный процесс отображён на схеме?

Ответ. _____

4.2. Установите последовательность этапов указанного Вами природного процесса. Запишите в ответе **порядковые номера** этапов.

ЭТАПЫ:

- 1) На дне океана происходит землетрясение или извержение вулкана.
- 2) При приближении к побережью скорость и длина волны уменьшаются, но её высота сильно увеличивается.
- 3) Над эпицентром землетрясения или подводным вулканом образуется мощная волна.
- 4) Волна охватывает всю толщу воды и движется под водой с огромной скоростью.
- 5) Волна огромной высоты с силой обрушивается на берег.

Ответ.

| | | | | | |
|--|--|--|--|--|--|
| | | | | | |
|--|--|--|--|--|--|

5. 5.1. Установите соответствие между материками и их географическими особенностями.

Материки

- А – Евразия
- Б – Австралия

Географические особенности

- 1) Материк почти посередине пересекается Южным тропиком.
- 2) Материк омывается водами четырёх океанов.
- 3) Восточная часть материка и прилегающие к ней острова входят в зону Тихоокеанского «огненного кольца».
- 4) Вдоль северо-восточного побережья материка протягивается подводная гряда, созданная живыми организмами.
- 5) Материк расположен в двух частях света.
- 6) Большую часть материка занимают тропические пустыни.

Запишите в таблицу выбранные цифры под буквами, которыми обозначены материки.



| | | |
|----------------------------|----------|----------|
| Материк | А | Б |
| Географические особенности | | |

5.2. Заполните блок-схему: для этого по указанным на схеме названиям географических объектов определите и запишите название одного из двух материков, указанных в задании 5.1, а затем выберите из списка названия других географических объектов, расположенных на территории этого материка, запишите их в соответствующие ячейки на схеме и заполните оставшиеся пустые ячейки.

Атлас, Муррей, Янцзы, Арафурское, Кавказ, Драконовы, Саргассово, Кордильеры, Алтай, Парана, Охотское, Байкал.



Задание 6 выполняется с использованием политической карты мира, приведённой на странице 11.

6



Олеся и Оливия познакомились на курорте. Олеся живёт в столице Белоруссии, а Оливия – в столице США. Подростки общаются через Интернет, и при общении им приходится учитывать разницу во времени между их городами.



6.1. На политической карте мира, приведённой на странице 11, выделите штриховкой страны, в которых живут подростки.



6.2. Вследствие вращения Земли время различается в разных её частях, и в Белоруссии день наступает раньше, чем в США. Часы на рисунках отображают время в городах, где живут подростки. Подпишите названия городов под соответствующими часами.



Время по Гринвичу

24:00 / 00:00 (полночь)

5 июля

03:00

4 июля

20:00



6.3. Оливия отправила Олеся электронное сообщение в 10:00 по местному времени.

Оливия



Олеся



Какое время будет отображаться в соответствующем окне на экране смартфона Олеся, когда она получит сообщение от Оливии?



Ответ. _____

7

Используя представленную ниже таблицу, выполните задания.

Численность и возрастной состав населения, 2017 г.

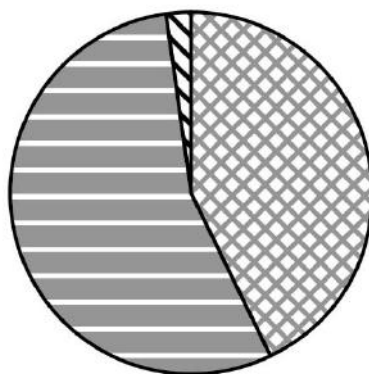
| № | Страна | Численность населения, млн человек | Доля населения, % | | |
|---|----------------|------------------------------------|----------------------|----------------------------|----------------------------|
| | | | в возрасте до 15 лет | в возрасте от 15 до 65 лет | в возрасте 65 лет и старше |
| 1 | Афганистан | 34 | 43 | 55 | 2 |
| 2 | Индия | 1336 | 27 | 67 | 6 |
| 3 | Великобритания | 66 | 17 | 65 | 18 |
| 4 | Япония | 126 | 13 | 59 | 28 |

7.1. Расположите страны в порядке **уменьшения** численности населения, начиная со страны с самой большой численностью. Запишите в ответе последовательность **порядковых номеров** этих стран.

Ответ.

| | | | |
|--|--|--|--|
| | | | |
|--|--|--|--|

7.2. Возрастной состав населения какой страны, из приведённых в таблице, отражает представленная на рисунке диаграмма? Запишите в ответе **название** страны.



доля населения в возрасте до 15 лет




доля населения в возрасте от 15 до 65 лет



доля населения в возрасте 65 лет и старше

Ответ. _____

 Карта для выполнения задания 6



Приведена карта, используемая в учебниках и атласах по географии на начало 2022/2023 учебного года.

8

Представьте, что Вы познакомились со своим сверстником, который живёт за границей, и он прислал Вам фотографии, сделанные в его стране.

8.1. Рассмотрите фотографии и ответьте на вопрос.



В какой стране живёт Ваш сверстник?

Ответ. _____

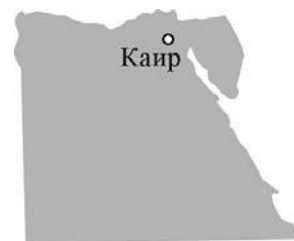
8.2. Рассмотрите представленные ниже рисунки. Выберите рисунок с контуром страны, в которой живёт Ваш сверстник. Запишите в ответе букву, которой обозначен этот рисунок.



А



Б



В

Ответ.

Какие два моря омывают берега этой страны?

Ответ. _____