

**Проверочная работа
по ФИЗИКЕ**

8 класс

Вариант 1

Инструкция по выполнению работы

На выполнение работы по физике даётся 45 минут. Работа содержит 11 заданий.

Ответом на каждое из заданий 1, 3–7, 9 является число или несколько чисел. В заданиях 2 и 8 нужно написать текстовый ответ. В заданиях 10 и 11 нужно написать решение задач полностью. В случае записи неверного ответа зачеркните его и запишите рядом новый.

При выполнении работы можно пользоваться непрограммируемым калькулятором.

При необходимости можно пользоваться черновиком. Записи в черновике проверяться и оцениваться не будут.

Советуем выполнять задания в том порядке, в котором они даны. Для экономии времени пропускайте задание, которое не удаётся выполнить сразу, и переходите к следующему. Постарайтесь выполнить как можно больше заданий.

Желаем успеха!

Заполняется учителем, экспертом или техническим специалистом

Обратите внимание: в случае, если какие-либо задания не могли быть выполнены целым классом по причинам, связанным с отсутствием соответствующей темы в реализуемой школой образовательной программе, в форме сбора результатов ВПР всем обучающимся класса за данное задание вместо балла выставляется значение «Тема не пройдена». В соответствующие ячейки таблицы заполняется н/п.

Таблица для внесения баллов участника

Номер задания	1	2	3	4	5	6	7	8	9	10	11	Сумма баллов	Отметка за работу
Баллы													

1

У Наташи стал быстро разряжаться мобильный телефон. Напряжение, которое должно подаваться при зарядке на телефон с зарядного устройства, равно 2,2 В (если подаваемое напряжение больше указанного значения, то это может быть причиной порчи аккумулятора телефона, приводящей, в том числе, к его быстрой разрядке). На рисунке изображены три вольтметра. Определите цену деления того вольтметра, который наилучшим образом подойдёт Наташе для проверки напряжения, подаваемого зарядным устройством на телефон.



Ответ: _____ В.

2

Шотландский физик Джозеф Блэк в середине XVIII века провёл следующий эксперимент. Он налил равные объёмы воды и ртути в одинаковые сосуды, поместил их на равных расстояниях от огня и наблюдал за скоростью повышения температуры жидкостей. Блэк был в полной уверенности, что температура ртути будет повышаться медленнее, чем воды, так как масса ртути была в 13,6 раза больше. Представьте себе его удивление, когда он увидел, что температура ртути повышалась примерно вдвое быстрее, чем воды. Объясните это явление.

Ответ: _____

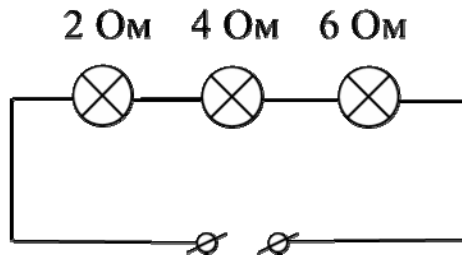
3

Аркадий налил в кастрюлю воду массой 4 кг и начал её нагревать. На сколько градусов он смог нагреть воду, если она получила количество теплоты, равное 252000 Дж? Удельная теплоёмкость воды 4200 Дж/(кг·°C), потерями теплоты можно пренебречь.

Ответ: _____ °C.

4

На рисунке изображена схема участка цепи ёлочной гирлянды. Известно, что сила тока, текущего через этот участок, равна 0,5 А. Чему равно напряжение на лампе с наибольшим сопротивлением? Значения сопротивлений ламп указаны на схеме.



Ответ: _____ В.

5

Петя подключил к батарейке лампочку с сопротивлением 10 Ом. Лампочка загорелась, и Петя решил измерить силу тока, текущего через неё. Измерения дали результат 0,5 А. После этого Петя отключил лампочку и измерил напряжение на контактах батарейки – оно оказалось равно 10 В. Тут Петя понял, что результаты его измерений не согласуются с законом Ома. После того, как Петя посоветовался с учителем физики, он понял, что батарейка обладает собственным внутренним сопротивлением. То есть настоящую батарейку можно представить как идеальную батарейку, к которой последовательно подсоединён некоторый резистор. Сопротивление этого резистора и есть внутреннее сопротивление батарейки. Помогите Пете рассчитать его.

Ответ: _____ Ом.

6

Марк не любит пить крепкий горячий кофе, поэтому он всегда разбавляет кофе очень холодной водой в отношении 3:2 (например, к 150 г кофе добавляет 100 г воды). Определите, какой станет температура напитка после установления теплового равновесия между кофе и долитой водой, если начальная температура воды 0 °С, а исходная температура горячего кофе +90 °С. Удельные теплоёмкости воды и кофе одинаковые. Смешивание происходит быстро, поэтому потерями теплоты можно пренебречь.

Ответ: _____ °С.

7

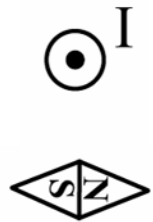
Для изготовления спиралей нагревательных элементов чаще всего используют фехраль. В нагревательном элементе перегорела спираль из фехраля, и Олег Владимирович решил заменить её нихромовой спиралью той же длины. Пользуясь таблицей, помогите Олегу Владимировичу определить, во сколько раз площадь сечения нихромовой спирали должна быть меньше площади сечения фехральной спирали, чтобы при подключении к тому же источнику напряжения в нагревательном элементе выделялась прежняя мощность.

Удельное электрическое сопротивление ρ некоторых веществ, Ом·мм ² /м (при 20 °С)			
Материал	ρ	Материал	ρ
Серебро	0,016	Никелин	0,40
Медь	0,017	Манганин	0,43
Алюминий	0,028	Константан	0,50
Вольфрам	0,055	Нихром	1,1
Железо	0,10	Фехраль	1,3

Ответ: _____.

8

На рисунке показано положение магнитной стрелки, установленной рядом с длинным прямым проводом, по которому течёт постоянный электрический ток I . Проводник расположен перпендикулярно плоскости рисунка, ток в нём течёт «к нам», что обозначено «точкой». Что произойдёт с магнитной стрелкой, если изменить направление тока в проводе на противоположное? Ответ поясните.



Ответ и объяснение: _____

9

Удивительная привязанность голубей к месту гнездования ещё в древности натолкнула людей на мысль, что можно использовать голубей для передачи почты. И даже во время Великой Отечественной войны, несмотря на существование технических средств связи, голуби с успехом использовались для передачи донесений (голубеграмм). Пусть голубь с донесением пролетел 30 км со скоростью 20 м/с, затем он в течение некоторого времени переждал сильную грозу с дождём, а оставшиеся 30 км он летел со скоростью 10 м/с.

- 1) Определите время, затраченное голубем на первую половину пути.
- 2) Сколько времени голубь переждал грозу, если средняя скорость голубя составила 8 м/с?

Ответ: 1) _____ с;
2) _____ с.

10

Туристу-лыжнику было лень идти до проруби, поэтому вместо того, чтобы зачерпнуть $V = 2$ л воды из проруби, он насыпал в алюминиевый котелок $m = 2$ кг сухого снега. Плотность воды $\rho = 1000$ кг/м³, удельная теплота плавления льда $\lambda = 330$ кДж/кг. Потерями теплоты можно пренебречь. Снег состоит из мелких кристалликов льда.

- 1) Определите массу воды, которую туристу нужно было зачерпнуть из проруби.
- 2) Какое количество теплоты нужно было затратить, чтобы превратить снег в котелке в воду?
- 3) На сколько дольше туристу пришлось ждать закипания воды, если и вода, и снег имеют начальную температуру 0 °С, а мощность туристической газовой горелки $P = 1.1$ кВт?

Решение:

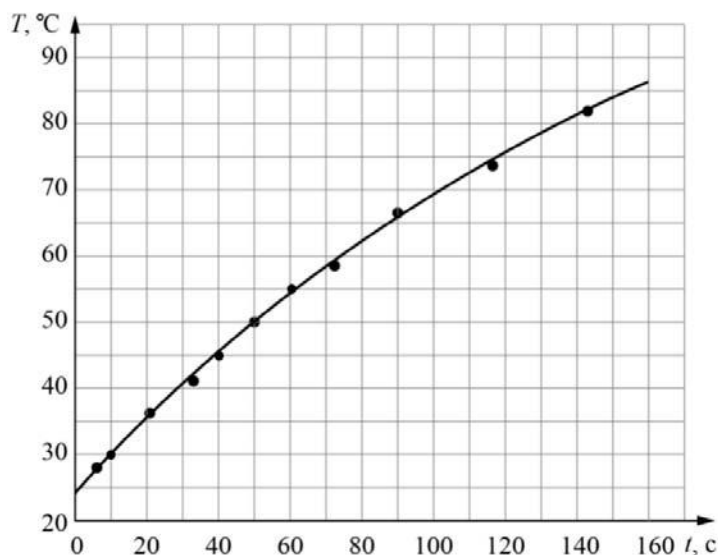
Ответ:

11

Коля собрался ехать в летний лагерь. С собой ему можно было брать бытовые электроприборы мощностью не более 300 Вт каждый. Коле хотелось взять с собой маленький электрочайник, и он решил измерить мощность этого прибора.

Для постановки эксперимента Коля налил в чайник 200 мл воды из графина, который уже давно стоял на кухне, включил чайник и измерил зависимость температуры нагреваемой воды от времени. Полученные результаты Коля отобразил на графике, соединив экспериментальные точки плавной линией. Коля сообразил, что линия не является прямой из-за того, что при повышении температуры воды постепенно возрастают потери теплоты в окружающую среду, и поэтому выделяемая чайником энергия целиком идёт на нагревание воды только в самом начале процесса нагревания. Удельная теплоёмкость воды равна 4200 Дж/(кг·°C).

- 1) Чему была равна температура воды в чайнике через 100 секунд после начала нагревания?
- 2) Оцените, на сколько градусов нагрелась вода через 3 секунды после включения чайника.
- 3) Оцените, чему равна мощность чайника, и определите, можно ли Коле брать его с собой в лагерь.



Решение:

Ответ: