

## Проверочная работа по ХИМИИ

8 класс

Вариант 1

### Инструкция по выполнению работы

Проверочная работа включает в себя девять заданий. На её выполнение отводится 90 минут.

При выполнении работы разрешается использовать следующие дополнительные материалы:

- Периодическая система химических элементов Д.И. Менделеева;
- таблица растворимости кислот, солей и оснований в воде;
- ряд активности металлов / электрохимический ряд напряжений;
- непрограммируемый калькулятор.

Оформляйте ответы в тексте работы в соответствии с инструкциями, приведёнными к каждому заданию. В случае записи неверного ответа зачеркните его и запишите рядом новый.

При выполнении заданий Вы можете использовать черновик. Записи в черновике проверяться и оцениваться не будут.

Советуем выполнять задания в том порядке, в котором они даны. Для экономии времени пропускайте задание, которое не удаётся выполнить сразу, и переходите к следующему. Если после выполнения всей работы у Вас останется время, Вы сможете вернуться к пропущенным заданиям.

Баллы, полученные Вами за выполненные задания, суммируются. Постарайтесь выполнить как можно больше заданий и набрать наибольшее количество баллов.

***Желаем успеха!***

*Заполняется учителем, экспертом или техническим специалистом*

**Обратите внимание:** в случае, если какие-либо задания не могли быть выполнены целым классом по причинам, связанным с отсутствием соответствующей темы в реализуемой школой образовательной программе, в форме сбора результатов ВПР всем обучающимся класса за данное задание вместо балла выставляется значение «Тема не пройдена». В соответствующие ячейки таблицы заполняется н/п.

*Таблица для внесения баллов участника*

Номер задания	1.1	1.2	2.1	2.2	3.1	3.2	4.1	4.2	4.3	4.4	5.1	5.2	6.1	6.2	6.3	6.4	6.5
Баллы																	

Номер задания	7.1	7.2	7.3 (1)	7.3 (2)	8	9	Сумма баллов	Отметка за работу
Баллы								

Периодическая система химических элементов Д.И. Менделеева

		Г р у п п ы																	
		I	II	III	IV	V	VI	VII	VIII										
П е р и о д ы	1	<b>H</b> 1,008 Водород																<b>He</b> 4,00 Гелий	
	2	<b>Li</b> 6,94 Литий	<b>Be</b> 9,01 Бериллий	<b>B</b> 10,81 Бор	<b>C</b> 12,01 Углерод	<b>N</b> 14,00 Азот	<b>O</b> 16,00 Кислород	<b>F</b> 19,00 Фтор	<b>Ne</b> 20,18 Неон										
	3	<b>Na</b> 22,99 Натрий	<b>Mg</b> 24,31 Магний	<b>Al</b> 26,98 Алюминий	<b>Si</b> 28,09 Кремний	<b>P</b> 30,97 Фосфор	<b>S</b> 32,06 Сера	<b>Cl</b> 35,45 Хлор	<b>Ar</b> 39,95 Аргон										
	4	<b>K</b> 39,10 Калий	<b>Ca</b> 40,08 Кальций	<b>Sc</b> 44,96 Скандий	<b>Ti</b> 47,90 Титан	<b>V</b> 50,94 Ванадий	<b>Cr</b> 52,00 Хром	<b>Mn</b> 54,94 Марганец	<b>Fe</b> 55,85 Железо	<b>Co</b> 58,93 Кобальт	<b>Ni</b> 58,69 Никель								
	5	<b>Rb</b> 85,47 Рубидий	<b>Sr</b> 87,62 Стронций	<b>Y</b> 88,91 Итрий	<b>Zr</b> 91,22 Цирконий	<b>Nb</b> 92,91 Ниобий	<b>Mo</b> 95,94 Молибден	<b>Tc</b> 98,91 Технеций	<b>Ru</b> 101,07 Рутений	<b>Rh</b> 102,91 Родий	<b>Pd</b> 106,42 Палладий								
	6	<b>Cs</b> 132,91 Цезий	<b>Ba</b> 137,33 Барий	<b>La</b> * 138,91 Лантан	<b>Hf</b> 178,49 Гафний	<b>Ta</b> 180,95 Тантал	<b>W</b> 183,85 Вольфрам	<b>Re</b> 186,21 Рений	<b>Os</b> 190,2 Осмий	<b>Ir</b> 192,22 Иридий	<b>Pt</b> 195,08 Платина								
	7	<b>Fr</b> [223] Франций	<b>Ra</b> 226 Радий	<b>Ac</b> ** [227] Актиний	<b>Rf</b> [261] Резерфордий	<b>Pb</b> 207,2 Свинец	<b>Bi</b> 208,98 Висмут	<b>Po</b> [209] Полоний	<b>At</b> [210] Астат	<b>Hs</b> [269] Хассий	<b>Mt</b> [268] Мейтнерий	<b>Ds</b> [271] Дармштадтий							
		<b>Rg</b> [280] Рентгений	<b>Cn</b> [285] Коперниций	<b>Nh</b> [286] Ниlhоний	<b>Fl</b> [289] Флеровий	<b>Mc</b> [290] Московский	<b>Lv</b> [293] Ливерморий	<b>Ts</b> [294] Теннесий	<b>Og</b> [294] Оганесон										

\* Лантаноиды

58	<b>Ce</b> 140 Церий	59	<b>Pr</b> 141 Празеодим	60	<b>Nd</b> 144 Неодим	61	<b>Pm</b> [145] Прометий	62	<b>Sm</b> 150 Самарий	63	<b>Eu</b> 152 Европий	64	<b>Gd</b> 157 Гадолиний	65	<b>Tb</b> 159 Тербий	66	<b>Dy</b> 162,5 Диспрозий	67	<b>Ho</b> 165 Гольмий	68	<b>Er</b> 167 Эрбий	69	<b>Tm</b> 169 Тулий	70	<b>Yb</b> 173 Иттербий	71	<b>Lu</b> 175 Лютеций
----	------------------------	----	----------------------------	----	-------------------------	----	-----------------------------	----	--------------------------	----	--------------------------	----	----------------------------	----	-------------------------	----	------------------------------	----	--------------------------	----	------------------------	----	------------------------	----	---------------------------	----	--------------------------

\*\* АКТИНОИДЫ

90	<b>Th</b> 232 Торий	91	<b>Pa</b> 231 Протактиний	92	<b>U</b> 238 Уран	93	<b>Np</b> 237 Нептуний	94	<b>Pu</b> [244] Плутоний	95	<b>Am</b> [243] Америций	96	<b>Cm</b> [247] Кюрий	97	<b>Bk</b> [247] Берклий	98	<b>Cf</b> [251] Калифорний	99	<b>Es</b> [252] Эйнштейний	100	<b>Fm</b> [257] Фермий	101	<b>Md</b> [258] Менделеевий	102	<b>No</b> [259] Нобелий	103	<b>Lr</b> [262] Лоуренсий
----	------------------------	----	------------------------------	----	----------------------	----	---------------------------	----	-----------------------------	----	-----------------------------	----	--------------------------	----	----------------------------	----	-------------------------------	----	-------------------------------	-----	---------------------------	-----	--------------------------------	-----	----------------------------	-----	------------------------------

**РЯД АКТИВНОСТИ МЕТАЛЛОВ / ЭЛЕКТРОХИМИЧЕСКИЙ РЯД НАПРЯЖЕНИЙ**

Li Rb K Ba Sr Ca Na Mg Al Mn Zn Cr Fe Cd Co Ni Sn Pb (H) Sb Bi Cu Hg Ag Pt Au



активность металлов уменьшается

**РАСТВОРИМОСТЬ КИСЛОТ, СОЛЕЙ И ОСНОВАНИЙ В ВОДЕ**

	H <sup>+</sup>	Li <sup>+</sup>	K <sup>+</sup>	Na <sup>+</sup>	NH <sub>4</sub> <sup>+</sup>	Ba <sup>2+</sup>	Ca <sup>2+</sup>	Mg <sup>2+</sup>	Sr <sup>2+</sup>	Al <sup>3+</sup>	Cr <sup>3+</sup>	Fe <sup>2+</sup>	Fe <sup>3+</sup>	Ni <sup>2+</sup>	Co <sup>2+</sup>	Mn <sup>2+</sup>	Zn <sup>2+</sup>	Ag <sup>+</sup>	Hg <sup>2+</sup>	Pb <sup>2+</sup>	Sn <sup>2+</sup>	Cu <sup>2+</sup>	
OH <sup>-</sup>		Р	Р	Р	Р	Р	М	Н	М	Н	Н	Н	Н	Н	Н	Н	Н	Н	-	-	Н	Н	Н
F <sup>-</sup>	Р	М	Р	Р	Р	М	Н	Н	Н	М	Н	Н	Н	Р	Р	Р	Р	Р	Р	-	Н	Р	Р
Cl <sup>-</sup>	Р	Р	Р	Р	Р	Р	Р	Р	Р	Р	Р	Р	Р	Р	Р	Р	Р	Р	Н	Р	М	Р	Р
Br <sup>-</sup>	Р	Р	Р	Р	Р	Р	Р	Р	Р	Р	Р	Р	Р	Р	Р	Р	Р	Р	Н	М	М	Р	Р
I <sup>-</sup>	Р	Р	Р	Р	Р	Р	Р	Р	Р	Р	?	Р	?	Р	Р	Р	Р	Р	Н	Н	Н	М	?
S <sup>2-</sup>	Р	Р	Р	Р	Р	-	-	-	Н	-	-	Н	-	Н	Н	Н	Н	Н	Н	Н	Н	Н	Н
HS <sup>-</sup>	Р	Р	Р	Р	Р	Р	Р	Р	Р	?	?	?	?	?	?	?	?	?	?	?	?	?	?
SO <sub>3</sub> <sup>2-</sup>	Р	Р	Р	Р	Р	Н	Н	М	Н	?	-	Н	?	Н	Н	?	М	Н	Н	Н	Н	?	?
HSO <sub>3</sub> <sup>-</sup>	Р	?	Р	Р	Р	Р	Р	Р	Р	?	?	?	?	?	?	?	?	?	?	?	?	?	?
SO <sub>4</sub> <sup>2-</sup>	Р	Р	Р	Р	Р	Н	М	Р	Н	Р	Р	Р	Р	Р	Р	Р	Р	М	-	Н	Р	Р	
HSO <sub>4</sub> <sup>-</sup>	Р	Р	Р	Р	Р	?	?	?	-	?	?	?	?	?	?	?	?	?	?	?	?	?	?
NO <sub>3</sub> <sup>-</sup>	Р	Р	Р	Р	Р	Р	Р	Р	Р	Р	Р	Р	Р	Р	Р	Р	Р	Р	Р	Р	Р	Р	Р
NO <sub>2</sub> <sup>-</sup>	Р	Р	Р	Р	Р	Р	Р	Р	Р	?	?	?	?	Р	М	?	?	?	М	?	?	?	?
PO <sub>4</sub> <sup>3-</sup>	Р	Н	Р	Р	-	Н	Н	Н	Н	Н	Н	Н	Н	Н	Н	Н	Н	Н	Н	Н	Н	Н	Н
HPO <sub>4</sub> <sup>2-</sup>	Р	?	Р	Р	Р	Н	Н	М	Н	?	?	Н	?	?	?	?	?	?	?	?	М	Н	?
H <sub>2</sub> PO <sub>4</sub> <sup>-</sup>	Р	Р	Р	Р	Р	Р	Р	Р	Р	?	?	Р	?	?	?	?	?	?	Р	?	-	?	?
CO <sub>3</sub> <sup>2-</sup>	Р	Р	Р	Р	Р	Н	Н	Н	Н	?	?	Н	-	Н	Н	Н	Н	Н	Н	Н	Н	?	Н
HCO <sub>3</sub> <sup>-</sup>	Р	Р	Р	Р	Р	Р	Р	Р	Р	?	?	Р	?	?	?	?	?	?	?	?	?	?	?
CH <sub>3</sub> COO <sup>-</sup>	Р	Р	Р	Р	Р	Р	Р	Р	Р	-	Р	Р	-	Р	Р	Р	Р	Р	Р	Р	Р	Р	Р
SiO <sub>3</sub> <sup>2-</sup>	Н	Н	Р	Р	?	Н	Н	Н	Н	?	?	Н	?	?	?	?	?	?	?	?	Н	?	?

“Р” – растворяется (> 1 г на 100 г H<sub>2</sub>O)

“М” – мало растворяется (от 0,1 г до 1 г на 100 г H<sub>2</sub>O)

“Н” – не растворяется (меньше 0,01 г на 1000 г воды)

“-” – в водной среде разлагается

“?” – нет достоверных сведений о существовании соединений

1

Предметом изучения химии являются вещества.

1.1. Внимательно рассмотрите предложенные рисунки. Укажите номер рисунка, на котором изображён объект, содержащий индивидуальное химическое вещество.



Рис. 1



Рис. 2



Рис. 3

Индивидуальное химическое вещество содержится в объекте, изображённом на рисунке:

1.2. Какие вещества содержатся в объектах, изображённых на остальных рисунках? Приведите по ОДНОМУ примеру.

Для каждого вещества укажите его химическое название и формулу.

Рис. 1: \_\_\_\_\_ (название) \_\_\_\_\_ (формула).

Рис. 2: \_\_\_\_\_ (название) \_\_\_\_\_ (формула).

Рис. 3: \_\_\_\_\_ (название) \_\_\_\_\_ (формула).

2 Превращение одних веществ в другие называется химической реакцией.

2.1. Из представленных ниже рисунков выберите тот, на котором изображено протекание химической реакции.




Рис. 1




Рис. 2




Рис. 3

Протекание химической реакции изображено на рисунке:

Объясните сделанный Вами выбор: \_\_\_\_\_

2.2. Укажите один ЛЮБОЙ признак протекания этой химической реакции: \_\_\_\_\_

3 В таблице приведены названия и химические формулы некоторых газообразных веществ.

№	Название вещества	Формула	Молярная масса, г/моль
1	Аммиак	$\text{NH}_3$	
2	Хлороводород	$\text{HCl}$	
3	Углекислый газ	$\text{CO}_2$	

3.1. Используя предложенные Вам справочные материалы, вычислите молярные массы каждого из газов и запишите полученные данные в таблицу.

3.2. В вашем распоряжении имеется пустая колба. Каким из приведённых в таблице газов следует наполнить эту колбу, чтобы её масса была максимальной? Укажите номер вещества.

Ответ:

Объясните свой выбор: \_\_\_\_\_

4

Даны два химических элемента: **А** и **Б**. Известно, что в атоме элемента **А** содержится 7 протонов, а в атоме элемента **Б** – 13 электронов.

4.1. Используя Периодическую систему химических элементов Д.И. Менделеева, определите химические элементы **А** и **Б**.

4.2. Укажите номер периода и номер группы в Периодической системе химических элементов Д.И. Менделеева, в которых расположен каждый элемент.

4.3. Установите, металлом или неметаллом являются простые вещества, образованные этими химическими элементами.

4.4. Составьте формулы высших оксидов, которые образуют элементы **А** и **Б**.

Ответы запишите в таблицу.

Элемент	Название химического элемента	Номер		Металл или неметалл	Формула высшего оксида
		периода	группы		
<b>А</b>					
<b>Б</b>					

5

Восьмиклассница Юля выпила за завтраком 200 г сока чёрной смородины.

5.1. Используя данные приведённой ниже таблицы, определите, какую массу углеводов получил при этом организм девушки. Ответ подтвердите расчётом.

**Содержание углеводов в некоторых соках**

Сок	Лимонный	Чёрно-смородиновый	Апельсиновый	Гранатовый	Сливовый
<b>Массовая доля углеводов, %</b>	2,5	7,9	12,8	14,5	16,1

Решение: \_\_\_\_\_

Ответ: \_\_\_\_\_

5.2. Какую долю суточной физиологической нормы (400 г) составляет потреблённое Юлей количество углеводов? Ответ подтвердите расчётом.

Решение: \_\_\_\_\_

Ответ: \_\_\_\_\_

6

Имеется следующий перечень химических веществ: водород, сера, сероводород, гидроксид натрия, серная кислота, сульфат натрия, вода. Используя этот перечень, выполните задания 6.1–6.5.

6.1. Напишите химические формулы каждого из указанных веществ.

Водород – \_\_\_\_\_. Сера – \_\_\_\_\_. Сероводород – \_\_\_\_\_.

Гидроксид натрия – \_\_\_\_\_. Серная кислота – \_\_\_\_\_.

Сульфат натрия – \_\_\_\_\_. Вода – \_\_\_\_\_.

6.2. Какое из веществ, упоминаемых в перечне, соответствует следующему описанию: «Хрупкое вещество жёлтого цвета, нерастворимое в воде, но хорошо растворимое в органических растворителях, например в скипидаре»?

Ответ: \_\_\_\_\_

6.3. Из данного перечня выберите ЛЮБОЕ СЛОЖНОЕ вещество (кроме воды). Запишите его химическую формулу и укажите, к какому классу неорганических соединений оно относится.

Вещество – \_\_\_\_\_. Класс соединений – \_\_\_\_\_.

6.4. Из приведённого перечня веществ выберите ЛЮБОЕ соединение, состоящее из атомов ТРЁХ элементов. Вычислите массовую долю кислорода в этом соединении.

Вещество – \_\_\_\_\_.

Решение: \_\_\_\_\_

Ответ: \_\_\_\_\_

6.5. Вычислите массу 0,25 моль сероводорода.

Решение: \_\_\_\_\_

Ответ: \_\_\_\_\_

7

Ниже даны описания двух химических превращений с участием веществ, перечень которых был приведён в задании 6:

(1) водород + сера  $\rightarrow$  сероводород;

(2) гидроксид натрия + серная кислота  $\rightarrow$  сульфат натрия + вода.

7.1. Составьте уравнения указанных реакций, используя химические формулы веществ из п. 6.1.

(1) \_\_\_\_\_

(2) \_\_\_\_\_

7.2. В зависимости от числа и состава веществ, вступающих в химическую реакцию и образующихся в результате неё, различают реакции соединения, разложения, замещения и обмена. Выберите ЛЮБУЮ реакцию (1) или (2) и укажите её тип.

Реакция:

Тип – \_\_\_\_\_.

Объясните свой ответ:

\_\_\_\_\_

7.3. Из приборов, изображённых на рисунках, выберите тот, с помощью которого можно выделить сульфат натрия из его водного раствора.

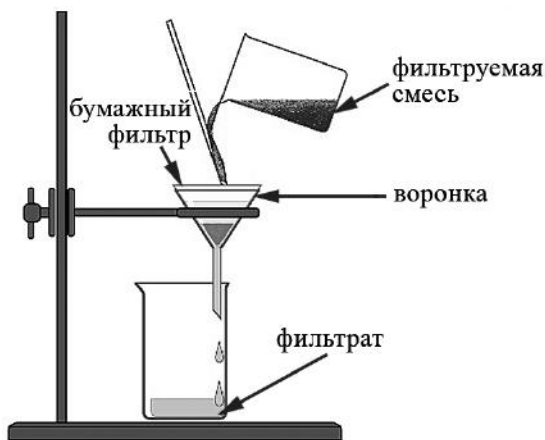


Рис. 1




Рис. 2

Выделить сульфат натрия из его водного раствора можно с помощью прибора, изображённого на рисунке:

Какой метод разделения веществ при этом используется?

Ответ: метод \_\_\_\_\_.

Почему прибор, изображённый на другом рисунке, не может быть использован для выделения сульфата натрия из его водного раствора?

Объяснение: \_\_\_\_\_

\_\_\_\_\_



8

Установите соответствие между названием химического вещества и областью его применения. К каждому элементу первого столбца подберите соответствующий элемент из второго столбца.

## НАЗВАНИЕ ВЕЩЕСТВА

- А) железо  
Б) гидроксид кальция  
В) вода  
Г) аммиак

## ОБЛАСТЬ ПРИМЕНЕНИЯ

- 1) жидкость для полива сельскохозяйственных культур  
2) газ для возбуждения дыхательного центра при обмороках  
3) основной конструкционный металл многих отраслей промышленности  
4) реактив на углекислый газ  
5) тугоплавкий металл для изготовления нитей накаливания в осветительных приборах

Запишите в таблицу выбранные цифры под соответствующими буквами.

□ Ответ:

А	Б	В	Г

9

Из приведённого списка выберите верные суждения о правилах поведения в химической лаборатории и обращения с химическими веществами в быту. В ответе запишите цифры, под которыми они указаны. (В задании может быть несколько верных суждений.)

- 1) Продукты неполного сгорания топлива в автомобильном двигателе отрицательно влияют на состояние окружающей среды.  
2) Делительная воронка используется в лаборатории для разделения двух несмешивающихся жидкостей.  
3) Для перемешивания приготовленного раствора допустимо использовать имеющиеся на столе канцелярские принадлежности (карандаш, ручку, линейку).  
4) Загоревшийся бензин тушат водой.

□ Ответ: \_\_\_\_\_.