

**Проверочная работа  
по ХИМИИ**

**8 класс**

**Вариант 1**

**Инструкция по выполнению работы**

Проверочная работа включает в себя девять заданий. На её выполнение отводится 90 минут.

При выполнении работы разрешается использовать следующие дополнительные материалы:

- Периодическая система химических элементов Д.И. Менделеева;
- таблица растворимости кислот, солей и оснований в воде;
- ряд активности металлов / электрохимический ряд напряжений;
- непрограммируемый калькулятор.

Оформляйте ответы в тексте работы в соответствии с инструкциями, приведёнными к каждому заданию. В случае записи неверного ответа зачеркните его и запишите рядом новый.

При выполнении заданий Вы можете использовать черновик. Записи в черновике проверяться и оцениваться не будут.

Советуем выполнять задания в том порядке, в котором они даны. Для экономии времени пропускайте задание, которое не удаётся выполнить сразу, и переходите к следующему. Если после выполнения всей работы у Вас останется время, Вы сможете вернуться к пропущенным заданиям.

Баллы, полученные Вами за выполненные задания, суммируются. Постарайтесь выполнить как можно больше заданий и набрать наибольшее количество баллов.

***Желаем успеха!***

*Заполняется учителем, экспертом или техническим специалистом*

**Обратите внимание:** в случае, если какие-либо задания не могли быть выполнены целым классом по причинам, связанным с отсутствием соответствующей темы в реализуемой школой образовательной программе, в форме сбора результатов ВПр всем обучающимся класса за данное задание вместо балла выставляется значение «Тема не пройдена». В соответствующие ячейки таблицы заполняется н/п.

*Таблица для внесения баллов участника*

Номер задания	1.1	1.2	2.1	2.2	3.1	3.2	4.1	4.2	4.3	4.4	5.1	5.2	6.1	6.2	6.3	6.4	6.5
Баллы																	
Номер задания	7.1	7.2	7.3 (1)	7.3 (2)	8	9	Сумма баллов	Отметка за работу									
Баллы																	

Периодическая система химических элементов Д.И. Менделеева

		Г р у п п ы																	
		I	II	III	IV	V	VI	VII	VIII										
П е р и о д ы	1	<b>H</b> 1,008 Водород																<b>He</b> 4,00 Гелий	
	2	<b>Li</b> 6,94 Литий	<b>Be</b> 9,01 Бериллий	<b>B</b> 10,81 Бор	<b>C</b> 12,01 Углерод	<b>N</b> 14,00 Азот	<b>O</b> 16,00 Кислород	<b>F</b> 19,00 Фтор	<b>Ne</b> 20,18 Неон										
	3	<b>Na</b> 22,99 Натрий	<b>Mg</b> 24,31 Магний	<b>Al</b> 26,98 Алюминий	<b>Si</b> 28,09 Кремний	<b>P</b> 30,97 Фосфор	<b>S</b> 32,06 Сера	<b>Cl</b> 35,45 Хлор	<b>Ar</b> 39,95 Аргон										
	4	<b>K</b> 39,10 Калий	<b>Ca</b> 40,08 Кальций	<b>Sc</b> 44,96 Скандий	<b>Ti</b> 47,90 Титан	<b>V</b> 50,94 Ванадий	<b>Cr</b> 52,00 Хром	<b>Mn</b> 54,94 Марганец	<b>Fe</b> 55,85 Железо	<b>Co</b> 58,93 Кобальт	<b>Ni</b> 58,69 Никель								
	5	<b>Cu</b> 63,55 Медь	<b>Zn</b> 65,39 Цинк	<b>Ga</b> 69,72 Галлий	<b>Ge</b> 72,59 Германий	<b>As</b> 74,92 Мышьяк	<b>Se</b> 78,96 Селен	<b>Br</b> 79,90 Бром	<b>Kr</b> 83,80 Криптон										
	6	<b>Rb</b> 85,47 Рубидий	<b>Sr</b> 87,62 Стронций	<b>Y</b> 88,91 Итрий	<b>Zr</b> 91,22 Цирконий	<b>Nb</b> 92,91 Ниобий	<b>Mo</b> 95,94 Молибден	<b>Tc</b> 98,91 Технеций	<b>Ru</b> 101,07 Рутений	<b>Rh</b> 102,91 Родий	<b>Pd</b> 106,42 Палладий								
	7	<b>Ag</b> 107,87 Серебро	<b>Cd</b> 112,41 Кадмий	<b>In</b> 114,82 Индий	<b>Sn</b> 118,69 Олово	<b>Sb</b> 121,75 Сурьма	<b>Te</b> 127,60 Теллур	<b>I</b> 126,90 Йод	<b>Xe</b> 131,29 Ксенон										
	8	<b>Cs</b> 132,91 Цезий	<b>Ba</b> 137,33 Барий	<b>La</b> 138,91 Лантан	<b>Hf</b> 178,49 Гафний	<b>Ta</b> 180,95 Тантал	<b>W</b> 183,85 Вольфрам	<b>Re</b> 186,21 Рений	<b>Os</b> 190,2 Осмий	<b>Ir</b> 192,22 Иридий	<b>Pt</b> 195,08 Платина								
	9	<b>Au</b> 196,97 Золото	<b>Hg</b> 200,59 Ртуть	<b>Tl</b> 204,38 Таллий	<b>Pb</b> 207,2 Свинец	<b>Bi</b> 208,98 Висмут	<b>Po</b> [209] Полоний	<b>At</b> [210] Астат	<b>Hs</b> [269] Хассий	<b>Mt</b> [268] Мейтнерий	<b>Ds</b> [271] Дармштадтий								
	10	<b>Rg</b> [280] Рентгений	<b>Cn</b> [285] Коперниций	<b>Nh</b> [286] Нихоний	<b>Fl</b> [289] Флеровий	<b>Mc</b> [290] Московский	<b>Lv</b> [293] Ливерморий	<b>Ts</b> [294] Теннесси	<b>Og</b> [294] Оганесон										

\* Лантаноиды

58	<b>Ce</b> 140 Церий	59	<b>Pr</b> 141 Празеодим	60	<b>Nd</b> 144 Неодим	61	<b>Pm</b> [145] Прометий	62	<b>Sm</b> 150 Самарий	63	<b>Eu</b> 152 Европий	64	<b>Gd</b> 157 Гадолиний	65	<b>Tb</b> 159 Тербий	66	<b>Dy</b> 162,5 Диспрозий	67	<b>Ho</b> 165 Гольмий	68	<b>Er</b> 167 Эрбий	69	<b>Tm</b> 169 Тулий	70	<b>Yb</b> 173 Иттербий	71	<b>Lu</b> 175 Лютеций
----	------------------------	----	----------------------------	----	-------------------------	----	-----------------------------	----	--------------------------	----	--------------------------	----	----------------------------	----	-------------------------	----	------------------------------	----	--------------------------	----	------------------------	----	------------------------	----	---------------------------	----	--------------------------

\*\* АКТИНОИДЫ

90	<b>Th</b> 232 Торий	91	<b>Pa</b> 231 Протактиний	92	<b>U</b> 238 Уран	93	<b>Np</b> 237 Нептуний	94	<b>Pu</b> [244] Плутоний	95	<b>Am</b> [243] Америций	96	<b>Cm</b> [247] Кюрий	97	<b>Bk</b> [247] Берклий	98	<b>Cf</b> [251] Калифорний	99	<b>Es</b> [252] Эйнштейний	100	<b>Fm</b> [257] Фермий	101	<b>Md</b> [258] Менделеевий	102	<b>No</b> [259] Нобелий	103	<b>Lr</b> [262] Лоуренсий
----	------------------------	----	------------------------------	----	----------------------	----	---------------------------	----	-----------------------------	----	-----------------------------	----	--------------------------	----	----------------------------	----	-------------------------------	----	-------------------------------	-----	---------------------------	-----	--------------------------------	-----	----------------------------	-----	------------------------------

**РЯД АКТИВНОСТИ МЕТАЛЛОВ / ЭЛЕКТРОХИМИЧЕСКИЙ РЯД НАПРЯЖЕНИЙ**

Li Rb K Ba Sr Ca Na Mg Al Mn Zn Cr Fe Cd Co Ni Sn Pb (H) Sb Bi Cu Hg Ag Pt Au



активность металлов уменьшается

**РАСТВОРИМОСТЬ КИСЛОТ, СОЛЕЙ И ОСНОВАНИЙ В ВОДЕ**

	H <sup>+</sup>	Li <sup>+</sup>	K <sup>+</sup>	Na <sup>+</sup>	NH <sub>4</sub> <sup>+</sup>	Ba <sup>2+</sup>	Ca <sup>2+</sup>	Mg <sup>2+</sup>	Sr <sup>2+</sup>	Al <sup>3+</sup>	Cr <sup>3+</sup>	Fe <sup>2+</sup>	Fe <sup>3+</sup>	Ni <sup>2+</sup>	Co <sup>2+</sup>	Mn <sup>2+</sup>	Zn <sup>2+</sup>	Ag <sup>+</sup>	Hg <sup>2+</sup>	Pb <sup>2+</sup>	Sn <sup>2+</sup>	Cu <sup>2+</sup>	
OH <sup>-</sup>		Р	Р	Р	Р	Р	М	Н	М	Н	Н	Н	Н	Н	Н	Н	Н	Н	-	-	Н	Н	Н
F <sup>-</sup>	Р	М	Р	Р	Р	М	Н	Н	Н	М	Н	Н	Н	Р	Р	Р	Р	Р	Р	-	Н	Р	Р
Cl <sup>-</sup>	Р	Р	Р	Р	Р	Р	Р	Р	Р	Р	Р	Р	Р	Р	Р	Р	Р	Р	Н	Р	М	Р	Р
Br <sup>-</sup>	Р	Р	Р	Р	Р	Р	Р	Р	Р	Р	Р	Р	Р	Р	Р	Р	Р	Р	Н	М	М	Р	Р
I <sup>-</sup>	Р	Р	Р	Р	Р	Р	Р	Р	Р	Р	?	Р	?	Р	Р	Р	Р	Р	Н	Н	Н	М	?
S <sup>2-</sup>	Р	Р	Р	Р	Р	-	-	-	Н	-	-	Н	-	Н	Н	Н	Н	Н	Н	Н	Н	Н	Н
HS <sup>-</sup>	Р	Р	Р	Р	Р	Р	Р	Р	Р	?	?	?	?	?	?	?	?	?	?	?	?	?	?
SO <sub>3</sub> <sup>2-</sup>	Р	Р	Р	Р	Р	Н	Н	М	Н	?	-	Н	?	Н	Н	?	М	Н	Н	Н	Н	?	?
HSO <sub>3</sub> <sup>-</sup>	Р	?	Р	Р	Р	Р	Р	Р	Р	?	?	?	?	?	?	?	?	?	?	?	?	?	?
SO <sub>4</sub> <sup>2-</sup>	Р	Р	Р	Р	Р	Н	М	Р	Н	Р	Р	Р	Р	Р	Р	Р	Р	М	-	-	Н	Р	Р
HSO <sub>4</sub> <sup>-</sup>	Р	Р	Р	Р	Р	?	?	?	-	?	?	?	?	?	?	?	?	?	?	?	?	?	?
NO <sub>3</sub> <sup>-</sup>	Р	Р	Р	Р	Р	Р	Р	Р	Р	Р	Р	Р	Р	Р	Р	Р	Р	Р	Р	Р	Р	-	Р
NO <sub>2</sub> <sup>-</sup>	Р	Р	Р	Р	Р	Р	Р	Р	Р	?	?	?	?	?	?	?	?	?	М	?	?	?	?
PO <sub>4</sub> <sup>3-</sup>	Р	Н	Р	Р	-	Н	Н	Н	Н	Н	Н	Н	Н	Н	Н	Н	Н	Н	Н	Н	Н	Н	Н
HPO <sub>4</sub> <sup>2-</sup>	Р	?	Р	Р	Р	Н	Н	М	Н	?	?	Н	?	?	?	?	?	?	?	?	М	Н	?
H <sub>2</sub> PO <sub>4</sub> <sup>-</sup>	Р	Р	Р	Р	Р	Р	Р	Р	Р	?	?	Р	?	?	?	?	Р	Р	Р	?	-	?	?
CO <sub>3</sub> <sup>2-</sup>	Р	Р	Р	Р	Р	Н	Н	Н	Н	?	?	Н	-	Н	Н	Н	Н	Н	Н	Н	Н	?	Н
HCO <sub>3</sub> <sup>-</sup>	Р	Р	Р	Р	Р	Р	Р	Р	Р	?	?	Р	?	?	?	?	?	?	?	?	?	?	?
CH <sub>3</sub> COO <sup>-</sup>	Р	Р	Р	Р	Р	Р	Р	Р	Р	-	Р	Р	-	Р	Р	Р	Р	Р	Р	Р	Р	-	Р
SiO <sub>3</sub> <sup>2-</sup>	Н	Н	Р	Р	?	Н	Н	Н	Н	?	?	Н	?	?	?	?	Н	Н	?	?	Н	?	?

“Р” – растворяется (> 1 г на 100 г H<sub>2</sub>O)

“М” – мало растворяется (от 0,1 г до 1 г на 100 г H<sub>2</sub>O)

“Н” – не растворяется (меньше 0,01 г на 1000 г воды)

“-” – в водной среде разлагается

“?” – нет достоверных сведений о существовании соединений

1

Предметом изучения химии являются вещества.

1.1. Внимательно рассмотрите предложенные рисунки. Укажите номер рисунка, на котором изображён объект, содержащий индивидуальное химическое вещество.



Рис. 1



Рис. 2



Рис. 3

Индивидуальное химическое вещество содержится в объекте, изображённом на рисунке:

1.2. Какие вещества содержатся в объектах, изображённых на остальных рисунках? Приведите по ОДНОМУ примеру.

Для каждого вещества укажите его химическое название и формулу.

Рис. 1: \_\_\_\_\_ (название) \_\_\_\_\_ (формула).

Рис. 2: \_\_\_\_\_ (название) \_\_\_\_\_ (формула).

Рис. 3: \_\_\_\_\_ (название) \_\_\_\_\_ (формула).

2 Превращение одних веществ в другие называется химической реакцией.

2.1. Из представленных ниже рисунков выберите тот, на котором изображено протекание химической реакции.

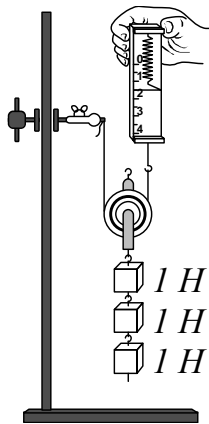


Рис. 1

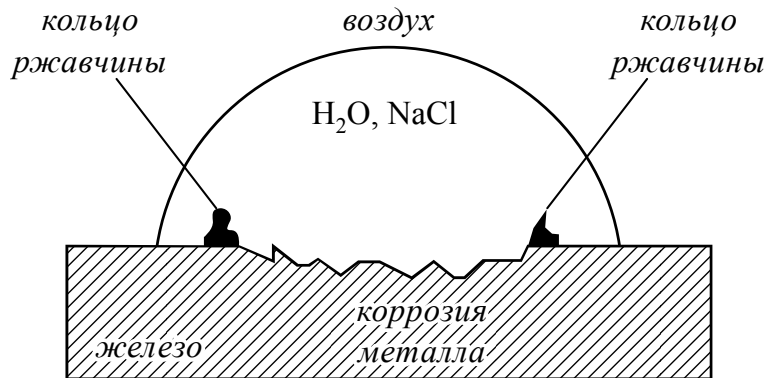


Рис. 2

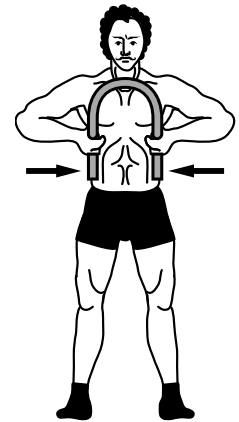


Рис. 3

Протекание химической реакции изображено на рисунке:

Объясните сделанный Вами выбор: \_\_\_\_\_

2.2. Укажите один ЛЮБОЙ признак протекания этой химической реакции: \_\_\_\_\_

3

В таблице приведены названия и химические формулы некоторых газообразных веществ.

№	Название вещества	Формула	Молярная масса, г/моль
1	Водород	$H_2$	
2	Аммиак	$NH_3$	
3	Сернистый газ	$SO_2$	

3.1. Используя предложенные Вам справочные материалы, вычислите молярные массы каждого из газов и запишите полученные данные в таблицу.

3.2. Каким из приведённых в таблице газов следует наполнить шарик с практически невесомой оболочкой, чтобы он оказался тяжелее воздуха и не смог взлететь? (Средняя молярная масса воздуха равна 29 г/моль.) Укажите номер вещества.

Ответ:

Объясните свой выбор: \_\_\_\_\_

4

Даны два химических элемента: **А** и **Б**. Известно, что в атоме элемента **А** содержится 19 электронов, а в атоме элемента **Б** – 15 протонов.

4.1. Используя Периодическую систему химических элементов Д.И. Менделеева, определите химические элементы **А** и **Б**.

4.2. Укажите номер периода и номер группы в Периодической системе химических элементов Д.И. Менделеева, в которых расположен каждый элемент.

4.3. Установите, металлом или неметаллом являются простые вещества, образованные этими химическими элементами.

4.4. Составьте формулы высших оксидов, которые образуют элементы **А** и **Б**.

Ответы запишите в таблицу.

Элемент	Название химического элемента	Номер		Металл или неметалл	Формула высшего оксида
		периода	группы		
<b>А</b>					
<b>Б</b>					

5

Восьмиклассница Настя выпила за завтраком полстакана (120 г) сливового сока.

5.1. Используя данные приведённой ниже таблицы, определите, какую массу углеводов получил при этом организм девушки. Ответ подтвердите расчётом.

**Содержание углеводов в некоторых соках**

Сок	Лимонный	Яблочный	Апельсиновый	Гранатовый	Сливовый
<b>Массовая доля углеводов, %</b>	2,5	9,1	12,8	14,5	16,1

Решение: \_\_\_\_\_

Ответ: \_\_\_\_\_

5.2. Какую долю суточной физиологической нормы (400 г) составляет потреблённое Настей количество углеводов? Ответ подтвердите расчётом.

Решение: \_\_\_\_\_

Ответ: \_\_\_\_\_

6

Имеется следующий перечень химических веществ: алюминий, кислород, оксид алюминия, сульфит натрия, хлороводород, хлорид натрия, оксид серы(IV), вода. Используя этот перечень, выполните задания 6.1–6.5.

6.1. Напишите химические формулы каждого из указанных веществ.

Алюминий – \_\_\_\_\_. Кислород – \_\_\_\_\_. Оксид алюминия – \_\_\_\_\_.

Сульфит натрия – \_\_\_\_\_. Хлороводород – \_\_\_\_\_.

Оксид серы(IV) – \_\_\_\_\_. Хлорид натрия – \_\_\_\_\_. Вода – \_\_\_\_\_.

6.2. Какое из веществ, упоминаемых в перечне, соответствует следующему описанию: «Газ без цвета, вкуса и запаха, необходимый для дыхания живых организмов»?

Ответ: \_\_\_\_\_

6.3. Из данного перечня выберите ЛЮБОЙ оксид (кроме воды). Запишите его химическую формулу и укажите, к какому классу оксидов (кислотные, основные, амфотерные, несолеобразующие) он относится.

Оксид – \_\_\_\_\_. Класс оксидов – \_\_\_\_\_.

6.4. Из приведённого перечня веществ выберите соединение, состоящее из атомов ТРЁХ элементов. Вычислите массовую долю кислорода в этом соединении.

Вещество – \_\_\_\_\_.

Решение: \_\_\_\_\_

Ответ: \_\_\_\_\_

6.5. Вычислите массу 0,15 моль оксида серы(IV).

Решение: \_\_\_\_\_

Ответ: \_\_\_\_\_

7

Ниже даны описания двух химических превращений с участием веществ, перечень которых был приведён в задании 6:

(1) алюминий + кислород  $\rightarrow$  оксид алюминия;

(2) сульфит натрия + хлороводород (р-р)  $\rightarrow$  хлорид натрия + оксид серы(IV) + вода.

7.1. Составьте уравнения указанных реакций, используя химические формулы веществ из п. 6.1.

(1) \_\_\_\_\_

(2) \_\_\_\_\_

7.2. В зависимости от числа и состава веществ, вступающих в химическую реакцию и образующихся в результате неё, различают реакции соединения, разложения, замещения и обмена. Выберите ЛЮБУЮ реакцию (1) или (2) и укажите её тип.

Реакция:

Тип – \_\_\_\_\_.

Объясните свой ответ: \_\_\_\_\_

7.3. Из приборов, изображённых на рисунках, выберите тот, с помощью которого можно получить газообразный оксид серы(IV) по реакции (2).

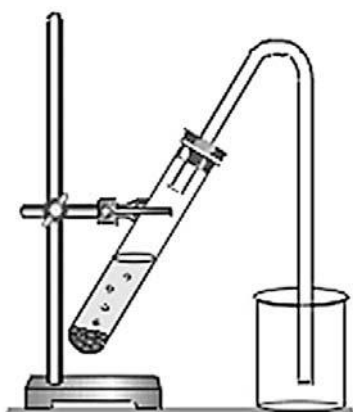


Рис. 1

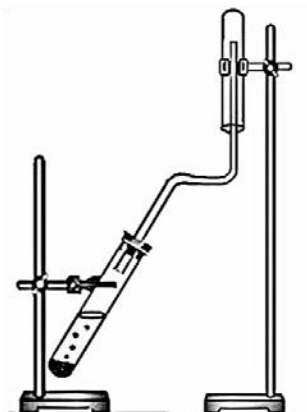


Рис. 2

Оксид серы(IV) получают на рисунке:

Как правильно должен быть расположен приёмник оксида серы(IV) – вверх дном или вниз дном?

Ответ: \_\_\_\_\_.

Почему прибор, изображённый на другом рисунке, не может быть использован для получения оксида серы(IV)?

Объяснение: \_\_\_\_\_



8

Установите соответствие между названием химического вещества и областью его применения. К каждому элементу первого столбца подберите соответствующий элемент из второго столбца.

## НАЗВАНИЕ ВЕЩЕСТВА

- А) алюминий
- Б) вода
- В) хлор
- Г) гидроксид кальция

## ОБЛАСТЬ ПРИМЕНЕНИЯ

- 1) как реактив на углекислый газ
- 2) для обеззараживания бассейнов
- 3) в авиации в составе лёгких сплавов
- 4) газ для дыхания водолазов
- 5) жидкость для тушения пожаров

Запишите в таблицу выбранные цифры под соответствующими буквами.

Ответ:

А	Б	В	Г

9

Из приведённого списка выберите верные суждения о правилах поведения в химической лаборатории и обращения с химическими веществами в быту. В ответе запишите цифры, под которыми они указаны. (В задании может быть несколько верных суждений.)

- 1) Повышенное содержание в помещении оксида углерода(II) опасно для жизни и здоровья человека.
- 2) Выпаривание растворов следует проводить в фарфоровой ступке, перемешивая её содержимое пестиком.
- 3) Перед применением любого препарата бытовой химии необходимо внимательно изучить инструкцию.
- 4) Делительная воронка используется для разделения смеси двух твёрдых веществ.

Ответ: \_\_\_\_\_.