

**Проверочная работа
по ИСТОРИИ**

8 класс

Вариант 2

Инструкция по выполнению работы

На выполнение работы по истории даётся 45 минут. Работа включает в себя 10 заданий. Часть 1 работы посвящена истории России и истории зарубежных стран (история Нового времени), в части 2 предложено задание, связанное с памятью народа России о Великой Отечественной войне или с важнейшими событиями истории нашей страны в XXI в.

Ответы на задания запишите в поля ответов в тексте работы. В случае записи неверного ответа зачеркните его и запишите рядом новый.

При необходимости можно пользоваться черновиком. Записи в черновике проверяться и оцениваться не будут.

Советуем выполнять задания в том порядке, в котором они даны. В целях экономии времени пропускайте задание, которое не удаётся выполнить сразу, и переходите к следующему. Если после выполнения всей работы у Вас останется время, то Вы сможете вернуться к пропущенным заданиям.

Желаем успеха!

Заполняется учителем, экспертом или техническим специалистом

Обратите внимание: в случае, если какие-либо задания не могли быть выполнены целым классом по причинам, связанным с отсутствием соответствующей темы в реализуемой школой образовательной программе, в форме сбора результатов ВПР всем обучающимся класса за данное задание вместо балла выставляется значение «Тема не пройдена». В соответствующие ячейки таблицы заполняется н/п.

Таблица для внесения баллов участника

Номер задания	1	2	3	4	5	6	7	8	9	10	Сумма баллов	Отметка за работу
Баллы												

Часть 1

В этой части работы даны задания по истории России и истории зарубежных стран в Новое время.

1

Расположите в хронологической последовательности исторические события. Запишите цифры, которыми обозначены исторические события, в правильной последовательности в таблицу.

- 1) Гангутское сражение
- 2) принятие Учредительным собранием Франции Декларации прав человека и гражданина
- 3) сражение при Гросс-Егерсдорфе

Ответ:

--	--	--

Рассмотрите изображение и выполните задания 2, 3.



2

Кем приходился изображённый на медали император Петру I?

Ответ: _____.

3

Укажите фамилию ближайшего сподвижника Петра I, карьера которого внезапно окончилась в период правления изображённого на медали императора.

Ответ: _____.

Прочтите отрывок из исторического источника и выполните задание 4.

«В день празднования заключения мира камергер Строганов получил приказание совершенно не выходить из дома, потому что он выказал участие к императрице, которой император публично нанёс тяжёлое оскорбление. Эта мера произвела сильнейшее впечатление на все умы, расположенные, к тому же, к этой государыне и крайне ожесточённые дурным поведением, несдержанным характером и ненавистью Петра III к русскому народу, которую даже он не давал себе труда скрывать. Это брожение, непрерывно усиливаясь, продолжалось до 27 июня. Намерения Петра III не составляли более тайны. Они состояли в том, чтобы вывести гвардейские полки и ввести в город голштинские войска, заточить императрицу (приказания арестовать её уже были даны один раз и затем отменены), жениться на графине Воронцовой, переменить религию и произвести массу других перемен, столь же мало продуманных».

4

Назовите императрицу, о которой идёт речь.

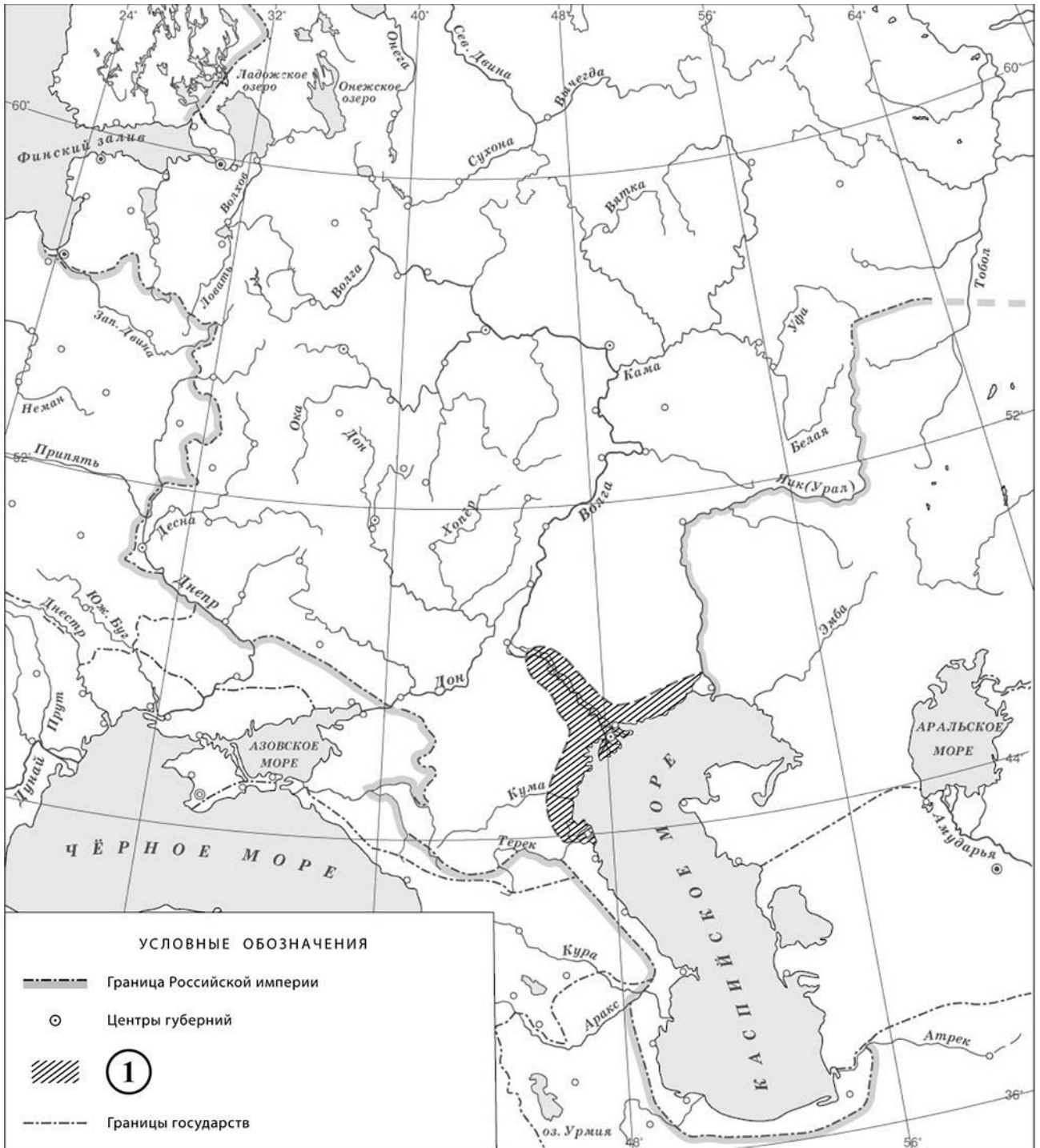
Ответ: _____

Назовите акт, изданный упоминаемым в тексте императором, в значительной степени повлиявший на положение российского дворянства.

Ответ: _____



Рассмотрите карту и выполните задания 5, 6.



5 Назовите российского монарха в период, когда произошло восстание, территория распространения которого обозначена в легенде карты цифрой «1».


Ответ: _____.

6 Подпишите на карте территорию Речи Посполитой и Москву.



Ознакомьтесь с приведённым перечнем и изображениями памятников культуры и выполните задания 7, 8.

- 1) «Слово о законе и благодати»
- 2) «История Российская с самых древнейших времён»
- 3) «Повесть о Ерше Ершовиче, сыне Щетинникове»
- 4)



7) Какие из приведённых памятников культуры были созданы в XVIII в.? Выберите **два** памятника культуры и запишите в таблицу цифры, под которыми они указаны.

Ответ:

--	--

8) Создателем какого из приведённых памятников культуры был В.Н. Татищев? Укажите порядковый номер этого памятника культуры.

Ответ:

--

9

Какой из приведённых исторических фактов можно использовать для аргументации следующей точки зрения: «В период правления Петра I Россия достигла невиданного ранее уровня промышленного развития»? Укажите порядковый номер этого факта в списке.

- 1) издание указа о свободе предпринимательства
- 2) отмена внутренних таможенных пошлин
- 3) экспорт металла

Ответ:


Объясните, как с помощью выбранного Вами факта можно аргументировать данную точку зрения.

Ответ: _____

Часть 2

10

Рассмотрите изображение и выполните задание.



Укажите день и месяц, когда в России отмечается государственный праздник, которому посвящено изображение, размещённое на данной марке. Почему этот праздник является одним из важнейших для всех граждан нашей страны?

Ответ: _____
