

Всероссийская проверочная работа
по профильному учебному предмету «ХИМИЯ»
для обучающихся первых курсов по очной форме обучения по образовательным
программам среднего профессионального образования на базе основного общего
образования

Инструкция по выполнению работы

На выполнение работы по химии отводится 2 часа (120 минут). Работа включает в себя 22 задания.

Ответы на задания запишите в поля ответов в тексте работы. В случае записи неверного ответа зачеркните его и запишите рядом новый.

При выполнении работы разрешается использовать следующие дополнительные материалы:

- Периодическая система химических элементов Д.И. Менделеева;
- таблица растворимости кислот, солей и оснований в воде;
- ряд активности металлов / электрохимический ряд напряжений;
- непрограммируемый калькулятор.

При необходимости можно пользоваться черновиком. Записи в черновике проверяться и оцениваться не будут.

Советуем выполнять задания в том порядке, в котором они даны. Для экономии времени пропускайте задание, которое не удаётся выполнить сразу, и переходите к следующему. Если после выполнения всей работы у Вас останется время, то Вы сможете вернуться к пропущенным заданиям.

Баллы, полученные Вами за выполненные задания, суммируются. Постарайтесь выполнить как можно больше заданий и набрать наибольшее количество баллов.

Желаем успеха!

Таблица для внесения баллов участника

Номер задания	1	2	3	4	5	6	7	8	9	10	11	12	13	14	15	16
Баллы																
Номер задания	17	18	19	20	21	22	Сумма баллов	Отметка за работу								
Баллы																

Периодическая система химических элементов Д.И. Менделеева

		Г р у п п ы																	
		I	II	III	IV	V	VI	VII	VIII										
П е р и о д ы	1	H 1,008 Водород																He 4,00 Гелий	
	2	Li 6,94 Литий	Be 9,01 Бериллий	B 10,81 Бор	C 12,01 Углерод	N 14,00 Азот	O 16,00 Кислород	F 19,00 Фтор	Ne 20,18 Неон										
	3	Na 22,99 Натрий	Mg 24,31 Магний	Al 26,98 Алюминий	Si 28,09 Кремний	P 30,97 Фосфор	S 32,06 Сера	Cl 35,45 Хлор	Ar 39,95 Аргон										
	4	K 39,10 Калий	Ca 40,08 Кальций	Sc 44,96 Скандий	Ti 47,90 Титан	V 50,94 Ванадий	Cr 52,00 Хром	Mn 54,94 Марганец	Fe 55,85 Железо	Co 58,93 Кобальт	Ni 58,69 Никель								
	5	Cu 63,55 Медь	Zn 65,39 Цинк	Ga 69,72 Галлий	Ge 72,59 Германий	As 74,92 Мышьяк	Se 78,96 Селен	Br 79,90 Бром	Kr 83,80 Криптон										
	6	Rb 85,47 Рубидий	Sr 87,62 Стронций	Y 88,91 Итрий	Zr 91,22 Цирконий	Nb 92,91 Ниобий	Mo 95,94 Молибден	Tc 98,91 Технеций	Ru 101,07 Рутений	Rh 102,91 Родий	Pd 106,42 Палладий								
	7	Ag 107,87 Серебро	Cd 112,41 Кадмий	In 114,82 Индий	Sn 118,69 Олово	Sb 121,75 Сурьма	Te 127,60 Теллур	I 126,90 Йод	Xe 131,29 Ксенон										
	8	Cs 132,91 Цезий	Ba 137,33 Барий	La * 138,91 Лантан	Hf 178,49 Гафний	Ta 180,95 Тантал	W 183,85 Вольфрам	Re 186,21 Рений	Os 190,2 Осмий	Ir 192,22 Иридий	Pt 195,08 Платина								
	9	Au 196,97 Золото	Hg 200,59 Ртуть	Tl 204,38 Таллий	Pb 207,2 Свинец	Bi 208,98 Висмут	Po [209] Полоний	At [210] Астат	Rn [222] Радон										
	10	Fr [223] Франций	Ra 226 Радий	Ac ** [227] Актиний	Rf [261] Резерфордий	Db [262] Дубний	Sg [266] Сиборгий	Bh [264] Борий	Hs [269] Хассий	Mt [268] Мейтнерий	Ds [271] Дармштадтий								
	11	Rg [280] Рентгений	Cn [285] Коперниций	Nh [286] Нихоний	Fl [289] Флеровий	Mc [290] Московский	Lv [293] Ливерморий	Ts [294] Теннесси	Og [294] Оганесон										

* Лантаноиды

58	Ce 140 Церий	59	Pr 141 Празеодим	60	Nd 144 Неодим	61	Pm [145] Прометий	62	Sm 150 Самарий	63	Eu 152 Европий	64	Gd 157 Гадолиний	65	Tb 159 Тербий	66	Dy 162,5 Диспрозий	67	Ho 165 Гольмий	68	Er 167 Эрбий	69	Tm 169 Тулий	70	Yb 173 Иттербий	71	Lu 175 Лютеций
----	------------------------	----	----------------------------	----	-------------------------	----	-----------------------------	----	--------------------------	----	--------------------------	----	----------------------------	----	-------------------------	----	------------------------------	----	--------------------------	----	------------------------	----	------------------------	----	---------------------------	----	--------------------------

** АКТИНОИДЫ

90	Th 232 Торий	91	Pa 231 Протактиний	92	U 238 Уран	93	Np 237 Нептуний	94	Pu [244] Плутоний	95	Am [243] Америций	96	Cm [247] Кюрий	97	Bk [247] Берклий	98	Cf [251] Калифорний	99	Es [252] Эйнштейний	100	Fm [257] Фермий	101	Md [258] Менделеевий	102	No [259] Нобелий	103	Lr [262] Лоуренсий
----	------------------------	----	------------------------------	----	----------------------	----	---------------------------	----	-----------------------------	----	-----------------------------	----	--------------------------	----	----------------------------	----	-------------------------------	----	-------------------------------	-----	---------------------------	-----	--------------------------------	-----	----------------------------	-----	------------------------------

РЯД АКТИВНОСТИ МЕТАЛЛОВ / ЭЛЕКТРОХИМИЧЕСКИЙ РЯД НАПРЯЖЕНИЙ

Li Rb K Ba Sr Ca Na Mg Al Mn Zn Cr Fe Cd Co Ni Sn Pb (H) Sb Bi Cu Hg Ag Pt Au

↑
активность металлов уменьшается

РАСТВОРИМОСТЬ КИСЛОТ, СОЛЕЙ И ОСНОВАНИЙ В ВОДЕ

	H ⁺	Li ⁺	K ⁺	Na ⁺	NH ₄ ⁺	Ba ²⁺	Ca ²⁺	Mg ²⁺	Sr ²⁺	Al ³⁺	Cr ³⁺	Fe ²⁺	Fe ³⁺	Ni ²⁺	Co ²⁺	Mn ²⁺	Zn ²⁺	Ag ⁺	Hg ²⁺	Pb ²⁺	Sn ²⁺	Cu ²⁺	
OH ⁻		Р	Р	Р	Р	Р	М	Н	М	Н	Н	Н	Н	Н	Н	Н	Н	Н	-	-	Н	Н	Н
F ⁻	Р	М	Р	Р	Р	М	Н	Н	Н	М	Н	Н	Н	Р	Р	Р	Р	Р	Р	-	Н	Р	Р
Cl ⁻	Р	Р	Р	Р	Р	Р	Р	Р	Р	Р	Р	Р	Р	Р	Р	Р	Р	Р	Н	Р	М	Р	Р
Br ⁻	Р	Р	Р	Р	Р	Р	Р	Р	Р	Р	Р	Р	Р	Р	Р	Р	Р	Р	Н	М	М	Р	Р
I ⁻	Р	Р	Р	Р	Р	Р	Р	Р	Р	Р	?	Р	?	Р	Р	Р	Р	Р	Н	Н	Н	М	?
S ²⁻	Р	Р	Р	Р	Р	-	-	-	Н	-	-	Н	-	Н	Н	Н	Н	Н	Н	Н	Н	Н	Н
HS ⁻	Р	Р	Р	Р	Р	Р	Р	Р	Р	?	?	?	?	?	?	?	?	?	?	?	?	?	?
SO ₃ ²⁻	Р	Р	Р	Р	Р	Н	Н	М	Н	?	-	Н	?	Н	Н	?	М	Н	Н	Н	Н	?	?
HSO ₃ ⁻	Р	?	Р	Р	Р	Р	Р	Р	Р	?	?	?	?	?	?	?	?	?	?	?	?	?	?
SO ₄ ²⁻	Р	Р	Р	Р	Р	Н	М	Р	Н	Р	Р	Р	Р	Р	Р	Р	Р	М	-	-	Н	Р	Р
HSO ₄ ⁻	Р	Р	Р	Р	Р	?	?	?	-	?	?	?	?	?	?	?	?	?	?	?	?	?	?
NO ₃ ⁻	Р	Р	Р	Р	Р	Р	Р	Р	Р	Р	Р	Р	Р	Р	Р	Р	Р	Р	Р	Р	Р	-	Р
NO ₂ ⁻	Р	Р	Р	Р	Р	Р	Р	Р	Р	?	?	?	?	?	?	?	?	?	М	?	?	?	?
PO ₄ ³⁻	Р	Н	Р	Р	-	Н	Н	Н	Н	Н	Н	Н	Н	Н	Н	Н	Н	Н	Н	Н	Н	Н	Н
HPO ₄ ²⁻	Р	?	Р	Р	Р	Н	Н	М	Н	?	?	Н	?	?	?	?	?	?	?	?	М	Н	?
H ₂ PO ₄ ⁻	Р	Р	Р	Р	Р	Р	Р	Р	Р	?	?	Р	?	?	?	?	Р	Р	Р	?	-	?	?
CO ₃ ²⁻	Р	Р	Р	Р	Р	Н	Н	Н	Н	?	?	Н	-	Н	Н	Н	Н	Н	Н	Н	Н	?	Н
HCO ₃ ⁻	Р	Р	Р	Р	Р	Р	Р	Р	Р	?	?	Р	?	?	?	?	?	?	?	?	?	?	?
CH ₃ COO ⁻	Р	Р	Р	Р	Р	Р	Р	Р	Р	-	Р	Р	-	Р	Р	Р	Р	Р	Р	Р	Р	-	Р
SiO ₃ ²⁻	Н	Н	Р	Р	?	Н	Н	Н	Н	?	?	Н	?	?	?	?	Н	Н	?	?	Н	?	?

“Р” – растворяется (> 1 г на 100 г H₂O)

“М” – мало растворяется (от 0,1 г до 1 г на 100 г H₂O)

“Н” – не растворяется (меньше 0,01 г на 1000 г воды)

“-” – в водной среде разлагается

“?” – нет достоверных сведений о существовании соединений

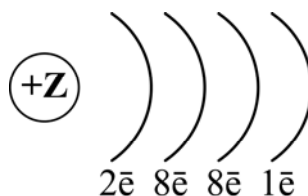
1) Выберите два утверждения, в которых говорится о хлоре как о химическом элементе.

- 1) В организме человека и животных хлор содержится в основном в межклеточных жидкостях.
- 2) Температура кипения хлора составляет $-34\text{ }^{\circ}\text{C}$.
- 3) Хлор непосредственно реагирует почти со всеми металлами.
- 4) Хлор вытесняет бром и иод из их соединений с водородом и металлами.
- 5) Минимальная потребность человека в хлоре составляет около 800 мг в сутки.

Запишите номера выбранных ответов.

Ответ:

2) На рисунке изображена схема распределения электронов по электронным слоям атома некоторого химического элемента.



Запишите в таблицу номер периода (X), в котором данный химический элемент расположен в Периодической системе Д.И. Менделеева, и величину заряда ядра (Y) его атома. (Для записи ответа используйте арабские цифры.)

Ответ:

X	Y

3) Расположите химические элементы

- 1) бор 2) углерод 3) алюминий

в порядке уменьшения электроотрицательности их атомов.

Запишите номера элементов в соответствующем порядке.

Ответ: \rightarrow \rightarrow

4

Установите соответствие между формулой соединения и степенью окисления кислорода в этом соединении: к каждой позиции, обозначенной буквой, подберите соответствующую позицию, обозначенную цифрой.

ФОРМУЛА СОЕДИНЕНИЯ

СТЕПЕНЬ ОКИСЛЕНИЯ
КИСЛОРОДА

1) +2



2) -2



3) -1

4) +1

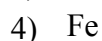
Запишите в таблицу выбранные цифры под соответствующими буквами.

Ответ:

А	Б	В

5

Из предложенного перечня выберите два вещества с металлической связью.



Запишите номера выбранных ответов.

Ответ.

6

Какие два утверждения верны для характеристики как лития, так и кальция?

1) Электроны в атоме расположены на трёх электронных слоях.

2) Соответствующий гидроксид является основанием.

3) В соединениях проявляют только положительную степень окисления.

4) Значение электроотрицательности больше, чем у водорода.

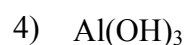
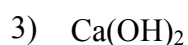
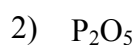
5) Химический элемент образует высший оксид состава ЭО.

Запишите номера выбранных ответов.

Ответ.

7

Из предложенного перечня веществ выберите кислотный оксид и основание.



Запишите в поле ответа сначала номер кислотного оксида, а затем номер основания.

Ответ.

8

Какие два из перечисленных веществ вступают в реакцию с оксидом фосфора(III)?

- 1) NaOH
- 2) SO₂
- 3) O₂
- 4) BaCl₂
- 5) NH₄NO₃

Запишите номера выбранных ответов.

Ответ.

--	--

9

Установите соответствие между реагирующими веществами и продуктами их взаимодействия: к каждой позиции, обозначенной буквой, подберите соответствующую позицию, обозначенную цифрой.

РЕАГИРУЮЩИЕ ВЕЩЕСТВА

- А) CuO + H₂SO₄ →
- Б) Cu(OH)₂ + H₂SO₄ →
- В) Cu + H₂SO₄ →

ПРОДУКТЫ
ВЗАИМОДЕЙСТВИЯ

- 1) → CuSO₄ + H₂
- 2) → CuSO₄ + H₂O
- 3) → CuSO₄ + SO₂ + H₂O
- 4) → CuSO₄ + SO₂ + H₂
- 5) → CuO + SO₂ + H₂O

Запишите в таблицу выбранные цифры под соответствующими буквами.

Ответ:

А	Б	В

10

Установите соответствие между веществом и реагентами, с каждым из которых оно может вступать в реакцию: к каждой позиции, обозначенной буквой, подберите соответствующую позицию, обозначенную цифрой.

ВЕЩЕСТВО

- А) Fe
- Б) Ba(OH)₂
- В) Al(NO₃)₃

РЕАГЕНТЫ

- 1) Zn, CuO
- 2) KOH, Na₃PO₄
- 3) AgNO₃, O₂
- 4) Al₂O₃, CO₂

Запишите в таблицу выбранные цифры под соответствующими буквами.

Ответ:

А	Б	В

11

Из предложенного перечня выберите две пары веществ, между которыми протекает реакция соединения.

- 1) магний и нитрат железа(III)
- 2) оксид серы(VI) и оксид кальция
- 3) оксид меди(II) и соляная кислота
- 4) железо и хлор
- 5) кальций и вода

Запишите номера выбранных ответов.

Ответ.

12

Установите соответствие между реагирующими веществами и признаком протекающей между ними реакции: к каждой позиции, обозначенной буквой, подберите соответствующую позицию, обозначенную цифрой.

РЕАГИРУЮЩИЕ ВЕЩЕСТВА

- А) CuO и H_2SO_4 (р-р)
- Б) FeCl_2 (р-р) и $\text{Ca}(\text{OH})_2$ (р-р)
- В) NaOH (р-р) и CuSO_4 (р-р)

ПРИЗНАК РЕАКЦИИ

- 1) выпадение голубого осадка
- 2) выпадение серо-зелёного осадка
- 3) выпадение белого осадка
- 4) изменение окраски раствора

Запишите в таблицу выбранные цифры под соответствующими буквами.

Ответ:

А	Б	В
<input type="text"/>	<input type="text"/>	<input type="text"/>

13

При внесении в воду каких двух из представленных веществ образуются хлорид-анионы?

- 1) CCl_4
- 2) AlCl_3
- 3) KCl
- 4) KClO
- 5) KClO_3

Запишите номера выбранных ответов.

Ответ.

14

Выберите два исходных вещества, взаимодействию которых соответствует сокращённое ионное уравнение реакции



- 1) $\text{Al}_2(\text{SO}_4)_3$
- 2) AlPO_4
- 3) $\text{Ba}(\text{OH})_2$
- 4) Al_3O_3
- 5) LiOH
- 6) $\text{Cu}(\text{OH})_2$

Запишите номера выбранных ответов.

Ответ.

--	--

15

Установите соответствие между схемой процесса, происходящего в окислительно-восстановительной реакции, и названием этого процесса: к каждой позиции, обозначенной буквой, подберите соответствующую позицию, обозначенную цифрой.

СХЕМА ПРОЦЕССА

НАЗВАНИЕ ПРОЦЕССА

- А) $2\text{N}^{-3} \rightarrow \text{N}_2^0$
- Б) $\text{Fe}^{+3} \rightarrow \text{Fe}^{+2}$
- В) $\text{I}_2^0 \rightarrow 2\text{I}^{+5}$

- 1) окисление
- 2) восстановление

Запишите в таблицу выбранные цифры под соответствующими буквами.

Ответ:

А	Б	В

16

Из перечисленных суждений о правилах работы в лаборатории и методах разделения смесей выберите верное(-ые) суждение(-я).

- 1) Отбор жидких веществ из исходной склянки осуществляют с помощью пипетки.
- 2) При добавлении к раствору соляной кислоты гранул цинка необходимо надеть защитные очки.
- 3) Для разделения смеси воды и древесных стружек можно использовать метод фильтрования.
- 4) Просыпанный на стол порошок оксида кальция запрещается возвращать в исходную ёмкость.

Запишите в поле ответа номер(а) верного(-ых) суждения(-й).

Ответ: _____.

17

Установите соответствие между двумя веществами, взятыми в виде водных растворов, и реактивом, с помощью которого можно различить эти два вещества: к каждой позиции, обозначенной буквой, подберите соответствующую позицию, обозначенную цифрой.

ВЕЩЕСТВА

- А) K_2SO_4 и $MgSO_4$
 Б) $Ba(OH)_2$ и $BaCl_2$
 В) $FeSO_4$ и $Fe_2(SO_4)_3$

РЕАКТИВ

- 1) HCl
 2) $NaOH$
 3) $Ba(NO_3)_2$
 4) фенолфталеин

Запишите в таблицу выбранные цифры под соответствующими буквами.

Ответ:

А	Б	В

Задания 18 и 19 выполняются с использованием следующего текста.

Стекло – один из самых древних материалов. Исследованием стекла и способами изготовления различных видов стекла занимался Михаил Васильевич Ломоносов. Им был предложен метод получения стекла, который заключался в плавлении смеси кварцевого песка, соды (карбоната натрия) и известняка (карбоната кальция). В результате получилось вещество состава $Na_2CaSi_6O_{14}$, которое можно представить как соединение оксидов: $Na_2O \cdot CaO \cdot 6SiO_2$.

18

Вычислите массовую долю (в процентах) натрия в стекле указанного состава. Запишите число с точностью до десятых.

Ответ: _____ %.

19

Вычислите массу (в килограммах) стекла, если в нём содержится 28,8 кг натрия. Запишите число с точностью до целых.

Ответ: _____ кг.

22

После пропускания через раствор гидроксида калия 0,448 л сернистого газа (н.у.) получили 79 г раствора сульфита калия. Вычислите массовую долю соли в полученном растворе.

В ответе запишите уравнение реакции, о которой идёт речь в условии задачи, и приведите все необходимые вычисления (указывайте единицы измерения искомых физических величин).

Решение.

Ответ: