

Всероссийская проверочная работа
по профильному учебному предмету «ХИМИЯ»
для обучающихся первых курсов по очной форме обучения по образовательным
программам среднего профессионального образования на базе основного общего
образования

Инструкция по выполнению работы

На выполнение работы по химии отводится 2 часа (120 минут). Работа включает в себя 22 задания.

Ответы на задания запишите в поля ответов в тексте работы. В случае записи неверного ответа зачеркните его и запишите рядом новый.

При выполнении работы разрешается использовать следующие дополнительные материалы:

- Периодическая система химических элементов Д.И. Менделеева;
- таблица растворимости кислот, солей и оснований в воде;
- ряд активности металлов / электрохимический ряд напряжений;
- непрограммируемый калькулятор.

При необходимости можно пользоваться черновиком. Записи в черновике проверяться и оцениваться не будут.

Советуем выполнять задания в том порядке, в котором они даны. Для экономии времени пропускайте задание, которое не удаётся выполнить сразу, и переходите к следующему. Если после выполнения всей работы у Вас останется время, то Вы сможете вернуться к пропущенным заданиям.

Баллы, полученные Вами за выполненные задания, суммируются. Постарайтесь выполнить как можно больше заданий и набрать наибольшее количество баллов.

Желаем успеха!

Таблица для внесения баллов участника

Номер задания	1	2	3	4	5	6	7	8	9	10	11	12	13	14	15	16
Баллы																
Номер задания	17	18	19	20	21	22	Сумма баллов	Отметка за работу								
Баллы																

Периодическая система химических элементов Д.И. Менделеева

		Г р у п п ы																	
		I	II	III	IV	V	VI	VII	VIII										
П е р и о д ы	1	H 1,008 Водород																He 4,00 Гелий	
	2	Li 6,94 Литий	Be 9,01 Бериллий	B 10,81 Бор	C 12,01 Углерод	N 14,00 Азот	O 16,00 Кислород	F 19,00 Фтор	Ne 20,18 Неон										
	3	Na 22,99 Натрий	Mg 24,31 Магний	Al 26,98 Алюминий	Si 28,09 Кремний	P 30,97 Фосфор	S 32,06 Сера	Cl 35,45 Хлор	Ar 39,95 Аргон										
	4	K 39,10 Калий	Ca 40,08 Кальций	Sc 44,96 Скандий	Ti 47,90 Титан	V 50,94 Ванадий	Cr 52,00 Хром	Mn 54,94 Марганец	Fe 55,85 Железо	Co 58,93 Кобальт	Ni 58,69 Никель								
	5	Rb 85,47 Рубидий	Sr 87,62 Стронций	Y 88,91 Итрий	Zr 91,22 Цирконий	Nb 92,91 Ниобий	Mo 95,94 Молибден	Tc 98,91 Технеций	Ru 101,07 Рутений	Rh 102,91 Родий	Pd 106,42 Палладий								
	6	Cs 132,91 Цезий	Ba 137,33 Барий	La * 138,91 Лантан	Hf 178,49 Гафний	Ta 180,95 Тантал	W 183,85 Вольфрам	Re 186,21 Рений	Os 190,2 Осмий	Ir 192,22 Иридий	Pt 195,08 Платина								
	7	Au 196,97 Золото	Hg 200,59 Ртуть	Tl 204,38 Таллий	Pb 207,2 Свинец	Bi 208,98 Висмут	Po [209] Полоний	At [210] Астат	Hs [269] Хассий	Mt [268] Мейтнерий	Ds [271] Дармштадтий								
		Rg [280] Рентгений	Cn [285] Коперниций	Nh [286] Нихоний	Fl [289] Флеровий	Mc [290] Московский	Lv [293] Ливерморий	Ts [294] Теннесси											Og [294] Оганесон

* Лантаноиды

58	Ce 140 Церий	59	Pr 141 Празеодим	60	Nd 144 Неодим	61	Pm [145] Прометий	62	Sm 150 Самарий	63	Eu 152 Европий	64	Gd 157 Гадолиний	65	Tb 159 Тербий	66	Dy 162,5 Диспрозий	67	Ho 165 Гольмий	68	Er 167 Эрбий	69	Tm 169 Тулий	70	Yb 173 Иттербий	71	Lu 175 Лютеций
----	------------------------	----	----------------------------	----	-------------------------	----	-----------------------------	----	--------------------------	----	--------------------------	----	----------------------------	----	-------------------------	----	------------------------------	----	--------------------------	----	------------------------	----	------------------------	----	---------------------------	----	--------------------------

** АКТИНОИДЫ

90	Th 232 Торий	91	Pa 231 Протактиний	92	U 238 Уран	93	Np 237 Нептуний	94	Pu [244] Плутоний	95	Am [243] Америций	96	Cm [247] Кюрий	97	Bk [247] Берклий	98	Cf [251] Калифорний	99	Es [252] Эйнштейний	100	Fm [257] Фермий	101	Md [258] Менделеевий	102	No [259] Нобелий	103	Lr [262] Лоуренсий
----	------------------------	----	------------------------------	----	----------------------	----	---------------------------	----	-----------------------------	----	-----------------------------	----	--------------------------	----	----------------------------	----	-------------------------------	----	-------------------------------	-----	---------------------------	-----	--------------------------------	-----	----------------------------	-----	------------------------------

РЯД АКТИВНОСТИ МЕТАЛЛОВ / ЭЛЕКТРОХИМИЧЕСКИЙ РЯД НАПРЯЖЕНИЙ

Li Rb K Ba Sr Ca Na Mg Al Mn Zn Cr Fe Cd Co Ni Sn Pb (H) Sb Bi Cu Hg Ag Pt Au



активность металлов уменьшается

РАСТВОРИМОСТЬ КИСЛОТ, СОЛЕЙ И ОСНОВАНИЙ В ВОДЕ

	H ⁺	Li ⁺	K ⁺	Na ⁺	NH ₄ ⁺	Ba ²⁺	Ca ²⁺	Mg ²⁺	Sr ²⁺	Al ³⁺	Cr ³⁺	Fe ²⁺	Fe ³⁺	Ni ²⁺	Co ²⁺	Mn ²⁺	Zn ²⁺	Ag ⁺	Hg ²⁺	Pb ²⁺	Sn ²⁺	Cu ²⁺	
OH ⁻		Р	Р	Р	Р	Р	М	Н	М	Н	Н	Н	Н	Н	Н	Н	Н	Н	-	-	Н	Н	Н
F ⁻	Р	М	Р	Р	Р	М	Н	Н	Н	М	Н	Н	Н	Р	Р	Р	Р	Р	Р	-	Н	Р	Р
Cl ⁻	Р	Р	Р	Р	Р	Р	Р	Р	Р	Р	Р	Р	Р	Р	Р	Р	Р	Р	Н	Р	М	Р	Р
Br ⁻	Р	Р	Р	Р	Р	Р	Р	Р	Р	Р	Р	Р	Р	Р	Р	Р	Р	Р	Н	М	М	Р	Р
I ⁻	Р	Р	Р	Р	Р	Р	Р	Р	Р	Р	?	Р	?	Р	Р	Р	Р	Р	Н	Н	Н	М	?
S ²⁻	Р	Р	Р	Р	Р	-	-	-	Н	-	-	Н	-	Н	Н	Н	Н	Н	Н	Н	Н	Н	Н
HS ⁻	Р	Р	Р	Р	Р	Р	Р	Р	Р	?	?	?	?	?	?	?	?	?	?	?	?	?	?
SO ₃ ²⁻	Р	Р	Р	Р	Р	Н	Н	М	Н	?	-	Н	?	Н	Н	?	М	Н	Н	Н	Н	?	?
HSO ₃ ⁻	Р	?	Р	Р	Р	Р	Р	Р	Р	?	?	?	?	?	?	?	?	?	?	?	?	?	?
SO ₄ ²⁻	Р	Р	Р	Р	Р	Н	М	Р	Н	Р	Р	Р	Р	Р	Р	Р	Р	М	М	-	Н	Р	Р
HSO ₄ ⁻	Р	Р	Р	Р	Р	?	?	?	-	?	?	?	?	?	?	?	?	?	?	?	?	?	?
NO ₃ ⁻	Р	Р	Р	Р	Р	Р	Р	Р	Р	Р	Р	Р	Р	Р	Р	Р	Р	Р	Р	Р	Р	-	Р
NO ₂ ⁻	Р	Р	Р	Р	Р	Р	Р	Р	Р	?	?	?	?	?	?	?	?	?	М	?	?	?	?
PO ₄ ³⁻	Р	Н	Р	Р	-	Н	Н	Н	Н	Н	Н	Н	Н	Н	Н	Н	Н	Н	Н	Н	Н	Н	Н
HPO ₄ ²⁻	Р	?	Р	Р	Р	Н	Н	М	Н	?	?	Н	?	?	?	?	?	?	?	?	М	Н	?
H ₂ PO ₄ ⁻	Р	Р	Р	Р	Р	Р	Р	Р	Р	?	?	Р	?	?	?	?	Р	Р	Р	?	-	?	?
CO ₃ ²⁻	Р	Р	Р	Р	Р	Н	Н	Н	Н	?	?	Н	-	Н	Н	Н	Н	Н	Н	Н	Н	?	Н
HCO ₃ ⁻	Р	Р	Р	Р	Р	Р	Р	Р	Р	?	?	Р	?	?	?	?	?	?	?	?	?	?	?
CH ₃ COO ⁻	Р	Р	Р	Р	Р	Р	Р	Р	Р	-	Р	Р	-	Р	Р	Р	Р	Р	Р	Р	Р	-	Р
SiO ₃ ²⁻	Н	Н	Р	Р	?	Н	Н	Н	Н	?	?	Н	?	?	?	?	Н	Н	?	?	Н	?	?

“Р” – растворяется (> 1 г на 100 г H₂O)

“М” – мало растворяется (от 0,1 г до 1 г на 100 г H₂O)

“Н” – не растворяется (меньше 0,01 г на 1000 г воды)

“-” – в водной среде разлагается

“?” – нет достоверных сведений о существовании соединений

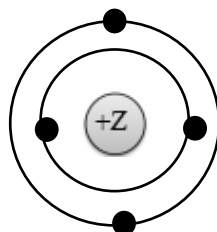
1 Выберите два утверждения, в которых говорится о кальции как о простом веществе.

- 1) Кальций имеет небольшую плотность, и его можно резать ножом.
- 2) Кальций занимает пятое место по распространённости в природе.
- 3) Кальций способен вытеснить водород из воды.
- 4) Жёсткость воды обусловлена наличием в воде солей кальция.
- 5) Недостаток кальция в костях человека вызывает заболевания.

Запишите номера выбранных ответов.

Ответ:

2 На приведённом рисунке изображена модель атома химического элемента.



Запишите в таблицу номер периода (X) и номер группы (Y), в которой данный химический элемент расположен в Периодической системе Д.И. Менделеева. (Для записи ответа используйте арабские цифры.)

Ответ:

X	Y

3 Расположите химические элементы –

- 1) сера 2) кремний 3) хлор

в порядке увеличения их атомного радиуса.

Запишите указанные номера элементов в соответствующем порядке.

Ответ: → →

4

Установите соответствие между соединением и степенью окисления железа в этом соединении: к каждой позиции, обозначенной буквой, подберите соответствующую позицию, обозначенную цифрой.

СОЕДИНЕНИЕ	СТЕПЕНЬ ОКИСЛЕНИЯ ЖЕЛЕЗА
А) FeO	1) +6
Б) FeS	2) +2
В) KFeO ₂	3) +3
	4) +4

Запишите в таблицу выбранные цифры под соответствующими буквами.

Ответ:

А	Б	В

5

Из предложенного перечня выберите два вещества с ионной связью.

- 1) SO₃
- 2) K₂O
- 3) HCl
- 4) NH₃
- 5) CaF₂

Запишите номера выбранных ответов.

Ответ.

6

Какие два утверждения верны для характеристики как углерода, так и натрия?

- 1) Электроны в атоме расположены на трёх электронных слоях.
- 2) Соответствующее простое вещество является металлом.
- 3) Химический элемент образует амфотерный оксид.
- 4) Значение электроотрицательности меньше, чем у кислорода.
- 5) Химический элемент образует соединения как с кислородом, так и с водородом.

Запишите номера выбранных ответов.

Ответ.

7

Из предложенного перечня веществ выберите кислоту и кислотный оксид.

- 1) HNO₂
- 2) NaClO₃
- 3) CO
- 4) NH₄HSO₄
- 5) SO₂

Запишите в поле ответа сначала номер кислоты, а затем номер кислотного оксида.

Ответ.

8

Из предложенного перечня выберите два вещества, с которыми реагирует оксид меди(II).

- 1) NaNO_3
- 2) O_2
- 3) H_2SO_4
- 4) H_2O
- 5) SO_3

Запишите номера выбранных ответов.

Ответ.

--	--

9

Установите соответствие между реагирующими веществами и возможным(и) продуктом(-ами) их взаимодействия: к каждой позиции, обозначенной буквой, подберите соответствующую позицию, обозначенную цифрой.

РЕАГИРУЮЩИЕ ВЕЩЕСТВА

- А) K_2O и H_2O
- Б) K и H_2O
- В) KOH и SO_3

ПРОДУКТ(Ы)
ВЗАИМОДЕЙСТВИЯ

- 1) K_2SO_4 и H_2O
- 2) KOH
- 3) KOH и H_2
- 4) K_2SO_4 и H_2
- 5) K_2SO_3 и H_2O

Запишите в таблицу выбранные цифры под соответствующими буквами.

Ответ:

А	Б	В

10

Установите соответствие между веществом и реагентами, с каждым из которых оно может вступать в реакцию: к каждой позиции, обозначенной буквой, подберите соответствующую позицию, обозначенную цифрой.

ВЕЩЕСТВО

- А) Al
- Б) FeO
- В) H_3PO_4

РЕАГЕНТЫ

- 1) CO , HNO_3 (конц.)
- 2) HCl , NaOH
- 3) CaO , KCl
- 4) Ba(OH)_2 , Mg

Запишите в таблицу выбранные цифры под соответствующими буквами.

Ответ:

А	Б	В

11

Из предложенного перечня выберите две пары веществ, между которыми протекает реакция обмена.

- 1) аммиак и фосфорная кислота
- 2) сульфат железа(II) и гидроксид калия
- 3) хлорид железа(II) и нитрат серебра
- 4) алюминий и гидроксид натрия
- 5) барий и вода

Запишите номера выбранных ответов.

Ответ.

--	--

12

Установите соответствие между реагирующими веществами и признаком протекающей между ними реакции: к каждой позиции, обозначенной буквой, подберите соответствующую позицию, обозначенную цифрой.

РЕАГИРУЮЩИЕ ВЕЩЕСТВА

- А) NaOH (р-р) и Zn
- Б) CuSO₄ и Zn
- В) HNO₃ (конц.) и Ag

ПРИЗНАК РЕАКЦИИ

- 1) выделение бурого газа
- 2) выделение бесцветного газа
- 3) выпадение голубого осадка
- 4) образование красного осадка

Запишите в таблицу выбранные цифры под соответствующими буквами.

Ответ:

А	Б	В

13

При полной диссоциации 1 моль каких двух из представленных веществ образуется 4 моль ионов?

- 1) сульфат хрома(III)
- 2) бромид меди(II)
- 3) нитрат железа(III)
- 4) гидроксид кальция
- 5) иодид алюминия

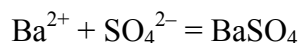
Запишите номера выбранных ответов.

Ответ.

--	--

14

Из предложенного перечня выберите названия двух веществ, взаимодействию которых в растворе соответствует сокращённое ионное уравнение реакции



- 1) барий
- 2) оксид бария
- 3) гидроксид бария
- 4) серная кислота
- 5) сульфат магния
- 6) сульфат калия

Запишите номера выбранных ответов.

Ответ.

--	--

15

Установите соответствие между схемой процесса, происходящего в окислительно-восстановительной реакции, и названием этого процесса: к каждой позиции, обозначенной буквой, подберите соответствующую позицию, обозначенную цифрой.

СХЕМА ПРОЦЕССА

НАЗВАНИЕ ПРОЦЕССА

- А) $\text{P}^{+3} \rightarrow \text{P}^{+5}$
 Б) $\text{Al}^{+3} \rightarrow \text{Al}^0$
 В) $\text{Mn}^{+7} \rightarrow \text{Mn}^{+2}$

- 1) окисление
- 2) восстановление

Запишите в таблицу выбранные цифры под соответствующими буквами.

Ответ:

А	Б	В

16

Из перечисленных суждений о правилах работы с веществами и оборудованием в лаборатории и быту выберите верное(-ые) суждение(-я).

- 1) Запрещается переливать излишек взятого для проведения реакции вещества обратно в исходную ёмкость.
- 2) Для проведения реакций между растворами обычно используют мерный цилиндр.
- 3) Для нагревания реакционной смеси пробиркодержатель закрепляют в верхней части пробирки.
- 4) Все реакции с растворами кислот проводят в резиновых перчатках.

Запишите в поле ответа номер(а) верного(-ых) суждения(-й).

Ответ: _____.

17

Установите соответствие между двумя веществами и реактивом, с помощью которого можно различить эти вещества: к каждой позиции, обозначенной буквой, подберите соответствующую позицию, обозначенную цифрой.

ВЕЩЕСТВА

- А) $ZnCl_2$ (р-р) и $BaCl_2$ (р-р)
 Б) Mg и Ag
 В) K_2SO_4 (р-р) и H_2SO_4 (р-р)

РЕАКТИВ

- 1) K_3PO_4
 2) Na_2SO_4
 3) HCl
 4) $MgCO_3$

Запишите в таблицу выбранные цифры под соответствующими буквами.

Ответ:

А	Б	В

Задания 18 и 19 выполняются с использованием следующего текста.

Сульфат меди(II) – химическое соединение ($CuSO_4$), соль серной кислоты, которое используется в качестве средств защиты растений, а также входит в состав многих витаминных комплексов, например Дуовита. Упаковка поливитаминного комплекса дуовит включает в себя 20 драже, содержащих в том числе и сульфат меди(II). В состав одного драже комплекса входит 1 мг меди.

18

Вычислите массовую долю (в процентах) меди в сульфате меди(II). Запишите число с точностью до целых.

Ответ: _____ %.

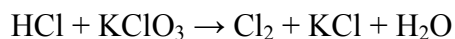
19

Вычислите массу (в миллиграммах) сульфата меди(II), которая содержится в одной упаковке препарата Дуовит. Запишите число с точностью до целых.

Ответ: _____ мг.

20

Используя метод электронного баланса, расставьте коэффициенты в уравнении реакции, схема которой



Определите окислитель и восстановитель.

Решение.



21

Дана схема превращений:



Напишите молекулярные уравнения реакций, с помощью которых можно осуществить указанные превращения. Для третьего превращения составьте сокращённое ионное уравнение реакции.

Решение.



22

Вычислите объём сероводорода (н.у.), который потребуется для полного осаждения ионов меди из 320 г 20%-ного раствора сульфата меди(II).

В ответе запишите уравнение реакции, о которой идёт речь в условии задачи, и приведите все необходимые вычисления (указывайте единицы измерения искомых физических величин).

Решение.

Ответ: