

Всероссийская проверочная работа
по профильному учебному предмету «ХИМИЯ»
для обучающихся по программам среднего профессионального образования,
завершивших в предыдущем учебном году освоение общеобразовательных предметов,
проходящих обучение по очной форме на базе основного общего образования.

Инструкция по выполнению работы

Проверочная работа включает в себя 15 заданий. На выполнение работы по химии отводится 1 час 30 минут (90 минут).

Оформляйте ответы в тексте работы согласно инструкциям к заданиям. В случае записи неверного ответа зачеркните его и запишите рядом новый.

При выполнении работы разрешается использовать следующие дополнительные материалы:

- Периодическая система химических элементов Д.И. Менделеева;
- таблица растворимости солей, кислот и оснований в воде;
- электрохимический ряд напряжений металлов;
- непрограммируемый калькулятор.

При выполнении заданий Вы можете использовать черновик. Записи в черновике проверяться и оцениваться не будут.

Советуем выполнять задания в том порядке, в котором они даны. Для экономии времени пропускайте задание, которое не удаётся выполнить сразу, и переходите к следующему. Если после выполнения всей работы у Вас останется время, Вы сможете вернуться к пропущенным заданиям.

Баллы, полученные Вами за выполненные задания, суммируются. Постарайтесь выполнить как можно больше заданий и набрать наибольшее количество баллов.

Желаем успеха!

Таблица для внесения баллов участника

Номер задания	1	2	3	4	5	6	7	8	9	10	11	12	13	14	15	Сумма баллов	Отметка за работу
Баллы																	

1

Одним из научных методов познания веществ и химических явлений является моделирование. Так, модели молекул отражают характерные признаки реальных объектов. На рис. 1–3 изображены модели молекул трёх веществ.

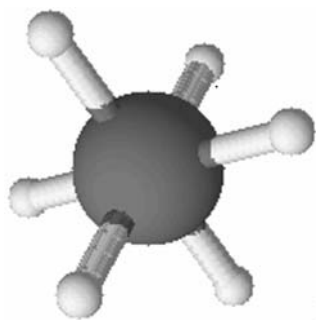


Рис. 1

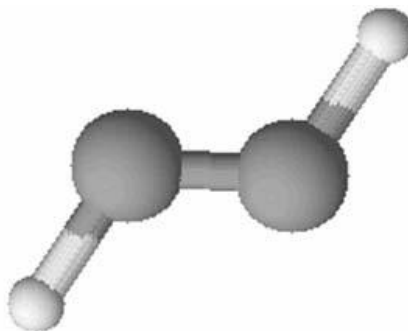


Рис. 2

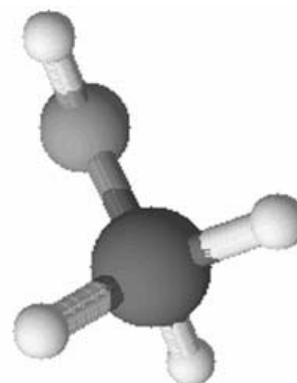


Рис. 3

Проанализируйте данные модели молекул веществ и определите вещество:

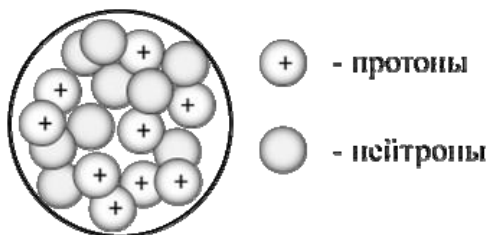
- 1) состав которого выражается формулой H_2O_2 ;
- 2) **не содержит** двухвалентных атомов.

Запишите в таблицу номера рисунков и укажите количество атомов в молекулах выбранных веществ.

Вещество	Номер рисунка	Количество атомов в молекуле
состав которого выражается формулой H_2O_2		
не содержит двухвалентных атомов		

2

На рисунке изображена модель ядра атома некоторого химического элемента.



Ознакомьтесь с предложенной моделью и выполните следующие задания:

- 1) запишите символ химического элемента, которому соответствует данная модель атома;
- 2) запишите заряд ядра этого элемента и номер периода в Периодической системе химических элементов Д.И. Менделеева, в котором расположен этот элемент;
- 3) определите, к металлам или неметаллам относится простое вещество, которое образует этот элемент.

Ответы запишите в таблицу.

Символ химического элемента	Заряд ядра	№ периода	Простое вещество

3

Периодическая система химических элементов Д.И. Менделеева – богатое хранилище информации о химических элементах, их свойствах и свойствах их соединений. Так, например, известно, что с увеличением порядкового номера химического элемента кислотный характер высших оксидов в периодах усиливается, а в группах ослабевает. Учитывая эти закономерности, расположите в порядке усиления кислотных свойств их высших оксидов следующие элементы: хлор, фосфор, сера. В ответе запишите символы элементов в нужной последовательности.

Ответ: _____

4

В приведённой ниже таблице дана некоторая информация о видах химической связи: ковалентной и ионной.

Химическая связь	
Ковалентная	Ионная
Образована атомами одного и того же элемента-неметалла или атомами различных неметаллов	Образована атомами металла и неметалла

Используя данную информацию определите, в каком из веществ: Br_2 , Zn , CaCl_2 присутствует ковалентная связь, а в каком – ионная.

Запишите в соответствующие ячейки формулы выбранных веществ:

Вещество с ковалентной связью	
Вещество с ионной связью	

~~Где-то~~

-7.

Азотная кислота (HNO_3) – одно из важнейших неорганических соединений. Её получают, растворяя в воде под давлением оксид азота(IV) (NO_2) в присутствии кислорода (O_2). В водном растворе азотная кислота полностью диссоциирует на ионы.

Как и все кислоты, азотная кислота реагирует с металлами, оксидами и гидроксидами металлов, основаниями, солями. При взаимодействии азотной кислоты с гидроксидом магния (Mg(OH)_2) получают нитрат магния ($\text{Mg(NO}_3)_2$). При действии азотной кислоты на аммиак (NH_3) получают нитрат аммония (NH_4NO_3) (аммиачную селитру, ценное минеральное удобрение). При нагревании нитрат аммония распадается на воду и оксид азота(I) (N_2O).

В химической лаборатории вы можете растворить в азотной кислоте мел (CaCO_3), оксид меди (CuO), оксид алюминия (Al_2O_3) или гидроксид алюминия (Al(OH)_3) – во всех этих случаях образуются соли азотной кислоты – нитраты.

5

Сложные неорганические вещества условно можно распределить, то есть классифицировать, по четырём группам, как показано на схеме. В эту схему для каждой из четырёх групп *впишите* по одной химической формуле веществ из тех, о которых говорится в приведённом выше тексте.



6

1) Составьте молекулярное уравнение реакции азотной кислоты с аммиаком.

Ответ: _____

2) Укажите, к какому типу реакций (соединения, разложения, замещения, обмена) относится эта реакция.

Ответ: _____

7

1) Составьте молекулярное уравнение упомянутой в тексте реакции азотной кислоты с мелом.

Ответ: _____

2) Укажите, к какому типу реакций (каталитическая, некаталитическая) относится эта реакция.

Ответ: _____

8

В сточных водах металлургического предприятия были обнаружены следующие ионы: Cu^{2+} , NO_3^- , Ba^{2+} . Для проведения качественного анализа к этой воде добавили раствор KOH .

1. Укажите, какое изменение можно наблюдать в растворе при проведении данного опыта, учитывая, что концентрация веществ является достаточной для проведения анализа.

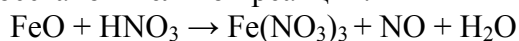
Ответ: _____

2. Запишите сокращённое ионное уравнение произошедшей химической реакции.

Ответ: _____

9

Дана схема окислительно-восстановительной реакции.



1. Составьте электронный баланс этой реакции.

Ответ: _____

2. Укажите окислитель и восстановитель.

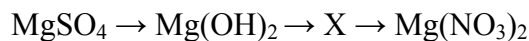
Ответ: _____

3. Расставьте коэффициенты в уравнении реакции.

Ответ: _____

10

Дана схема превращений:



Напишите молекулярные уравнения реакций, с помощью которых можно осуществить указанные превращения.

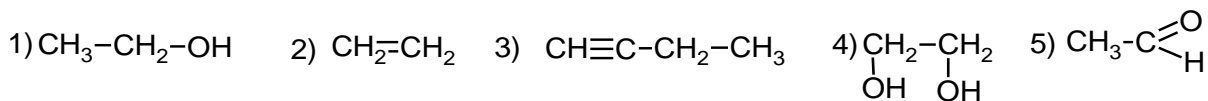
1) _____

2) _____

3) _____

~~Д.С.С.С.~~

ИИ



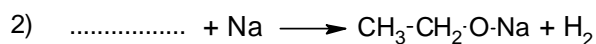
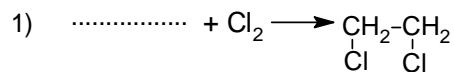
11

Из приведённого перечня выберите Алкин и двухатомный спирт. Запишите в таблицу номера, под которыми указаны эти соединения.

Алкин	Двухатомный спирт

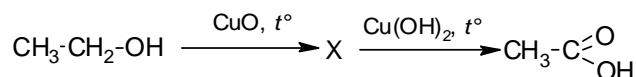
12

Составьте уравнения реакций: в предложенные схемы химических реакций впишите структурные формулы пропущенных веществ и расставьте коэффициенты.



13

Этановую кислоту применяют для получения лекарственных препаратов и душистых веществ, а также в качестве растворителя и консерванта используют в пищевой промышленности. В лабораторных условиях это вещество можно получить в соответствии с приведённой схемой превращений:



Определите вещество X, выбрав его из предложенного выше перечня веществ. Запишите уравнения двух реакций, с помощью которых можно осуществить эти превращения. Запишите название вещества X. При написании уравнений реакций используйте структурные формулы органических веществ.

1) _____

2) _____

Запишите название вещества X.

3) _____

14

Одним из важных понятий в экологии и химии является «предельно допустимая концентрация» (ПДК). ПДК — это такая концентрация вещества в окружающей среде, которая при повседневном воздействии в течение длительного времени не оказывает прямого или косвенного неблагоприятного влияния на настоящее или будущее поколение, не снижает работоспособности человека, не ухудшает его самочувствия и условий жизни.

ПДК акролеина в воздухе рабочей зоны составляет $0,2 \text{ мкг/дм}^3$.

При проведении химического анализа воздуха на предприятии по производству чипсов в цилиндрический сосуд с площадью дна $0,24 \text{ дм}^2$ и высотой $1,5 \text{ дм}$ была отобрана проба воздуха. Анализ показал, что в данном объеме воздуха содержится $0,09 \text{ мкг}$ акролеина. Определите и подтвердите расчётами, превышает ли концентрация акролеина в воздухе данного помещения значение ПДК. Предложите способ, позволяющий снизить концентрацию акролеина в помещении.

Ответ: _____

15

При консервировании фруктов плоды заливают сахарным сиропом с массовой долей сахара 40%. Рассчитайте массу сахара и массу воды, которые необходимы для приготовления $1,5 \text{ кг}$ такого сиропа. Запишите подробное решение задачи.

Ответ: _____
