

Всероссийская проверочная работа
ДЛЯ ОЦЕНКИ МЕТАПРЕДМЕТНЫХ РЕЗУЛЬТАТОВ ОБУЧЕНИЯ
в соответствии с федеральным государственным образовательным
стандартом среднего общего образования
для обучающихся по программам среднего профессионального образования,
завершивших в предыдущем учебном году освоение общеобразовательных предметов,
проходящих обучение по очной форме на базе основного общего образования.

Инструкция по выполнению работы

Проверочная работа включает в себя 22 задания.

На выполнение диагностической работы отводится 2 часа (120 минут).

Ответами к заданиям 1, 2, 5, 6, 8, 9–12, 17–21 являются цифра, последовательность цифр или слово (словосочетание).

Задания 3, 4, 7, 13–16, 22 требуют полного ответа (дать объяснение, описание или обоснование; высказать и аргументировать собственное мнение). В случае записи неверного ответа зачеркните его и запишите рядом новый.

При выполнении работы не разрешается пользоваться учебниками, рабочими тетрадами и другими справочными материалами.

При выполнении заданий Вы можете пользоваться черновиком. Записи в черновике проверяться и оцениваться не будут.

Советуем выполнять задания в том порядке, в котором они даны. В целях экономии времени пропускайте задание, которое не удаётся выполнить сразу, и переходите к следующему. Если после выполнения всей работы у Вас останется время, то Вы сможете вернуться к пропущенным заданиям.

Баллы, полученные Вами за выполненные задания, суммируются. Постарайтесь выполнить как можно больше заданий и набрать наибольшее количество баллов.

Желаем успеха!

Таблица для внесения баллов участника

Номер задания	1	2	3	4	5	6	7	8	9	10	11	12	13	14
Баллы														
Номер задания	15(1)	15(2)	16	17	18	19	20	21	22	Сумма баллов	Отметка за работу			
Баллы														

1

Установите соответствие между историческими деятелями и информацией, относящейся к ним: к каждой позиции первого столбца подберите соответствующую позицию из второго столбца.

ИСТОРИЧЕСКИЕ ДЕЯТЕЛИ

- А) А.Н. Пахмутова
Б) З.А. Космодемьянская
В) В.В. Терешкова

ИНФОРМАЦИЯ

- 1) комсомолка, казнённая фашистами в 1941 г., удостоенная звания Героя Советского Союза
2) советский, российский композитор
3) бригадир тракторной бригады, инициатор движения ударников в сельском хозяйстве
4) первая в мире женщина-космонавт

Запишите в таблицу выбранные цифры под соответствующими буквами.

□ Ответ:

А	Б	В

2

Прочитайте четыре предложения. Два из них содержат события, процессы, явления, являющиеся причинами (предпосылками). Другие два содержат последствия этих событий, процессов, явлений. Подберите для каждой из причин (предпосылок) соответствующее ей последствие. Номера соответствующих предложений запишите в таблицу.

- 1) Летом 1942 г. немецкие войска вышли к Дону, создав непосредственную угрозу Сталинграду.
2) Летом 1944 г. во Франции был открыт Второй фронт.
3) На Тегеранской конференции «Большая тройка» обсудила важнейшие вопросы, касающиеся координации совместных военных действий.
4) После поражения в битве под Москвой немецкое командование вынуждено было пересмотреть планы дальнейшего наступления с учётом усилившихся московских рубежей.

□	Номер предложения, содержащего			
	причину (предпосылку) 1	последствие 1	причину (предпосылку) 2	последствие 2
□	Ответ:			

3

Рассмотрите изображение и выполните задание.



Назовите фамилию руководителя СССР в период, когда произошло событие, юбилею которого посвящена данная марка.

Ответ: _____

Объясните, почему событие, юбилею которого посвящена данная марка, было важно а) для нашей страны, б) для международных отношений во всем мире.

Ответ: _____



4

Прочтите отрывок из доклада руководителя СССР на съезде КПСС.

«Почему массовые репрессии против актива всё больше усиливались после XVII съезда партии? Потому, что Сталин к этому времени настолько возвысился над партией и над народом, что он уже совершенно не считался ни с Центральным Комитетом, ни с партией. Если до XVII съезда он ещё признавал мнение коллектива, то после полного политического разгрома троцкистов, зиновьевцев, бухаринцев, когда в результате этой борьбы и побед социализма было достигнуто сплочение партии, сплочение народа, Сталин всё больше и больше переставал считаться с членами ЦК партии и даже с членами Политбюро. Сталин полагал, что он может теперь сам вершить все дела, а остальные нужны ему как статисты, всех других он держал в таком положении, что они должны были только служить и восхвалять его.

После злодейского убийства С.М. Кирова начались массовые репрессии и грубые нарушения социалистической законности. Вечером 1 декабря 1934 года по инициативе Сталина (без решения Политбюро – это было оформлено опросом только через 2 дня) было подписано секретарём Президиума ЦИК Енукидзе следующее постановление:

"1) Следственным властям – вести дела обвиняемых в подготовке или совершении террористических актов ускоренным порядком..."».

Укажите порядковый номер съезда КПСС, на котором был зачитан данный «секретный» доклад. После какого события, согласно данному отрывку, начались массовые нарушения законности? Укажите неофициальное образное название периода в истории СССР, в ходе которого был зачитан данный доклад, начавшегося после смерти критикуемого в докладе политического деятеля.

<p>Ответ: _____</p> <p>_____</p> <p>_____</p> <p>_____</p> <p>_____</p> <p>_____</p> <p>_____</p> <p>_____</p> <p>_____</p> <p>_____</p> <p>_____</p> <p>_____</p> <p>_____</p> <p>_____</p> <p>_____</p> <p>_____</p> <p>_____</p>

Стихотворения

№ 65 .

- 1) стихотворение «Жди меня»;
- 2) пьеса «Егор Булычов и другие»;

3)



4)



5

Какие из приведённых памятников культуры были созданы в XX в.? Выберите два памятника культуры и запишите в таблицу цифры, под которыми они указаны.

Ответ:

--	--

6

Создателем какого из приведённых памятников культуры является А.М. Горький? Укажите порядковый номер этого памятника культуры.

Ответ:

--

7

Рассмотрите изображение и выполните задание.

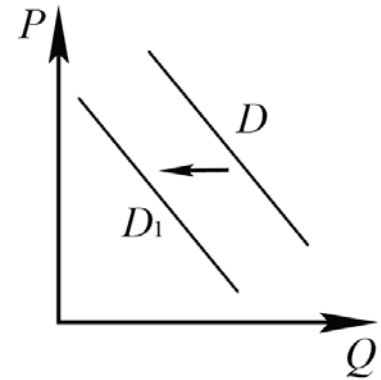


Укажите год, когда был создан данный плакат. Как события на Украине повлияли на выбор, которому посвящён изображённый плакат?

Ответ: _____

8

На рисунке отражено изменение спроса на модель телевизора на соответствующем рынке: линия спроса D переместилась в новое положение – D_1 . (P – цена; Q – количество.)



Какие из перечисленных факторов могут вызвать такое изменение? Запишите цифры, под которыми они указаны.

- 1) появление негативных отзывов о данной модели в Интернете
- 2) закрытие предприятий, выпускающих данную модель телевизоров
- 3) проведение удачной рекламной кампании
- 4) признание данной модели устаревшей
- 5) увеличение числа покупателей

Ответ: _____.

9

Установите соответствие между примерами и видами налогов и сборов согласно Налоговому кодексу РФ: к каждой позиции, данной в первом столбце, подберите соответствующую позицию из второго столбца.

ПРИМЕРЫ

- А) торговый сбор
- Б) государственная пошлина
- В) земельный налог
- Г) налог на имущество организаций
- Д) транспортный налог

ВИДЫ НАЛОГОВ И СБОРОВ В РФ

- 1) федеральные
- 2) региональные
- 3) местные

Запишите в таблицу выбранные цифры под соответствующими буквами.

Ответ:

А	Б	В	Г	Д

10

Что из перечисленного относится к конституционным обязанностям гражданина РФ? Запишите цифры, под которыми они указаны.

- 1) забота совершеннолетних трудоспособных детей о нетрудоспособных родителях
- 2) занятие предпринимательской деятельностью
- 3) обращение в органы государственной власти
- 4) уплата законно установленных налогов и сборов
- 5) сохранение исторического и культурного наследия

Ответ: _____.

11

Установите соответствие между полномочиями и субъектами государственной власти РФ, реализующими эти полномочия: к каждой позиции, данной в первом столбце, подберите соответствующую позицию из второго столбца.

ПОЛНОМОЧИЯ

- А) утверждение изменения границ между субъектами РФ
- Б) осуществление управления федеральной собственностью
- В) обеспечение исполнения федерального бюджета
- Г) утверждение военной доктрины РФ
- Д) назначение выборов Президента Российской Федерации

СУБЪЕКТЫ
ГОСУДАРСТВЕННОЙ ВЛАСТИ
РФ

- 1) Совет Федерации
- 2) Президент РФ
- 3) Правительство РФ

Запишите в таблицу выбранные цифры под соответствующими буквами.

Ответ:

А	Б	В	Г	Д

12

Накануне официальной регистрации брака совершеннолетние граждане РФ Нина и Олег решили заключить брачный договор. Найдите в приведённом списке позиции, связанные с формой и возможным содержанием брачного договора, и запишите цифры, под которыми они указаны.

- 1) распределение домашних обязанностей
- 2) нотариальное удостоверение
- 3) занятость и трудоустройство супругов
- 4) письменное оформление договора
- 5) способы участия в доходах друг друга
- 6) место жительства детей в случае развода родителей

Ответ: _____.

13

Совершеннолетний гражданин России Карасёв работает главным инженером на химическом комбинате. Уставный капитал предприятия разделён на определённое количество ценных бумаг, владельцы которых, в том числе Карасёв, ежегодно получают часть прибыли в виде дивидендов.

- 1) Какова организационно-правовая форма данного предприятия? (Укажите конкретный вид (тип) хозяйственного общества.)
- 2) Как владельцы ценных бумаг несут риск убытков, связанных с деятельностью данного предприятия?
- 3) Отвечают ли они по обязательствам данного предприятия?
- 4) Какие обязанности возложены на Карасёва как работника данного предприятия? (Назовите любые две обязанности работника в соответствии с Трудовым кодексом РФ.)

Ответ на первый вопрос: _____

Ответ на второй вопрос: _____

Ответ на третий вопрос: _____

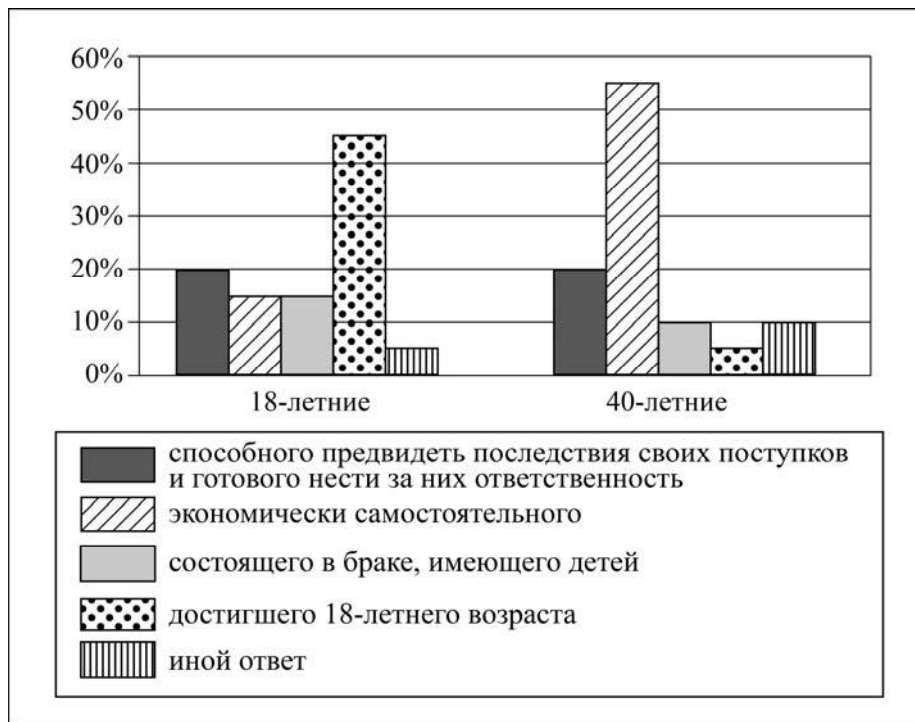
Ответ на четвёртый вопрос: _____



14

В ходе социологического опроса граждан страны Z им задавали вопрос: «Какого человека можно назвать взрослым?»

Полученные результаты (в % от числа опрошенных) представлены в виде диаграммы.



Сформулируйте по одному выводу: а) о сходстве; б) о различии в позициях групп опрошенных. Выскажите предположение о том, чем объясняется: а) сходство; б) различие.

□ Ответ: _____

15

Человек проживает в обычной квартире многоквартирного дома. В квартире проведена электросеть, установлена газовая плита. Определяется сильный запах газа. Назовите не менее четырёх действий безопасного поведения, которые гражданин должен предпринять при угрозе взрыва и отравления бытовым газом.

Ответ: _____

16

Если, прогуливаясь по лесу, Вы увидели поваленные ветром деревья – это лесной бурелом. Двигаться в буреломе опасно, но, чтобы не сбиться с маршрута, нужно его преодолеть. Объясните, в чём состоит опасность передвижения по бурелому. Назовите не менее двух действий, которые нужно предпринять, если человек в лесу преодолевает бурелом.

Ответ: _____

17

Определите регион России по его краткому описанию.

Особенностью географического положения этой области является наличие выхода к государственной границе РФ. Большая часть её территории области находится в зоне степи, в бассейнах двух рек, относящихся к бассейну внутреннего стока. На территории области разведаны месторождения нефти, природного газа, руд чёрных и цветных металлов. Ведущие отрасли промышленности: топливная, чёрная и цветная металлургия, машиностроение и химическая промышленность. Хорошо развито сельское хозяйство.

Ответ: _____.

18

Прочитайте приведённый ниже текст, в котором пропущен ряд слов. Выберите из предлагаемого списка слова, которые необходимо вставить на места пропусков.

Географические особенности населения Европейского Севера России

Общая численность населения района превышает 4,5 млн человек. Плотность населения ниже средней по России. Наиболее густонаселёнными являются _____ (А) и южная части района.

В национальном составе преобладают русские. Коренные народы Европейского Севера относятся к _____ (Б) и самодийской группам уральско-юкагирской языковой семьи.

Наиболее крупными по численности населения городами являются Архангельск, Вологда и _____ (В).

Выбирайте последовательно одно слово за другим, мысленно вставляя на места пропусков слова из списка в нужной форме. Обратите внимание на то, что слов в списке больше, чем Вам потребуется для заполнения пропусков. Каждое слово может быть использовано только один раз.

Список слов:

- 1) Череповец
- 2) Нижневартовск
- 3) финно-угорская
- 4) балтийская
- 5) восточная
- 6) западная

В данной ниже таблице приведены буквы, обозначающие пропущенные слова. Запишите в таблицу под каждой буквой номер выбранного Вами слова.

Ответ:

А	Б	В

19

Установите соответствие между субъектом РФ и его административным центром: к каждому элементу первого столбца подберите соответствующий элемент из второго столбца.

СУБЪЕКТ РФ

- А) Чувашская Республика
- Б) Республика Коми
- В) Свердловская область

АДМИНИСТРАТИВНЫЙ ЦЕНТР

- 1) Екатеринбург
- 2) Чебоксары
- 3) Петрозаводск
- 4) Сыктывкар

Запишите в таблицу выбранные цифры под соответствующими буквами.

Ответ:

А	Б	В

20

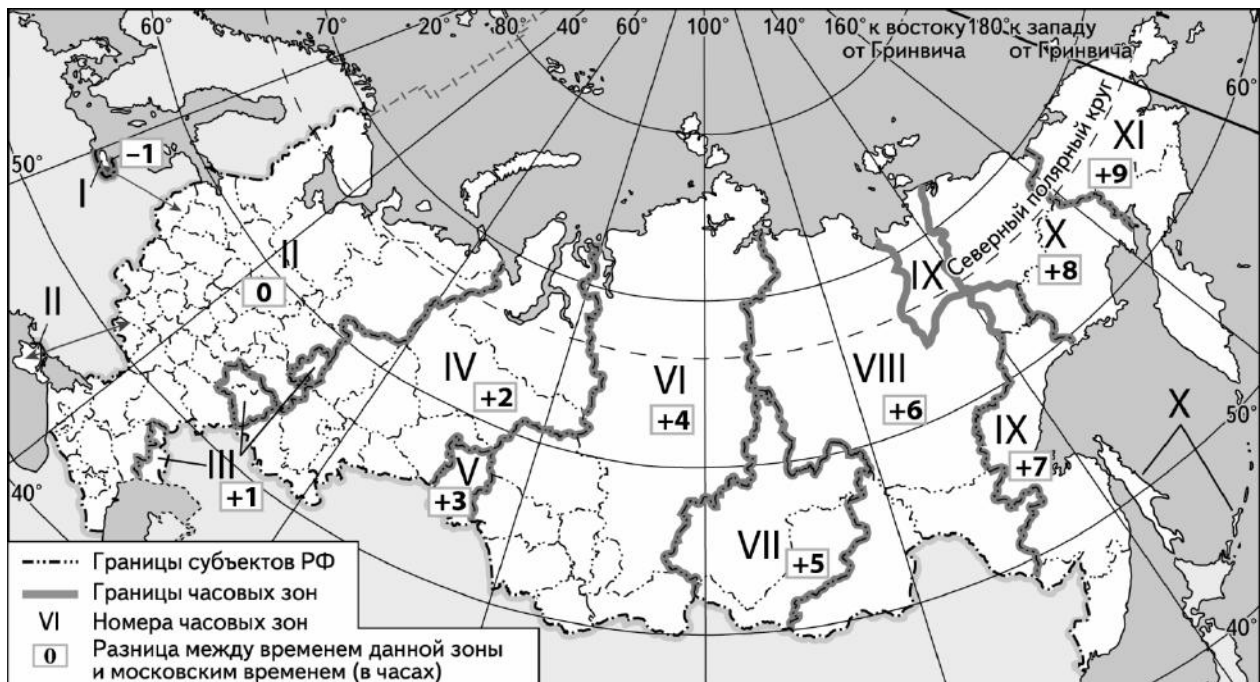
Потенциал российских регионов для развития туризма огромен. Каждый из них имеет рекреационные ресурсы, способные привлечь тысячи туристов из России и зарубежных стран. Определите субъект Российской Федерации по описанию его рекреационного потенциала.

«Визитная карточка данного региона и место притяжения для туристов со всего мира – это заповедник "Столбы", расположенный неподалеку от административного центра. Основной достопримечательностью заповедника являются живописные скалы, имеющие собственные название: "Дед", "Перья", "Слоник" и др. На севере субъекта расположено плато Путорана. На части этого плато, включённой в список Всемирного наследия ЮНЕСКО, сохранился полный набор субарктических и арктических экосистем, сохранившихся в условиях изолированной горной цепи, в том числе нетронутая тайга, лесотундра, тундра и арктические пустыни.»

Ответ: _____

21

Прямая трансляция парада на Красной площади в Москве 9 мая начнётся в 10 часов по московскому времени. Используя карту, определите, в каких из перечисленных регионов эта трансляция начнётся в 16 часов по местному времени их регионов. Запишите **цифры**, под которыми они указаны.



- 1) Пермский край
- 2) Амурская область
- 3) Тюменская область
- 4) Хабаровский край
- 5) Забайкальский край
- 6) Республика Хакасия

Ответ: _____

22

Портал «Госуслуги» (<https://www.gosuslugi.ru>) является одним из самых востребованных интернет-сервисов для решения вопросов, связанных с обращением в органы государственной власти Российской Федерации, различные ведомства и организации.

На портале возможны три уровня регистрации:

упрощённый – указываются контактные данные, доступ к услугам ограничен;

стандартный – указываются персональные данные, доступ к услугам ограничен;

подтверждённый – помимо указания персональных данных требуется процедура подтверждения личности.

Пользователю с подтверждённым уровнем регистрации доступен наиболее широкий набор услуг, включая выдачу различных персональных документов и справок.

Ответьте на следующие вопросы, связанные с использованием портала «Госуслуги».

1) Какие сведения (персональные данные) помимо ФИО должен указать гражданин при регистрации? Приведите не менее 4 различных позиций.

Ответ: _____

2) Каких рисков позволяет избежать ограничение по набору доступных услуг, введённое для пользователей со стандартным уровнем регистрации?

Ответ: _____

3) В чём удобство загрузки и хранения всех персональных данных на портале «Госуслуги» для гражданина, получившего подтверждённый уровень регистрации?

Ответ: _____

4) В чём удобство электронного способа получения справки по сравнению с очным визитом в соответствующее учреждение?

Ответ: _____

