

**Всероссийская проверочная работа**  
**ДЛЯ ОЦЕНКИ МЕТАПРЕДМЕТНЫХ РЕЗУЛЬТАТОВ ОБУЧЕНИЯ**  
**в соответствии с федеральным государственным образовательным**  
**стандартом среднего общего образования**  
**для обучающихся по программам среднего профессионального образования,**  
**завершивших в предыдущем учебном году освоение общеобразовательных предметов,**  
**проходящих обучение по очной форме на базе основного общего образования.**

**Инструкция по выполнению работы**

Проверочная работа включает в себя 22 задания.

На выполнение диагностической работы отводится 2 часа (120 минут).

Ответами к заданиям 1, 2, 5, 6, 8, 9–12, 17–21 являются цифра, последовательность цифр или слово (словосочетание).

Задания 3, 4, 7, 13–16, 22 требуют полного ответа (дать объяснение, описание или обоснование; высказать и аргументировать собственное мнение). В случае записи неверного ответа зачеркните его и запишите рядом новый.

При выполнении работы не разрешается пользоваться учебниками, рабочими тетрадями и другими справочными материалами.

При выполнении заданий Вы можете пользоваться черновиком. Записи в черновике проверяться и оцениваться не будут.

Советуем выполнять задания в том порядке, в котором они даны. В целях экономии времени пропускайте задание, которое не удаётся выполнить сразу, и переходите к следующему. Если после выполнения всей работы у Вас останется время, то Вы сможете вернуться к пропущенным заданиям.

Баллы, полученные Вами за выполненные задания, суммируются. Постарайтесь выполнить как можно больше заданий и набрать наибольшее количество баллов.

***Желаем успеха!***

*Таблица для внесения баллов участника*

Номер задания	1	2	3	4	5	6	7	8	9	10	11	12	13	14
Баллы														
Номер задания	15(1)	15(2)	16	17	18	19	20	21	22	Сумма баллов	Отметка за работу			
Баллы														

1

Установите соответствие между историческими деятелями и информацией, относящейся к ним: к каждой позиции первого столбца подберите соответствующую позицию из второго столбца.

## ИСТОРИЧЕСКИЕ ДЕЯТЕЛИ

- А) К.К. Рокоссовский  
Б) Б.Н. Ельцин  
В) В.И. Ленин

## ИНФОРМАЦИЯ

- 1) советский военачальник периода Великой Отечественной войны  
2) первый руководитель Совета Народных Комиссаров  
3) советский ученый, конструктор ракетно-космических систем  
4) первый Президент РФ

Запишите в таблицу выбранные цифры под соответствующими буквами.

□ Ответ:

А	Б	В

2

Прочитайте четыре предложения. Два из них содержат события, процессы, явления, являющиеся причинами (предпосылками). Другие два содержат последствия этих событий, процессов, явлений. Подберите для каждой из причин (предпосылок) соответствующее ей последствие. Номера соответствующих предложений запишите в таблицу.

- 1) Деятельность созданных большевиками комбедов вызвала недовольство крестьян и накалила обстановку в деревне.  
2) В ночь с 6 на 7 января 1917 г. ВЦИК принял Декрет о роспуске Учредительного собрания.  
3) На выборах в Учредительное собрание большевики получили лишь 25% голосов, значительно уступив партии эсеров.  
4) В декабре 1918 г. комбеды были распущены.

Номер предложения, содержащего				
причину (предпосылку) 1		последствие 1	причину (предпосылку) 2	
			последствие 2	
□	Ответ:			

3

Рассмотрите изображение и выполните задание.



Назовите фамилию руководителя СССР, явившегося инициатором процесса, которому посвящена данная марка.

Ответ: \_\_\_\_\_

Объясните, почему процесс, которому посвящена данная марка, был важен а) для внутривнутриполитического развития нашей страны, б) для международных отношений.

Ответ: \_\_\_\_\_

\_\_\_\_\_

\_\_\_\_\_

\_\_\_\_\_

\_\_\_\_\_

\_\_\_\_\_

\_\_\_\_\_

\_\_\_\_\_

\_\_\_\_\_

\_\_\_\_\_

\_\_\_\_\_



4

Прочтите отрывок из заявления советского руководства.

«В связи с невозможностью по состоянию здоровья исполнения \_\_\_\_\_ обязанностей Президента СССР и переходом в соответствии со статьёй 127 (7) Конституции СССР полномочий Президента Союза ССР к вице-президенту СССР Янаеву Геннадию Ивановичу;

в целях преодоления глубокого и всестороннего кризиса, политической, межнациональной и гражданской конфронтации, хаоса и анархии, которые угрожают жизни и безопасности граждан Советского Союза, суверенитету, территориальной целостности, свободе и независимости нашего Отечества;

исходя из результатов всенародного референдума о сохранении Союза Советских Социалистических Республик;

руководствуясь жизненно важными интересами народов нашей Родины, всех советских людей, заявляем:

...В соответствии со статьёй 127 (7) Конституции СССР и статьёй 2 Закона СССР "О правовом режиме чрезвычайного положения" и идя навстречу требованиям широких слоёв населения о необходимости принятия самых решительных мер по предотвращению сползания общества к общенациональной катастрофе, обеспечения законности и порядка, ввести чрезвычайное положение в отдельных местностях СССР на срок 6 месяцев с 4 часов по московскому времени 19 августа».

Укажите фамилию политического деятеля, пропущенную в отрывке. Какую форму непосредственного волеизъявления граждан страны называют авторы заявления? Укажите аббревиатуру, обозначающую орган государственной власти, созданный авторами данного заявления.

Ответ: \_\_\_\_\_

---

---

---

---

---

---

---

---

---

---

---

---

---

---

---

---

---

---

---

---

---

---

---

**Судьба человека**

№ 65 .

- 1) балет «Лебединое озеро»;
- 2) рассказ «Судьба человека»;



5) Какие из приведённых памятников культуры были созданы в XX в.? Выберите два памятника культуры и запишите в таблицу цифры, под которыми они указаны.

Ответ:

6) Одним из создателей какого из приведённых памятников культуры является М.А. Шолохов? Укажите порядковый номер этого памятника культуры.

Ответ:

7

Рассмотрите изображение и выполните задание.



Укажите великую российскую реку, на берегах которой произошло событие, которому посвящена данная монета. Какое значение имело данное событие?

Ответ: \_\_\_\_\_

\_\_\_\_\_

\_\_\_\_\_

\_\_\_\_\_

\_\_\_\_\_

\_\_\_\_\_

\_\_\_\_\_

\_\_\_\_\_

\_\_\_\_\_

\_\_\_\_\_

\_\_\_\_\_

\_\_\_\_\_

\_\_\_\_\_

\_\_\_\_\_

\_\_\_\_\_

\_\_\_\_\_

\_\_\_\_\_

\_\_\_\_\_

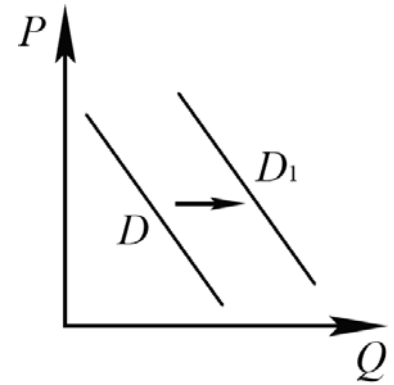
\_\_\_\_\_

\_\_\_\_\_

\_\_\_\_\_

8

На рисунке отражено изменение спроса на деловые костюмы на соответствующем рынке: линия спроса  $D$  переместилась в новое положение –  $D_1$ . ( $P$  – цена;  $Q$  – количество.)



Какие из перечисленных факторов могут вызвать такое изменение? Запишите цифры, под которыми они указаны.

- 1) рост численности офисных работников
- 2) ожидание повышения цен на деловые костюмы
- 3) появление моды на деловые костюмы
- 4) рост себестоимости производства деловых костюмов
- 5) рост цен на обувь, подходящую к деловому костюму

Ответ: \_\_\_\_\_.

9

Установите соответствие между примерами и видами налогов и сборов согласно Налоговому кодексу РФ: к каждой позиции, данной в первом столбце, подберите соответствующую позицию из второго столбца.

## ПРИМЕРЫ

- А) налог на имущество организаций
- Б) налог на доходы физических лиц
- В) водный налог
- Г) земельный налог
- Д) транспортный налог

## ВИДЫ НАЛОГОВ И СБОРОВ В РФ

- 1) федеральные
- 2) региональные
- 3) местные

Запишите в таблицу выбранные цифры под соответствующими буквами.

Ответ:

А	Б	В	Г	Д

10

Что из перечисленного относится к конституционным обязанностям гражданина РФ? Запишите цифры, под которыми они указаны.

- 1) уплата законно установленных налогов и сборов
- 2) забота трудоспособных детей, достигших 18 лет, о нетрудоспособных родителях
- 3) участие в референдуме
- 4) сохранение исторического и культурного наследия
- 5) бесплатное получение на конкурсной основе высшего образования в государственной образовательной организации

Ответ: \_\_\_\_\_.

11

Установите соответствие между вопросами и субъектами государственной власти РФ, к ведению которых эти вопросы относятся: к каждой позиции, данной в первом столбце, подберите соответствующую позицию из второго столбца.

## ВОПРОСЫ

- А) судостроительство, прокуратура  
 Б) федеральная государственная служба  
 В) координация вопросов здравоохранения  
 Г) защита исконной среды обитания и традиционного образа жизни малочисленных этнических общностей  
 Д) оборонное производство

СУБЪЕКТЫ  
ГОСУДАРСТВЕННОЙ ВЛАСТИ  
РФ

- 1) только федеральный центр  
 2) совместно федеральный центр и субъекты РФ

Запишите в таблицу выбранные цифры под соответствующими буквами.

Ответ:

А	Б	В	Г	Д

12

Роза и Роман решили заключить брачный договор. Какие отношения супругов согласно семейному законодательству РФ могут быть объектом регулирования брачного договора? Запишите **цифры**, под которыми они указаны.

- 1) способы участия в доходах друг друга  
 2) распределение бытовых обязанностей  
 3) права и обязанности по взаимному содержанию  
 4) права и обязанности супругов в отношении их детей  
 5) определение места жительства  
 6) порядок несения каждым супругом семейных расходов

Ответ: \_\_\_\_\_.



13

В государстве  $Z$  развиваются новейшие коммуникационные технологии и сервисы, внедряются инновации, осуществляется переход к электронике на всех уровнях производственной деятельности, постоянно возрастает роль науки и образования в жизни общества.

В ходе социологических опросов было установлено, что в государстве  $Z$  в период с 2013 по 2018 г. на 25% выросла доля учащихся школ, воспользовавшихся правом выбора наиболее удобной формы обучения в соответствии со своими целями и интересами. Школьники и их родители отмечают общую ориентированность системы образования на развитие и становление отношений взаимного уважения учащихся и педагогов, сохранение и укрепление здоровья учеников.

Социологические опросы показали, что в государстве  $Z$  преобладают семьи демократического типа.

Государство  $Z$  включает в себя восемь территориальных единиц, не обладающих политической самостоятельностью. Законодательную власть осуществляет парламент, а всенародно избираемый глава государства формирует правительство и возглавляет исполнительную власть.

1) К какому типу относится общество  $Z$ ?

2) Какую тенденцию развития образования иллюстрируют приведённые данные?

3) Что характеризует семью демократического типа? (Приведите любые две характеристики.)

4) Какой факт из условия задачи позволяет сделать вывод, что  $Z$  – унитарное государство?

Ответ на первый вопрос: \_\_\_\_\_

\_\_\_\_\_

Ответ на второй вопрос: \_\_\_\_\_

\_\_\_\_\_

Ответ на третий вопрос: \_\_\_\_\_

\_\_\_\_\_

Ответ на четвёртый вопрос: \_\_\_\_\_

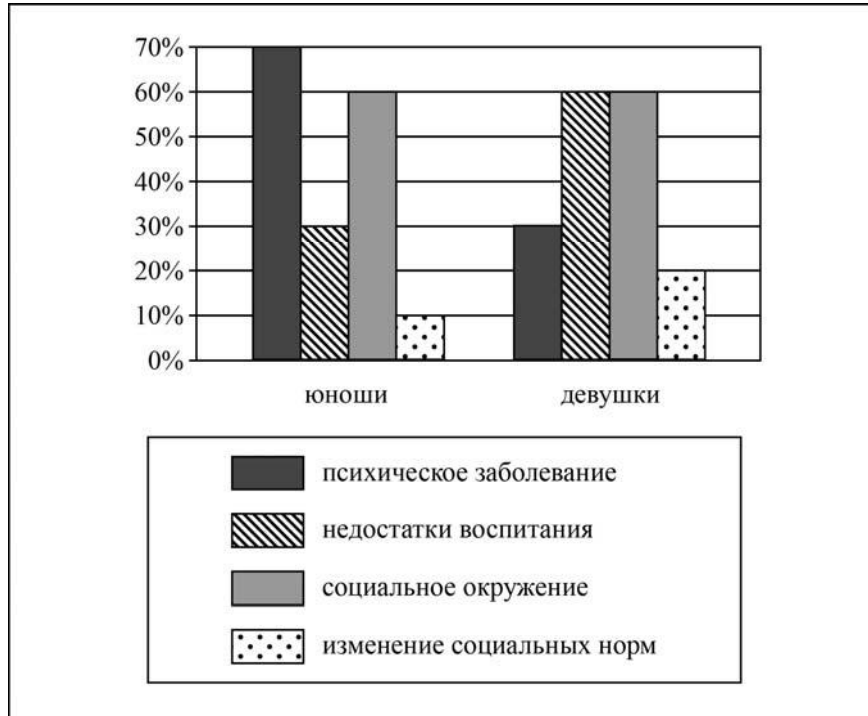
\_\_\_\_\_

\_\_\_\_\_

14

В ходе социологического опроса студентов психологического факультета университета города Z им задавался вопрос: «Какова основная причина отклоняющегося поведения молодёжи?» (можно было выбрать несколько ответов).

Результаты опроса (в % от числа отвечавших) представлены в виде диаграммы.



Сформулируйте по одному выводу: а) о сходстве; б) о различии в позициях групп опрошенных. Выскажите предположение о том, чем объясняются указанные Вами: а) сходство; б) различие.

Ответ: \_\_\_\_\_  
\_\_\_\_\_  
\_\_\_\_\_  
\_\_\_\_\_  
\_\_\_\_\_  
\_\_\_\_\_  
\_\_\_\_\_  
\_\_\_\_\_  
\_\_\_\_\_  
\_\_\_\_\_

15

Человек проживает в квартире многоквартирного дома на втором или более высоком этаже. В доме, в квартире, на лестнице произошло частичное обрушение здания. Назовите не менее четырёх действий, которые гражданин должен предпринять, чтобы не пострадать.

Ответ: \_\_\_\_\_

\_\_\_\_\_

\_\_\_\_\_

\_\_\_\_\_

\_\_\_\_\_

\_\_\_\_\_

\_\_\_\_\_

\_\_\_\_\_

\_\_\_\_\_

16

Находясь на прогулке в лесу или в горной местности, можно повстречать бешеное животное. Бешеные животные представляют опасность для здоровья человека. Объясните, в чём состоит опасность. Назовите не менее двух действий, которые нужно предпринять, если человека укусило бешеное животное.

Ответ: \_\_\_\_\_

\_\_\_\_\_

\_\_\_\_\_

\_\_\_\_\_

\_\_\_\_\_

\_\_\_\_\_

\_\_\_\_\_

\_\_\_\_\_

\_\_\_\_\_

17

Определите регион России по его краткому описанию.

При большой площади территории средняя плотность населения в этой области составляет менее 1 человека на 1 км<sup>2</sup>. Природные условия крайне неблагоприятные: среднегодовая температура воздуха отрицательная, зима длится 7–8 месяцев. Область богата полезными ископаемыми – много месторождений цветных, в том числе благородных и редких, металлов – золота, серебра, олова и вольфрама. Среди отраслей промышленности выделяются горнодобывающая (в том числе золотодобыча) и рыбная. Административный центр области – морской порт. Через него проходит основная часть грузов. Железных дорог на территории области нет.

Ответ: \_\_\_\_\_.

18

Прочитайте приведённый ниже текст, в котором пропущен ряд слов (словосочетаний). Выберите из предлагаемого списка слова (словосочетания), которые необходимо вставить на места пропусков.

### Особенности природы Европейского Юга России

Европейский Юг России имеет выход к нескольким морям. По рельефу делится на две части: равнинную и горную. Кавказские горы – это \_\_\_\_\_(А) горы. Здесь разведаны месторождения вольфрамо-молибденовых и свинцово-цинковых руд. На равнинной части географического района разведаны месторождения нефти, природного газа и \_\_\_\_\_(Б). Высочайшей вершиной Кавказских гор является гора Эльбрус, находящаяся на границе Кабардино-Балкарской Республики и \_\_\_\_\_(В).

Выбирайте последовательно одно слово (словосочетание) за другим, мысленно вставляя на места пропусков слова (словосочетания) из списка в нужной форме. Обратите внимание на то, что слов (словосочетаний) в списке больше, чем Вам потребуется для заполнения пропусков. Каждое слово (словосочетание) может быть использовано только один раз.

Список слов (словосочетаний):

- 1) древние
- 2) железные руды
- 3) молодые
- 4) каменный уголь
- 5) Карачаево-Черкесская Республика
- 6) Республика Калмыкия

В данной ниже таблице приведены буквы, обозначающие пропущенные слова (словосочетания). Запишите в таблицу под каждой буквой номер выбранного Вами слова (словосочетания).

Ответ:

А	Б	В

19

Установите соответствие между республикой в составе РФ и её столицей: к каждому элементу первого столбца подберите соответствующий элемент из второго столбца.

## РЕСПУБЛИКА

- А) Мордовия  
Б) Карелия  
В) Чувашская

## СТОЛИЦА

- 1) Саранск  
2) Петрозаводск  
3) Ижевск  
4) Чебоксары

Запишите в таблицу выбранные цифры под соответствующими буквами.

Ответ:

А	Б	В

20

Потенциал российских регионов для развития туризма огромен. Каждый из них имеет рекреационные ресурсы, способные привлечь тысячи туристов из России и зарубежных стран. Определите субъект Российской Федерации по описанию его рекреационного потенциала.

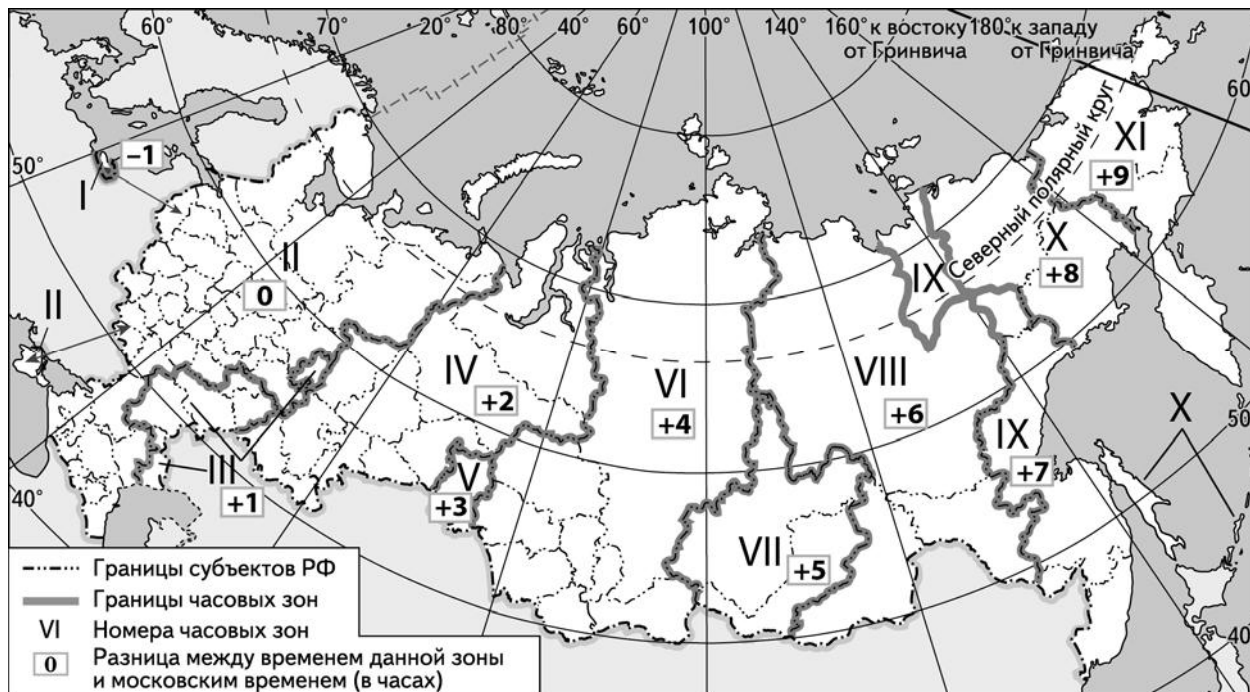
«Украшения столицы данной республики – обелиск "Центр Азии" и скульптурная композиция "Царская охота", а также буддистский храм Цеченлинг и молитвенный барабан. Уникальные природные объекты Убсунурской котловины, такие как озеро Торе-Холь, гора Ямаалыг – место древних захоронений, внесены в список Всемирного наследия ЮНЕСКО.»

Ответ: \_\_\_\_\_

21

Парад в честь Дня Победы на Красной площади начинается в 10:00 по московскому времени. Трансляция парада ведётся в прямом эфире.

Используя карту, определите, в каких из перечисленных регионов эта трансляция начнётся после полудня по местному времени этих регионов. Запишите цифры, под которыми они указаны.



- 1) Белгородская область
- 2) Краснодарский край
- 3) Амурская область
- 4) Республика Алтай
- 5) Магаданская область
- 6) Самарская область

Ответ: \_\_\_\_\_

22

Многие банки предоставляют возможность подключения автоплатежа за коммунальные услуги, который оформляется через личный кабинет клиента на сайте соответствующего банка.

1) Какие сведения должен указать клиент в своём личном кабинете?

Ответ: \_\_\_\_\_  
\_\_\_\_\_  
\_\_\_\_\_  
\_\_\_\_\_  
\_\_\_\_\_  
\_\_\_\_\_

2) Как Вы думаете, что будет происходить после запуска клиентом данной услуги?

Ответ: \_\_\_\_\_  
\_\_\_\_\_  
\_\_\_\_\_  
\_\_\_\_\_  
\_\_\_\_\_  
\_\_\_\_\_

3) В чём преимущество автоплатежа перед другими способами оплаты коммунальных услуг? (Укажите любые два преимущества.)

Ответ: \_\_\_\_\_  
\_\_\_\_\_  
\_\_\_\_\_  
\_\_\_\_\_  
\_\_\_\_\_  
\_\_\_\_\_

4) Как Вы думаете, почему некоторые граждане не заинтересованы в оформлении автоплатежа? (Выскажите своё предположение.)

Ответ: \_\_\_\_\_  
\_\_\_\_\_  
\_\_\_\_\_  
\_\_\_\_\_  
\_\_\_\_\_  
\_\_\_\_\_

