

Всероссийская проверочная работа
ДЛЯ ОЦЕНКИ МЕТАПРЕДМЕТНЫХ РЕЗУЛЬТАТОВ ОБУЧЕНИЯ
в соответствии с федеральным государственным образовательным
стандартом среднего общего образования
для обучающихся по программам среднего профессионального образования,
завершивших в предыдущем учебном году освоение общеобразовательных предметов,
проходящих обучение по очной форме на базе основного общего образования.

Инструкция по выполнению работы

Проверочная работа включает в себя 22 задания.

На выполнение диагностической работы отводится 2 часа (120 минут).

Ответами к заданиям 1, 2, 5, 6, 8, 9–12, 17–21 являются цифра, последовательность цифр или слово (словосочетание).

Задания 3, 4, 7, 13–16, 22 требуют полного ответа (дать объяснение, описание или обоснование; высказать и аргументировать собственное мнение). В случае записи неверного ответа зачеркните его и запишите рядом новый.

При выполнении работы не разрешается пользоваться учебниками, рабочими тетрадами и другими справочными материалами.

При выполнении заданий Вы можете пользоваться черновиком. Записи в черновике проверяться и оцениваться не будут.

Советуем выполнять задания в том порядке, в котором они даны. В целях экономии времени пропускайте задание, которое не удаётся выполнить сразу, и переходите к следующему. Если после выполнения всей работы у Вас останется время, то Вы сможете вернуться к пропущенным заданиям.

Баллы, полученные Вами за выполненные задания, суммируются. Постарайтесь выполнить как можно больше заданий и набрать наибольшее количество баллов.

Желаем успеха!

Таблица для внесения баллов участника

Номер задания	1	2	3	4	5	6	7	8	9	10	11	12	13	14
Баллы														
Номер задания	15(1)	15(2)	16	17	18	19	20	21	22	Сумма баллов	Отметка за работу			
Баллы														

1

Установите соответствие между историческими деятелями и информацией, относящейся к ним: к каждой позиции первого столбца подберите соответствующую позицию из второго столбца.

ИСТОРИЧЕСКИЕ ДЕЯТЕЛИ

- А) Г.Е. Львов
Б) А.С. Яковлев
В) Л.Д. Троцкий

ИНФОРМАЦИЯ

- 1) Председатель Революционного военного совета РСФСР в период Гражданской войны
2) первый министр-председатель Временного правительства
3) известный советский композитор
4) советский авиаконструктор

Запишите в таблицу выбранные цифры под соответствующими буквами.

□ Ответ:

А	Б	В

2

Прочитайте четыре предложения. Два из них содержат события, процессы, явления, являющиеся причинами (предпосылками). Другие два содержат последствия этих событий, процессов, явлений. Подберите для каждой из причин (предпосылок) соответствующее ей последствие. Номера соответствующих предложений запишите в таблицу.

- 1) СССР был исключён из Лиги Наций.
2) Был образован СССР.
3) Началась советско-финляндская война.
4) Существовала хозяйственная взаимозависимость районов Российской империи.

□	Номер предложения, содержащего			
	причину (предпосылку) 1	последствие 1	причину (предпосылку) 2	последствие 2
□	Ответ:			

3

Рассмотрите изображение и выполните задание.



Назовите фамилию руководителя СССР в период, когда произошло событие, юбилею которого посвящена данная марка.

Ответ: _____

Объясните, почему событие, юбилею которого посвящена данная марка, было важно а) для нашей страны, б) для всего человечества.

Ответ: _____



4 Прочтите отрывок из Декларации правительства и выполните задание.

«Граждане!

...Временный Комитет Государственной Думы назначает министрами первого общественного кабинета следующих лиц...

В своей настоящей деятельности кабинет будет руководствоваться следующими основаниями:

1) Полная и немедленная амнистия по всем делам политическим и религиозным, в том числе: террористическим покушениям, военным восстаниям и аграрным преступлениям и т.д.

2) Свобода слова, печати, союзов, собраний и стачек, с распространением политических свобод на военнослужащих в пределах допускаемых военно-техническими условиями.

3) Отмена всех сословных, вероисповедных и национальных ограничений.

4) Немедленная подготовка к созыву на началах всеобщего, равного, тайного и прямого голосования Учредительного собрания, которое установит форму правления и конституцию страны.

5) Замена полиции народной милицией с выборным начальством, подчинённым органам местного самоуправления.

6) Выборы в органы местного самоуправления на основе всеобщего, прямого, равного и тайного голосования...

Временное правительство считает своим долгом присовокупить, что оно отнюдь не намерено воспользоваться военными обстоятельствами для какого-либо промедления в осуществлении вышеизложенных реформ и мероприятий».

Укажите год, когда была издана данная декларация. Какова, согласно данному отрывку, функция Учредительного собрания? Назовите одного любого министра-председателя правительства, от имени которого издана данная декларация.

Ответ: _____

Сериализация

№ 65 .

- 1) «Архипелаг ГУЛАГ»;
- 2) Симфония № 7 «Ленинградская»;

3)



4)



5) Какие из приведённых памятников культуры были созданы в XX в.? Выберите два памятника культуры и запишите в таблицу цифры, под которыми они указаны.

Ответ:

--	--

6) Создателем какого из приведённых памятников культуры является Д.Д. Шостакович? Укажите порядковый номер этого памятника культуры.

Ответ:

--

7

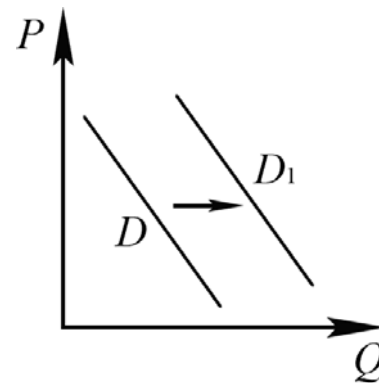
Рассмотрите изображение и выполните задание.



Укажите год, когда произошло событие, юбилею которого посвящена данная монета. Какое значение имело данное событие?

Ответ: _____

8 На рисунке отражено изменение спроса на платные образовательные услуги высших учебных заведений на соответствующем рынке: линия спроса D переместилась в новое положение – D_1 . (P – цена; Q – количество.)



Какие из перечисленных факторов могут вызвать такое изменение? Запишите цифры, под которыми они указаны.

- 1) рост доходов населения
- 2) повышение престижа высшего образования
- 3) сокращение числа выпускников школ
- 4) увеличение государственных субсидий малоимущим гражданам на получение образовательных услуг
- 5) уменьшение размера стипендии студентов

□ Ответ: _____.

9 Установите соответствие между примерами и видами налогов и сборов согласно Налоговому кодексу РФ: к каждой позиции, данной в первом столбце, подберите соответствующую позицию из второго столбца.

ПРИМЕРЫ

ВИДЫ НАЛОГОВ И СБОРОВ В РФ

- | | |
|---|--|
| <p>А) торговый сбор
 Б) налог на доходы физических лиц
 В) налог на добычу полезных ископаемых
 Г) налог на имущество физических лиц
 Д) транспортный налог</p> | <p>1) федеральные
 2) региональные
 3) местные</p> |
|---|--|

Запишите в таблицу выбранные цифры под соответствующими буквами.

□ Ответ:

А	Б	В	Г	Д

10 Какие из перечисленных позиций относятся к основам конституционного строя РФ? Запишите цифры, под которыми они указаны.

- 1) наличие официальной идеологии
- 2) признание равноправия различных форм собственности
- 3) единство экономического пространства
- 4) социальное государство
- 5) приоритет законодательной власти

□ Ответ: _____.

11

Установите соответствие между полномочиями и субъектами государственной власти РФ, реализующими эти полномочия: к каждой позиции, данной в первом столбце, подберите соответствующую позицию из второго столбца.

ПОЛНОМОЧИЯ

- А) утверждение указа Президента России о введении чрезвычайного положения
 Б) содействие развитию предпринимательства и частной инициативы
 В) объявление амнистии
 Г) обеспечение проведения в Российской Федерации единой финансовой политики
 Д) разработка федерального бюджета

СУБЪЕКТЫ
ГОСУДАРСТВЕННОЙ ВЛАСТИ
РФ

- 1) Государственная Дума
 2) Совет Федерации
 3) Правительство РФ

Запишите в таблицу выбранные цифры под соответствующими буквами.

Ответ:

А	Б	В	Г	Д

12

В районном суде рассматривается иск гражданки Клюквиной об установлении отцовства гражданина Рябина в отношении её несовершеннолетней дочери. Найдите в приведённом списке позиции, соответствующие правовому контексту описанной ситуации, и запишите **цифры**, под которыми они указаны.

- 1) ответчик
 2) подсудимый
 3) административный процесс
 4) истец
 5) гражданский процесс
 6) уголовный процесс

Ответ: _____.

13

Семья Петровых состоит из четырёх человек: Анны, Фёдора и двоих их сыновей. Супруги работают, дети учатся в школе. Средства расходуются в первую очередь на приобретение еды, одежды, лекарств, оплату транспортных и коммунальных услуг. Оставшиеся средства вкладываются на депозит в банке.

- 1) Какую функцию семьи иллюстрирует этот пример?
- 2) Почему семья Петровых относится к нуклеарному типу?
- 3) Какая информация Вам необходима для того, чтобы установить, является семья Петровых патриархальной или демократической? (Сформулируйте два вопроса, необходимых для получения данной информации.)
- 4) Каковы источники доходов семейного бюджета семьи Петровых? (Назовите два типа источников.)

Ответ на первый вопрос: _____

Ответ на второй вопрос: _____

Ответ на третий вопрос: _____

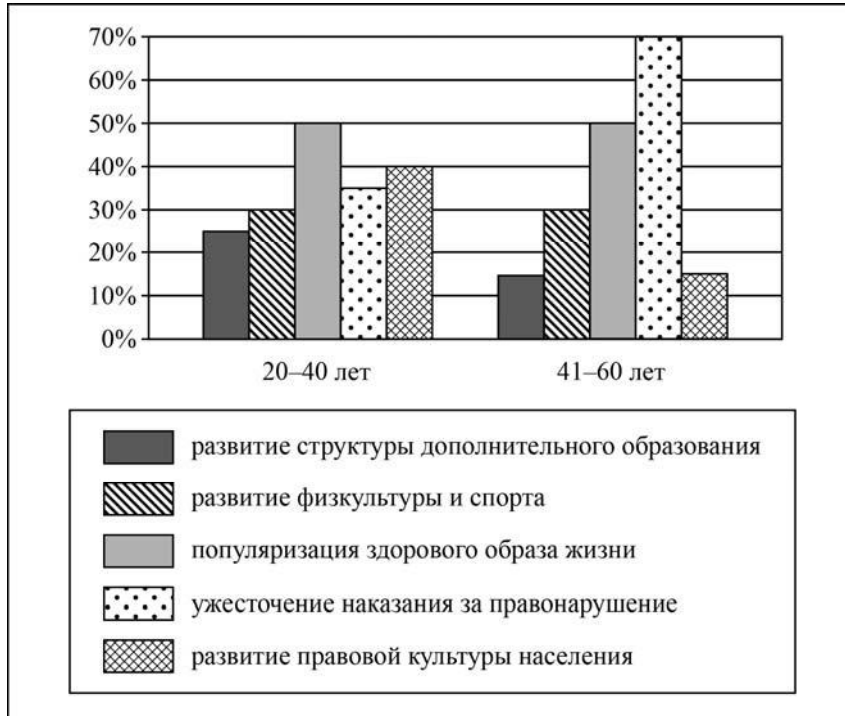
Ответ на четвёртый вопрос: _____



14

В ходе социологического опроса жителей города Z им задавали вопрос: «Какие способы профилактики негативных отклонений поведения вы считаете наиболее эффективными в современном обществе?» (можно было дать несколько ответов).

Результаты опроса (в % от числа отвечавших) представлены в виде диаграммы.



Сформулируйте по одному выводу: а) о сходстве; б) о различии в позициях групп опрошенных. Выскажите предположение о том, чем объясняются указанные Вами: а) сходство; б) различие.

Ответ: _____

15

Произошёл пожар в лесу, возможности справиться с локализацией и тушением пожара своими силами нет. Назовите не менее четырёх правил безопасного поведения, которые необходимо выполнить в этом случае.

Ответ: _____

16

Представьте, что на Ваших глазах человек нырял с пирса в водоём и получил травму. Объясните, в чём состоит опасность данной ситуации. Назовите не менее двух действий, которые нужно предпринять человеку, оказавшемуся в подобной ситуации.

Ответ: _____

17

Определите город России по его краткому описанию.

Этот город является столицей республики в составе РФ. Он расположен на берегу одной из крупных рек. Климат резко континентальный: средняя температура воздуха в январе около – 40 °С, лето жаркое; годовая амплитуда температур воздуха – одна из наибольших не только в России, но и на планете. Город расположен в зоне широкого распространения многолетней мерзлоты.

Ответ: _____.

18

Прочитайте приведённый ниже текст, в котором пропущен ряд слов (словосочетаний). Выберите из предлагаемого списка слова (словосочетания), которые необходимо вставить на места пропусков.

Особенности климата гор Южной Сибири

Горный рельеф Южной Сибири обусловил контрастность климата. Континентальность климата возрастает к востоку. На наветренных склонах выпадают обильные атмосферные осадки. С ними связано распространение многочисленных снежников и ледников на _____ (А) склонах и вершинах Алтая. На подветренных склонах гор, а также в горах Забайкалья количество осадков уменьшается до 300–500 мм в год. Ещё меньше атмосферных осадков в (на) _____ (Б), не более 200 мм в год. Зимой на большей части территории преимущественно безоблачно, характерны низкие температуры воздуха. Особенно холодно (до $-50\text{ }^{\circ}\text{C}$) в межгорных котловинах, в которых застаивается холодный воздух, стекающий с гор. Исключением являются Алтайские горы с относительно мягкими и снежными зимами. Это связано с тем, что сюда с запада часто проникают _____ (В), сопровождающиеся значительной облачностью и осадками, облака защищают поверхность от выхолаживания. Лето практически везде короткое и прохладное, за исключением межгорных котловин, где оно бывает обычно сухим, со средней июльской температурой $+20\text{ }^{\circ}\text{C}$.

Выбирайте последовательно одно слово (словосочетание) за другим, мысленно вставляя на места пропусков слова (словосочетания) из списка в нужной форме. Обратите внимание на то, что слов (словосочетаний) в списке больше, чем Вам потребуется для заполнения пропусков. Каждое слово (словосочетание) может быть использовано только один раз.

Список слов (словосочетаний):

- 1) межгорные котловины
- 2) западный
- 3) циклоны
- 4) горные вершины
- 5) антициклоны
- 6) восточный

В данной ниже таблице приведены буквы, обозначающие пропущенные слова (словосочетания). Запишите в таблицу под каждой буквой номер выбранного Вами слова (словосочетания).

Ответ:

А	Б	В

19

Установите соответствие между республикой в составе РФ и её столицей: к каждому элементу первого столбца подберите соответствующий элемент из второго столбца.

РЕСПУБЛИКА

- А) Дагестан
Б) Адыгея
В) Кабардино-Балкарская

СТОЛИЦА

- 1) Чебоксары
2) Нальчик
3) Махачкала
4) Майкоп

Запишите в таблицу выбранные цифры под соответствующими буквами.

Ответ:

А	Б	В

20

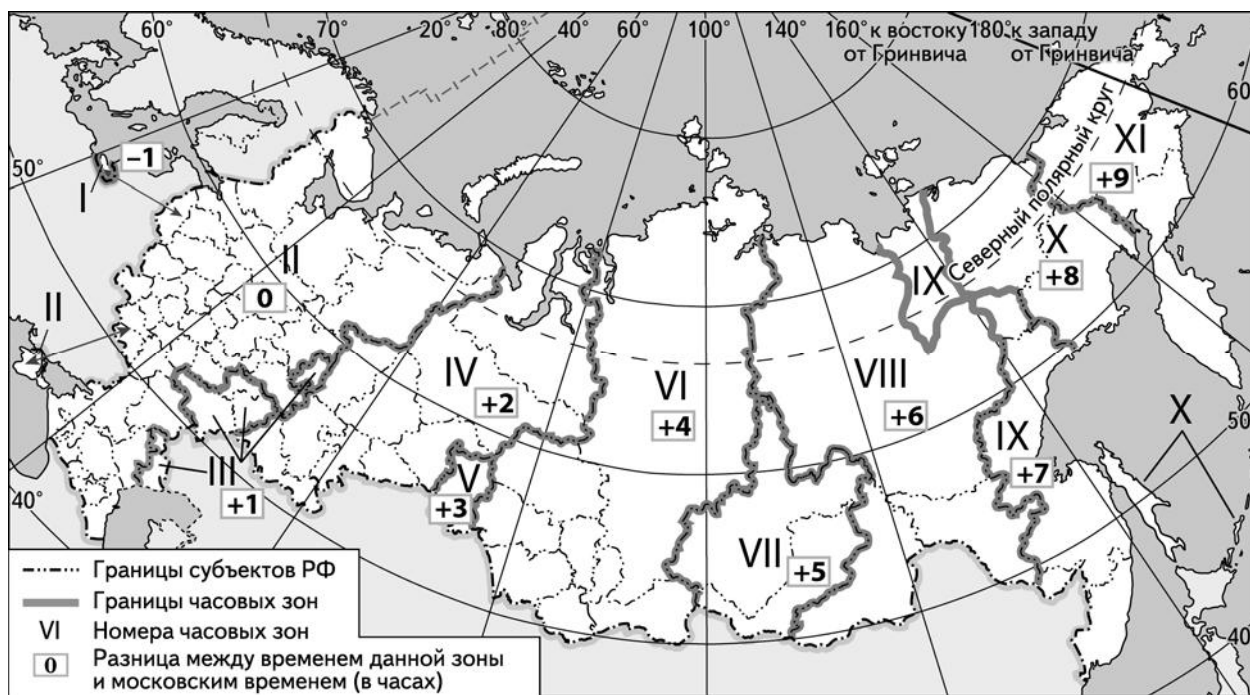
Потенциал российских регионов для развития туризма огромен. Каждый из них имеет рекреационные ресурсы, способные привлечь тысячи туристов из России и зарубежных стран. Определите субъект Российской Федерации по описанию его рекреационного потенциала.

«Разнообразный животный мир республики привлекает охотников и рыболовов. Здесь можно охотиться на лося, кабана, бобра, бурого медведя, зайца, лисицу, норку, уток, рябчиков и др. В центре и на севере республики есть реки с рыбалкой на лосося, хариуса и сига. Особенно популярна рыбалка на Сямозере, Пяозере и Онежском озере. Зима также не останавливает туриста: можно покататься на снегоходах, собаках и оленях. Приезжают сюда также и любители всех видов лыжного спорта.»

Ответ: _____

21

Прямая трансляция из Храма Христа Спасителя большого Рождественского богослужения в светлый праздник Рождества Христова началась в 23.00 по московскому времени. Используя карту, определите, жители каких из перечисленных ниже городов могли увидеть начало трансляции в полночь по местному времени своих городов. Запишите цифры, под которыми указаны эти города.



- 1) Уфа
- 2) Астрахань
- 3) Ижевск
- 4) Чебоксары
- 5) Саратов
- 6) Пермь

Ответ: _____

22

Портал «Госуслуги» (<https://www.gosuslugi.ru>) является одним из самых востребованных интернет-сервисов для решения вопросов, связанных с обращением в органы государственной власти Российской Федерации, различные ведомства и организации.

На портале возможны три уровня регистрации:

упрощённый – указываются контактные данные, доступ к услугам ограничен;

стандартный – указываются персональные данные, доступ к услугам ограничен;

подтверждённый – помимо указания персональных данных требуется процедура подтверждения личности.

Пользователю с подтверждённым уровнем регистрации доступен наиболее широкий набор услуг, включая выдачу различных персональных документов и справок.

Ответьте на следующие вопросы, связанные с использованием портала «Госуслуги».

1) Какие сведения (персональные данные) помимо ФИО должен указать гражданин при регистрации? Приведите не менее 4 различных позиций.

Ответ: _____

2) Каких рисков позволяет избежать ограничение по набору доступных услуг, введённое для пользователей со стандартным уровнем регистрации?

Ответ: _____

3) В чём удобство загрузки и хранения всех персональных данных на портале «Госуслуги» для гражданина, получившего подтверждённый уровень регистрации?

Ответ: _____

4) В чём удобство электронного способа получения справки по сравнению с очным визитом в соответствующее учреждение?

Ответ: _____

