

Всероссийская проверочная работа
ДЛЯ ОЦЕНКИ МЕТАПРЕДМЕТНЫХ РЕЗУЛЬТАТОВ ОБУЧЕНИЯ
в соответствии с федеральным государственным образовательным
стандартом среднего общего образования
для обучающихся по программам среднего профессионального образования,
завершивших в предыдущем учебном году освоение общеобразовательных предметов,
проходящих обучение по очной форме на базе основного общего образования.

Инструкция по выполнению работы

Проверочная работа включает в себя 22 задания.

На выполнение диагностической работы отводится 2 часа (120 минут).

Ответами к заданиям 1, 2, 5, 6, 8, 9–12, 17–21 являются цифра, последовательность цифр или слово (словосочетание).

Задания 3, 4, 7, 13–16, 22 требуют полного ответа (дать объяснение, описание или обоснование; высказать и аргументировать собственное мнение). В случае записи неверного ответа зачеркните его и запишите рядом новый.

При выполнении работы не разрешается пользоваться учебниками, рабочими тетрадями и другими справочными материалами.

При выполнении заданий Вы можете пользоваться черновиком. Записи в черновике проверяться и оцениваться не будут.

Советуем выполнять задания в том порядке, в котором они даны. В целях экономии времени пропускайте задание, которое не удаётся выполнить сразу, и переходите к следующему. Если после выполнения всей работы у Вас останется время, то Вы сможете вернуться к пропущенным заданиям.

Баллы, полученные Вами за выполненные задания, суммируются. Постарайтесь выполнить как можно больше заданий и набрать наибольшее количество баллов.

Желаем успеха!

Таблица для внесения баллов участника

Номер задания	1	2	3	4	5	6	7	8	9	10	11	12	13	14
Баллы														
Номер задания	15(1)	15(2)	16	17	18	19	20	21	22	Сумма баллов	Отметка за работу			
Баллы														

1

Установите соответствие между историческими деятелями и информацией, относящейся к ним: к каждой позиции первого столбца подберите соответствующую позицию из второго столбца.

ИСТОРИЧЕСКИЕ ДЕЯТЕЛИ

- А) Б.Н. Ельцин
Б) К.Е. Ворошилов
В) М.М. Зощенко

ИНФОРМАЦИЯ

- 1) писатель, подвергнутый критике в Постановлении Оргбюро ЦК ВКП(б) о журналах «Звезда» и «Ленинград»
2) выдающийся военачальник Красной армии во время Гражданской войны
3) советский физик, разработчик советской атомной бомбы
4) первый Президент Российской Федерации

Запишите в таблицу выбранные цифры под соответствующими буквами.

Ответ:

А	Б	В

2

Прочитайте четыре предложения. Два из них содержат события, процессы, явления, являющиеся причинами (предпосылками). Другие два содержат последствия этих событий, процессов, явлений. Подберите для каждой из причин (предпосылок) соответствующее ей последствие. Номера соответствующих предложений запишите в таблицу.

- 1) Левые эсеры поддержали курс большевиков на вооружённое восстание.
2) На довыборах в Петроградский Совет в сентябре 1917 г. партия большевиков получила большинство голосов.
3) После свержения Временного правительства большевики предложили левым эсерам войти в состав Совета народных комиссаров.
4) К осени 1917 г. партия большевиков с её понятными, доходчивыми лозунгами – власть Советам, мир народам, земля крестьянам, фабрики рабочим – приобрела большую популярность.

Номер предложения, содержащего				
	причину (предпосылку) 1	последствие 1	причину (предпосылку) 2	последствие 2
Ответ:				

3

Рассмотрите изображение и выполните задание.



Назовите фамилию руководителя СССР в период, когда произошло событие, юбилею которого посвящена данная марка.

Ответ: _____

Объясните, почему событие, юбилею которого посвящена данная марка, было важно а) для нашей страны, б) для международных отношений во всем мире.

Ответ: _____



Сериализация

№ 65 .

- 1) роман «Тихий Дон»;
- 2) роман «Братья Карамазовы»;

3)



4)



5

Какие из приведённых памятников культуры были созданы в XX в.? Выберите два памятника культуры и запишите в таблицу цифры, под которыми они указаны.

Ответ:

--	--

6

Создателем какого из приведённых памятников культуры является В.И. Мухина? Укажите порядковый номер этого памятника культуры.

Ответ:

--

7

Рассмотрите изображение и выполните задание.

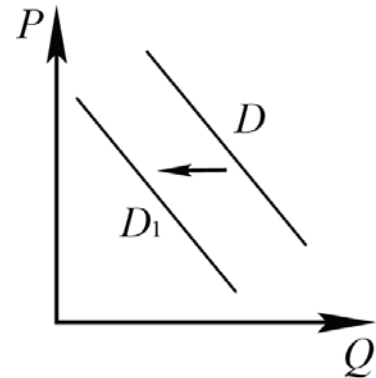


Укажите год, когда был создан данный плакат. Почему абсолютное большинство участников референдума сделало выбор, отражённый на данном плакате?

Ответ: _____

8

На рисунке отражено изменение спроса на квартиры в многоквартирных домах на соответствующем рынке: линия спроса D переместилась в новое положение – D_1 . (P – цена; Q – количество.)



Какие из перечисленных факторов могут вызвать такое изменение? Запишите цифры, под которыми они указаны.

- 1) повышение процентов по ипотечным кредитам
- 2) сокращение государственных субсидий для строительных фирм
- 3) внедрение новых, высокопроизводительных строительных технологий
- 4) уменьшение числа желающих приобрести квартиры в многоквартирных домах
- 5) сокращение доходов большинства населения

Ответ: _____.

9

Установите соответствие между примерами и видами налогов и сборов согласно Налоговому кодексу РФ: к каждой позиции, данной в первом столбце, подберите соответствующую позицию из второго столбца.

ПРИМЕРЫ

ВИДЫ НАЛОГОВ И СБОРОВ В РФ

- | | |
|--|--|
| <p>А) торговый сбор
 Б) государственная пошлина
 В) налог на добавленную стоимость
 Г) налог на имущество организаций
 Д) транспортный налог</p> | <p>1) федеральные
 2) региональные
 3) местные</p> |
|--|--|

Запишите в таблицу выбранные цифры под соответствующими буквами.

Ответ:

А	Б	В	Г	Д

10

Что из перечисленного относится к конституционным обязанностям гражданина РФ? Запишите цифры, под которыми они указаны.

- 1) забота совершеннолетних трудоспособных детей о нетрудоспособных родителях
- 2) занятие предпринимательской деятельностью
- 3) обращение в органы государственной власти
- 4) уплата законно установленных налогов и сборов
- 5) сохранение исторического и культурного наследия

Ответ: _____.

11

Установите соответствие между полномочиями и субъектами государственной власти РФ, реализующими эти полномочия: к каждой позиции, данной в первом столбце, подберите соответствующую позицию из второго столбца.

ПОЛНОМОЧИЯ

СУБЪЕКТЫ
ГОСУДАРСТВЕННОЙ ВЛАСТИ
РФ

- | | |
|--|--|
| <p>А) осуществление мер по борьбе с преступностью</p> <p>Б) разрешение споров о компетенции между высшими государственными органами субъектов Российской Федерации</p> <p>В) объявление амнистии</p> <p>Г) осуществление управления федеральной собственностью</p> <p>Д) обеспечение исполнения федерального бюджета</p> | <p>1) Конституционный Суд РФ</p> <p>2) Правительство РФ</p> <p>3) Государственная Дума</p> |
|--|--|

Запишите в таблицу выбранные цифры под соответствующими буквами.

Ответ:

А	Б	В	Г	Д

12

В районном суде рассматривается иск гражданки Клюквиной об установлении отцовства гражданина Рябина в отношении её несовершеннолетней дочери. Найдите в приведённом списке позиции, соответствующие правовому контексту описанной ситуации, и запишите **цифры**, под которыми они указаны.

- 1) ответчик
- 2) подсудимый
- 3) административный процесс
- 4) истец
- 5) гражданский процесс
- 6) уголовный процесс

Ответ: _____.

13

В государстве Z развиваются новейшие коммуникационные технологии и сервисы, внедряются инновации, осуществляется переход к цифровым технологиям на всех уровнях производственной деятельности, возрастает роль науки и образования в жизни общества. В государстве Z в период с 2009 по 2019 г. наметился рост популярности дистанционных программ дополнительного образования, в школах половина занятий проходит с использованием интернет-технологий. В среднем число учеников, имеющих доступ к видеоурокам и другим цифровым учебным материалам, выросло в 12 раз.

В государстве Z все граждане имеют равные гражданские и политические права и свободы, а также гарантии их защиты. Законодательную власть осуществляет парламент, а всенародно избираемый глава государства формирует правительство и возглавляет исполнительную власть.

1) К какому типу относится общество Z ?

2) Какая тенденция развития образования описана, но не названа в условии задачи? (Приведите название этой тенденции.)

3) Какова форма правления Z ? (Дайте полное название.)

4) Какой факт из условия задачи позволяет сделать вывод о том, что государство Z демократическое?

Ответ на первый вопрос: _____

Ответ на второй вопрос: _____

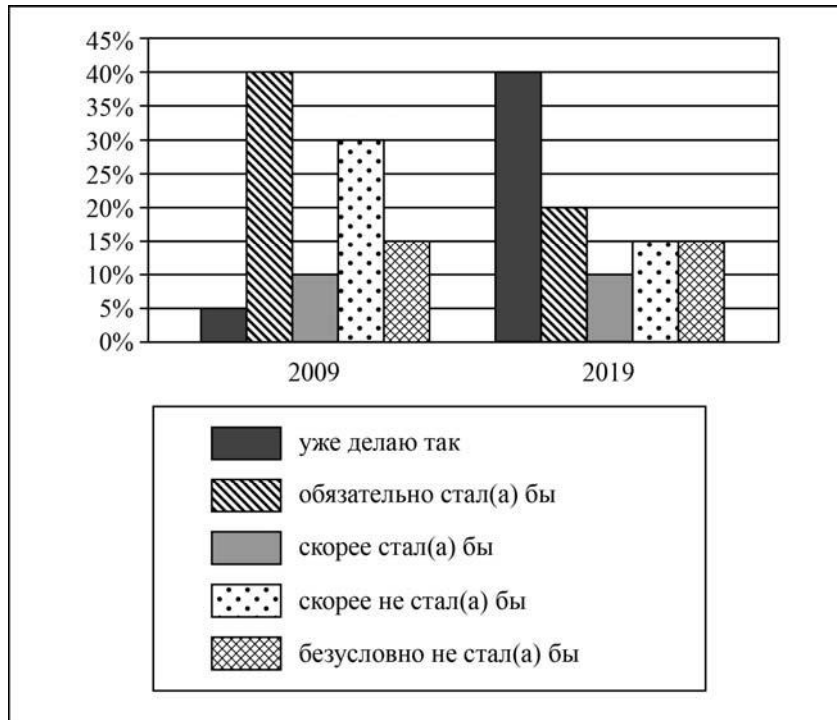
Ответ на третий вопрос: _____

Ответ на четвёртый вопрос: _____



14

В ходе социологического опроса совершеннолетних граждан страны Z им задавали вопрос: «Один из экологически целесообразных способов переработки мусора предполагает сортировку бытовых отходов. Если бы у вас была возможность выкидывать каждый вид мусора в отдельный контейнер, стали бы вы сортировать ваш мусор?»
Полученные результаты (в % от числа опрошенных) представлены в виде диаграммы.



Сформулируйте по одному выводу: а) о сходстве; б) о различии в позициях групп опрошенных. Выскажите предположение о том, чем объясняются указанные Вами: а) сходство; б) различие.

□ Ответ: _____

15

Вы снимали с газовой плиты горячую кастрюлю при помощи кухонного полотенца. Полотенце загорелось. Назовите не менее четырёх правил безопасного поведения, которые необходимо выполнить в этом случае.

□ Ответ: _____

16

Находясь в дикой природе в лесу или в горах, можно встретить дикое животное (например, медведя). Дикие животные представляют опасность для здоровья человека. Объясните, в чём состоит опасность. Назовите не менее двух действий, которые нужно предпринять, если человек встретил дикое животное.

□ Ответ: _____

17

Определите регион России по его краткому описанию.

Этот край имеет приморское положение. Его административный центр находится на равном расстоянии от Северного полюса и экватора. Основные формы рельефа – горы (высотой свыше 3000 м) и низменности. Живописные горные ландшафты, морское побережье, лечебные грязи и минеральные источники привлекают в край большое число туристов и отдыхающих.

□ Ответ: _____.

18

Прочитайте приведённый ниже текст, в котором пропущен ряд слов (словосочетаний). Выберите из предлагаемого списка слова (словосочетания), которые необходимо вставить на места пропусков.

Экономика Европейского Юга России

Основой хозяйства Юга России является агропромышленный комплекс. Этот район является одним из ведущих российских производителей зерна, сахарной свёклы, _____(А) и овощей. Здесь работают крупные _____(Б) и предприятия топливно-энергетического комплекса. Огромное значение имеет курортное хозяйство. Курорты Южного берега Крыма и Черноморского побережья Кавказа: _____(В), Алушта, Сочи, Анапа – широко известны в нашей стране и за рубежом. Огромной популярностью пользуются курорты Кавказских Минеральных Вод.

Выбирайте последовательно одно слово (словосочетание) за другим, мысленно вставляя на места пропусков слова (словосочетания) из списка в нужной форме. Обратите внимание на то, что слов (словосочетаний) в списке больше, чем Вам потребуется для заполнения пропусков. Каждое слово (словосочетание) может быть использовано только один раз.

Список слов (словосочетаний):

- 1) алюминиевые заводы
- 2) лён-долгунец
- 3) Махачкала
- 4) подсолнечник
- 5) машиностроительные предприятия
- 6) Ялта

В данной ниже таблице приведены буквы, обозначающие пропущенные слова (словосочетания). Запишите в таблицу под каждой буквой номер выбранного Вами слова (словосочетания).

Ответ:

А	Б	В

19

Установите соответствие между республикой в составе РФ и её столицей: к каждому элементу первого столбца подберите соответствующий элемент из второго столбца.

РЕСПУБЛИКА

- А) Башкортостан
- Б) Чувашская
- В) Хакасия

СТОЛИЦА

- 1) Казань
- 2) Абакан
- 3) Уфа
- 4) Чебоксары

Запишите в таблицу выбранные цифры под соответствующими буквами.

Ответ:

А	Б	В

20

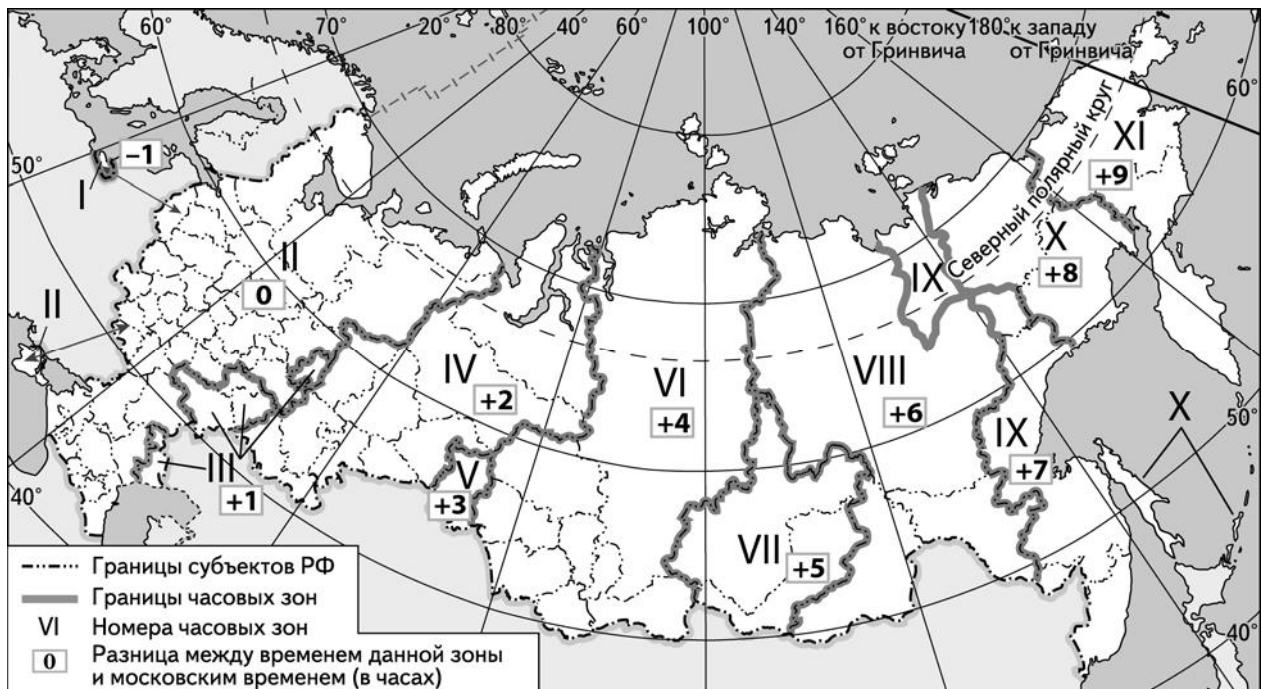
Потенциал российских регионов для развития туризма огромен. Каждый из них имеет рекреационные ресурсы, способные привлечь тысячи туристов из России и зарубежных стран. Определите субъект Российской Федерации по описанию его рекреационного потенциала.

«Рекреационный потенциал этого региона определяется в первую очередь наличием на его территории уникального эколого-курортного района "Кавказские Минеральные Воды". Туристов привлекает возможность сочетания лечебных процедур и действенной терапии окружающей природой, климатом и горным воздухом.»

Ответ: _____

21

На Чемпионате мира по футболу 2018 г. в Сочи состоится матч между командами, вышедшими в четвертьфинал. Начало матча в 21 час по местному времени. Используя карту, определите, в каких из перечисленных ниже регионов просмотр прямой трансляции матча из Сочи по телевидению будет возможен лишь на следующие сутки. Запишите **цифры**, под которыми они указаны.



- 1) Красноярский край
- 2) Республика Карелия
- 3) Свердловская область
- 4) Забайкальский край
- 5) Республика Крым
- 6) Амурская область

Ответ: _____.

22

Портал «Госуслуги» (<https://www.gosuslugi.ru>) является одним из самых востребованных интернет-сервисов для решения вопросов, связанных с обращением в органы государственной власти Российской Федерации, различные ведомства и организации.

На портале возможны три уровня регистрации:

упрощённый – указываются контактные данные, доступ к услугам ограничен;

стандартный – указываются персональные данные, доступ к услугам ограничен;

подтверждённый – помимо указания персональных данных требуется процедура подтверждения личности.

Пользователю с подтверждённым уровнем регистрации доступен наиболее широкий набор услуг, включая выдачу различных персональных документов и справок.

Ответьте на следующие вопросы, связанные с использованием портала «Госуслуги».

1) Какие сведения (персональные данные) помимо ФИО должен указать гражданин при регистрации? Приведите не менее 4 различных позиций.

Ответ: _____

2) Каких рисков позволяет избежать ограничение по набору доступных услуг, введённое для пользователей со стандартным уровнем регистрации?

Ответ: _____

3) В чём удобство загрузки и хранения всех персональных данных на портале «Госуслуги» для гражданина, получившего подтверждённый уровень регистрации?

Ответ: _____

4) В чём удобство электронного способа получения справки по сравнению с очным визитом в соответствующее учреждение?

Ответ: _____

