

**Всероссийская проверочная работа**  
**ДЛЯ ОЦЕНКИ МЕТАПРЕДМЕТНЫХ РЕЗУЛЬТАТОВ ОБУЧЕНИЯ**  
**в соответствии с федеральным государственным образовательным**  
**стандартом среднего общего образования**  
**для обучающихся по программам среднего профессионального образования,**  
**завершивших в предыдущем учебном году освоение общеобразовательных предметов,**  
**проходящих обучение по очной форме на базе основного общего образования.**

**Инструкция по выполнению работы**

Проверочная работа включает в себя 22 задания.

На выполнение диагностической работы отводится 2 часа (120 минут).

Ответами к заданиям 1, 2, 5, 6, 8, 9–12, 17–21 являются цифра, последовательность цифр или слово (словосочетание).

Задания 3, 4, 7, 13–16, 22 требуют полного ответа (дать объяснение, описание или обоснование; высказать и аргументировать собственное мнение). В случае записи неверного ответа зачеркните его и запишите рядом новый.

При выполнении работы не разрешается пользоваться учебниками, рабочими тетрадями и другими справочными материалами.

При выполнении заданий Вы можете пользоваться черновиком. Записи в черновике проверяться и оцениваться не будут.

Советуем выполнять задания в том порядке, в котором они даны. В целях экономии времени пропускайте задание, которое не удаётся выполнить сразу, и переходите к следующему. Если после выполнения всей работы у Вас останется время, то Вы сможете вернуться к пропущенным заданиям.

Баллы, полученные Вами за выполненные задания, суммируются. Постарайтесь выполнить как можно больше заданий и набрать наибольшее количество баллов.

***Желаем успеха!***

Таблица для внесения баллов участника

Номер задания	1	2	3	4	5	6	7	8	9	10	11	12	13	14
Баллы														
Номер задания	15(1)	15(2)	16	17	18	19	20	21	22	Сумма баллов	Отметка за работу			
Баллы														

1

Установите соответствие между историческими деятелями и информацией, относящейся к ним: к каждой позиции первого столбца подберите соответствующую позицию из второго столбца.

## ИСТОРИЧЕСКИЕ ДЕЯТЕЛИ

- А) Г.Е. Львов  
Б) А.С. Яковлев  
В) Л.Д. Троцкий

## ИНФОРМАЦИЯ

- 1) Председатель Революционного военного совета РСФСР в период Гражданской войны  
2) первый министр-председатель Временного правительства  
3) известный советский композитор  
4) советский авиаконструктор

Запишите в таблицу выбранные цифры под соответствующими буквами.

Ответ:

А	Б	В

2

Прочитайте четыре предложения. Два из них содержат события, процессы, явления, являющиеся причинами (предпосылками). Другие два содержат последствия этих событий, процессов, явлений. Подберите для каждой из причин (предпосылок) соответствующее ей последствие. Номера соответствующих предложений запишите в таблицу.

- 1) Произошли «бархатные» революции в странах Восточной Европы.  
2) Сформировался слой собственников в России.  
3) В России была проведена ваучерная приватизация.  
4) Совет экономической взаимопомощи и Организация Варшавского договора были официально распущены.

	Номер предложения, содержащего			
	причину (предпосылку) 1	последствие 1	причину (предпосылку) 2	последствие 2
Ответ:				

3

Рассмотрите изображение и выполните задание.



Назовите фамилию руководителя СССР, явившегося инициатором процесса, которому посвящён данный плакат.

Ответ: \_\_\_\_\_

Объясните, почему процесс, которому посвящён данный плакат, был важен а) для внутривнутриполитического развития нашей страны, б) для международных отношений.

Ответ: \_\_\_\_\_

\_\_\_\_\_

\_\_\_\_\_

\_\_\_\_\_

\_\_\_\_\_

\_\_\_\_\_

\_\_\_\_\_

\_\_\_\_\_

\_\_\_\_\_

\_\_\_\_\_

\_\_\_\_\_



4

Прочтите отрывок из выступления представителя СССР.

«Первая сессия Генеральной Ассамблеи является важным этапом в процессе борьбы свободлюбивых народов за мир и безопасность. Она является логическим развитием идеи, которая была выражена в декларации четырёх держав, принятой во время Московской конференции министров иностранных дел в октябре 1943 года, провозгласившей необходимость создания международной организации для поддержания мира и безопасности. Важными этапами в претворении этой декларации в жизнь, как известно, были конференция в Думбартон-Оксе, Крымская конференция глав правительств трёх держав, конференция в Сан-Франциско и, наконец, работа Исполнительного комитета и Подготовительной комиссии, разработавших рекомендации, представленные на рассмотрение сессии.

Данная сессия, завершая важный период в деле создания всеобщей международной организации, в то же время представляет собой начало претворения в жизнь принципов устава Организации, принятого на конференции в Сан-Франциско. Уже через 8 месяцев после безоговорочной капитуляции германского агрессора и через четыре месяца после капитуляции японского агрессора Объединённые Нации в состоянии предпринять практические шаги по реализации положений устава с целью обеспечить человечеству мир и безопасность».

Укажите год, в начале которого состоялось данное выступление. Какая идея, согласно данному отрывку, была выражена в декларации четырёх держав, принятой во время Московской конференции министров иностранных дел? Укажите название одной любой международной организации, созданной в том же десятилетии, когда состоялось данное выступление.

Ответ: \_\_\_\_\_

\_\_\_\_\_

\_\_\_\_\_

\_\_\_\_\_

\_\_\_\_\_

\_\_\_\_\_

\_\_\_\_\_

\_\_\_\_\_

\_\_\_\_\_

\_\_\_\_\_

\_\_\_\_\_

\_\_\_\_\_

\_\_\_\_\_

\_\_\_\_\_

\_\_\_\_\_

\_\_\_\_\_

\_\_\_\_\_

\_\_\_\_\_

**Сериализация**

№ 65 .

- 1) кинофильм «Броненосец "Потёмкин"»;
- 2) комедия «Горе от ума»;



5) Какие из приведённых памятников культуры были созданы в XX в.? Выберите два памятника культуры и запишите в таблицу цифры, под которыми они указаны.

Ответ: 

--	--

6) Одним из создателей какого из приведённых памятников культуры является С.М. Эйзенштейн? Укажите порядковый номер этого памятника культуры.

Ответ: 

--

7

Рассмотрите изображение и выполните задание.



Укажите год, когда произошло событие, юбилею которого посвящена данная монета. Какое значение имело данное событие?

Ответ: \_\_\_\_\_

\_\_\_\_\_

\_\_\_\_\_

\_\_\_\_\_

\_\_\_\_\_

\_\_\_\_\_

\_\_\_\_\_

\_\_\_\_\_

\_\_\_\_\_

\_\_\_\_\_

\_\_\_\_\_

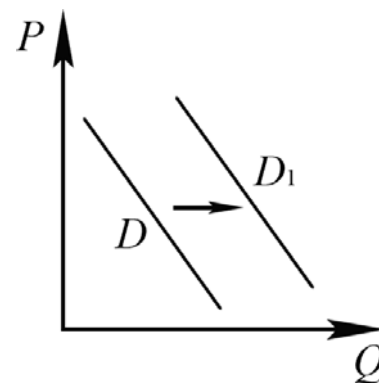
\_\_\_\_\_

\_\_\_\_\_

\_\_\_\_\_

\_\_\_\_\_

8 На рисунке отражено изменение спроса на деловые костюмы на соответствующем рынке: линия спроса  $D$  переместилась в новое положение –  $D_1$ . ( $P$  – цена;  $Q$  – количество.)



Какие из перечисленных факторов могут вызвать такое изменение? Запишите цифры, под которыми они указаны.

- 1) рост доходов населения
- 2) увеличение числа покупателей
- 3) появление моды на деловые костюмы
- 4) появление ожидания падения цен на деловые костюмы
- 5) рост цен на сорочки для деловых костюмов

□ Ответ: \_\_\_\_\_.

9 Установите соответствие между примерами и видами налогов и сборов в соответствии с Налоговым кодексом РФ: к каждой позиции, данной в первом столбце, подберите соответствующую позицию из второго столбца.

#### ПРИМЕРЫ

- А) транспортный налог
- Б) налог на имущество организаций
- В) акциз
- Г) водный налог
- Д) торговый сбор

#### ВИДЫ НАЛОГОВ И СБОРОВ В РФ

- 1) федеральные
- 2) региональные
- 3) местные

Запишите в таблицу выбранные цифры под соответствующими буквами.

□ Ответ:

А	Б	В	Г	Д

10

Выберите в приведённом списке положения, характеризующие основы конституционного строя РФ. Запишите **цифры**, под которыми они указаны.

- 1) Гражданин отвечает по своим обязательствам всем принадлежащим ему имуществом, за исключением имущества, на которое в соответствии с законом не может быть обращено взыскание.
- 2) Лицо не подлежит уголовной ответственности за преступление, если оно добровольно и окончательно отказалось от доведения этого преступления до конца.
- 3) В Российской Федерации признаются и защищаются равным образом частная, государственная, муниципальная и иные формы собственности.
- 4) Российская Федерация обеспечивает целостность и неприкосновенность своей территории.
- 5) Плательщики сборов имеют те же права, что и налогоплательщики.

Ответ: \_\_\_\_\_.

11

Установите соответствие между полномочиями и субъектами государственной власти РФ, реализующими эти полномочия: к каждой позиции, данной в первом столбце, подберите соответствующую позицию из второго столбца.

## ПОЛНОМОЧИЯ

СУБЪЕКТЫ  
ГОСУДАРСТВЕННОЙ ВЛАСТИ  
РФ

- |  |   |
|--|---|
| <p>А) утверждение указа Президента России о введении чрезвычайного положения</p> <p>Б) содействие развитию предпринимательства и частной инициативы</p> <p>В) объявление амнистии</p> <p>Г) обеспечение проведения в Российской Федерации единой финансовой политики</p> <p>Д) разработка федерального бюджета</p> | <p>1) Государственная Дума</p> <p>2) Совет Федерации</p> <p>3) Правительство РФ</p> |
|--|---|

Запишите в таблицу выбранные цифры под соответствующими буквами.

Ответ:

А	Б	В	Г	Д

12

Игнасио, совершеннолетний дееспособный гражданин государства Z, решил стать гражданином Российской Федерации.

При каких условиях Игнасио может подать заявление о приёме в гражданство РФ в общем порядке? Запишите **цифры**, под которыми указаны эти условия.

- 1) наличие собственности в РФ
- 2) наличие законного источника средств к существованию
- 3) наличие родственных связей в РФ
- 4) наличие документа о профессиональном образовании
- 5) владение русским языком
- 6) обязательство соблюдать Конституцию РФ и законодательство РФ

Ответ: \_\_\_\_\_.



13

В свободное от учёбы время 14-летняя девятиклассница Анна решила устроиться на работу.

- 1) Чьё согласие необходимо для заключения договора в данной ситуации? (Укажите всех субъектов (кроме сторон трудового договора) в соответствии с Трудовым кодексом Российской Федерации.)
- 2) Как в Трудовом кодексе Российской Федерации характеризуется труд, которым может заниматься 14-летняя девятиклассница? (Приведите две характеристики.)
- 3) Как при заключении трудового договора с 14-летним работником решается вопрос о медицинском осмотре?
- 4) Какие обязанности есть у работника в Российской Федерации? (Назовите любые две обязанности работника в соответствии с Трудовым кодексом Российской Федерации.)

Ответ на первый вопрос: \_\_\_\_\_  
\_\_\_\_\_  
\_\_\_\_\_

Ответ на второй вопрос: \_\_\_\_\_  
\_\_\_\_\_  
\_\_\_\_\_

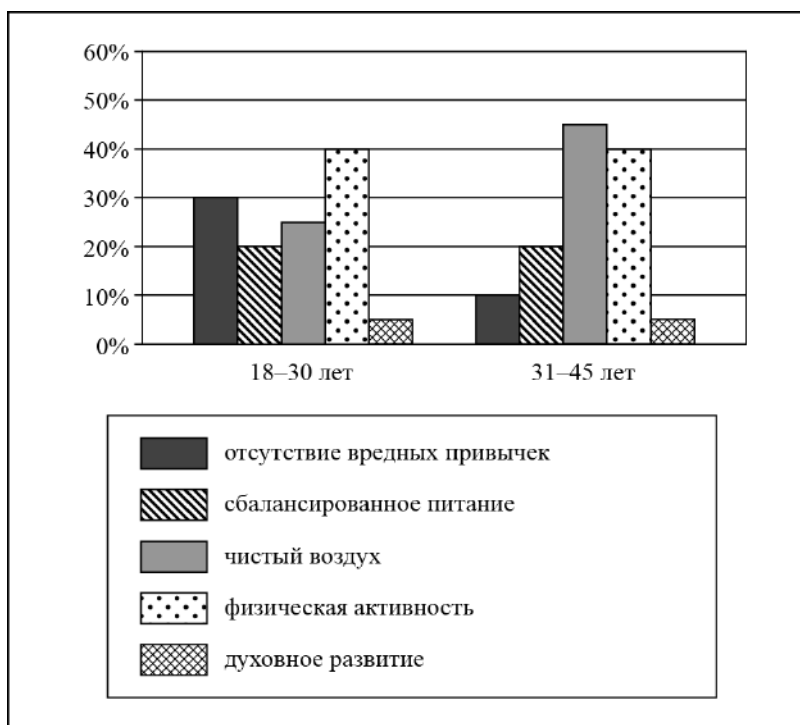
Ответ на третий вопрос: \_\_\_\_\_  
\_\_\_\_\_  
\_\_\_\_\_

Ответ на четвёртый вопрос: \_\_\_\_\_  
\_\_\_\_\_  
\_\_\_\_\_



14

В ходе социологического опроса жителей города Z им задавали вопрос: «Что в большей степени способствует улучшению здоровья граждан?» (можно было дать несколько ответов). Результаты опроса (в % от числа отвечающих) представлены в виде диаграммы.



Сформулируйте по одному выводу: а) о сходстве; б) о различии в позициях групп опрошенных. Выскажите предположение о том, чем объясняются указанные Вами: а) сходство; б) различие.

Ответ: \_\_\_\_\_

---



---



---



---



---



---



---



---



---



---



---



---



---



---



---



---



---



---



---



---



---



---

15

Назовите не менее четырёх действий, которые гражданин должен предпринять в случае нападения на него стаи диких собак.

Ответ: \_\_\_\_\_

---

---

---

---

---

---

---

---

---

---

16

Борщевик представляет опасность для здоровья человека. Объясните, в чём состоит опасность. Назовите не менее двух действий, которые нужно предпринять, если человек попал в зону произрастания борщевика.

Ответ: \_\_\_\_\_

---

---

---

---

---

---

---

---

---

---

17

Определите регион России по его краткому описанию.

Особенностью географического положения этой области является наличие выхода к государственной границе РФ. Большая часть её территории области находится в зоне степи, в бассейнах двух рек, относящихся к бассейну внутреннего стока. На территории области разведаны месторождения нефти, природного газа, руд чёрных и цветных металлов. Ведущие отрасли промышленности: топливная, чёрная и цветная металлургия, машиностроение и химическая промышленность. Хорошо развито сельское хозяйство.

Ответ: \_\_\_\_\_.

18

Прочитайте приведённый ниже текст, в котором пропущен ряд слов. Выберите из предлагаемого списка слова, которые необходимо вставить на места пропусков.

### Климат Дальнего Востока России

Дальний Восток России расположен в трёх климатических поясах: умеренном, \_\_\_\_\_ (А) и арктическом. Климат Дальнего Востока характеризуется \_\_\_\_\_ (Б) по сравнению с Восточной Сибирью среднегодовым количеством атмосферных осадков. Главной особенностью циркуляции атмосферы в \_\_\_\_\_ (В) период является преобладание переноса влажных воздушных масс с юга, юго-востока и востока.

Выбирайте последовательно одно слово за другим, мысленно вставляя на места пропусков слова из списка в нужной форме. Обратите внимание на то, что слов в списке больше, чем Вам потребуется для заполнения пропусков. Каждое слово может быть использовано только один раз.

Список слов:

- 1) зимний
- 2) летний
- 3) большой
- 4) меньший
- 5) субтропический
- 6) субарктический

В данной ниже таблице приведены буквы, обозначающие пропущенные слова. Запишите в таблицу под каждой буквой номер выбранного Вами слова.

Ответ:

А	Б	В

19

Установите соответствие между республикой в составе РФ и её столицей: к каждому элементу первого столбца подберите соответствующий элемент из второго столбца.

### РЕСПУБЛИКА

- А) Дагестан
- Б) Адыгея
- В) Кабардино-Балкарская

### СТОЛИЦА

- 1) Чебоксары
- 2) Нальчик
- 3) Махачкала
- 4) Майкоп

Запишите в таблицу выбранные цифры под соответствующими буквами.

Ответ:

А	Б	В

20

Потенциал российских регионов для развития туризма огромен. Каждый из них имеет рекреационные ресурсы, способные привлечь тысячи туристов из России и зарубежных стран. Определите субъект Российской Федерации по описанию его рекреационного потенциала.

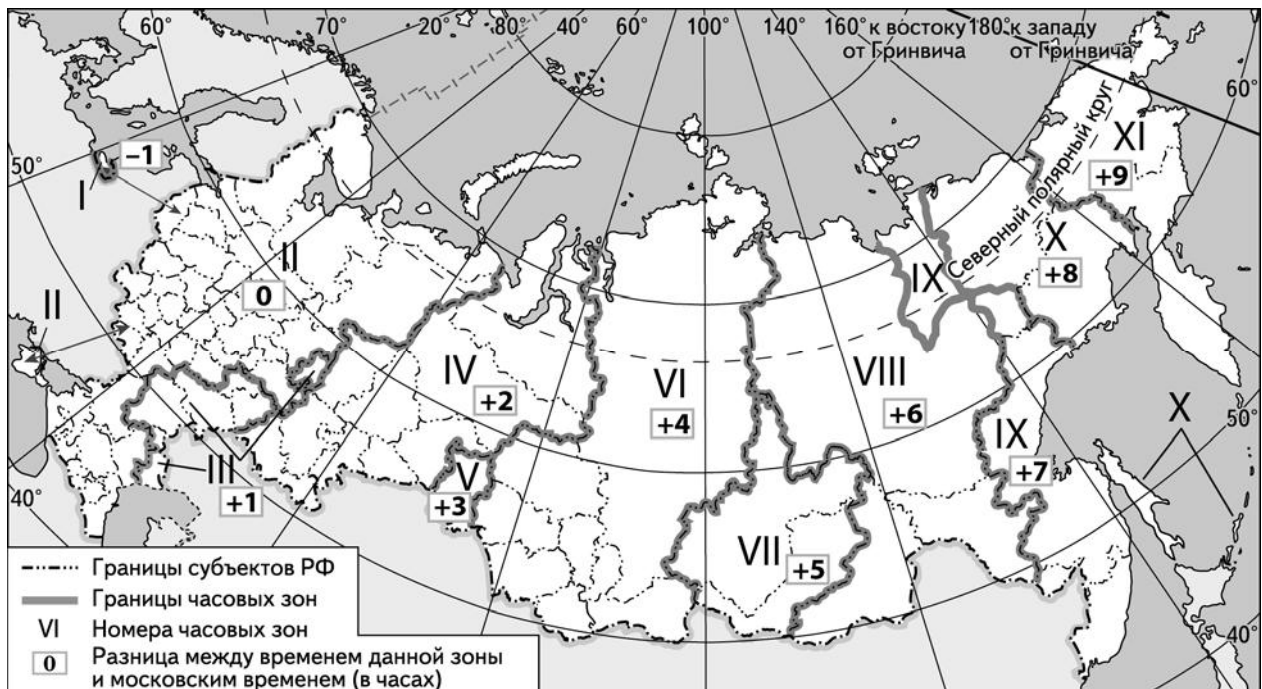
«Регион обладает богатым рекреационным потенциалом. Любителей походов и экспедиций ждёт бескрайняя тайга с её редкими животными, занесёнными в Красную книгу России. Туристы могут посетить уникальный Хинганский заповедник, в котором обитают редчайшие виды птиц – уссурийский и даурский журавли. Любителей техно-туризма ждёт космодром "Восточный", а также строящаяся Бурейская ГЭС, на которой расположены смотровые площадки для любования прекрасным видом на Бурейское водохранилище, которое местные жители называют "морем". Чистый воздух, живописные берега, богатство животного мира и биологическое разнообразие рыб привлекают большое количество туристов.»

Ответ: \_\_\_\_\_

21

Прямая трансляция матча 1/4 финала Чемпионата Европы по футболу 2020 г., который состоится 3 июля в Санкт-Петербурге, начнётся в 19 часов по московскому времени.

Используя карту, определите, в каких из перечисленных регионов эта трансляция начнётся в 23 часа по местному времени этих регионов. Запишите цифры, под которыми они указаны.



- 1) Республика Тыва
- 2) Оренбургская область
- 3) Республика Коми
- 4) Пермский край
- 5) Омская область
- 6) Республика Алтай

Ответ: \_\_\_\_\_

22

Портал «Госуслуги» (<https://www.gosuslugi.ru>) является одним из самых востребованных интернет-сервисов для решения вопросов, связанных с обращением в органы государственной власти Российской Федерации, различные ведомства и организации.

На портале возможны три уровня регистрации:

**упрощённый** – указываются контактные данные, доступ к услугам ограничен;

**стандартный** – указываются персональные данные, доступ к услугам ограничен;

**подтверждённый** – помимо указания персональных данных требуется процедура подтверждения личности.

Пользователю с подтверждённым уровнем регистрации доступен наиболее широкий набор услуг, включая выдачу различных персональных документов и справок.

Ответьте на следующие вопросы, связанные с использованием портала «Госуслуги».

1) Какие сведения (персональные данные) помимо ФИО должен указать гражданин при регистрации? Приведите не менее 4 различных позиций.

Ответ: \_\_\_\_\_

\_\_\_\_\_

\_\_\_\_\_

\_\_\_\_\_

2) Каких рисков позволяет избежать ограничение по набору доступных услуг, введённое для пользователей со стандартным уровнем регистрации?

Ответ: \_\_\_\_\_

\_\_\_\_\_

\_\_\_\_\_

\_\_\_\_\_

3) В чём удобство загрузки и хранения всех персональных данных на портале «Госуслуги» для гражданина, получившего подтверждённый уровень регистрации?

Ответ: \_\_\_\_\_

\_\_\_\_\_

\_\_\_\_\_

\_\_\_\_\_

4) В чём удобство электронного способа получения справки по сравнению с очным визитом в соответствующее учреждение?

Ответ: \_\_\_\_\_

\_\_\_\_\_

\_\_\_\_\_

\_\_\_\_\_

