

**Проверочная работа
по ИСТОРИИ****5 класс****Вариант 2****Инструкция по выполнению работы**

На выполнение работы по истории даётся 45 минут. Работа состоит из двух частей и включает в себя 7 заданий. Часть 1 работы содержит задания по истории Древнего мира, в части 2 предложено задание, связанное с памятью народа России о Великой Отечественной войне.

Ответы на задания запишите в поля ответов в тексте работы. В случае записи неверного ответа зачеркните его и запишите рядом новый.

При выполнении работы не разрешается пользоваться учебником, рабочими тетрадями и другими справочными материалами.

При необходимости можно пользоваться черновиком. Записи в черновике проверяться и оцениваться не будут.

Советуем выполнять задания в том порядке, в котором они даны. В целях экономии времени пропускайте задание, которое не удаётся выполнить сразу, и переходите к следующему. Если после выполнения всей работы у Вас останется время, то Вы сможете вернуться к пропущенным заданиям.

Желаем успеха!

Заполняется учителем, экспертом или техническим специалистом

Обратите внимание: в случае, если какие-либо задания не могли быть выполнены целым классом по причинам, связанным с отсутствием соответствующей темы в реализуемой школой образовательной программе, в форме сбора результатов ВПР всем обучающимся класса за данное задание вместо балла выставляется значение «Тема не пройдена». В соответствующие ячейки таблицы заполняется н/п.

Таблица для внесения баллов участника

Номер задания	1	2	3	4	5	6	7	Сумма баллов	Отметка за работу
Баллы									

Часть 1



В этой части работы даны задания по истории Древнего мира.

Прочтите перечень из четырёх тем и выполните задания, относящиеся к этому перечню.

- Перечень тем**
- А) Древняя Палестина
 - Б) Древняя Греция
 - В) Древний Египет
 - Г) Древняя Индия

1

Каждая из иллюстраций, приведённых ниже, относится к одной из указанных в перечне тем. Установите соответствие между темами и иллюстрациями: к каждой теме подберите по одной иллюстрации.



Запишите в таблицу выбранные цифры под соответствующими буквами.



Ответ:

А	Б	В	Г

Перечень тем

А) Древняя Палестина

Б) Древняя Греция

В) Древний Египет

Г) Древняя Индия

2

Прочтите отрывок из исторического источника и определите, к какой из данных тем он относится. В ответе напишите букву, которой обозначена эта тема.

«Шудрой не должны накапливаться богатства, даже имеющим возможность [сделать это], так как шудра, приобретая богатство, притесняет брахманов.

Если дочь брахмана от шудрянки рождает в супружестве с брахманом [дочь, которая вступает в брак также с брахманом и так далее], низший достигает высшей касты в седьмом колене.

[Так] шудра идет к степени брахмана и брахман к степени шудры, но пусть будет известно, [что это относится] и к потомству кшатрия, а также вайши.

Одна четверть (эпитемии) за убийство брахмана предписывается [как очищение] за убийство кшатрия, одна восьмая — за убийство вайши; пусть будет известно, что одна шестнадцатая за убийство добродетельного шудры».

Ответ:

Выберите одну тему из перечня, а затем выполните относящиеся к этому перечню задания только по выбранной Вами теме. Перед выполнением каждого из относящихся к перечню заданий укажите букву, которой обозначена выбранная тема. Указанные в заданиях буквы должны быть одинаковыми.

3

Выбранная тема: (укажите букву в перечне).

Прочтите список слов (словосочетание) и напишите слово (словосочетание), относящееся к выбранной Вами теме.

«Рамаяна», акрополь, десять заповедей, бумага, клинопись, фараон.

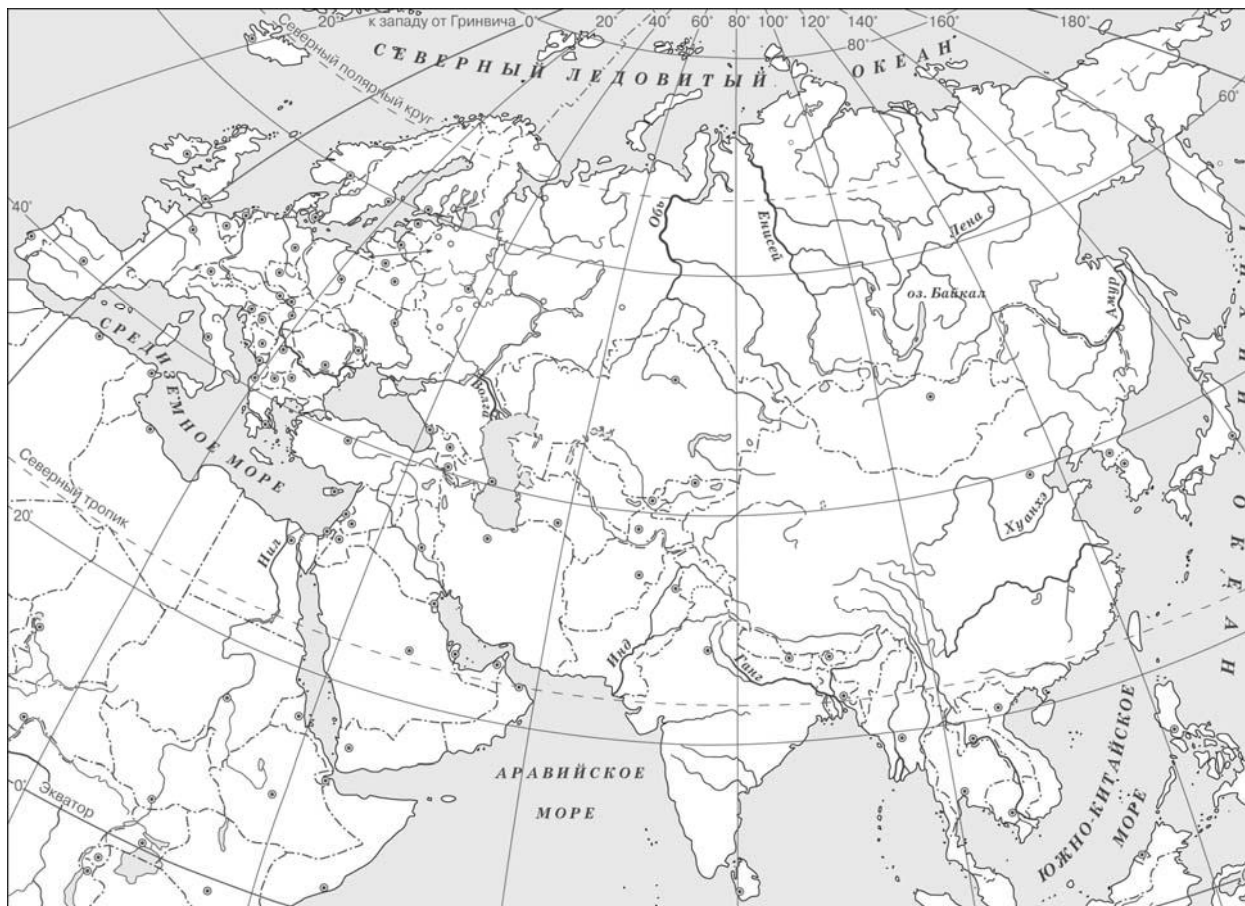
Ответ: _____

Объясните смысл этого слова (словосочетания).

Ответ: _____

5

Заштрихуйте на контурной карте один четырёхугольник, образованный градусной сеткой (параллелями и меридианами), в котором полностью или частично находится река Янцзы.



6

Используя знания исторических фактов, объясните, как природно-климатические условия повлияли на занятия жителей древнего государства, в котором протекала река Янцзы.

Ответ: _____

Часть 2

7

Рассмотрите изображение и выполните задание.



В какой по счёту год с начала Великой Отечественной войны произошло событие, которому посвящён данный памятный мемориал? Объясните, почему граждане нашей страны хранят память о войне, событиям которой посвящен этот мемориал.

Ответ: _____
