

Проверочная работа
по ИСТОРИИ

5 класс

Вариант 2

Инструкция по выполнению работы

На выполнение работы по истории даётся 45 минут. Работа состоит из двух частей и включает в себя 7 заданий. Часть 1 работы содержит задания по истории Древнего мира, в части 2 предложено задание, связанное с памятью народа России о Великой Отечественной войне.

Ответы на задания запишите в поля ответов в тексте работы. В случае записи неверного ответа зачеркните его и запишите рядом новый.

При выполнении работы не разрешается пользоваться учебником, рабочими тетрадями и другими справочными материалами.

При необходимости можно пользоваться черновиком. Записи в черновике проверяться и оцениваться не будут.

Советуем выполнять задания в том порядке, в котором они даны. В целях экономии времени пропускайте задание, которое не удаётся выполнить сразу, и переходите к следующему. Если после выполнения всей работы у Вас останется время, то Вы сможете вернуться к пропущенным заданиям.

Желаем успеха!

Заполняется учителем, экспертом или техническим специалистом

Обратите внимание: в случае, если какие-либо задания не могли быть выполнены целым классом по причинам, связанным с отсутствием соответствующей темы в реализуемой школой образовательной программе, в форме сбора результатов ВПР всем обучающимся класса за данное задание вместо балла выставляется значение «Тема не пройдена». В соответствующие ячейки таблицы заполняется н/п.

Таблица для внесения баллов участника

Номер задания	1	2	3	4	5	6	7	Сумма баллов	Отметка за работу
Баллы									

Часть 1

В этой части работы даны задания по истории Древнего мира.

Прочтите перечень из четырёх тем и выполните задания, относящиеся к этому перечню.

Перечень тем

А) Древний Египет

Б) Древняя Греция

В) Древний Китай

Г) Древняя Индия

1

Каждая из иллюстраций, приведённых ниже, относится к одной из указанных в перечне тем. Установите соответствие между темами и иллюстрациями: к каждой теме подберите по одной иллюстрации.


1)



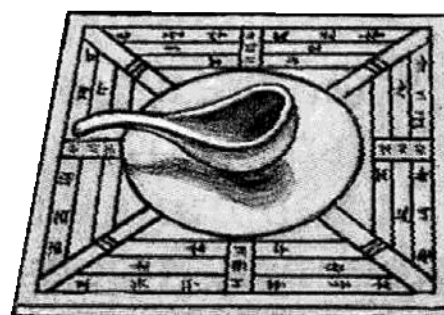
2)



3)



4)



Запишите в таблицу выбранные цифры под соответствующими буквами.

Ответ:

А	Б	В	Г

Перечень тем

А) Древний Египет

Б) Древняя Греция

В) Древний Китай

Г) Древняя Индия

2

Прочтите отрывок из легенды и определите, к какой из данных тем он относится. В ответе напишите букву, которой обозначена эта тема.

«И зашипел Мара, как кобра, когда ей наступают на хвост, и скрылся из глаз. Потом он сводил с неба молнии, гремел громом, обрушивал скалы, но не мог сокрушить мудреца: человек, верный истине, крепче каменной горы.

Мудрец поднялся и твёрдым шагом спустился в долину. Там были люди, словно бы ожидавшие его прихода. Их было пятеро. Они были первыми, кому Гаутама возвестил истину. С той поры его стали называть Буддой. На самом деле Просветлённым он стал уже тогда, когда впервые был пронзён жалостью к людям».

Ответ:

Выберите одну тему из перечня, а затем выполните относящиеся к этому перечню задания только по выбранной Вами теме. Перед выполнением каждого из относящихся к перечню заданий укажите букву, которой обозначена выбранная тема. Указанные в заданиях буквы должны быть одинаковыми.

3

Выбранная тема: (укажите букву в перечне).

Прочтите список слов и напишите слово, относящееся к выбранной Вами теме.

Сатрап, фараон, агора, Ниневия, брахманы, Хуанхэ.

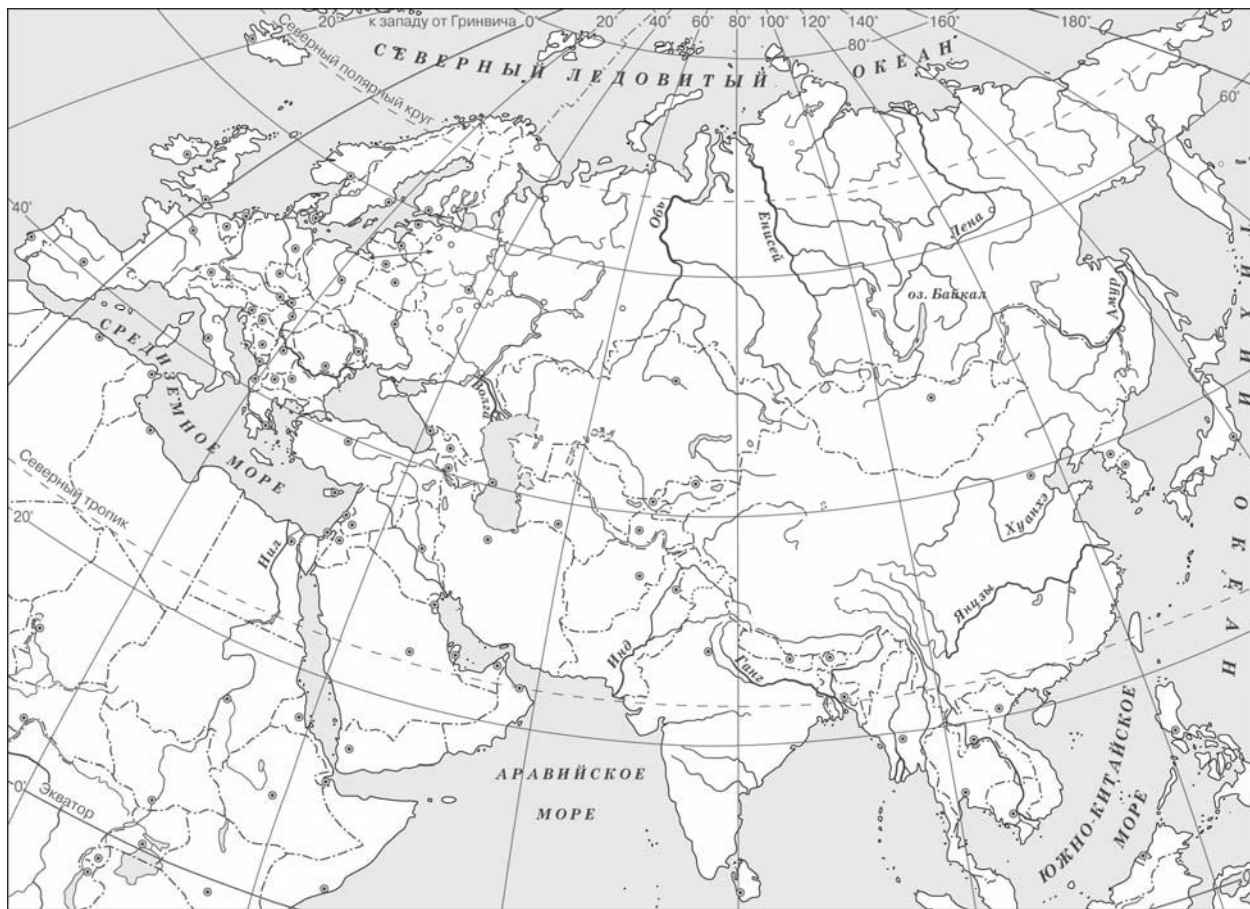
Ответ: _____

Объясните смысл этого слова.

Ответ: _____

5

Заштрихуйте на контурной карте четырёхугольник, образованный градусной сеткой (параллелями и меридианами), в котором были расположены города Библ, Сидон и Тир.



6

Используя знания исторических фактов, объясните, как природно-климатические условия повлияли на занятия жителей государства, в котором были расположены города Библ, Сидон и Тир.



Ответ: _____

Часть 2

7

Рассмотрите изображение и выполните задание.



Укажите название войны, событиям которой посвящён памятник-ансамбль, фрагмент которого изображён на данной почтовой марке. Объясните, почему память о событиях этой войны увековечена во множестве монументов, возведённых в нашей стране.

□

Ответ: _____
