

**Проверочная работа
по БИОЛОГИИ**

**6 КЛАСС
(концентрическая программа)**

Вариант 1

Инструкция по выполнению работы

На выполнение работы по биологии отводится 45 минут. Работа включает в себя 10 заданий.

Ответы на задания запишите в поля ответов в тексте работы. В случае записи неверного ответа зачеркните его и запишите рядом новый.

При выполнении работы не разрешается пользоваться учебником, рабочими тетрадями и другим справочным материалом. Разрешается использовать линейку.

При необходимости можно пользоваться черновиком. Записи в черновике проверяться и оцениваться не будут.

Советуем выполнять задания в том порядке, в котором они даны. В целях экономии времени пропускайте задание, которое не удаётся выполнить сразу, и переходите к следующему. Если после выполнения всей работы у Вас останется время, то Вы сможете вернуться к пропущенным заданиям.

Желаем успеха!

Заполняется учителем, экспертом или техническим специалистом

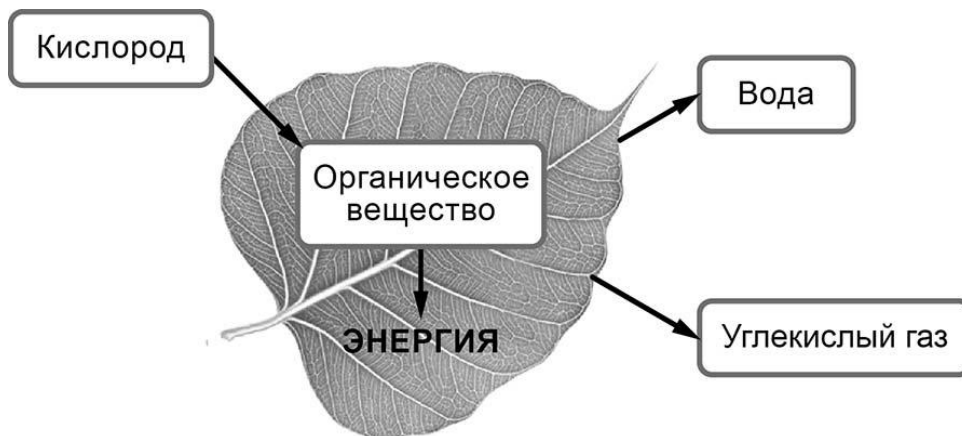
Обратите внимание: в случае, если какие-либо задания не могли быть выполнены целым классом по причинам, связанным с отсутствием соответствующей темы в реализуемой школой образовательной программе, в форме сбора результатов ВПР всем обучающимся класса за данное задание вместо балла выставляется значение «Тема не пройдена». В соответствующие ячейки таблицы заполняется н/п.

Таблица для внесения баллов участника

Номер задания	1.1	1.2	1.3	2.1	2.2	3	4.1	4.2	4.3	5	6	7	8.1	8.2	9	10	Сумма баллов	Отметка за работу
Баллы																		

1

На представленном ниже рисунке ученик зафиксировал в виде схемы один из процессов жизнедеятельности растений. Рассмотрите схему и ответьте на вопросы.



1.1. Как называют данный процесс?

Ответ. _____

1.2. Знание в какой области ботанической науки позволит ученику изучить данный процесс?

Ответ. _____

1.3. Каково значение данного процесса в жизни растений?

Ответ. _____

2

В приведённой ниже таблице между позициями первого и второго столбцов имеется взаимосвязь.

Целое	Часть
Покровная ткань	Кожица
...	Луб

2.1. Какое понятие следует вписать на место пропуска в этой таблице?

- 1) механическая ткань
- 2) проводящая ткань
- 3) образовательная ткань
- 4) запасаящая ткань

Ответ.

2.2. Какую функцию выполняет образовательная ткань зоны деления корня растения?

Ответ. _____

3

Выберите из предложенного списка и вставьте в текст пропущенные слова (словосочетание), используя для этого их цифровые обозначения. Впишите номера выбранных слов (словосочетания) на места пропусков в тексте.

ВОЗДУШНОЕ ПИТАНИЕ

Энергию, необходимую для своего существования, растения запасают в виде органических веществ. Эти вещества синтезируются в ходе _____ (А). Этот процесс протекает в клетках листа в хлоропластах – особых пластидах, содержащих пигмент зелёного цвета – _____ (Б). Обязательными условиями образования органических веществ являются свет, вода и _____ (В).

Список слов (словосочетание):

- 1) дыхание
- 2) кислород
- 3) хлорофилл
- 4) фотосинтез
- 5) углекислый газ
- 6) крахмал

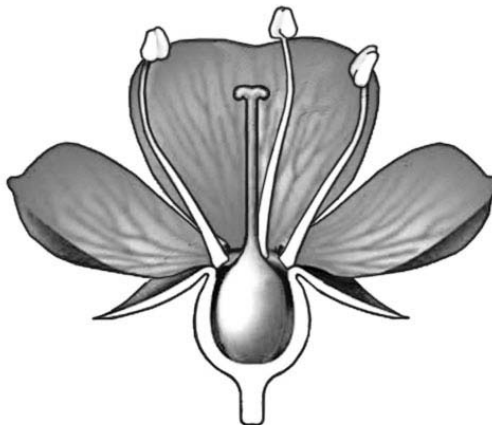
Запишите в таблицу выбранные цифры под соответствующими буквами.

Ответ.

А	Б	В

4

Рассмотрите изображение цветка и выполните задания.



4.1. Покажите стрелками и подпишите на рисунке *чашелистик, пыльник, рыльце*.

4.2. Какую функцию в цветке выполняет рыльце?

Ответ. _____

4.3. Как называется процесс переноса пыльцы у цветковых растений?




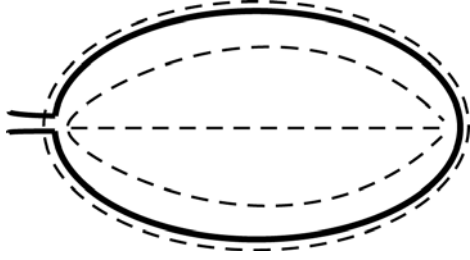
Ответ. _____

5


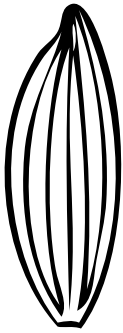


Рассмотрите изображение листа фикуса и опишите его по следующему плану: форма листа, жилкование листа, тип листа по соотношению длины и ширины листовой пластинки (без черешка) и по расположению наиболее широкой части. Используйте при выполнении задания линейку и карандаш.



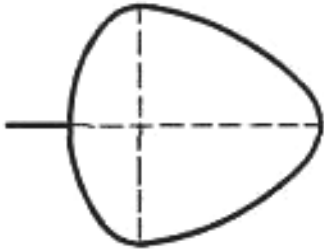
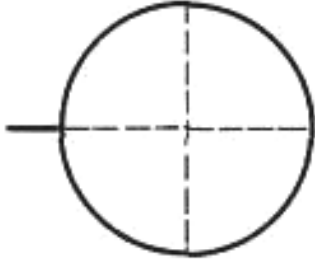
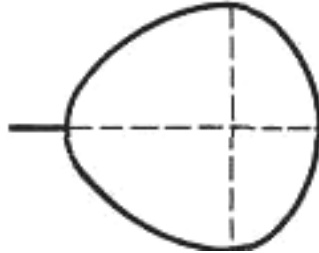
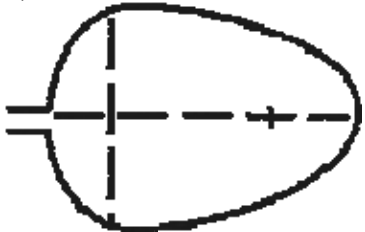
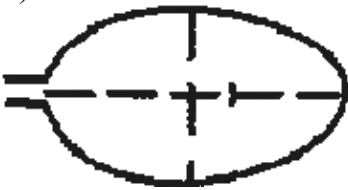
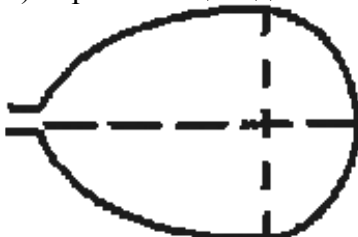
А. Форма листа

<p>1) перисто-лопастная</p> 	<p>2) перисто-раздельная</p> 
<p>3) перисто-рассечённая</p> 	<p>4) цельная</p> 

Б. Жилкование листа

			
1) параллельное	2) дуговидное	3) пальчатое	4) перисто-сетчатое

В. Тип листа по соотношению длины и ширины листовой пластинки (без черешка) и по расположению наиболее широкой части

Длина равна ширине или немного её превышает.		
1) широкояйцевидный 	2) округлый 	3) обратно-широкояйцевидный 
Длина превышает ширину в 1,5–2 раза.		
4) яйцевидный 	5) овальный 	6) обратно-яйцевидный 

Впишите в таблицу **номера** выбранных ответов под соответствующими буквами.

Ответ.

А	Б	В

6

Почему пестики и тычинки – главные части цветка?

- 1) являются самыми крупными
- 2) привлекают насекомых
- 3) являются органами размножения
- 4) содержат сладкий нектар

Ответ.

7

Тамара и Василий собрали и подготовили для гербария образцы растений. Для каждого растения им необходимо составить «паспорт», соответствующий положению этого растения в общей классификации организмов. Помогите ребятам записать в таблицу **слова (словосочетание)** из предложенного списка в такой последовательности, чтобы получился «паспорт» растения.

Список слов (словосочетание):

- 1) Клён
- 2) Растения
- 3) Клён красный
- 4) Покрытосеменные
- 5) Двудольные

Царство	Отдел	Класс	Род	Вид

8

8.1. Установите соответствие между характеристиками и отделами растений: к каждой позиции, данной в первом столбце, подберите соответствующую позицию из второго столбца.

ХАРАКТЕРИСТИКИ	ОТДЕЛЫ РАСТЕНИЙ
А) прикрепляются ризоидами	1) Мхи
Б) размножаются спорами	2) Голосеменные
В) преобладают древесные формы	
Г) имеют семена	
Д) образуют пыльцевую трубку	
Е) нуждаются при размножении в воде	

Запишите в таблицу выбранные цифры под соответствующими буквами.

Ответ:

А	Б	В	Г	Д	Е

8.2. Приведите по три примера растений, относящихся к указанным отделам. Запишите их названия в таблицу.

Голосеменные	Мхи

9

Верны ли следующие суждения о размножении шляпочных грибов?

- А. Грибы размножаются спорами, которые созревают в спороносном слое плодовых тел.
- Б. Вегетативное размножение осуществляется путём деления мицелия.

- 1) верно только А
- 2) верно только Б
- 3) оба суждения верны
- 4) оба суждения неверны

Ответ.

10

Рассмотрите изображения шести представителей мира грибов. Предложите основание, согласно которому эти грибы можно разделить на две группы – по три представителя в каждой.



Маслёнок



Лисичка



Мухомор красный



Подосиновик



Белый гриб



Груздь

Заполните таблицу: запишите в неё основание, по которому были разделены грибы, общее название для каждой группы грибов и перечислите грибы, которые Вы отнесли к этой группе.

Номер группы	Какое основание позволило разделить грибы?	Как называется данная группа грибов?	Какие грибы относятся к данной группе?
Группа 1			
Группа 2			

