

**Проверочная работа
по ИСТОРИИ**

6 класс

Вариант 1

Инструкция по выполнению работы

На выполнение работы по истории даётся 45 минут. Работа включает в себя 8 заданий. Часть 1 работы посвящена истории России и истории зарубежных стран (история Средних веков), в части 2 предложено задание, связанное с памятью народа России о Великой Отечественной войне.

Ответы на задания запишите в поля ответов в тексте работы. В случае записи неверного ответа зачеркните его и запишите рядом новый.

При необходимости можно пользоваться черновиком. Записи в черновике проверяться и оцениваться не будут.

Советуем выполнять задания в том порядке, в котором они даны. В целях экономии времени пропускайте задание, которое не удаётся выполнить сразу, и переходите к следующему. Если после выполнения всей работы у Вас останется время, то Вы сможете вернуться к пропущенным заданиям.

Желаем успеха!

Заполняется учителем, экспертом или техническим специалистом

Обратите внимание: в случае, если какие-либо задания не могли быть выполнены целым классом по причинам, связанным с отсутствием соответствующей темы в реализуемой школой образовательной программе, в форме сбора результатов ВПР всем обучающимся класса за данное задание вместо балла выставляется значение «Тема не пройдена». В соответствующие ячейки таблицы заполняется н/п.

Таблица для внесения баллов участника

Номер задания	1	2	3	4	5	6	7	8	Сумма баллов	Отметка за работу
Баллы										

Перечень событий (процессов)

- | | |
|---|---|
| А) борьба Руси с половцами | Б) формирование Древнерусского государства |
| В) политика московских князей в первой половине XIV в. | Г) объединение Франции в XII–XV вв. |

2

Прочтите отрывок из исторического источника и определите, к какому из данных событий (процессов) он относится. В ответе напишите букву, которой обозначено это событие (процесс).

«И... узнал Олег, что княжат тут Аскольд и Дир. Спрятал он одних воинов в ладьях, а других оставил позади, и сам приступил, неся младенца Игоря. И подплыл к Угорской горе, спрятав своих воинов, и послал к Аскольду и Диру, говоря им, что-де "мы купцы, идём в Греки от Олега и княжича Игоря. Придите к нам, к родичам своим". Когда же Аскольд и Дир пришли, выскочили все остальные из ладей, и сказал Олег Аскольду и Диру: "Не князья вы и не княжеского рода, но я княжеского рода", и показал Игоря: "А это сын Рюрика". И убили Аскольда и Диру, отнесли на гору и погребли Аскольда на горе, которая называется ныне Угорской, где теперь Ольмин двор; на той могиле Ольма поставил церковь святого Николы; а Дирова могила – за церковью святой Ирины».

Ответ:

3

С каким из данных событий (процессов) связано название «Генеральные штаты»? Запишите букву, которой обозначено данное событие (процесс).

Ответ:

Объясните смысл названия «Генеральные штаты».

Ответ:

4

Укажите две исторические личности, которые были непосредственно связаны с расширением русско-византийских связей в X–XI вв.
Укажите одно любое действие каждой из этих личностей, в значительной степени повлиявшее на расширение русско-византийских связей в X–XI вв.

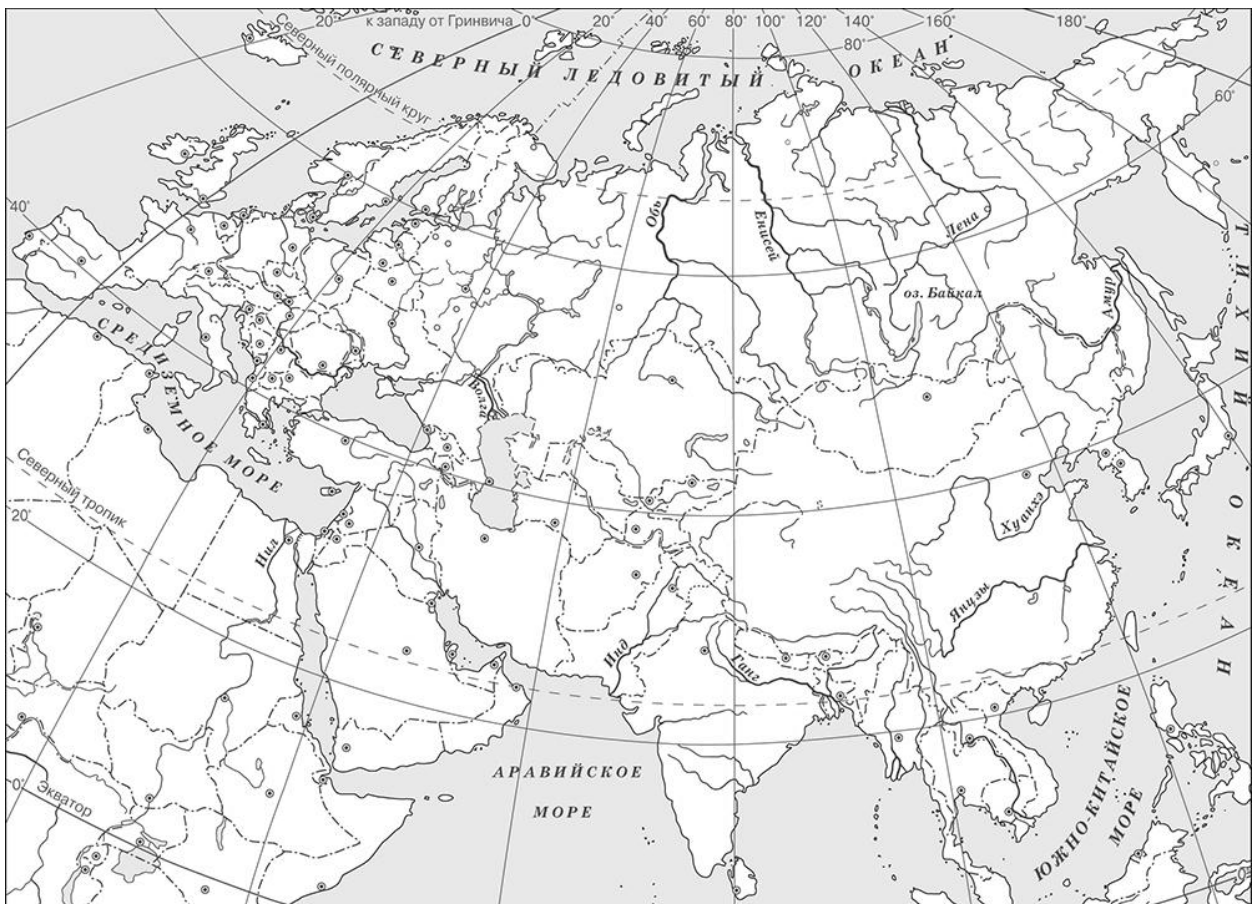
Ответ:

Личности	Действия
1.	
2.	





5

Заштрихуйте на контурной карте один четырёхугольник, образованный градусной сеткой, в котором находится город, к захвату которого стремились крестоносцы – Иерусалим.



Рассмотрите изображения



6) На каких двух изображениях представлены памятники культуры России, а на каких – памятники культуры зарубежных стран? Запишите в таблицу порядковые номера соответствующих изображений.

□ Ответ:

Памятники культуры России		Памятники культуры зарубежных стран	

7) Какие из перечисленных памятников культуры созданы в XII в.? Выберите два памятника культуры и запишите в таблицу цифры, под которыми они указаны.

- 1) «Поучение Владимира Мономаха»
- 2) «Задонщина»
- 3) «Повесть временных лет»
- 4) Золотые ворота в Киеве
- 5) «Песня о Щелкане Дудентьевиче»

□ Ответ: □ □

Часть 2

8

Рассмотрите изображение и выполните задание.



Укажите название акции памяти, во время проведения которой была сделана данная фотография. Объясните, почему участие в этой акции является значимым для граждан нашей страны.



Ответ: _____
