

Проверочная работа**по ФИЗИКЕ****7 класс****Вариант 1****Инструкция по выполнению работы**

На выполнение работы по физике даётся 45 минут. Работа содержит 11 заданий.

Ответом на каждое из заданий 1, 3–6, 8, 9 является число или несколько чисел. В заданиях 2 и 7 нужно написать текстовый ответ. В заданиях 10 и 11 нужно написать решения задач полностью. В случае записи неверного ответа зачеркните его и запишите рядом новый.

При выполнении работы можно пользоваться непрограммируемым калькулятором.

При необходимости можно пользоваться черновиком. Записи в черновике проверяться и оцениваться не будут.

Советуем выполнять задания в том порядке, в котором они даны. Для экономии времени пропускайте задание, которое не удаётся выполнить сразу, и переходите к следующему. Постарайтесь выполнить как можно больше заданий.

Желаем успеха!

Заполняется учителем, экспертом или техническим специалистом

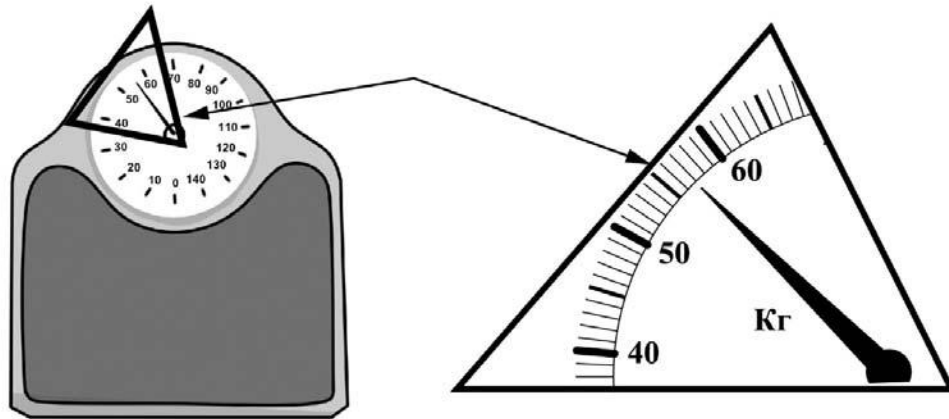
Обратите внимание: в случае, если какие-либо задания не могли быть выполнены целым классом по причинам, связанным с отсутствием соответствующей темы в реализуемой школой образовательной программе, в форме сбора результатов ВПР всем обучающимся класса за данное задание вместо балла выставляется значение «Тема не пройдена». В соответствующие ячейки таблицы заполняется н/п.

Таблица для внесения баллов участника

Номер задания	1	2	3	4	5	6	7	8	9	10	11	Сумма баллов	Отметка за работу
Баллы													

1

Костя готовится к соревнованиям. Максимально допустимая масса спортсмена, выступающего в его весовой категории, составляет 50 кг. Определите минимальное количество килограммов, которое нужно сбросить Косте для того, чтобы его допустили до соревнований.



Ответ: _____ кг.

2

Летним вечером над лугом образовался туман, а утром выпала роса. В каком агрегатном состоянии находилась вода вечером и утром? Как изменяется внутреннее строение молекул воды при их переходе из тумана в капли росы?

Ответ: _____

3

Для приготовления домашнего майонеза Лене нужно 276 г оливкового масла. К сожалению, у неё под рукой нет весов, но зато в кухонном шкафу есть мерный стаканчик для жидкостей. Лена нашла в учебнике физики таблицу, в которой было указано, что плотность оливкового масла равна $0,920 \text{ г/см}^3$. Какой объём масла нужно отмерить Лене?

Ответ: _____ мл.

4

Илья, гуляя с собакой, прошёл от дома до магазина и обратно. На рисунке показан график зависимости его координаты от времени. Когда Илья вернулся домой, мама попросила его ещё раз сбежать в магазин и купить масло. Через какое время после этого Илья вернётся домой с маслом, если он будет спешить, и весь путь, включая время покупки масла, займёт на две минуты меньше, чем при прогулке с собакой?



Ответ: _____ мин.

5

Василий заметил, что если он погружается с головой в ванну, изначально заполненную водой на 0,7 объёма, то уровень воды доходит до края ванны. Найдите объём Василия, если полная ванна вмещает 180 л.

Ответ: _____ л.

6

Направляясь на день рождения к Лизе, Саша купил в магазине связку из 11 воздушных шаров. Но, выйдя на улицу, он обнаружил, что из-за низкой температуры на улице объём шариков уменьшился. Саша предположил, что плотность газа в шариках при охлаждении увеличилась в 1,1 раза. Определите, на сколько литров уменьшился при этом суммарный объём шаров, если предположение Саши верно, а исходный объём одного шарика был равен 3 л?

Ответ: _____ л.

7


Катя решила проверить – справедлив ли закон Гука для резинки для волос. В кабинете физики она взяла набор одинаковых грузиков массой по 50 г каждый и стала подвешивать их к резинке. Определите, выполняется ли закон Гука для изучаемой резинки? Ответ кратко поясните.

Количество подвешенных грузиков	Длина резинки, см
1	20
2	22
3	24
4	26
5	28

□ Ответ: _____

8

Ходить по рыхлому снегу неудобно, так как ноги всё время проваливаются в него. Если такая прогулка всё же необходима, то используют снегоступы. Какой должна быть минимальная площадь одного снегоступа для того, чтобы человек массой 60 кг проваливался в снег не более чем на 5 см? На рыхлом снегу это условие соблюдается при давлении не более 15 кПа. Учтите, что когда человек делает шаг при ходьбе, то в какие-то промежутки времени он опирается только на одну ногу.



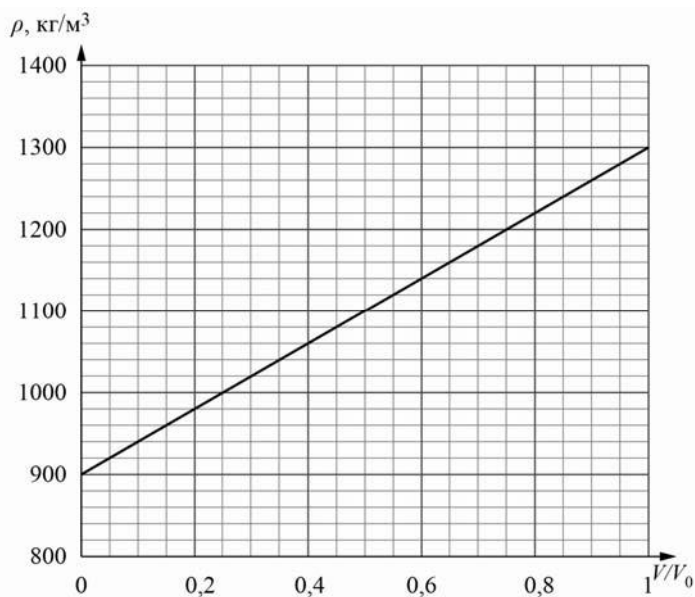
□ Ответ: _____ м².

9

Строители в Заполярье иногда используют в качестве строительного материала ледобетон. Так называют лёд с вмороженной в него галькой. Ледобетон настолько прочен, что при работе с ним нередко ломаются даже стальные зубья экскаваторов. На рисунке изображён график зависимости средней плотности ρ блока ледобетона от соотношения V/V_0 (здесь V – объём гальки в блоке, V_0 – общий объём блока).

1) Пользуясь графиком, определите среднюю плотность блока ледобетона в том случае, когда объёмы входящих в него гальки и льда относятся как 3/7.

2) На сколько средняя плотность гальки, входящей в состав ледобетона, отличается от плотности льда?



Ответ: 1) _____ кг/м³;

2) _____ кг/м³.

10

В лаборатории завода в запаянной колбе из толстого стекла хранилась ртуть. Перед отправкой ртути в производственный цех завода лаборанту было поручено, не вскрывая колбу, измерить массу ртути. Лаборант определил массу колбы с ртутью и внешний объём колбы. Измерения дали результат: $m = 1,499$ кг и $V = 200$ см³. Используя справочные данные, лаборант правильно вычислил массу ртути. Плотность ртути $\rho_p = 13,6$ г/см³, плотность стекла $\rho_c = 2,5$ г/см³.

- 1) Чему равна масса колбы с ртутью, если её выразить в граммах?
- 2) Определите массу ртути в колбе, если ртуть заполняла внутреннее пространство колбы практически полностью.
- 3) Во сколько раз масса ртути больше массы пустой колбы? Округлите до сотых.

Напишите полное решение этой задачи.

Ответы на вопросы обоснуйте соответствующими рассуждениями или решением задачи.


Решение:	
Ответ:	

11

Существуют различные шкалы для измерения расстояний. Так, метрическая шкала распространена в Европе и Азии. Другая шкала, которая в настоящее время используется в основном в Северной Америке и Англии – это дюймовая шкала.

Пользуясь изображением линейки с двумя шкалами (метрической и дюймовой), оцените:

- 1) толщину книги в сантиметрах;
- 2) длину диагонали экрана планшета в миллиметрах, если известно, что она равна 10,5” (дюйма);
- 3) сколько цветных точек печатает фотопринтер на 1 см² бумаги, если при печати фотографии он печатает 750 точек на каждый квадратный дюйм изображения.



Решение:	
<div style="border: 1px solid black; width: 40px; height: 30px; display: inline-block; margin-bottom: 5px;"></div> Ответ:	