

**Проверочная работа
по ФИЗИКЕ**

7 класс

Вариант 2

Инструкция по выполнению работы

На выполнение работы по физике даётся 45 минут. Работа содержит 11 заданий.

Ответом на каждое из заданий 1, 3–6, 8, 9 является число или несколько чисел. В заданиях 2 и 7 нужно написать текстовый ответ. В заданиях 10 и 11 нужно написать решения задач полностью. В случае записи неверного ответа зачеркните его и запишите рядом новый.

При выполнении работы можно пользоваться непрограммируемым калькулятором.

При необходимости можно пользоваться черновиком. Записи в черновике проверяться и оцениваться не будут.

Советуем выполнять задания в том порядке, в котором они даны. Для экономии времени пропускайте задание, которое не удаётся выполнить сразу, и переходите к следующему. Постарайтесь выполнить как можно больше заданий.

Желаем успеха!

Заполняется учителем, экспертом или техническим специалистом

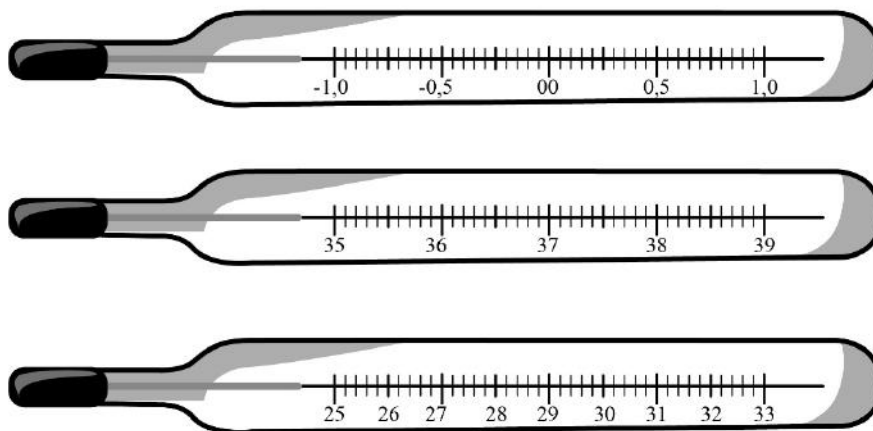
Обратите внимание: в случае, если какие-либо задания не могли быть выполнены целым классом по причинам, связанным с отсутствием соответствующей темы в реализуемой школой образовательной программе, в форме сбора результатов ВПР всем обучающимся класса за данное задание вместо балла выставляется значение «Тема не пройдена». В соответствующие ячейки таблицы заполняется н/п.

Таблица для внесения баллов участника

Номер задания	1	2	3	4	5	6	7	8	9	10	11	Сумма баллов	Отметка за работу
Баллы													

1

Температура тела здорового человека равна $+36,6\text{ }^{\circ}\text{C}$ – такую температуру называют нормальной. На рисунке изображены три термометра. Чему равна цена деления того термометра, который подойдёт для измерения температуры тела с необходимой точностью?



Ответ: _____ $^{\circ}\text{C}$.

2

Ранним утром можно заметить, что трава на лугу мокрая, даже если ночью не было дождя. Водяной пар, содержащийся в воздухе, ночью выпадает на траву в виде росы. Как при этом изменяются расстояния между молекулами воды по сравнению с расстояниями между молекулами воды в паре? Изменяется ли при конденсации пара внутреннее строение молекул воды? Объясните свой ответ.

Ответ: _____

3

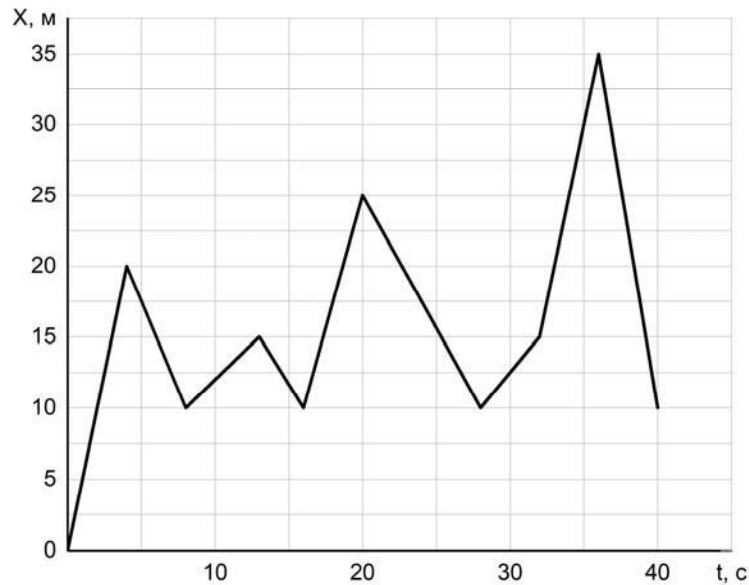
Алёша посмотрел на этикетку, наклеенную на бутылку с подсолнечным маслом, и ему стало интересно, каково значение плотности этого масла. Найдите плотность масла, пользуясь данными с этикетки.



Ответ: _____ $\text{кг}/\text{м}^3$.

4

Коля гуляет с собакой, которая бегает по прямой дорожке в парке. Пользуясь графиком зависимости координаты собаки от времени, определите её координату через 40 секунд.



Ответ: _____ м.

5

Илье стало интересно, чему примерно равен объём картофелины среднего размера. Он попросил у учителя физики 10 цилиндров объёмом 40 мл каждый и положил их в кастрюлю, после чего налил туда воду почти доверху. Затем Илья вынул из кастрюли все цилиндры и начал класть в неё картофелины. Оказалось, что после погружения восьми картофелин уровень воды в кастрюле вернулся к уровню, который был до вынимания цилиндров. Оцените объём одной картофелины, считая, что все они были примерно одинаковыми.

Ответ: _____ мл.

6

Саша и Рома плыли по реке на байдарке. Когда они гребли, то проходили за полчаса вниз по течению 4,5 км, а когда уставали и не гребли — то течение сносило их за то же время на 2,5 км. С какой скоростью плыла бы байдарка, если бы ребята гребли, путешествуя по озеру?

Ответ: _____ км/ч.

7

Группе туристов нужно было пройти за день по просёлочной дороге 18 км. Они шли без остановок, поскольку опасались, что опоздают на поезд. Один из туристов, глядя на километровые столбы у дороги и на свои часы, записывал в блокнот, какое расстояние прошла группа, и сколько времени прошло с момента начала пути.

Пройденное расстояние, км	Время движения, мин.
3	25
6	50
9	75
12	100
15	125
18	150

Изучите записи и определите, можно ли по имеющимся данным рассматривать движение группы как равномерное или нет? Ответ кратко поясните.

Ответ: _____

8

Ходить по рыхлому снегу неудобно, так как ноги всё время проваливаются в него. Если такая прогулка всё же необходима, то используют снегоступы. Какой должна быть минимальная площадь одного снегоступа для того, чтобы человек массой 45 кг проваливался в снег не более чем на 5 см? На рыхлом снегу это условие соблюдается при давлении не более 15 кПа. Учтите, что когда человек делает шаг при ходьбе, то в какие-то промежутки времени он опирается только на одну ногу.



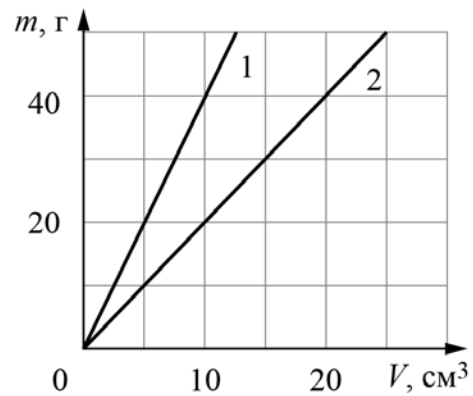
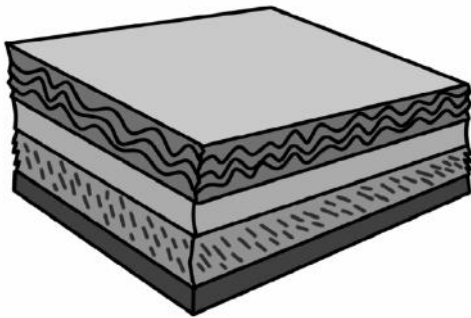
Ответ: _____ м².

9

Композитный материал – это неоднородный сплошной материал, состоящий из двух или более компонентов, свойства которых сильно различаются. Первое использование композитного материала относится примерно к 1500 году до нашей эры, когда в Египте и в Месопотамии для постройки зданий начали использовать перемешанные глину с соломой.

На рисунке показаны графики зависимости массы от объема для двух компонентов композитного материала. В некотором образце этого композитного материала объем первого компонента равен 30 см^3 , а объем второго компонента – 20 см^3 .

- 1) Определите массу первого компонента в образце композитного материала.
- 2) Определите среднюю плотность образца композитного материала, если объем образца равен сумме объемов компонентов.



Ответ: 1) _____ г;

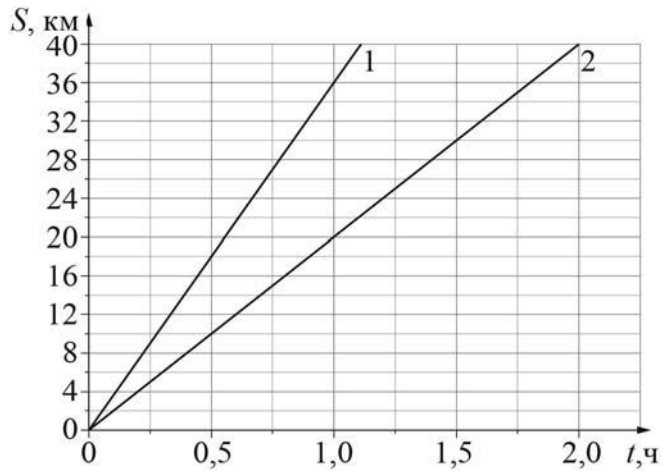
2) _____ г/см³.

10

На рисунке изображены графики зависимостей пути, пройденного грузовым теплоходом вдоль берега, от времени при движении по течению реки и против её течения.

- 1) Определите скорость теплохода при движении по течению реки.
- 2) Определите скорость теплохода при движении против течения реки.
- 3) Какой путь сможет пройти этот теплоход за 30 мин при движении по озеру?

Ответы на вопросы обоснуйте соответствующими рассуждениями или решением задачи.




Решение:	
<div style="border: 1px solid black; width: 30px; height: 30px; display: inline-block; margin-right: 5px;"></div> Ответ:	

11

Существуют различные шкалы для измерения расстояний. Так, метрическая шкала распространена в Европе и Азии. Другая шкала, которая в настоящее время используется в основном в Северной Америке и Англии – это дюймовая шкала.

Пользуясь изображением линейки с двумя шкалами (метрической и дюймовой), оцените:

- 1) толщину книги в дюймах;
- 2) длину диагонали экрана планшета в миллиметрах, если известно, что она равна 12,5" (дюйма);
- 3) сколько цветных точек печатает фотопринтер на 1 см² бумаги, если при печати фотографии он печатает 1200 точек на каждый квадратный дюйм изображения.



Решение:	
<div style="border: 1px solid black; width: 40px; height: 30px; margin-bottom: 5px;"></div> Ответ:	