

**Проверочная работа  
по ИСТОРИИ****7 класс****Вариант 1****Инструкция по выполнению работы**

На выполнение работы по истории даётся 45 минут. Работа включает в себя 9 заданий. Часть 1 работы посвящена истории России и истории зарубежных стран (история Нового времени), в части 2 предложено задание, связанное с памятью народа России о Великой Отечественной войне.

Ответы на задания запишите в поля ответов в тексте работы. В случае записи неверного ответа зачеркните его и запишите рядом новый.

При необходимости можно пользоваться черновиком. Записи в черновике проверяться и оцениваться не будут.

Советуем выполнять задания в том порядке, в котором они даны. В целях экономии времени пропускайте задание, которое не удаётся выполнить сразу, и переходите к следующему. Если после выполнения всей работы у Вас останется время, то Вы сможете вернуться к пропущенным заданиям.

***Желаем успеха!***

---

*Заполняется учителем, экспертом или техническим специалистом*

**Обратите внимание:** в случае, если какие-либо задания не могли быть выполнены целым классом по причинам, связанным с отсутствием соответствующей темы в реализуемой школой образовательной программе, в форме сбора результатов ВПР всем обучающимся класса за данное задание вместо балла выставляется значение «Тема не пройдена». В соответствующие ячейки таблицы заполняется н/п.

*Таблица для внесения баллов участника*

Номер задания	1	2	3	4	5	6	7	8	9	Сумма баллов	Отметка за работу
Баллы											

## Часть 1

**В этой части работы даны задания по истории России и истории зарубежных стран в Новое время.**

1

Установите соответствие между событиями (процессами) и их участниками: к каждой позиции первого столбца подберите соответствующую позицию из второго столбца.

## СОБЫТИЯ (ПРОЦЕССЫ)

- А) введение Уложения о службе  
 Б) подписание Утрехтской унии  
 В) «угличское дело»

## УЧАСТНИКИ

- 1) Ф.Б. Годунов  
 2) В.И. Шуйский  
 3) Иван IV  
 4) Людовик XIV  
 5) Вильгельм I Оранский

Запишите в таблицу выбранные цифры под соответствующими буквами.

Ответ:

А	Б	В

2

Запишите термин, о котором идёт речь.

Часть государства, находившаяся в 1565–1572 гг. в непосредственном управлении Ивана IV и имевшая собственное войско и административный аппарат.

Ответ: \_\_\_\_\_.

**Прочтите отрывок из исторического источника и выполните задание 3.**

«Русский солдат, по общему мнению, лучше защищается в крепости или городе, нежели сражается в открытом поле. Это замечено во всех войнах, а именно при полугодовой осаде \_\_\_\_\_, восемь лет тому назад, где польский король Стефан Баторий был отражён со всею его армиею, состоявшею из 100 000 человек, и принуждён, наконец, снять осаду, потеряв многих из лучших своих вождей и солдат. Но в открытом поле поляки и шведы всегда берут верх над русскими».

3

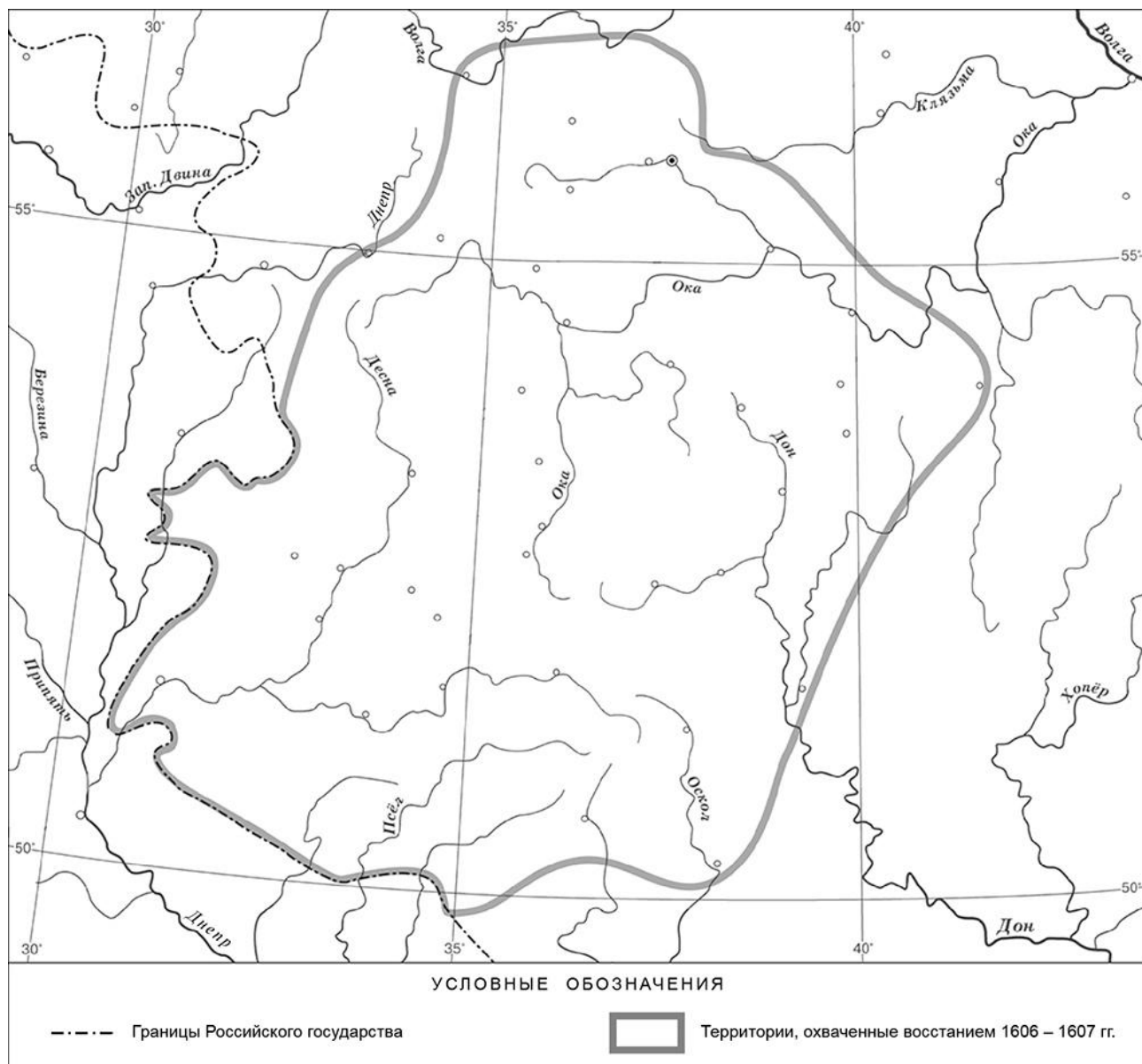
Укажите город, название которого пропущено в отрывке.

Ответ: \_\_\_\_\_

Назовите российского царя, в годы правления которого упомянутый в отрывке Стефан Баторий предпринял поход на русские земли.

Ответ: \_\_\_\_\_

**Рассмотрите карту и выполните задания 4, 5.**



**4** Укажите название периода в истории России, когда произошло восстание, границы которого обозначены на карте.



Ответ: \_\_\_\_\_.

**5** Подпишите на карте города Москву и Нижний Новгород.

□

**Ознакомьтесь с приведённым перечнем и изображениями памятников культуры и выполните задания 6, 7.**

- 1) Царь-пушка
- 2) поэтический сборник «Вертоград многоцветный»



6) Какие из приведённых памятников культуры были созданы в XVI в.? Выберите **два** памятника культуры и запишите в таблицу цифры, под которыми они указаны.

Ответ: 

--	--

7) Создателем какого из приведённых памятников культуры является Андрей Чохов? Укажите порядковый номер этого памятника культуры.

Ответ: 

--

8) Укажите с точностью до десятилетия время, когда в России был издан Новоторговый устав. Укажите монарха, правившего в России в этот период. Приведите один любой факт, характеризующий процесс создания и издания этого документа.

Время: \_\_\_\_\_

Монарх: \_\_\_\_\_

Факт: \_\_\_\_\_

\_\_\_\_\_  
 \_\_\_\_\_  
 \_\_\_\_\_

**Часть 2**

9

Рассмотрите изображение и выполните задание.



Укажите год, когда окончилась война, которой посвящено данное изображение. Почему советские солдаты – участники этой войны – пользуются безграничным уважением людей во всём мире?

Ответ: \_\_\_\_\_

\_\_\_\_\_

\_\_\_\_\_

\_\_\_\_\_

\_\_\_\_\_

\_\_\_\_\_

\_\_\_\_\_

\_\_\_\_\_

\_\_\_\_\_

\_\_\_\_\_

\_\_\_\_\_