

**Проверочная работа  
по МАТЕМАТИКЕ**

**8 класс**

**Вариант 2**

**Инструкция по выполнению работы**

На выполнение работы по математике даётся 90 минут. Работа содержит 19 заданий.

В заданиях, после которых есть поле со словом «Ответ», запишите ответ в указанном месте.

В заданиях, после которых есть поле со словами «Решение» и «Ответ», запишите решение и ответ в указанном месте.

В заданиях 4 и 8 нужно отметить точки на числовой прямой.

Если Вы хотите изменить ответ, зачеркните его и запишите рядом другой.

При выполнении работы нельзя пользоваться учебниками, рабочими тетрадями, справочниками, калькулятором.

При необходимости можно пользоваться черновиком. Записи в черновике проверяться и оцениваться не будут.

Советуем выполнять задания в том порядке, в котором они даны. Для экономии времени пропускайте задание, которое не удаётся выполнить сразу, и переходите к следующему. Постарайтесь выполнить как можно больше заданий.

***Желаем успеха!***

*Заполняется учителем, экспертом или техническим специалистом*

**Обратите внимание:** в случае, если какие-либо задания не могли быть выполнены целым классом по причинам, связанным с отсутствием соответствующей темы в реализуемой школой образовательной программе, в форме сбора результатов ВПР всем обучающимся класса за данное задание вместо балла выставляется значение «Тема не пройдена». В соответствующие ячейки таблицы заполняется н/п.

*Таблица для внесения баллов участника*

Номер задания	1	2	3	4	5	6	7	8	9	10	11	12	13	14	15
Баллы															
			16(1)	16(2)	17	18	19	Сумма баллов	Отметка за работу						

1 Найдите значение выражения  $1\frac{1}{5} : \left(\frac{2}{3} - 1\frac{1}{15}\right)$ .

□	Ответ:	
---	--------	--


2 Решите уравнение  $3x + 4x^2 - 7 = 0$ .

□	Ответ:	
---	--------	--

3 На кружок по программированию записались семиклассники и восьмиклассники. Количество семиклассников, записавшихся на кружок, относится к количеству восьмиклассников как 5:2 соответственно. Сколько всего школьников записалось на кружок по программированию, если среди них 15 семиклассников?

□	Ответ:	
---	--------	--

4 На координатной прямой отмечены числа 0,  $a$  и  $b$ . Отметьте на этой прямой какое-нибудь число  $x$  так, чтобы при этом выполнялись три условия:  $x - a > 0$ ,  $x - b > 0$ ,  $a^2x > 0$ .



5 Прямая  $y = kx + 5$  проходит через точку  $(-2; -13)$ . Найдите  $k$ .

□	Ответ:	
---	--------	--



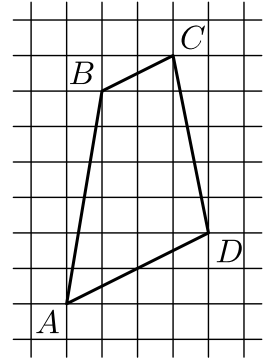


11) Натуральное число сначала увеличили на 30%, а потом результат уменьшили на 35%, получилось число 3042. Найдите исходное натуральное число.

□	Ответ:	
---	--------	--

12) На клетчатой бумаге с размером клетки  $1 \times 1$  изображена трапеция  $ABCD$ . Во сколько раз основание  $BC$  меньше основания  $AD$ ?

□	Ответ:	
---	--------	--



13) В треугольнике  $ABC$  угол  $C$  равен  $90^\circ$ ,  $CH$  — высота,  $AB = 50$ ,  $\sin A = 0,4$ . Найдите длину отрезка  $BH$ .

□	Ответ:	
---	--------	--

14) Выберите **неверное** утверждение и запишите в ответе его номер.

- 1) Равнобедренный треугольник всегда является остроугольным.
- 2) Если диагонали параллелограмма равны, то этот параллелограмм — прямоугольник.
- 3) Любые два диаметра окружности пересекаются.

□	Ответ:	
---	--------	--

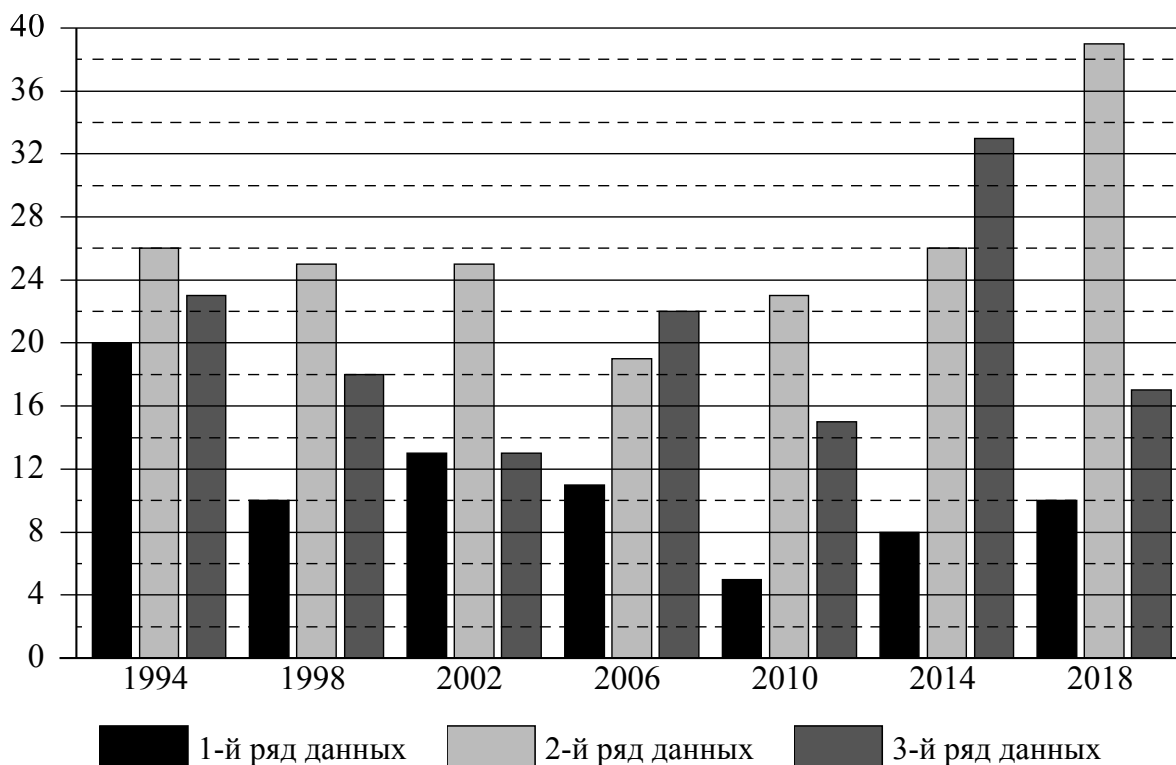


16

**Зимние Олимпийские игры** — это спортивные соревнования, проходящие один раз в 4 года под руководством Международного олимпийского комитета. Зимние игры начали проводиться с 1924 года как дополнение к летним играм. С 1924 по 1992 год зимние Олимпийские игры проводились в те же годы, что и летние. С 1994 года зимние Олимпийские игры проводятся со сдвигом в 2 года относительно летних Олимпийских игр.

Первая зимняя Олимпиада прошла в 1924 году в Шамони (Франция), в ней участвовало 293 спортсмена из 16 стран. В 2018 году в XXIII Олимпийских играх в Пхёнчхане (Южная Корея) участвовало уже 2922 спортсмена из 92 стран.

На диаграмме три ряда данных показывают общее количество медалей по итогам зимних Олимпийских игр, завоёванных в период с 1994 по 2018 год, командами трёх стран: России, Норвегии и Италии. Рассмотрите диаграмму и прочтите фрагмент сопровождающей статьи.



*Италия принимала участие во всех современных зимних Олимпийских играх. Трижды она финишировала в пятёрке лучших команд по количеству завоёванных медалей. В десятке лучших команд итальянцы финишировали на зимних Олимпиадах 13 раз. В 2002 году на Олимпиаде в Солт-Лейк-Сити спортсмены Италии завоевали столько же медалей, сколько россияне. Самой неудачной из последних Олимпиад для итальянцев оказалась Олимпиада в 2010 году, проходившая в Ванкувере (Канада), где Италия смогла выиграть всего 5 медалей.*

*Российские спортсмены начиная с 1994 года завоевали на зимних Олимпийских играх 141 медаль. Самой успешной для россиян оказалась Олимпиада–2014, которая проходила в Сочи, где Россия положила в свою копилку 33 медали.*

*На зимних Олимпийских играх норвежские спортсмены дебютировали в 1924 году в Шамони и с тех пор не пропустили ни одной зимней Олимпиады. Норвегия является одной из трёх стран в истории Олимпийских игр, наряду с Австрией и Лихтенштейном, спортсмены которой выиграли на зимних Играх больше медалей, чем на летних.*

Самой результативной для норвежцев оказалась зимняя Олимпиада–2018, проходившая в корейском Пхёнчхане, где Норвегия положила в свою копилку 39 медалей различного достоинства.

Команда Германии принимает участие в зимних Олимпийских играх с 1928 года. В конце XX и начале XXI века команда Германии довольно успешно выступает на зимней Олимпиаде. Наибольшее количество медалей (36) команда Германии завоевала на Олимпиаде в Солт-Лейк-Сити (США) в 2002 году, это на 7 медалей больше, чем на предыдущей и последующей зимних Олимпиадах. Для Германии за представленный период самой неудачной оказалась Олимпиада–2014 в Сочи, где немецкие спортсмены смогли выиграть всего 19 медалей. В 2018 году было завоевано на 12 медалей больше, чем на Олимпиаде в Сочи. В норвежском городе Лиллехаммере в 1994 году Германия положила в свою копилку 24 олимпийские награды, а 2010 году в Ванкувере было завоёвано 30 медалей.

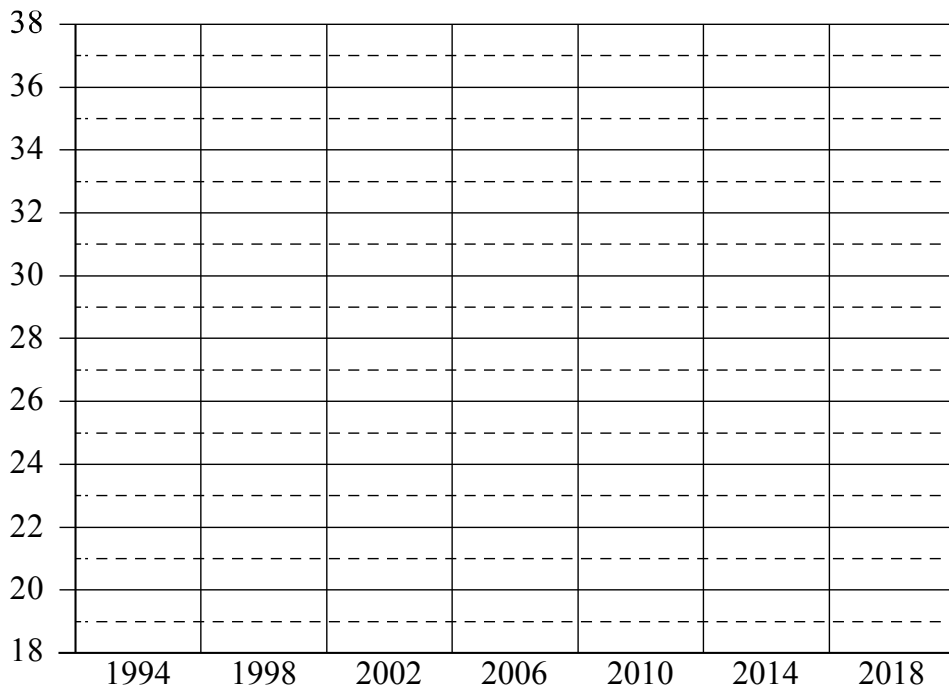
1) На основании прочитанного определите страну, достижения которой соответствуют первому ряду данных на диаграмме.



Ответ: \_\_\_\_\_

2) По имеющемуся описанию постройте схематично диаграмму общего количества медалей, завоёванных командой Германии на зимних Олимпийских играх в 1994–2018 годах.

Ответ:





17

В прямоугольной трапеции  $ABCD$  с основаниями  $AD$  и  $BC$  диагональ  $AC$  является биссектрисой угла  $A$ , равного  $45^\circ$ . Найдите длину диагонали  $BD$ , если меньшее основание трапеции равно  $4\sqrt{2}$ .

Запишите решение и ответ.

Решение.

Ответ:



